

Section : General Intelligence and Reasoning

Q.1 तीन कथनों के बाद तीन निष्कर्ष I, II और III दिए गए हैं। यह मानते हुए कि कथनों में दी गई जानकारी सत्य है, भले ही यह सामान्य रूप से ज्ञात तथ्यों से भिन्न प्रतीत हो, निर्धारित करें कि कौन सा/से निष्कर्ष कथनों का तार्किक रूप से अनुसरण करता है/करते हैं।

कथन:

1. कोई भी पत्ती हरी नहीं है।
2. सभी फल हरे हैं।
3. कुछ मिठाइयां फल हैं।

निष्कर्ष:

- I. कोई भी पत्ती फल नहीं है।
- II. सभी मिठाइयां हरी हैं।
- III. कुछ पत्तियां हरी हो सकती हैं।

- Ans
- ✓ 1. केवल निष्कर्ष I अनुसरण करता है।
 - ✗ 2. केवल निष्कर्ष III अनुसरण करता है।
 - ✗ 3. निष्कर्ष I और III, दोनों अनुसरण करते हैं।
 - ✗ 4. निष्कर्ष I और II, दोनों अनुसरण करते हैं।

Question ID : 65497817461
Chosen Option : 1

Q.2 उस विकल्प का चयन करें, जो तीसरे अक्षर-समूह से ठीक उसी प्रकार संबंधित है, जिस प्रकार दूसरा अक्षर-समूह पहले अक्षर-समूह से संबंधित है।

सुरक्षा : शील्ड :: अनावरण : ?

- Ans
- ✗ 1. कवर
 - ✗ 2. चोट
 - ✗ 3. धमकाना
 - ✓ 4. प्रकटीकरण

Question ID : 65497817458
Chosen Option : 4

Q.3 अक्षरों के उस सही संयोजन का चयन करें, जिन्हें क्रमिक रूप से दी गई अक्षर श्रेणी में रिक्त स्थानों पर रखने पर श्रेणी पूर्ण हो जाएगी।

_ B _ A _ S A B _ _ B S

- Ans
- ✗ 1. ASBAS
 - ✓ 2. ASBSA
 - ✗ 3. BASBA
 - ✗ 4. SABAS

Question ID : 65497817459
Chosen Option : 2



Q.4 उस विकल्प का चयन करें, जो तीसरी संख्या से उसी प्रकार संबंधित है, जिस प्रकार दूसरी संख्या पहली संख्या से संबंधित है।

75 : 9 :: 15 : ?

- Ans
- 1. 13
 - 2. 135
 - 3. 225
 - 4. 45

Question ID : 65497817448

Chosen Option : --


Q.5 किसी निश्चित कूट भाषा में 'AMAZON' को 140 के रूप में तथा 'BRAZIL' को 136 के रूप में कूटबद्ध किया जाता है। इसी कूट भाषा में 'GERMANY' को किस रूप में कूटबद्ध जाएगा?

- Ans
- 1. 83
 - 2. 106
 - 3. 166
 - 4. 183

Question ID : 65497817454

Chosen Option : 3

Q.6 उस विकल्प आकृति का चयन करें, जो निम्न आकृति-श्रेणी में प्रश्नवाचक चिह्न (?) के स्थान पर आएगी।



- Ans
- 1.
 - 2.
 - 3.
 - 4.

Question ID : 65497817465

Chosen Option : 3

Q.7 अजय, ललित, चरण, ध्रुव और गजेन्द्र पांच पुरुष हैं, जो किसी पंक्ति में दक्षिण की ओर अभिमुख होकर बैठे हैं, जबकि मयूरी, नर्मदा, शालिनी, प्रिया और हर्षिनी पांच महिलाएं हैं, जो पहली पंक्ति के समानांतर दूसरी पंक्ति में उत्तर की ओर अभिमुख होकर बैठी हैं।

ललित, जो कि ध्रुव के ठीक बाईं ओर बैठा है, हर्षिनी के सम्मुख है।

चरण और नर्मदा एक-दूसरे से विकर्णतः सम्मुख बैठे हैं।

गजेन्द्र, शालिनी के सम्मुख बैठा है, जो कि मयूरी के ठीक दाईं ओर पड़ोस में बैठी है।

प्रिया, जो कि हर्षिनी के ठीक बाईं ओर पड़ोस में बैठी है, ध्रुव के सम्मुख है।

मयूरी, पंक्ति के एक छोर पर बैठी है।

शालिनी के दाईं ओर तीसरे स्थान पर कौन बैठी है?

- Ans
- 1. प्रिया
 - 2. नर्मदा
 - 3. मयूरी
 - 4. हर्षिनी

Question ID : 65497817463
Chosen Option : 2

Q.8 इन ऋतुओं को उस क्रम में व्यवस्थित करें, जिस क्रम में वे भारत में मार्च से फरवरी तक आती हैं।

1. पतझड़
2. वसंत
3. मानसून
4. सर्दी
5. गर्मी

- Ans
- 1. 1, 5, 2, 3, 4
 - 2. 2, 3, 5, 1, 4
 - 3. 2, 5, 3, 1, 4
 - 4. 1, 5, 3, 2, 4

Question ID : 65497817464
Chosen Option : 1

Q.9 उस विकल्प का चयन करें, जो तीसरे अक्षर-समूह से ठीक उसी प्रकार संबंधित है, जिस प्रकार दूसरा अक्षर-समूह पहले अक्षर-समूह से संबंधित है।

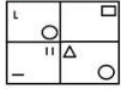
ACTION : EXPNSI :: SISTER : ?

- Ans
- 1. WDOYIM
 - 2. WEOZJN
 - 3. VDOYIN
 - 4. UDPZIM

Question ID : 65497817456
Chosen Option : 1

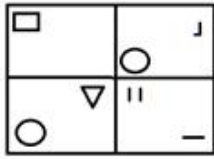


Q.10 यदि दर्पण को दी गई आकृति के दाईं ओर रखा जाए, तो आकृति के दर्पण में निम्नित सही प्रतिबिंब का चयन कीजिए।

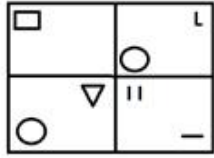


Ans

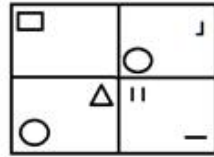
✗ 1.



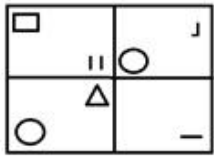
✗ 2.



✓ 3.



✗ 4.



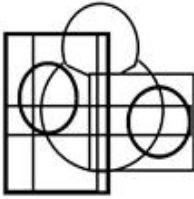
Question ID : **65497817468**
Chosen Option : **3**

Q.11 उस विकल्प का चयन करें, जिसमें दी गई आकृति अंतःस्थापित है (घुमाने की अनुमति नहीं है)।




Ans

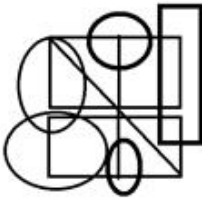
✗ 1.



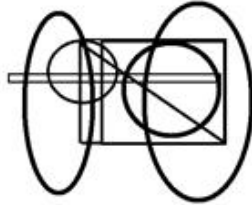
✗ 2.



✗ 3.



✓ 4.



Question ID : 65497817467

Chosen Option : 4

Q.12 दिए गए पैटर्न का सावधानीपूर्वक अध्ययन करें और उस संख्या का चयन करें, जो प्रश्नवाचक चिह्न (?) के स्थान पर आ सकती है?

3 5 13
8 12 92
8 16 ?

Ans ✗ 1. 128

✗ 2. 124

✓ 3. 120

✗ 4. 136

Question ID : 65497817449

Chosen Option : 3

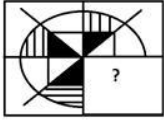
Q.13 किसी निश्चित कूट भाषा में, 'SOCKS' को 'OKYGO' लिखा जाता है। इसी कूट भाषा में, 'GLORY' को क्या लिखा जाएगा?

- Ans
- 1. CKHNU
 - 2. CKHUM
 - 3. CHKNU
 - 4. CHKMC

Question ID : 65497817452

Chosen Option : 3

Q.14 दिए गए विकल्पों में से सही विकल्प चुनकर, दिए गए पैटर्न के अनुपस्थित भाग को पूरा करें।



Ans

- 1.
- 2.
- 3.
- 4.

Question ID : 65497817466

Chosen Option : 1

Q.15 किसी निश्चित कूट भाषा में, 'SQUARE' को RP51Q2 के रूप में तथा 'CUBE' को B5A2 के रूप में कूटबद्ध किया जाता है। इसी कूट भाषा में, 'TRIANGLE' को किस रूप में कूटबद्ध किया जाएगा?

- Ans
- 1. SQ13FMK2
 - 2. 5S11OHM2
 - 3. SQ31MFK2
 - 4. SQ114HM2

Question ID : 65497817455

Chosen Option : 3

Q.16 किसी निश्चित कूट भाषा में, 'SWIM' को 'HDRN' लिखा जाता है। इसी कूट भाषा में, 'CLEAR' को क्या लिखा जाएगा?

- Ans
- 1. YOZUR
 - 2. OVXZR
 - 3. XVOIZ
 - 4. XOVZI

Question ID : 65497817453

Chosen Option : 4



Q.17 दो कथनों के बाद दो निष्कर्ष I और II दिए गए हैं। यह मानते हुए कि कथनों में दी गई जानकारी सत्य है, भले ही यह सामान्य रूप से ज्ञात तथ्यों से भिन्न प्रतीत हो, निर्धारित करें कि कौन सा/से निष्कर्ष कथनों का तार्किक रूप से अनुसरण करता है/करते हैं।

कथन:

1. सभी चम्मच गोल हैं।
2. सभी गोल आकृतियां हैं।

निष्कर्ष:

- I. कुछ आकृतियां गोल हैं।
- II. सभी चम्मच आकृतियां हैं।

- Ans
- 1. न तो निष्कर्ष I और ना ही II अनुसरण करता है।
 - 2. केवल निष्कर्ष I अनुसरण करता है।
 - 3. केवल निष्कर्ष II अनुसरण करता है।
 - 4. निष्कर्ष I और II, दोनों अनुसरण करते हैं।

Question ID : 65497817460

Chosen Option : 4

Q.18 गणितीय चिह्नों के उस सही क्रम का चयन करें, जिन्हें दिए गए समीकरण में क्रमिक रूप से * चिह्नों के स्थान पर रखने पर समीकरण संतुलित हो जाएगा।

$$8 * 20 * 320 * 20 * 10 = 166$$

- Ans
- 1. -, ÷, +, ×
 - 2. ×, +, ÷, -
 - 3. +, ×, -, ÷
 - 4. ÷, ×, +, -


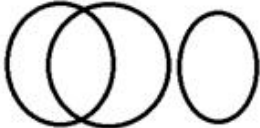
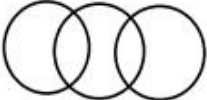
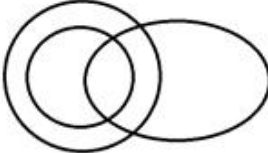
Question ID : 65497817447

Chosen Option : 2

Q.19 उस वेन-आरेख का चयन करें, जो निम्न वर्गों के बीच संबंध को सर्वोत्तम ढंग से निरूपित करता है।

डायरी, पन्ने, पेन

Ans

- 1. 
- 2. 
- 3. 
- 4. 

Question ID : 65497817470

Chosen Option : 2



Q.20 पांच विद्यार्थी अहमद, रोहित, चारु, दीक्षा और चिन्मयी आप के सामने किसी पंक्ति में इस प्रकार बैठे हैं कि दीक्षा, चारु के बाईं ओर है और रोहित, चिन्मयी के दाईं ओर है। अहमद, चारु के दाईं ओर है और रोहित, दीक्षा के बाईं ओर है। यदि चिन्मयी किसी किनारे पर बैठी है, तो मध्य में कौन बैठा/बैठी है?

- Ans
- 1. चारु
 - 2. दीक्षा
 - 3. रोहित
 - 4. अहमद

Question ID : 65497817462
Chosen Option : 1

Q.21 उस संख्या का चयन करें, जो निम्न श्रेणी में प्रश्नवाचक चिह्न (?) के स्थान पर आ सकती है?

7, 8, 15, 18, 23, 28, 31, 38, ?

- Ans
- 1. 45
 - 2. 39
 - 3. 48
 - 4. 43

Question ID : 65497817450
Chosen Option : 2

Q.22 उस विकल्प का चयन करें, जो तीसरे अक्षर-समूह से ठीक उसी प्रकार संबंधित है, जिस प्रकार दूसरा अक्षर-समूह पहले अक्षर-समूह से संबंधित है।

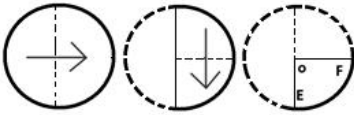
पेंसिल : शार्पनर :: लकड़ी :

- Ans
- 1. रबर
 - 2. कुल्हाड़ी
 - 3. पेंचकस
 - 4. पेड़

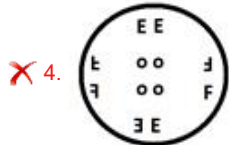
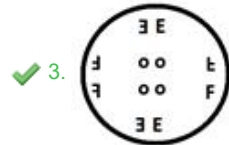
Question ID : 65497817457
Chosen Option : 2



Q.23 एक कागज को निम्नानुसार मोड़कर काटा जाता है। इसे खोलने पर यह कैसा दिखेगा?



Ans



Question ID : 65497817469

Chosen Option : 3

Q.24 दी गई श्रेणियों का ध्यानपूर्वक अध्ययन करें, तथा उस विकल्प का चयन करें, जो B के मान को निरूपित करता है।

7 21 84 420
15 45 A B

Ans ✗ 1. 950

✗ 2. 850

✓ 3. 900

✗ 4. 720

Question ID : 65497817451

Chosen Option : 3

Q.25 दिए गए समीकरण को संतुलित करने के लिए, इनमें से किन दो चिह्नों को एक-दूसरे से प्रतिस्थापित करना होगा?

$128 + 8 \times 2 \div 4 - 6 = 30$

Ans ✗ 1. \times और $-$

✗ 2. \div और $-$

✓ 3. $+$ और $+$

✗ 4. $-$ और $+$

Question ID : 65497817446

Chosen Option : 3