

Q.1 उस विकल्प का चयन कीजिए जिसका तीसरे शब्द से वही संबंध है, जो दूसरे शब्द का पहले शब्द से है।

रसोइया : भोजन :: बढ़ई : ?

- Ans
- 1. लकड़हारा
  - 2. निर्माण
  - 3. कुल्हाड़ी
  - 4. फर्नीचर

Question ID : 65497815336

Chosen Option : 4

Q.2 Two statements are given followed by two conclusions numbered I and II. Assuming the statements to be true, even if they seem to be at variance with commonly known facts, decide which of the conclusions logically follow(s) from the statements.

Statements:

Some clothes are curtains.

All curtains are fibres.

Conclusions:

I. Some fibres are clothes.

II. No fibre is a cloth.

- Ans
- 1. Only conclusion II follows
  - 2. Both conclusions I and II follow
  - 3. Only conclusion I follows
  - 4. Either conclusion I or II follows

Question ID : 65497815339

Chosen Option : 3

Q.3 दिए गए पैटर्न का ध्यानपूर्वक अध्ययन कीजिए और उस संख्या का चयन कीजिए जो इसमें प्रश्नवाचक चिह्न (?) के स्थान पर आ सकती है।

11 9 11

7 8 ?

324 289 441

- Ans
- 1. 12
  - 2. 10
  - 3. 9
  - 4. 11

Question ID : 65497815328

Chosen Option : 2



**Q.4** Two statements are given followed by three conclusions numbered I, II and III. Assuming the statements to be true, even if they seem to be at variance with commonly known facts, decide which of the conclusions logically follow(s) from the statements.

**Statements:**

All jewels are metals.  
No metal is a diamond.

**Conclusions:**

I. No jewel is a diamond.  
II. No diamond is a metal.  
III. Some metals are jewels.

- Ans**  1. Only conclusions I and III follow  
 2. All of the conclusions follow  
 3. Only conclusions II and III follow  
 4. Only conclusions I and II follow

Question ID : **65497815340**  
Chosen Option : 2

**Q.5** यदि  $B = D$ ,  $C = U$ ,  $B > G$ ,  $U > R$  और  $C > S$  है, तो निम्न में से कौन सा व्यंजक सही नहीं है?

- Ans**  1.  $C < R$   
 2.  $G < D$   
 3.  $S < C$   
 4.  $S < U$

Question ID : **65497815343**  
Chosen Option : 1



Q.6 उस विकल्प आकृति का चयन कीजिए जो निम्नांकित आकृति श्रृंखला में प्रश्नवाचक चिह्न (?) के स्थान पर आएगी और पैटर्न को पूरा करेगी।

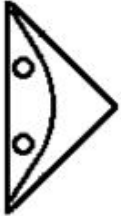


Ans

✗ 1.



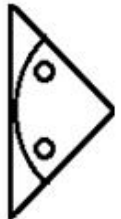
✗ 2.



✗ 3.



✓ 4.



Question ID : 65497815345

Chosen Option : 4

Q.7 उस विकल्प का चयन कीजिए जिसका तीसरे अक्षर-समूह से वही संबंध है, जो दूसरे अक्षर-समूह का पहले अक्षर-समूह से है।

FLKU : VLMG :: DPJMR : ?

Ans ✗ 1. XQKNT

✗ 2. SOKRE

✓ 3. SNKQE

✗ 4. TNKOE

Question ID : 65497815335

Chosen Option : 3

Q.8 उस विकल्प का चयन कीजिए जिसका तीसरी संख्या से वही संबंध है, जो दूसरी संख्या का पहली संख्या से है।

8 : 108 :: 12 : ?

- Ans  1. 208  
 2. 150  
 3. 225  
 4. 135

Question ID : 65497815327  
 Chosen Option : 1

Q.9 In a line, five friends P, Q, R, S and T are sitting, all facing East. P is sitting at the second place to the left of T. R is third to the left of S and also to the immediate right of P. Which two persons are sitting at the corners?

- Ans  1. Q and R  
 2. P and Q  
 3. Q and T  
 4. P and S

Question ID : 65497815341  
 Chosen Option : 4

Q.10 एक निश्चित कूट भाषा में, यदि 'FORT' को '6301820' और 'PRICE' को '161818310' लिखा जाता है, तो उसी कूट भाषा में 'FUTILE' को क्या लिखा जाएगा?

- Ans  1. 62120091210  
 2. 64220091205  
 3. 62220181310  
 4. 64220181210

Question ID : 65497815334  
 Chosen Option : 4

Q.11 निम्न श्रेणी में प्रश्नवाचक चिह्न (?) के स्थान पर कौन सी संख्या आएगी?

140, 141, 133, 160, 96, ?

- Ans  1. 311  
 2. 221  
 3. 276  
 4. 337

Question ID : 65497815330  
 Chosen Option : 2



Q.12 उस विकल्प का चयन कीजिए जो अक्षर-समूह की निम्न श्रृंखला में प्रश्नवाचक चिह्न (?) के स्थान पर आएगा।

ZML, WKK, TIJ, QGI, ?

Ans ✓ 1. NEH

✗ 2. MEH

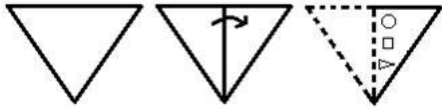
✗ 3. NDG

✗ 4. ODH

Question ID : 65497815338

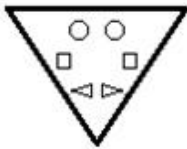
Chosen Option : 1

Q.13 एक कागज को निम्नानुसार मोड़ा और काटा गया है। इसे खोलने पर यह कैसा दिखेगा?

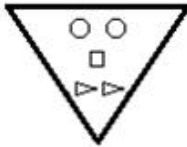


Ans

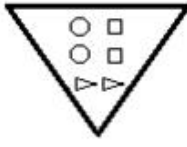
✗ 1.



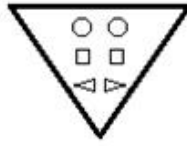
✗ 2.



✗ 3.



✓ 4.



Question ID : 65497815348

Chosen Option : 4

Q.14 वर्गों के उस समुच्चय का चयन कीजिए जिनके मध्य के संबंध को निम्नांकित वेन आरेख द्वारा सर्वोत्तम रूप से निरूपित किया गया है।



Ans

- ✓ 1. गेहूं, मक्का, अनाज
- ✗ 2. पशु, पौधे, ककड़ी
- ✗ 3. मसाले, जीरा, पालक
- ✗ 4. इंजीनियर, डॉक्टर, फार्मासिस्ट

Question ID : 65497815349  
Chosen Option : 1

Q.15 एक निश्चित कूट भाषा में, यदि 'CAMPHOR' को 'HZLOGNW' और 'FASTEN' को 'KZRSDS' लिखा जाता है, तो उसी कूट भाषा में 'NATIONAL' को क्या लिखा जाएगा?

Ans

- ✗ 1. TZUHNMQ
- ✗ 2. MZSHNMZK
- ✗ 3. SZSINOZK
- ✓ 4. SZSHNMZQ

Question ID : 65497815332  
Chosen Option : 4

Q.16 Select the option that is related to the third word in the same way as the second word is related to the first word.

Gymnasium : Exercise :: School : ?

Ans

- ✗ 1. Curriculum
- ✓ 2. Education
- ✗ 3. Teachers
- ✗ 4. Students

Question ID : 65497815337  
Chosen Option : 2

Q.17 एक निश्चित कूट भाषा में, यदि 'PRUNE' को '74' लिखा जाता है, तो उसी कूट भाषा में 'LONDON' को क्या लिखा जाएगा?

Ans

- ✗ 1. 112
- ✗ 2. 121
- ✓ 3. 74
- ✗ 4. 60

Question ID : 65497815333  
Chosen Option : 3



Q.18 एक निश्चित कूट भाषा में, यदि 'BROWN' को 'ORBNW' लिखा जाता है, तो उसी कूट भाषा में 'LUCKY' को क्या लिखा जाएगा?

- Ans
- 1. CKUYL
  - 2. CLUYK
  - 3. CULYK
  - 4. UKLCY

Question ID : 65497815331  
Chosen Option : 3

Q.19 निम्न समीकरण को संतुलित करने के लिए किन दो चिह्नों को परस्पर बदला जाना चाहिए?

$$8 \times 9 \div 15 + 30 - 5 = 63$$

- Ans
- 1. + और -
  - 2. + और ×
  - 3. - और ×
  - 4. + और ×

Question ID : 65497815325  
Chosen Option : 2

Q.20 यदि दर्पण को चिह्नानुसार MN पर रखा जाए, तो दिए गए संयोजन के दर्पण में निर्मित सही प्रतिबिंब का चयन कीजिए।

X B 7 5 G R

M  
|  
N

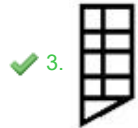
- Ans
- 1. R B 7 5 G R
  - 2. X B 7 5 G R
  - 3. X B 7 5 G R
  - 4. X B 7 5 G R

Question ID : 65497815347  
Chosen Option : 1

Q.21 उस विकल्प का चयन कीजिए जो दी गई आकृति (X) में इसके भाग के रूप में अंतर्निहित नहीं है (घुमाने की अनुमति नहीं है)।



Ans



Question ID : 65497815346

Chosen Option : 3

Q.22 Eight friends P, Q, R, S, T, U, V and W are sitting anticlockwise at equal distances in the same sequence around a circular table. All are facing the centre of the table. If T is sitting in the West, then who is sitting at the third place to the left of P?

Ans ✓ 1. U

✗ 2. V

✗ 3. S

✗ 4. W

Question ID : 65497815342

Chosen Option : 3

Q.23 निम्न समीकरण को संतुलित करने के लिए किन दो संख्याओं को परस्पर बदला जाना चाहिए?

$$14 \times 7 - 25 \div 5 + 95 = 104$$

Ans ✗ 1. 25 और 7

✗ 2. 7 और 5

✓ 3. 25 और 95

✗ 4. 14 और 95

Question ID : 65497815326

Chosen Option : 3



Q.24 निम्न श्रेणी में प्रश्नवाचक चिह्न (?) के स्थान पर कौन सी संख्या आएगी?

20, 44, 92, 188, 380, ?

Ans  1. 764

2. 884

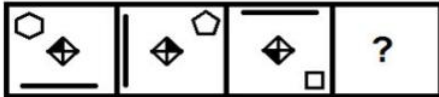
3. 760

4. 880

Question ID : 65497815329

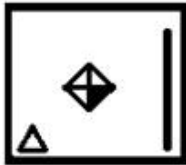
Chosen Option : 1

Q.25 उस आकृति का चयन कीजिए जो निम्नांकित आकृति श्रृंखला में प्रश्नवाचक चिह्न (?) के स्थान पर आएगी।

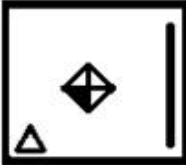


Ans

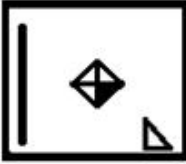
1.



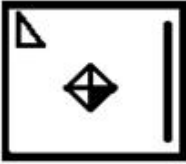
2.



3.



4.



Question ID : 65497815344

Chosen Option : 1

Section : Numerical Aptitude