

Q.1 दो कथनों के बाद दो निष्कर्ष I और II दिए गए हैं। कथनों को सत्य मानते हुए, भले ही ये सामान्य रूप से ज्ञात तथ्यों से भिन्न प्रतीत होते हों, निर्धारित करें कि कौन सा/से निष्कर्ष कथनों का तार्किक रूप से अनुसरण करता/करते है/हैं।

कथन:

कुछ मोबाइल फोन, वीडियो गेम हैं।
सभी वीडियो गेम, रिमोट कंट्रोल हैं।

निष्कर्ष:

I. कुछ मोबाइल फोन, रिमोट कंट्रोल हैं।
II. कुछ रिमोट कंट्रोल, मोबाइल फोन हैं।

- Ans
- 1. केवल निष्कर्ष II अनुसरण करता है।
 - 2. केवल निष्कर्ष I अनुसरण करता है।
 - 3. न तो निष्कर्ष I और न ही II अनुसरण करता है।
 - 4. निष्कर्ष I और II दोनों अनुसरण करते हैं।

Question ID : 65497817663

Chosen Option : 4

Q.2 गणितीय चिह्नों के उस सही क्रम का चयन करें, जिन्हें क्रमिक रूप से * के स्थान पर रखने पर दिया गया समीकरण संतुलित हो जाएगा।

$$42 * 36 * 5 * 78 * (8 * 5) = 216$$

- Ans
- 1. - + + * +
 - 2. + * - + +
 - 3. * + + - +
 - 4. + + * + -

Question ID : 65497817649

Chosen Option : 2

Q.3 निम्न संख्या श्रेणी में प्रश्नवाचक चिह्न (?) के स्थान पर कौन-सी संख्या आएगी?

54, 68, 78, 84, ?

- Ans
- 1. 90
 - 2. 84
 - 3. 86
 - 4. 88

Question ID : 65497817652

Chosen Option : 3

Q.4 जिस प्रकार 'कुत्ता', 'पिल्ला' से संबंधित है, उसी प्रकार 'भेड़', '_____' से संबंधित है।

- Ans
- 1. शावक
 - 2. मेमना
 - 3. बछड़ा
 - 4. बच्चा

Question ID : 65497817659

Chosen Option : 2



Q.5 निम्न अक्षर-श्रेणी में प्रश्नवाचक चिह्न (?) के स्थान पर कौन-सा अक्षर-समूह आएगा?

RUY, DGK, PSW, ?

Ans 1. ADG

2. BEH

3. ADH

4. BEI

Question ID : 65497817661

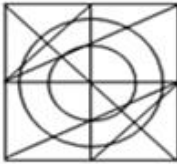
Chosen Option : 4

Q.6 उस विकल्प का चयन करें, जिसमें निम्न आकृति अन्तःस्थापित है। (घुमाने की अनुमति नहीं है)

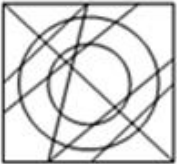


Ans

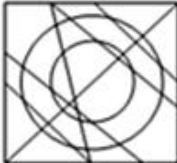
1.



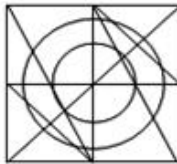
2.



3.



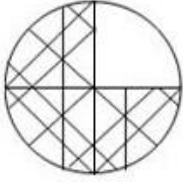
4.



Question ID : 65497817669

Chosen Option : 4

Q.7 उस विकल्प आकृति का चयन करें, जो निम्न पैटर्न को पूरा करेगी।

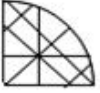


Ans

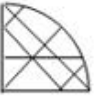
✓ 1.



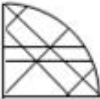
✗ 2.



✗ 3.



✗ 4.



Question ID : 65497817668
Chosen Option : 1

Q.8 उस विकल्प का चयन करें जिसके संख्या-युग्म की संख्याओं के मध्य वही संबंध है जो निम्नलिखित संख्या-युग्म की संख्याओं के मध्य है।

84 : 96

Ans ✗ 1. 64 : 82

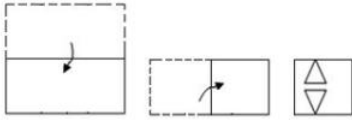
✗ 2. 42 : 58

✗ 3. 46 : 60

✓ 4. 68 : 82

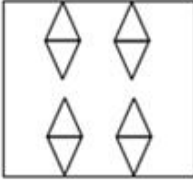
Question ID : 65497817650
Chosen Option : --

Q.9 एक कागज़ को निम्न आकृति के अनुसार मोड़ा और काटा गया है। यह कागज़ खोलने पर कैसा दिखेगा?

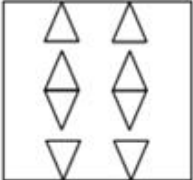


Ans

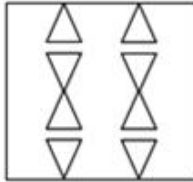
✗ 1.



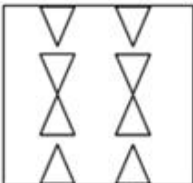
✗ 2.



✓ 3.



✗ 4.



Question ID : 65497817671

Chosen Option : 3

Q.10 उस विकल्प का चयन करें, जो तीसरे शब्द से ठीक उसी प्रकार संबंधित है, जिस प्रकार दूसरा शब्द पहले शब्द से संबंधित है।

वाट : शक्ति :: वोल्ट : _____.

Ans

✗ 1. सामर्थ्य

✗ 2. धारा

✗ 3. एम्पियर

✓ 4. विभव

Question ID : 65497817660

Chosen Option : 4

Q.11 यदि किसी निश्चित कूट भाषा में, MUSICAL को 109 के रूप में और RAISING को 110 के रूप में कूटबद्ध किया जाता है, तो उसी कूट भाषा में FOURTH को किस रूप में कूटबद्ध किया जाएगा?

- Ans 1. 72
 2. 76
 3. 70
 4. 74

Question ID : 65497817657
 Chosen Option : 1

Q.12 दो कथनों के बाद दो निष्कर्ष I और II दिए गए हैं। कथनों को सत्य मानते हुए, भले ही ये सामान्य रूप से ज्ञात तथ्यों से भिन्न प्रतीत होते हों, निर्धारित करें कि कौन सा/से निष्कर्ष कथनों का तार्किक रूप से अनुसरण करता/करते है/हैं।

कथन:
 सभी सिर, पूंछ हैं।
 सभी पूंछ, हड्डियां हैं।

निष्कर्ष:
 I. सभी हड्डियां, सिर हैं।
 II. सभी सिर, हड्डियां हैं।

- Ans 1. केवल निष्कर्ष II अनुसरण करता है।
 2. न तो निष्कर्ष I और न ही II अनुसरण करता है।
 3. केवल निष्कर्ष I अनुसरण करता है।
 4. निष्कर्ष I और II दोनों अनुसरण करते हैं।

Question ID : 65497817662
 Chosen Option : 1



Q.13 यदि दर्पण को आकृति के दाईं ओर रखा गया हो, तो दी गई आकृति के सही दर्पण प्रतिबिंब का चयन करें।



Ans

✗ 1.



✗ 2.



✓ 3.



✗ 4.



Question ID : 65497817670

Chosen Option : 3

Q.14 उस विकल्प का चयन करें, जो तीसरे अक्षर-समूह से ठीक उसी प्रकार संबंधित है, जिस प्रकार दूसरा अक्षर-समूह पहले अक्षर-समूह से संबंधित है।

RAILCAR : NEEPYEN : : ICESHOW : _____.

Ans ✓ 1. EGAWDSS

✗ 2. MYIOLKT

✗ 3. MZJOMKU

✗ 4. NZJPLU

Question ID : 65497817658

Chosen Option : 1

Q.15 यदि किसी निश्चित कूट भाषा में, SHELTER को 6295793 के रूप में और FISHERY को 8162934 के रूप में कूटबद्ध किया जाता है, तो उसी कूट भाषा में, FILTHY को किस रूप में कूटबद्ध किया जाएगा?

- Ans
- 1. 581724
 - 2. 812457
 - 3. 815724
 - 4. 157842

Question ID : 65497817656

Chosen Option : 3

Q.16 इनमें से किन दो अंकों को एक-दूसरे से और किन दो चिह्नों को एक-दूसरे से प्रतिस्थापित करने से दिया गया समीकरण संतुलित होगा?

$$36 \div 2 - 159 + 78 \times 18 = 135$$

- Ans
- 1. 8 और 7; × और +
 - 2. 6 और 8; + और -
 - 3. 5 और 8; + और -
 - 4. 8 और 2; × और +

Question ID : 65497817648

Chosen Option : 4

Q.17 उस विकल्प का चयन करें, जिसमें संख्याएं एक-दूसरे से ठीक उसी प्रकार संबंधित हैं, जिस प्रकार दिए गए समुच्चय की संख्याएं एक-दूसरे से संबंधित हैं।

$$98 : 81 : 72$$

- Ans
- 1. 68 : 54 : 44
 - 2. 72 : 63 : 55
 - 3. 76 : 63 : 54
 - 4. 68 : 56 : 46

Question ID : 65497817651

Chosen Option : 3

Q.18 निम्न भारतीय नदियों की क्रमबद्धता (उत्तर से दक्षिण) दर्शाने वाले सही विकल्प का चयन करें।

1. कावेरी
2. नर्मदा
3. गोदावरी
4. गंगा
5. कृष्णा

- Ans
- 1. 2-3-4-1-5
 - 2. 1-3-2-5-4
 - 3. 4-3-2-1-5
 - 4. 4-2-3-5-1

Question ID : 65497817666


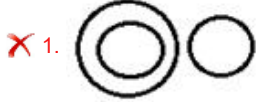
Chosen Option : 4



Q.19 उस वेन-आरेख का चयन करें, जो निम्न वर्गों के बीच संबंध को सर्वोत्तम ढंग से निरूपित करता है।

महीने, कैलेंडर, दिन

Ans



Question ID : 65497817672

Chosen Option : 2

Q.20 निम्न संख्या श्रेणी में प्रश्नवाचक चिह्न (?) के स्थान पर कौन-सी संख्या आएगी?

8, 16, 12, 32, 16, 64, ?

Ans ✗ 1. 18

✗ 2. 24

✗ 3. 32

✓ 4. 20

Question ID : 65497817653

Chosen Option : 4

Q.21 किसी निश्चित कूट भाषा में, यदि CONDENSE को OCDNNEES लिखा जाता है, तो उसी कूट भाषा में, FACILITY को क्या लिखा जाएगा?

Ans ✗ 1. ICAFYFIL

✓ 2. AFICILYT

✗ 3. AFYTICIL

✗ 4. YTILICAF

Question ID : 65497817654

Chosen Option : 2

Q.22 किसी निश्चित कूट भाषा में, यदि HIMSELF को FKKUCND लिखा जाता है, तो उसी कूट भाषा में, OUTDOOR को क्या लिखा जाएगा?

- Ans
- 1. MVTGORP
 - 2. NWQFLQO
 - 3. MWRFMQP
 - 4. PWSDNOR

Question ID : 65497817655

Chosen Option : 3

Q.23 42 विद्यार्थियों वाली कक्षा में, रितिका शीर्ष से 13वें स्थान पर है, जबकि शीतल नीचे से 34वें स्थान पर है। रितिका और शीतल के बीच कितने विद्यार्थी हैं?

- Ans
- 1. 3
 - 2. 2
 - 3. 4
 - 4. 1

Question ID : 65497817664

Chosen Option : 1

Q.24 उस विकल्प आकृति का चयन करें, जो निम्न आकृति-श्रेणी में प्रश्नवाचक चिह्न (?) के स्थान पर आएगी।



Ans

- 1.
- 2.
- 3.
- 4.

Question ID : 65497817667

Chosen Option : 2

Q.25 कुछ व्यक्ति गोल मेज के परितः केंद्र की ओर अभिमुख होकर बैठे हैं। S ठीक उस R के सामने बैठा है, जो कि Q के बाईं ओर पड़ोस में बैठा है। T, Q के दाईं ओर पड़ोस में बैठा है। यदि U ठीक Q के सामने बैठा है, तो P की स्थिति क्या है?

- Ans
- 1. S और T के बीच
 - 2. U के बाईं ओर
 - 3. U और R के बीच
 - 4. R के दाईं ओर

Question ID : 65497817665

Chosen Option : 3