

Comprehension:

In the following passage some words have been deleted. Fill in the blanks with the help of the alternatives given. Select the most appropriate option for each blank.

The Defence Minister complimented the IAF for its rapid deployment of assets at forward locations (1)_____ response to the border row with China in eastern Ladakh. The current combat readiness has sent a strong message to our (2)_____, he said. In an address to the top commanders of (3)_____ IAF on the opening day of a three-day conference, the defence minister said the nation's resolve to defend its sovereignty (4)_____ firm and that the people of the country have full confidence in the (5)_____ of its armed forces.

SubQuestion No : 25

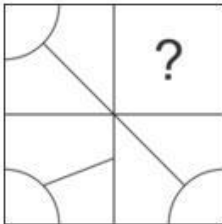
Q.25 Select the most appropriate option to fill in blank no. 5.

- Ans 1. probability
 2. sensibility
 3. capability
 4. availability

Question ID : **65497815713**
 Chosen Option : **3**

Section : **General Intelligence and Reasoning**

Q.1 सही विकल्प का चयन करके, पैटर्न के अनुपस्थित भाग को पूरा करें।

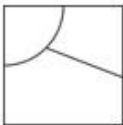


Ans

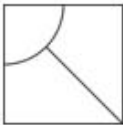
1.



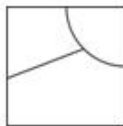
2.



3.



4.



Question ID : **65497816961**
 Chosen Option : **4**

Q.2 छः छात्र A, B, C, D, E और F उत्तर की ओर अभिमुख होकर खड़े हैं, लेकिन जरूरी नहीं कि वे इसी क्रम में खड़े हों। A एक छोर पर खड़ा है और F उसके पड़ोस में है। B, E के एकदम दाएं पड़ोस में है। B, दाएं छोर से दूसरे स्थान पर है। C, F के पड़ोस में नहीं है। दाएं छोर से तीसरे स्थान पर कौन खड़ा है?

- Ans 1. D
 2. E
 3. C
 4. F

Question ID : 65497816957
 Chosen Option : 2

Q.3 Arrange the following in a logical and meaningful order.

- I. Assistant Professor
 II. PGT
 III. Professor
 IV. Associate Professor

- Ans 1. IV, II, I, III
 2. I, III, IV, II
 3. III, IV, I, II
 4. I, II, III, IV

Question ID : 65497816959
 Chosen Option : 1

Q.4 उस संख्या का चयन करें, जो दी गई संख्या श्रेणी में प्रश्नवाचक चिह्न (?) के स्थान पर आएगी?

6, 7, 13, 20, 33, 53, ?

- Ans 1. 89
 2. 79
 3. 86
 4. 73

Question ID : 65497816946
 Chosen Option : 3

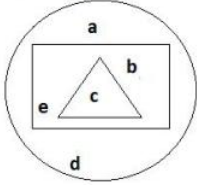
Q.5 किसी निश्चित कूट भाषा में '274' का अर्थ 'you are fool' है, '137' का अर्थ 'Rohan is fool' है और '893' का अर्थ 'Riya likes Rohan' है। इसी भाषा में निम्न में से किस संख्या का अर्थ 'Riya' होगा?

- Ans 1. 9
 2. 3
 3. 7
 4. 4

Question ID : 65497816950
 Chosen Option : 1



Q.6 दी गई आकृति में, वृत्त उन लइकों को निरूपित करता है 'जो लिख सकते हैं', आयत उन लइकों को निरूपित करता है 'जो पढ़ सकते हैं', तथा त्रिभुज उन लइकों को निरूपित करता है 'जो गा सकते हैं'। आकृति का कौन-सा भाग उन लइकों को निरूपित करता है, 'जो लिख सकते हैं, लेकिन गा नहीं सकते'?



Ans 1. a, b, d, e

2. a, d

3. b, e

4. a, c

Question ID : 65497816965

Chosen Option : 1

Q.7 उस विकल्प का चयन करें, जिसमें संख्या-युग्म की संख्याएं एक-दूसरे से ठीक उसी प्रकार संबंधित नहीं हैं, जिस प्रकार दिए गए संख्या युग्म की संख्याएं एक-दूसरे से संबंधित हैं।

9 : 738

Ans 1. 7 : 350

2. 6 : 222

3. 8 : 157

4. 4 : 681

Question ID : 65497816943

Chosen Option : 3

Q.8 एक परिसर में M, N, O, P, Q, R और S नामक घर एक पंक्ति में हैं, लेकिन जरूरी नहीं कि वे इसी क्रम में हों। P किसी भी छोर पर नहीं है। R, P के ठीक दाएं पड़ोस में है। S, बाएं से तीसरा है। O एकदम बाएं छोर पर है। M दाईं ओर से दूसरा है। O, N के पड़ोस में नहीं है। R कहां पर स्थित है?

Ans 1. दाईं ओर से तीसरा

2. दाईं ओर से चौथा

3. दाएं छोर पर

4. बाईं ओर से दूसरा

Question ID : 65497816958

Chosen Option : 4

Q.9 Select the option that is related to the third term in the same way as the second term is related to the first term.

Square : Side :: Circle : ?

Ans 1. Arc

2. Area

3. Radius

4. Diameter

Question ID : 65497816953

Chosen Option : 1



Q.10 यदि किसी कूट भाषा में 'BEAM' को 'YVZN' लिखा जाता है, तो इसी कूट भाषा में 'HELP' को क्या लिखा जाएगा?

- Ans 1. SVOK
 2. SVKQ
 3. EVKO
 4. EVKQ

Question ID : 65497816948
 Chosen Option : 1

Q.11 दो कथन और उसके बाद दो निष्कर्ष दिए गए हैं। यह मानते हुए कि कथन सत्य हैं, भले ही वे सामान्य रूप से ज्ञात तथ्यों से भिन्न प्रतीत होते हों, बताएं कि कौन से निष्कर्ष दिए गए कथनों का तार्किक रूप से अनुसरण करते हैं?

कथन:

1. सभी पशु सफेद हैं।
2. कोई सरीसृप सफेद नहीं है।

निष्कर्ष:

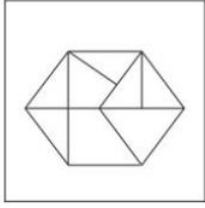
- I. कोई सरीसृप पशु नहीं है।
- II. कुछ सफेद पशु हैं।

- Ans 1. निष्कर्ष I और II, दोनों अनुसरण करते हैं।
 2. न तो निष्कर्ष I और ना ही II अनुसरण करता है।
 3. केवल निष्कर्ष I अनुसरण करता है।
 4. केवल निष्कर्ष II अनुसरण करता है।

Question ID : 65497816955
 Chosen Option : 1



Q.12 उस आकृति का चयन करें, जो दी गई आकृति में अंतःस्थापित नहीं है (घुमाने की अनुमति नहीं है)।



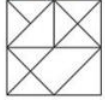
Ans



Question ID : 65497816962

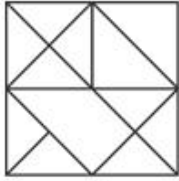
Chosen Option : 3

Q.13 यदि दर्पण को दी गई आकृति के दाईं ओर रखा जाए, तो आकृति के दर्पण में निम्नित सही प्रतिबिंब का चयन कीजिए।

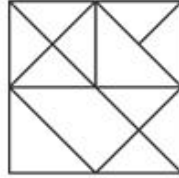


Ans

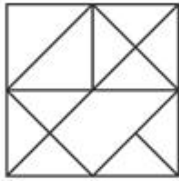
✗ 1.



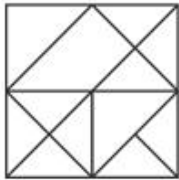
✓ 2.



✗ 3.

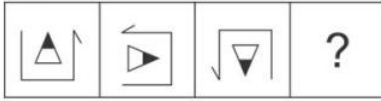


✗ 4.



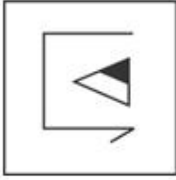
Question ID : 65497816963
Chosen Option : 2

Q.14 विकल्पों में से उस आकृति का चयन करें, जो प्रश्नवाचक चिह्न (?) की जगह पर आकर दी गई आकृति श्रेणी को पूरा करेगी।

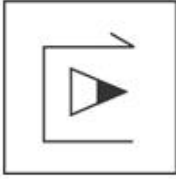


Ans

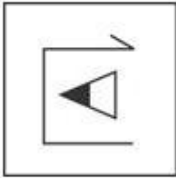
✗ 1.



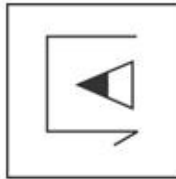
✗ 2.



✗ 3.



✓ 4.



Question ID : 65497816960

Chosen Option : 4

Q.15 उस विकल्प का चयन करें, जो तीसरे अक्षर-समूह से ठीक उसी प्रकार संबंधित है, जिस प्रकार दूसरा अक्षर-समूह पहले अक्षर-समूह से संबंधित है।

COLD : GTRK :: MICE : ?

Ans ✗ 1. QMGL

✓ 2. QNIL

✗ 3. RMGL

✗ 4. QNGL

Question ID : 65497816951

Chosen Option : 2

Q.16 तीन कथन और उसके बाद चार निष्कर्ष दिए गए हैं। यह मानते हुए कि कथन सत्य हैं, भले ही वे सामान्य रूप से ज्ञात तथ्यों से भिन्न प्रतीत होते हों, बताएं कि कौन से निष्कर्ष दिए गए कथनों का तार्किक रूप से अनुसरण करते हैं?

कथन:

1. कुछ महिलाएं अच्छा खाना बना सकती हैं।
2. अच्छा खाना बनाने वाली सभी महिलाएं, नृत्यांगनाएं हैं।
3. कुछ नृत्यांगनाएं खिलाड़ी हैं।

निष्कर्ष:

- I. कोई भी नृत्यांगना अच्छा खाना नहीं बना सकती है।
- II. कोई नृत्यांगना महिला नहीं है।
- III. कुछ खिलाड़ी महिलाएं हैं।
- IV. कोई खिलाड़ी महिला नहीं है।

- Ans
- 1. केवल निष्कर्ष III अनुसरण करता है।
 - 2. निष्कर्ष I और II, दोनों अनुसरण करते हैं।
 - 3. निष्कर्ष II और IV, दोनों अनुसरण करते हैं।
 - 4. या तो निष्कर्ष III या IV अनुसरण करता है।

Question ID : 65497816956

Chosen Option : 1

Q.17 यदि किसी कूट भाषा में 'WICE' को 'XGFA' लिखा जाता है, तो इसी कूट भाषा में 'WELL' को क्या लिखा जाएगा?

- Ans
- 1. XCOH
 - 2. XAHH
 - 3. XA00
 - 4. XCHO

Question ID : 65497816947

Chosen Option : 1

Q.18 अक्षरों के उस सही संयोजन का चयन करें, जिन्हें क्रमिक रूप से दी गई अक्षर श्रेणी में रिक्त स्थानों पर रखने पर श्रेणी पूर्ण हो जाएगी।

J _ G _ KP _ _ PGJ

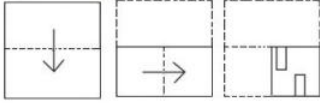
- Ans
- 1. PJKGJK
 - 2. GJPKJK
 - 3. KPJGJK
 - 4. KJPGKJ

Question ID : 65497816954

Chosen Option : 3

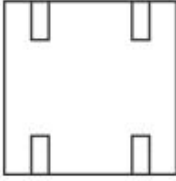


Q.19 एक कागज को बिंदीदार रेखाओं पर मोड़ा जाता है, जैसा कि पहली दो आकृतियों में दिखाया गया है। और इसे तीसरी आकृति के अनुसार काटा जाता है। जब इसे खोला जाएगा, तो यह कैसा दिखेगा?




Ans

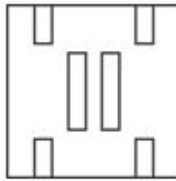
✗ 1.



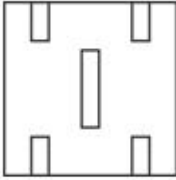
✗ 2.



✓ 3.



✗ 4.



Question ID : 65497816964

Chosen Option : 3

Q.20 दिए गए विकल्पों में से, संख्याओं के उस समुच्चय का चयन करें, जो दिए गए समुच्चय के समान है।

(272, 353, 452)

Ans ✗ 1. (459, 781, 972)

✗ 2. (617, 813, 215)

✓ 3. (560, 443, 263)

✗ 4. (901, 456, 791)

Question ID : 65497816944

Chosen Option : 3

Q.21 किसी निश्चित कूट भाषा में '274' का अर्थ 'God is great' है, '137' का अर्थ 'I worship God' है और '752' का अर्थ 'God is omnipotent' है। इसी भाषा में निम्न में से किस संख्या का अर्थ 'omnipotent' होगा?

Ans ✗ 1. 7

✗ 2. 3

✓ 3. 5

✗ 4. 4

Question ID : 65497816949

Chosen Option : 3



Download SSC CGL, CHSL E-BOOKS

[CLICK HERE](#)

Q.22 गणितीय चिह्नों के उस सही संयोजन का चयन करें, जिसे क्रमिक रूप से * चिह्नों के स्थान पर रखने पर दिया गया समीकरण संतुलित हो जाएगा।

$$17 * 3 * 6 * 2 * 7 * 55$$

- Ans
- 1. +, +, -, ×, =
 - 2. ×, -, +, +, =
 - 3. -, +, +, ×, =
 - 4. -, +, +, ×, =

Question ID : 65497816942
Chosen Option : 2

Q.23 उस संख्या का चयन करें, जो दी गई संख्या श्रेणी में प्रश्नवाचक चिह्न (?) के स्थान पर आएगी?

$$30, 42, 56, 72, ?, 110$$

- Ans
- 1. 92
 - 2. 90
 - 3. 102
 - 4. 88

Question ID : 65497816945
Chosen Option : 2

Q.24 दिए गए समीकरण को संतुलित करने के लिए, इनमें से किन दो चिह्नों को एक-दूसरे से प्रतिस्थापित करना होगा?

$$8 \times 4 - 7 + 8 \div 2 = 35$$

- Ans
- 1. + और -
 - 2. - और ×
 - 3. × और ÷
 - 4. ÷ और -

Question ID : 65497816941
Chosen Option : 1

Q.25 Select the option that is related to the third term in the same way as the second term is related to the first term.

Sweet : Sour :: End : ?

- Ans
- 1. First
 - 2. Move
 - 3. Beginning
 - 4. New

Question ID : 65497816952
Chosen Option : 3

Section : Numerical Aptitude



Download SSC CGL, CHSL E-BOOKS

[CLICK HERE](#)