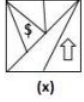


Q.1 जब दर्पण को आकृति X के दाईं ओर रखा जाता है, तो आकृति X के दर्पण में निम्नलिखित प्रतिबिंब का चयन करें।

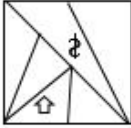


Ans

✗ 1.



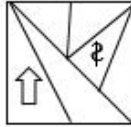
✗ 2.



✗ 3.



✓ 4.



Question ID : 65497816155  
Chosen Option : 4

Q.2 यदि WIDOWER को VKAOXCU लिखा जाता है, तो FORTIFY को किस प्रकार लिखा जाएगा?

Ans ✗ 1. EOQSJCD

✗ 2. GMUSHDV

✓ 3. EQOTJDB

✗ 4. EPPTHDC

Question ID : 65497816140  
Chosen Option : 3

Q.3 छः वस्तुओं F, G, H, J, K और L में से :

- H, K से दोगुना भारी है और J, F से डेढ़ गुना भारी है।
- G का वज़न J से आधा है।
- F और J दोनों मिलाकर H से कम भारी हैं।
- J और L दोनों मिलाकर, F से दोगुने भारी हैं।

यदि वस्तुओं को उनके वज़न के अवरोही क्रम में व्यवस्थित किया जाता है, तो कौन-सी वस्तु नीचे से दूसरी होगी?

Ans ✗ 1. L

✗ 2. K

✓ 3. G

✗ 4. F

Question ID : 65497816151  
Chosen Option : 3

Q.4 उस विकल्प का चयन करें, जो तीसरे अक्षर-समूह से ठीक उसी प्रकार संबंधित है, जिस प्रकार दूसरा अक्षर-समूह पहले अक्षर-समूह से संबंधित है।

LOTTERY : WQMTBTF :: SECULAR : ?

- Ans
- 1. GTFUCUM
  - 2. DFTUSBM
  - 3. BDRTQZK
  - 4. FGTUUCM

Question ID : 65497816143  
Chosen Option : 4

Q.5 निम्न संख्या श्रेणी में प्रश्नवाचक चिह्न (?) के स्थान पर कौन-सी संख्या आएगी?

7, 9, 13, 16, 25, 29, ?, 50

- Ans
- 1. 38
  - 2. 41
  - 3. 45
  - 4. 47

Question ID : 65497816138  
Chosen Option : 1

Q.6 जिस प्रकार 'साहित्य', 'काव्य' से संबंधित है, उसी प्रकार 'चित्रकारी', '\_\_\_\_\_' से संबंधित है।

- Ans
- 1. फ्रेम
  - 2. रंग
  - 3. छायाचित्र
  - 4. अभिव्यक्ति

Question ID : 65497816145  
Chosen Option : 3

Q.7 यदि + और  $\times$  चिह्नों को एक-दूसरे से प्रतिस्थापित किया जाता है, तो निम्न में से कौन-सा समीकरण सही होगा?

- Ans
- 1.  $9 \times 3 - 7 + 9 = 19$
  - 2.  $4 \div 8 + 6 \times 3 = 8$
  - 3.  $10 \times 5 \div 10 + 10 = 10$
  - 4.  $18 \times 3 \div 12 + 8 = 20$

Question ID : 65497816133  
Chosen Option : 4



Q.8 उस विकल्प का चयन करें जिसका तीसरी संख्या से वही संबंध है जो दूसरी संख्या का पहली संख्या से है।

7 : 294 :: 9 : ?

Ans  1. 881

2. 648

3. 576

4. 452

Question ID : 65497816135

Chosen Option : 2

Q.9 निम्न संख्या श्रेणी में प्रश्नवाचक चिह्न (?) के स्थान पर कौन-सी संख्या आएगी?

91, 100, 94, 97, 101, 90, 112, ?

Ans  1. 87

2. 79

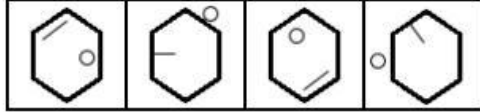
3. 83

4. 123

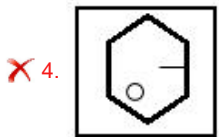
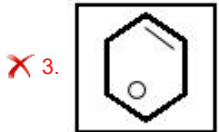
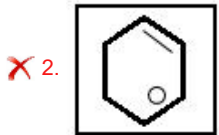
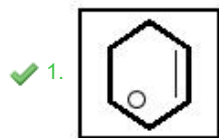
Question ID : 65497816137

Chosen Option : 2

Q.10 निम्न आकृति श्रेणी में कौन-सी विकल्प आकृति अगले स्थान पर आएगी?



Ans



Question ID : 65497816152

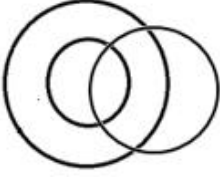
Chosen Option : 1

Q.11 उस वेन-आरेख का चयन करें, जो निम्न वर्गों के बीच संबंध को सर्वोत्तम ढंग से निरूपित करता है।

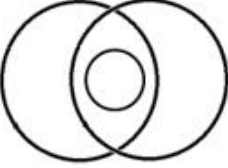
महिलाएँ, व्यवसायी, माताएँ

Ans

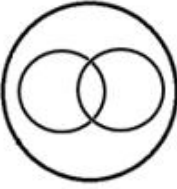
✓ 1.



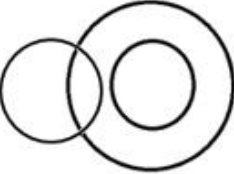
✗ 2.



✗ 3.



✗ 4.



Question ID : 65497816157  
Chosen Option : 1

Q.12 जिस प्रकार 'नाटक', 'अभिनेता' से संबंधित है, उसी प्रकार 'कन्सर्ट', '\_\_\_\_\_' से संबंधित है।

- Ans
- ✗ 1. निर्देशक
  - ✗ 2. पियानो
  - ✗ 3. सिम्फनी
  - ✓ 4. संगीतकार

Question ID : 65497816144  
Chosen Option : 4

Q.13 नीचे तीन आकृतियों में कागज़ के एक टुकड़े को मोड़ने का क्रम और मुड़े हुए कागज़ को काटने का तरीका दर्शाया गया है। खोलने पर यह कागज़ कैसा दिखेगा?

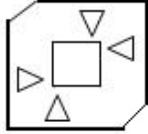


Ans

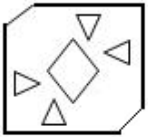
✗ 1.



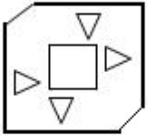
✓ 2.



✗ 3.



✗ 4.



Question ID : 65497816156

Chosen Option : 2

Q.14 यदि 'FESTIVE' को '16113215011' के रूप में और 'HUNGER' को '1427815114' के रूप में कूटबद्ध किया जाता है, तो 'GRUDGE' को किस रूप में कूटबद्ध किया जाएगा?

Ans ✗ 1. 12457111851

✗ 2. 15241718511

✓ 3. 15427181511

✗ 4. 14527811151

Question ID : 65497816142

Chosen Option : 3

Q.15 यदि CROWN को 68 के रूप में और DEPEND को 42 के रूप में कूटबद्ध किया जाता है, तो IMAGERY को किस रूप में कूटबद्ध किया जाएगा?

Ans ✗ 1. 73

✗ 2. 68

✗ 3. 67

✓ 4. 71

Question ID : 65497816141

Chosen Option : 4



Q.16 आठ दोस्त P, Q, R, S, T, U, V और W एक पंक्ति में उत्तर की ओर अभिमुख होकर बैठे हैं।

- Q ठीक P के दाईं ओर पड़ोस में बैठा है, जो कि पंक्ति में किसी एक अंतिम छोर पर बैठा है।
- Q, T के बाईं ओर तीसरे स्थान पर बैठा है।
- W और T के बीच दो लोग हैं।
- U, S के ठीक पड़ोस में नहीं है और V के ठीक बाईं ओर पड़ोस में बैठा है।
- V और R के बीच में तीन लोग हैं।

Q और T के बीच कौन-कौन बैठा है?

- Ans
- 1. R और U
  - 2. R और S
  - 3. V और S
  - 4. U और V

Question ID : 65497816150

Chosen Option : 2

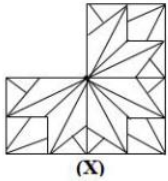
Q.17 यदि POUNDAGE को NOPUEGAD लिखा जाता है, तो STAMPING को किस प्रकार लिखा जाएगा?

- Ans
- 1. AMTSGNIP
  - 2. AMSTGNIP
  - 3. TSMGNPIA
  - 4. TAMSGINP

Question ID : 65497816139

Chosen Option : 2

Q.18 उस विकल्प आकृति का चयन करें, जिसे आकृति X के खाली स्थान में रखने से पैटर्न पूरा हो जाएगा।



Ans

- 1.
- 2.
- 3.
- 4.

Question ID : 65497816153

Chosen Option : 1

Q.19 दिए गए समीकरण को संतुलित करने के लिए, इनमें से किन दो चिह्नों को एक-दूसरे से प्रतिस्थापित करना होगा?

$$10 \div 5 - 4 \times 3 + 6 = 13$$

- Ans
- 1. + और -
  - 2. - और  $\times$
  - 3. + और  $\div$
  - 4.  $\div$  और  $\times$

Question ID : 65497816134  
Chosen Option : 3

Q.20 निम्न श्रेणी में प्रश्नवाचक चिह्न (?) के स्थान पर कौन-सा अक्षर-समूह आएगा?

PMOR, RNNP, TOMN, VPLL, ?

- Ans
- 1. YQKJ
  - 2. XRJK
  - 3. VQJJ
  - 4. XQKJ

Question ID : 65497816146  
Chosen Option : 4

Q.21 तीन कथनों के बाद तीन निष्कर्ष I, II और III दिए गए हैं। कथनों को सत्य मानते हुए, भले ही ये वास्तविक दुनिया के ज्ञान के अनुरूप न हों, निर्धारित करें कि कौन सा/से निष्कर्ष कथनों का तार्किक रूप से अनुसरण करता/करते है/हैं?

कथन:

1. सभी कस्बे, शहर हैं।
2. कोई भी शहर, गांव नहीं है।
3. कुछ शहर, प्राधिकरण हैं।

निष्कर्ष:

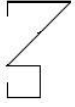
- I. कुछ प्राधिकरण, गांव हैं।
- II. कुछ कस्बे, प्राधिकरण हैं।
- III. कोई भी प्राधिकरण, गांव नहीं है।

- Ans
- 1. या तो निष्कर्ष I या फिर निष्कर्ष III अनुसरण करता है।
  - 2. केवल निष्कर्ष II अनुसरण करता है।
  - 3. केवल निष्कर्ष I अनुसरण करता है।
  - 4. केवल निष्कर्ष I और II अनुसरण करते हैं।

Question ID : 65497816148  
Chosen Option : 1

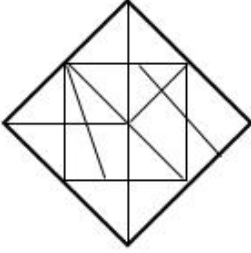


Q.22 उस विकल्प का चयन करें, जिसमें दी गई आकृति अन्तःस्थापित है। (घुमाने की अनुमति नहीं है)

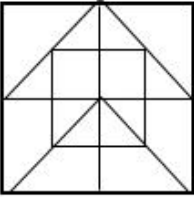


Ans

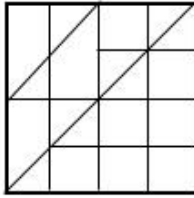
✗ 1.



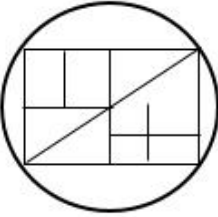
✗ 2.



✓ 3.



✗ 4.



Question ID : 65497816154

Chosen Option : 3

Q.23 छः लड़के A, B, C, D, E और F एक पंक्ति में खड़े हैं।

i. B और D के बीच दो लड़के हैं और D, E के ठीक सामने है।

ii. A और C, B के पड़ोस में हैं।

iii. A ठीक E के पीछे है और C ठीक F के सामने है।

कौन से दो लड़के ठीक बीच में हैं?

Ans ✗ 1. B और C

✓ 2. A और B

✗ 3. A और E

✗ 4. C और D

Question ID : 65497816149

Chosen Option : 2



Q.24 दो कथनों के बाद दो निष्कर्ष I और II दिए गए हैं। कथनों को सत्य मानते हुए, भले ही ये वास्तविक दुनिया के ज्ञान के अनुरूप न हों, निर्धारित करें कि कौन सा/से निष्कर्ष कथनों का तार्किक रूप से अनुसरण करता/करते है/हैं?

कथन:

1. कुछ धाराएं, नदियां हैं।
2. कोई भी नदी, झील नहीं है।

निष्कर्ष:

- I. कोई भी धारा, झील नहीं है।
- II. कुछ नदियां, धाराएं हैं।

- Ans  1. न तो निष्कर्ष I और न ही II अनुसरण करता है।  
 2. केवल निष्कर्ष II अनुसरण करता है।  
 3. केवल निष्कर्ष I अनुसरण करता है।  
 4. निष्कर्ष I और II दोनों अनुसरण करते हैं।

Question ID : 65497816147  
Chosen Option : 2

Q.25 संख्याओं के उस समुच्चय का चयन करें, जो निम्न समुच्चय के समान है।

{21, 29, 20}

- Ans  1. {19, 28, 17}  
 2. {7, 26, 24}  
 3. {8, 17, 15}  
 4. {33, 35, 12}

Question ID : 65497816136  
Chosen Option : 3

Section : Numerical Aptitude

Q.1  $\frac{119 - [48 \div 6 - 7\{5 \times 12 \div 3 - (15 - 3 - 8)\}]}{24 \div 3 - 9 \text{ of } 3 + (52 - 8 - 4) \div 6}$  का सरलीकृत मान ज्ञात करें।

- Ans  1.  $\frac{127}{43}$   
 2.  $\frac{111}{11}$   
 3.  $-\frac{127}{27}$   
 4.  $-\frac{111}{11}$

Question ID : 65497818300  
Chosen Option : 4

