

Section : General Intelligence and Reasoning

Q.1 निम्न संख्या श्रेणी में प्रश्नवाचक चिह्न (?) के स्थान पर कौन-सी संख्या आएगी?

2, 3, 6, 10, 17, ?

- Ans
- 1. 30
 - 2. 25
 - 3. 27
 - 4. 28

Question ID : 65497816036
Chosen Option : 4

Q.2 यदि NATURE को MCQYMK लिखा जाता है, तो CREST को किस प्रकार लिखा जाएगा?

- Ans
- 1. CPHOY
 - 2. BTBWO
 - 3. BTHKO
 - 4. BTBOY

Question ID : 65497816039
Chosen Option : 2

Q.3 P, Q, R, S, T, U और V एक पंक्ति में खड़े हैं।

- i. T, P के ठीक पीछे खड़ा है।
- ii. V, Q के ठीक सामने खड़ा है, जो कि अंतिम व्यक्ति नहीं है।
- iii. P और R के बीच में S खड़ा है।
- iv. T और Q के बीच में एक व्यक्ति खड़ा है।

पंक्ति में सबसे पीछे कौन है?

- Ans
- 1. T
 - 2. S
 - 3. U
 - 4. Q

Question ID : 65497816049
Chosen Option : --



Q.4 जब दर्पण को दी गई आकृति के दाईं ओर रखा जाता है, तो आकृति के दर्पण में निम्नलिखित प्रतिबिंब का चयन करें।



Ans

✗ 1.



✗ 2.



✗ 3.



✓ 4.



Question ID : 65497816054

Chosen Option : 4

Q.5 यदि PAYMENT को 7174552 के रूप में कूटबद्ध किया जाता है, तो YOUNGER को किस रूप में कूटबद्ध किया जाएगा?

Ans ✗ 1. 7153540

✗ 2. 2121751

✓ 3. 7635759

✗ 4. 5514758

Question ID : 65497816040

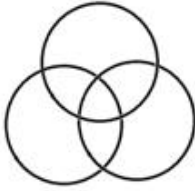
Chosen Option : 3

Q.6 उस वेन-आकृति का चयन करें, जो निम्न वर्गों के बीच संबंध को सर्वोत्तम ढंग से निरूपित करता है।

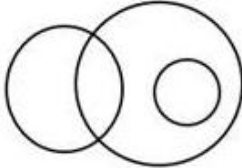
महिला, रिश्तेदार, अंकल

Ans

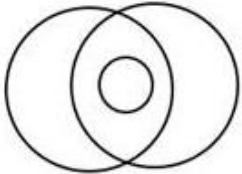
✗ 1.



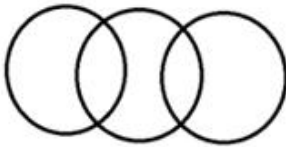
✓ 2.



✗ 3.

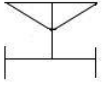


✗ 4.



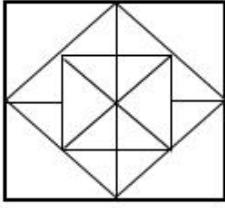
Question ID : 65497816056
Chosen Option : 4

Q.7 उस विकल्प का चयन करें, जिसमें दी गई आकृति अन्तःस्थापित है। (घुमाने की अनुमति नहीं है)

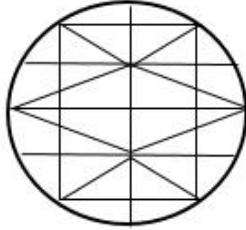


Ans

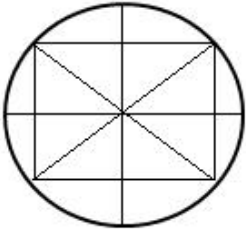
✗ 1.



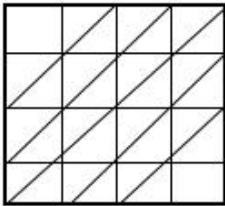
✓ 2.



✗ 3.



✗ 4.



Question ID : 65497816053

Chosen Option : 2

Q.8 उस संख्या-युग्म का चयन करें, जिसमें दोनों संख्याएं एक-दूसरे से ठीक उसी प्रकार संबंधित हैं, जिस प्रकार नीचे दिए गए युग्म की दोनों संख्याएं एक-दूसरे से संबंधित हैं।

11 : 72

Ans ✗ 1. 9 : 48

✓ 2. 7 : 32

✗ 3. 15 : 95

✗ 4. 3 : 7

Question ID : 65497816034

Chosen Option : 3

Q.9 यदि PEARS को 101 के रूप में और CAT को 49 के रूप में कूटबद्ध किया जाता है, तो MEAL को किस रूप में कूटबद्ध किया जाएगा?

- Ans 1. 73
 2. 63
 3. 77
 4. 31

Question ID : 65497816041

Chosen Option : 2

Q.10 तीन कथनों के बाद तीन निष्कर्ष I, II और III दिए गए हैं। कथनों को सत्य मानते हुए, भले ही ये वास्तविक दुनिया के ज्ञान के अनुरूप न हों, निर्धारित करें कि कौन सा/से निष्कर्ष कथनों का तार्किक रूप से अनुसरण करता/करते है/हैं।

कथन:

1. सभी प्रबंधक, कर्मचारी हैं।
2. सभी वरिष्ठ, प्रबंधक हैं।
3. कुछ वरिष्ठ, पेंशन धारक हैं।

निष्कर्ष:

- I. कुछ पेंशन धारक, कर्मचारी हैं।
- II. कुछ कर्मचारी, पेंशन धारक हैं।
- III. सभी कर्मचारी, वरिष्ठ हैं।

- Ans 1. सभी निष्कर्ष I, II और III अनुसरण करते हैं।
 2. केवल निष्कर्ष I और III अनुसरण करते हैं।
 3. केवल निष्कर्ष I अनुसरण करता है।
 4. केवल निष्कर्ष I और II अनुसरण करते हैं।

Question ID : 65497816047

Chosen Option : 4

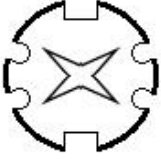


Q.11 नीचे तीन आकृतियों में कागज के किसी टुकड़े को मोड़ने का क्रम और मुड़े हुए कागज को काटने का तरीका दर्शाया गया है। खोलने पर यह कागज कैसा दिखेगा?

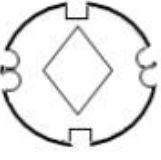


Ans

✓ 1.




✗ 2.



✗ 3.



✗ 4.



Question ID : 65497816055

Chosen Option : 1

Q.12 दो कथनों के बाद दो निष्कर्ष I और II दिए गए हैं। कथनों को सत्य मानते हुए, भले ही ये वास्तविक दुनिया के ज्ञान के अनुरूप न हों, निर्धारित करें कि कौन सा/से निष्कर्ष कथनों का तार्किक रूप से अनुसरण करता/करते है/हैं।

कथन:

1. सभी हॉस्टल, ईमारतें हैं।
2. कुछ ईमारतें, महल हैं।

निष्कर्ष:

- I. कुछ महल, हॉस्टल हैं।
- II. कोई भी महल, हॉस्टल नहीं है।

Ans

- ✗ 1. केवल निष्कर्ष II अनुसरण करता है।
- ✗ 2. निष्कर्ष I और II दोनों अनुसरण करते हैं।
- ✓ 3. या तो निष्कर्ष I, या फिर II अनुसरण करता है।
- ✗ 4. केवल निष्कर्ष I अनुसरण करता है।

Question ID : 65497816046

Chosen Option : 3

Q.13 निम्न अक्षर-समूह श्रेणी में प्रश्नवाचक चिह्न (?) के स्थान पर कौन-सा अक्षर-समूह आएगा?

BDF, HKN, PRT, VYB, DFH, ?

- Ans 1. JMP
 2. JLN
 3. JLK
 4. KNQ

Question ID : 65497816045
 Chosen Option : 1

Q.14 'Cataract' is related to 'Ophthalmology' in the same way as 'Neurosis' is related to '_____'.

- Ans 1. Sociology
 2. Biology
 3. Neurology
 4. Psychology

Question ID : 65497816044
 Chosen Option : 3

Q.15 यदि HOARDING को NGQZHC FM लिखा जाता है, तो TREATISE को किस प्रकार लिखा जाएगा?

- Ans 1. SUBFJUET
 2. DQSHSZDR
 3. QSZDHSDR
 4. QSSHDZRD

Question ID : 65497816038
 Chosen Option : 3

Q.16 उस विकल्प का चयन करें, जो तीसरे अक्षर-समूह से ठीक उसी प्रकार संबंधित है, जिस प्रकार दूसरा अक्षर-समूह पहले अक्षर-समूह से संबंधित है।

SPIKE : QRHDL :: JINGO : ?

- Ans 1. MNHIJ
 2. HKOPF
 3. JIMNH
 4. KLMNE

Question ID : 65497816042
 Chosen Option : 3



Q.17 विकल्पों में से संख्याओं के उस समुच्चय का चयन करें, जो निम्न समुच्चय के समरूप है।

{12, 18, 6}

Ans 1. {16, 12, 8}

2. {18, 9, 8}

3. {15, 13, 11}

4. {9, 14, 11}

Question ID : 65497816035

Chosen Option : --

Q.18 निम्न संख्या श्रेणी में प्रश्नवाचक चिह्न (?) के स्थान पर कौन-सी संख्या आएगी?

3, 7, 22, 45, 136, ?, 820

Ans 1. 409

2. 517

3. 273

4. 293

Question ID : 65497816037

Chosen Option : 3

Q.19 दिए गए समीकरण को संतुलित करने के लिए, इनमें से किन दो चिह्नों को एक-दूसरे से प्रतिस्थापित करना होगा?

$8 + 6 \times 4 \div 2 - 10 = 6$

Ans 1. \times और $+$

2. \times और $-$

3. $+$ और \times

4. $-$ और $+$

Question ID : 65497816033

Chosen Option : 4

Q.20 जिस प्रकार 'पानी', 'फ़िल्टर' से संबंधित है, उसी प्रकार 'फिल्म', '_____' से संबंधित है।

Ans 1. प्रोड्यूसर

2. कास्टिंग

3. डायरेक्टर

4. सेंसर

Question ID : 65497816043

Chosen Option : 4

Q.21 चार लड़कियां A, B, C और D और चार लड़के P, Q, R और S, गोल मेज के परितः केंद्र की ओर अभिमुख होकर बैठे हैं।

- कोई भी दो लड़कियां या लड़के, एक दूसरे के पड़ोस में नहीं बैठे हैं।
- Q, B के ठीक बाईं ओर पड़ोस में बैठा है।
- A और D के बीच में S बैठा है और वह R की ओर अभिमुख है।

P और R के बीच में कौन बैठा/बैठी है?

- Ans
- 1. D
 - 2. B
 - 3. C
 - 4. A

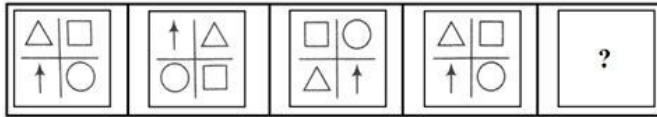
Question ID : 65497816048
Chosen Option : 3

Q.22 यदि - और + चिह्नों को एक-दूसरे से प्रतिस्थापित किया जाता है, तो निम्न में से कौन-सा समीकरण सही होगा?

- Ans
- 1. $12 + 3 \times 2 - 4 = 10$
 - 2. $9 - 6 \times 2 + 8 = 11$
 - 3. $7 \times 3 + 9 - 6 = 17$
 - 4. $10 \div 5 - 10 + 5 = 8$

Question ID : 65497816032
Chosen Option : 1

Q.23 निम्न आकृति श्रेणी में प्रश्नवाचक चिह्न (?) के स्थान पर कौन-सी आकृति आएगी।



Ans

- 1.
- 2.
- 3.
- 4.

Question ID : 65497816051
Chosen Option : 4

Q.24 सात विभिन्न रंगों वाली पुस्तकें, एक के ऊपर एक करके रखी गई हैं।

- i. लाल पुस्तक, नारंगी पुस्तक के ठीक ऊपर है।
- ii. हरी और पीली पुस्तकों के बीच में नीली पुस्तक है।
- iii. हरी और काली पुस्तकों के बीच में बैंगनी पुस्तक है।
- iv. हरी और लाल पुस्तकों के बीच में पुस्तकों की संख्या, काली और नीली पुस्तक के बीच की पुस्तकों की संख्या के बराबर है।

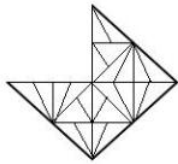
यदि पीली पुस्तक सबसे ऊपर है, तो ठीक बीच में कौन सी पुस्तक है?

- Ans
- ✓ 1. बैंगनी
 - ✗ 2. हरी
 - ✗ 3. नारंगी
 - ✗ 4. लाल

Question ID : 65497816050

Chosen Option : 1

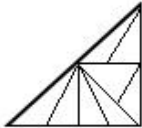
Q.25 उस विकल्प आकृति का चयन करें, जिसे आकृति X के खाली स्थान में रखने से पैटर्न पूरा हो जाएगा।



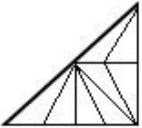
(X)

Ans

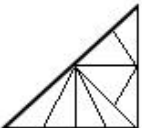
✓ 1.



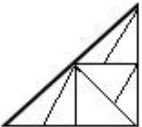
✗ 2.



✗ 3.



✗ 4.



Question ID : 65497816052

Chosen Option : 1

Section : Numerical Aptitude