

**Comprehension:**

In the following passage some words have been deleted. Fill in the blanks with the help of the alternatives given. Select the most appropriate option for each blank.

Soon after the visitors left the room, the artist came in. He was ready (1)\_\_\_\_\_ on the portrait. He had always hoped that (2)\_\_\_\_\_ portrait would bring him great acclaim. It (3)\_\_\_\_\_ turning out really well. A smile appeared on (4)\_\_\_\_\_ face as he thought of it. Then he (5)\_\_\_\_\_ to the canvas and uncovered it. He was shocked to see that somebody had scratched the entire painting with a knife.

**SubQuestion No : 24**

**Q.24** Select the most appropriate option to fill in blank no. 4.

- Ans  1. her  
 2. its  
 3. his  
 4. their

Question ID : 65497817025

Chosen Option : 1

**Comprehension:**

In the following passage some words have been deleted. Fill in the blanks with the help of the alternatives given. Select the most appropriate option for each blank.

Soon after the visitors left the room, the artist came in. He was ready (1)\_\_\_\_\_ on the portrait. He had always hoped that (2)\_\_\_\_\_ portrait would bring him great acclaim. It (3)\_\_\_\_\_ turning out really well. A smile appeared on (4)\_\_\_\_\_ face as he thought of it. Then he (5)\_\_\_\_\_ to the canvas and uncovered it. He was shocked to see that somebody had scratched the entire painting with a knife.

**SubQuestion No : 25**

**Q.25** Select the most appropriate option to fill in blank no. 5.

- Ans  1. reached  
 2. appeared  
 3. arrived  
 4. came

Question ID : 65497817026

Chosen Option : 4

Section : **General Intelligence and Reasoning**

**Q.1** A, B, C, D, E, F और G सात लड़कियां एक वृत्ताकार मेज के परितः केंद्राभिमुख होकर बैठी हैं। E ठीक D और C के बीच बैठी है। G, E के दाईं ओर दूसरे स्थान पर बैठी है। A, C के दाईं ओर तीसरे स्थान पर बैठी है। B ठीक A और D के बीच बैठी है। A, D के बाईं ओर दूसरे स्थान पर बैठी है। F के दाईं ओर तीसरे स्थान पर कौन लड़की बैठी है?

- Ans  1. D  
 2. A  
 3. B  
 4. E

Question ID : 65497815746

Chosen Option : 4



Q.2 यदि A का अर्थ 'जोड़', B का अर्थ 'गुणा', C का अर्थ 'घटाना' और D का अर्थ 'भाग' है, तो निम्न व्यंजक का मान ज्ञात करें।

17 C 12 A (6 B 4) D 8 A 15 D 5

Ans  1. 11

 2. 17

 3. 21

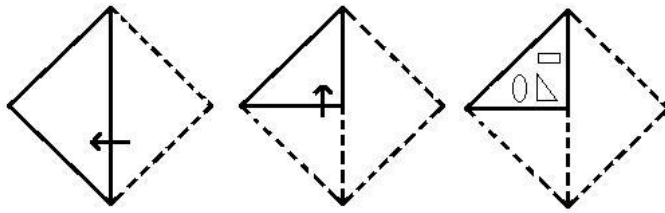
 4. 13

Question ID : 65497815729

Chosen Option : 1

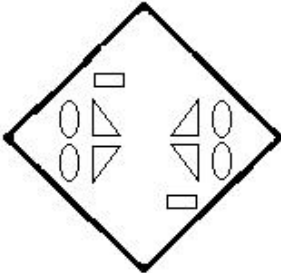


Q.3 एक कागज को निम्नानुसार मोड़ा और काटा गया है। इसे खोलने पर यह कैसा दिखेगा?

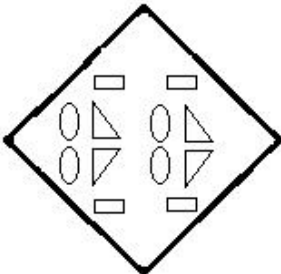


Ans

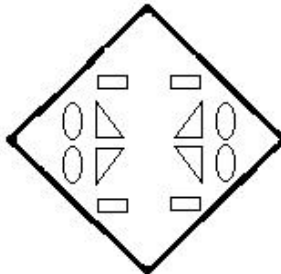
✗ 1.



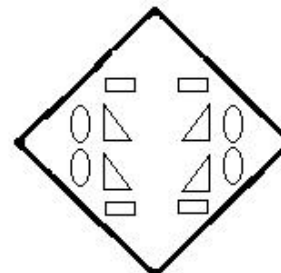
✗ 2.



✓ 3.



✗ 4.



Question ID : 65497815752  
Chosen Option : 3

**Q.4** Two statements are given followed by three conclusions numbered I, II and III. Assuming the statements to be true, even if they seem to be at variance with commonly known facts, decide which of the conclusions logically follow(s) from the statements.

**Statements:**

No pen is a pencil.  
All pencils are chalks.

**Conclusions:**

I. No chalk is a pen.  
II. No pencil is a pen.  
III. Some chalks are pencils.

- Ans**  1. Only conclusions I and II follow.  
 2. Only conclusions II and III follow.  
 3. Only conclusions I and III follow.  
 4. All of the conclusions follow.

Question ID : 65497815744

Chosen Option : 4

**Q.5** छः मित्र पश्चिम की ओर अभिमुख होकर एक पंक्ति में बैठे हैं। गौरव, मीनल के बाईं ओर तीसरे स्थान पर बैठा है। वासु और मीनल के बीच में वरुण बैठा है। पूर्वी, वरुण के दाईं ओर तीसरे स्थान पर बैठी है। ललित, मीनल के ठीक दाईं ओर पड़ोस में बैठा है। गौरव किसी एक कोने पर बैठा है। पूर्वी के ठीक बाईं ओर कौन बैठा है?

- Ans**  1. मीनल  
 2. गौरव  
 3. ललित  
 4. वासु

Question ID : 65497815745

Chosen Option : 3

**Q.6** निम्न में से कौन-सा अक्षर-समूह, दी गई श्रेणी में प्रश्नवाचक चिह्न (?) के स्थान पर आएगा?

HQMR, IRLQ, JSKP, KTJO, ?

- Ans**  1. MUJO  
 2. LUJO  
 3. LUIN  
 4. MUJN

Question ID : 65497815742

Chosen Option : 3

**Q.7** उस विकल्प का चयन करें, जो तीसरे अक्षर-समूह से ठीक उसी प्रकार संबंधित है, जिस प्रकार दूसरा अक्षर-समूह पहले अक्षर-समूह से संबंधित है।

CROP : WVYJ :: NASTY : ?

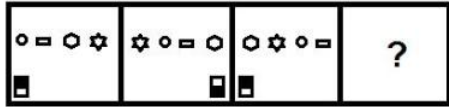
- Ans**  1. FAZKR  
 2. FAZHU  
 3. GABHV  
 4. ZABHO

Question ID : 65497815739

Chosen Option : 2

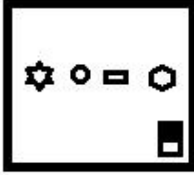


Q.8 उस विकल्प आकृति का चयन करें, जो निम्न आकृति श्रेणी में प्रश्नवाचक चिह्न (?) के स्थान पर आएगी।



Ans

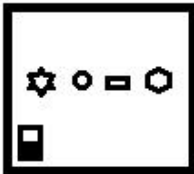
✗ 1.



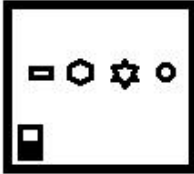
✓ 2.



✗ 3.



✗ 4.



Question ID : 65497815748  
Chosen Option : 2

Q.9 उस विकल्प का चयन करें, जो तीसरे शब्द से ठीक उसी प्रकार संबंधित है, जिस प्रकार दूसरा शब्द पहले शब्द से संबंधित है।

शिक्षक : विद्यालय :: नर्स : ?

Ans ✗ 1. सर्जरी

✓ 2. अस्पताल

✗ 3. उपचार

✗ 4. दवा

Question ID : 65497815741  
Chosen Option : 2

Q.10 किसी निश्चित कूट भाषा में, 'FRINGE' को '61891475' लिखा जाता है। उसी कूट भाषा में, 'PLEASE' को किस प्रकार लिखा जाएगा?

Ans ✗ 1. 111522119

✗ 2. 171512105

✗ 3. 161251095

✓ 4. 161251195

Question ID : 65497815737  
Chosen Option : 4



Q.11 यदि  $Q > Z = U, P = T < E, Q < D < P$  है, तो निम्न में से कौन-सा निष्कर्ष सही नहीं है?

- Ans
- 1.  $Z < T$
  - 2.  $U > T$
  - 3.  $U < D$
  - 4.  $Q > U$



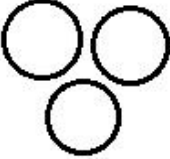

Question ID : 65497815747

Chosen Option : 1

Q.12 उस वेन-आरेख का चयन करें, जो निम्न वर्गों के बीच संबंध को सर्वोत्तम ढंग से निरूपित करता है।

पशु, मवेशी, गाय

Ans

- 1. 
- 2. 
- 3. 
- 4. 

Question ID : 65497815753

Chosen Option : 2

Q.13 दिए गए समीकरण को संतुलित करने के लिए, इनमें से किन दो संख्याओं को एक-दूसरे से प्रतिस्थापित करना होगा?

$$45 \div 5 \times 7 + 18 - 9 = 48$$

- Ans
- 1. 5 और 9
  - 2. 18 और 9
  - 3. 45 और 9
  - 4. 9 और 7

Question ID : 65497815730

Chosen Option : 1

Q.14 उस विकल्प का चयन करें, जो तीसरी संख्या से ठीक उसी प्रकार संबंधित है, जिस प्रकार दूसरी संख्या पहली संख्या से संबंधित है।

11 : 242 :: 14 : ?

- Ans
- 1. 289
  - 2. 288
  - 3. 392
  - 4. 882

Question ID : 65497815731

Chosen Option : 3

Q.15 उस विकल्प आकृति का चयन करें, जिसमें दी गई आकृति (X) उसके भाग के रूप में अन्तःस्थापित है। (घुमाने की अनुमति नहीं है)



Ans

1.



2.



3.



4.



Question ID : 65497815750

Chosen Option : 3

Q.16 निम्न में से कौन-सी संख्या, दी गई श्रेणी में प्रश्नवाचक चिह्न (?) के स्थान पर आएगी?

21, 26, 41, 76, 141, ?

- Ans
- 1. 203
  - 2. 217
  - 3. 246
  - 4. 177

Question ID : 65497815734

Chosen Option : 3

Q.17 यदि दर्पण को चित्रानुसार MN पर रखा जाए, तो दिए गए संयोजन का दर्पण में निर्मित सही प्रतिबिंब का चयन कीजिए।

d b v y f q |  
M  
N

Ans

- ✗ 1. p t γ λ q p
- ✓ 2. p t γ v d b
- ✗ 3. p t λ v q b
- ✗ 4. b t γ v d b

Question ID : 65497815751

Chosen Option : 2

Q.18 किसी निश्चित कूट भाषा में, 'POUR' को 'KLFI' लिखा जाता है। उसी कूट भाषा में, 'PROJECT' को किस प्रकार लिखा जाएगा?

- Ans ✗ 1. KILPUYG
- ✗ 2. KJLRVXH
- ✗ 3. KMBTIJR
- ✓ 4. KILQVXG

Question ID : 65497815736

Chosen Option : 4

Q.19 Two statements are given followed by two conclusions numbered I and II. Assuming the statements to be true, even if they seem to be at variance with commonly known facts, decide which of the conclusions logically follow(s) from the statements.

Statements:

All cars are buses.

Some cars are trucks.

Conclusions:

I. Some trucks are cars.

II. Some buses are trucks.

- Ans ✗ 1. Neither conclusion I nor II follows.
- ✗ 2. Only conclusion I follows.
- ✗ 3. Only conclusion II follows.
- ✓ 4. Both conclusions I and II follow.

Question ID : 65497815743

Chosen Option : 2





Q.20 उस विकल्प का चयन करें, जो तीसरे शब्द से ठीक उसी प्रकार संबंधित है, जिस प्रकार दूसरा शब्द पहले शब्द से संबंधित है।

पूरा : अधूरा :: हार : ?

- Ans  1. जीत  
 2. शोक  
 3. मंशा  
 4. प्रतिद्वंद्वी

Question ID : 65497815740  
 Chosen Option : 1

Q.21 दिए गए पैटर्न का ध्यानपूर्वक अध्ययन करें और उस संख्या का चयन करें, जो इसमें प्रश्नवाचक चिह्न (?) के स्थान पर आएगी?

28 45 22  
 20 36 ?  
 64 81 16

- Ans  1. 34  
 2. 36  
 3. 20  
 4. 18

Question ID : 65497815732  
 Chosen Option : 4

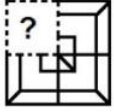
Q.22 किसी निश्चित कूट भाषा में, 'SERPENT' को 'RESPTNE' लिखा जाता है। उसी कूट भाषा में, 'CONTACT' को किस प्रकार लिखा जाएगा?

- Ans  1. MOCTTDB  
 2. CPOUBDU  
 3. NCOTTAD  
 4. NOCTTCA

Question ID : 65497815735  
 Chosen Option : 4



Q.23 उस विकल्प का चयन करें, जो पैटर्न को पूरा करने के लिए नीचे दी गई आकृति में प्रश्नवाचक चिह्न (?) के स्थान पर आएगा।



Ans

✗ 1.



✗ 2.



✓ 3.



✗ 4.



Question ID : 65497815749

Chosen Option : 3

Q.24 किसी निश्चित कूट भाषा में, 'ROSTED' को '91282054' और 'MYSTIC' को '14282093' लिखा जाता है। उसी कूट भाषा में, 'FLARED' को किस प्रकार लिखा जाएगा?

Ans ✗ 1. 2015260954

✗ 2. 6012261854

✗ 3. 2115011754

✓ 4. 2115261854

Question ID : 65497815738

Chosen Option : 4

Q.25 निम्न में से कौन-सी संख्या, दी गई श्रेणी में प्रश्नवाचक चिह्न (?) के स्थान पर आएगी?

27, 29, 32, 37, 44, 55, 68, ?

Ans ✗ 1. 71

✗ 2. 90

✓ 3. 85

✗ 4. 80

Question ID : 65497815733

Chosen Option : 3

Section : Numerical Aptitude