

**Comprehension:**

In the following passage, some words have been deleted. Fill in the blanks with the help of the alternatives given. Select the most appropriate option for each blank.

Many reports have said that, in the context (1)\_\_\_\_\_ Covid-19 lockdown, schooling and college education are likely to be online. The reports have (2)\_\_\_\_\_ pointed out that this change will deny the students the experience of studying in a physical (3)\_\_\_\_\_. This is because they can only interact with their teachers; they will miss the (4)\_\_\_\_\_ to get to know their classmates and make real friends. Thus, the current situation has (5)\_\_\_\_\_ many boys and girls and they are waiting for things to get back to normal.

**SubQuestion No : 25**

**Q.25** Select the most appropriate option to fill in blank no. 5.

- Ans  1. encouraged  
 2. discouraged  
 3. upset  
 4. supported

Question ID : **65497817430**  
 Chosen Option : 2

Section : **General Intelligence and Reasoning**

**Q.1** किसी निश्चित कूट भाषा में, 'CLASS' को 'TTBMD' लिखा जाता है। उसी कूट भाषा में, 'DINOSOUR' को किस प्रकार लिखा जाएगा?

- Ans  1. SVPTPOJE  
 2. SVPRPJKF  
 3. SXOSPOJE  
 4. SWPUPOJE

Question ID : **65497815635**  
 Chosen Option : 1

**Q.2** निम्न में से कौन-सी संख्या, दी गई श्रेणी में प्रश्नवाचक चिह्न (?) के स्थान पर आएगी?

50, 86, ?, 127, 136, 140, 141

- Ans  1. 99  
 2. 123  
 3. 111  
 4. 103

Question ID : **65497815633**  
 Chosen Option : 3

**Q.3** A, B, C, D और E पांच सेल्समैन वृत्ताकार मेज के परितः एक मीटिंग में बैठे हैं। A, E के ठीक बाईं ओर पड़ोस में बैठा है। C, B के ठीक बाईं ओर पड़ोस में बैठा है। B और A के बीच में D बैठा है। E के दाईं ओर दूसरे स्थान पर कौन बैठा है?

- Ans  1. A  
 2. D  
 3. B  
 4. C

Question ID : **65497815644**  
 Chosen Option : 3



Q.4 उस विकल्प का चयन करें, जो तीसरे शब्द से ठीक उसी प्रकार संबंधित है, जिस प्रकार दूसरा शब्द पहले शब्द से संबंधित है।

आनंददायक : सुखद :: उत्कृष्ट : ?

- Ans
- 1. उत्तम
  - 2. संपन्न
  - 3. हास्यपूर्ण
  - 4. प्रसन्न

Question ID : 65497815640  
Chosen Option : 1

Q.5 किसी निश्चित कूट भाषा में, 'FOSTER' को '36' और 'DANCE' को '25' लिखा जाता है। उसी कूट भाषा में, 'ORCHARD' को किस प्रकार लिखा जाएगा?

- Ans
- 1. 36
  - 2. 45
  - 3. 49
  - 4. 64

Question ID : 65497815636  
Chosen Option : 3

Q.6 यदि दर्पण को चित्रानुसार MN पर रखा जाए, तो दिए गए चित्र के दर्पण प्रतिबिंब का चयन कीजिए।



Ans

- 1.
- 2.
- 3.
- 4.

Question ID : 65497815650  
Chosen Option : 1

Q.7 दिए गए समीकरण को संतुलित करने के लिए, इनमें से किन दो संख्याओं को एक-दूसरे से प्रतिस्थापित करना होगा?

$$42 \div 7 \times 5 + 35 - 49 = 18$$

- Ans
- 1. 35 और 49
  - 2. 5 और 35
  - 3. 42 और 35
  - 4. 42 और 49

Question ID : 65497815629  
Chosen Option : 3

Q.8 उस विकल्प का चयन करें, जो तीसरे अक्षर-समूह से ठीक उसी प्रकार संबंधित है जिस प्रकार दूसरा अक्षर-समूह पहले अक्षर-समूह से संबंधित है।

CANVAS : DCQZFY :: LOANER : ?

- Ans
- 1. MQDSKX
  - 2. MRDRJY
  - 3. MQDRJX
  - 4. MQERJY

Question ID : 65497815638  
Chosen Option : 3

Q.9 किसी निश्चित कूट भाषा में, 'ROMAN' को 'YVTHU' लिखा जाता है। उसी कूट भाषा में, 'THING' को किस प्रकार लिखा जाएगा?

- Ans
- 1. AORSN
  - 2. APQUM
  - 3. BCPUN
  - 4. AOPUN

Question ID : 65497815634  
Chosen Option : 4

Q.10 यदि A का अर्थ 'जोड़', B का अर्थ 'गुणा', C का अर्थ 'घटाना' और D का अर्थ 'भाग' है, तो निम्न व्यंजक का मान ज्ञात करें।

$$5 B 5 B 3 A 14 C (28 D 7) A 5 B (13 C 9)$$

- Ans
- 1. 112
  - 2. 105
  - 3. 45
  - 4. 95

Question ID : 65497815628  
Chosen Option : 2



Q.11 निम्न में से कौन-सा अक्षर-समूह, दी गई श्रेणी में प्रश्नवाचक चिह्न (?) के स्थान पर आएगा?

FUV, IXW, LAX, ?, RGZ

- Ans  1. ODY  
 2. PCY  
 3. PCX  
 4. OCW

Question ID : 65497815641  
 Chosen Option : 1

Q.12 Select the option figure that is embedded in the given figure (X) as its part (rotation is NOT allowed).



(X)

- Ans  1.
- 2.
- 3.
- 4.

Question ID : 65497815649  
 Chosen Option : 3

Q.13 Two statements are given followed by three conclusions numbered I, II and III. Assuming the statements to be true, even if they seem to be at variance with commonly known facts, decide which of the conclusions logically follow(s) from the statements.

Statements:  
 Some beauticians are architects.  
 All architects are cashiers.

Conclusions:  
 I. Some architects are beauticians.  
 II. Some cashiers are architects.  
 III. Some cashiers are beauticians.

- Ans  1. Only conclusions II and III follow.  
 2. Only conclusions I and II follow.  
 3. All of the conclusions follow.  
 4. Only conclusions I and III follow.

Question ID : 65497815643  
 Chosen Option : 3

**Q.14** Two statements are given followed by two conclusions numbered I and II. Assuming the statements to be true, even if they seem to be at variance with commonly known facts, decide which of the conclusions logically follow(s) from the statements.

**Statements:**

No bowler is a batsman.  
Some bowlers are fielders.

**Conclusions:**

I. No fielder is a batsman.  
II. No batsman is a bowler.

- Ans**  1. Both conclusions I and II follow.  
 2. Only conclusion I follows.  
 3. Only conclusion II follows.  
 4. Neither conclusion I nor II follows.

Question ID : 65497815642

Chosen Option : 3

**Q.15** P, Q, R, S, T, U, V और W आठ मित्र दो पंक्तियों में बैठे हैं। प्रत्येक पंक्ति में चार मित्र बैठे हैं। दोनों पंक्तियाँ उत्तर की ओर अभिमुख हैं। पिछली पंक्ति के चार व्यक्ति, आगे वाली पंक्ति के चार व्यक्तियों के ठीक पीछे बैठे हैं। T और W के बीच में P बैठा है। Q, T के ठीक पीछे बैठा है। Q, जो कि S के ठीक बाईं ओर पड़ोस में बैठा है, वह पिछली पंक्ति में एक कोने पर बैठा है। S और U के बीच में R बैठा है। P और V के बीच में कौन बैठा है?

- Ans**  1. W  
 2. U  
 3. S  
 4. T

Question ID : 65497815645

Chosen Option : 1

**Q.16** निम्न में से कौन-सी संख्या, दी गई श्रेणी में प्रश्नवाचक चिह्न (?) के स्थान पर आएगी?

11, 22, 25, ?, 105, 630

- Ans**  1. 55  
 2. 29  
 3. 75  
 4. 100

Question ID : 65497815632

Chosen Option : 4



**Q.17** उस विकल्प का चयन करें, जो पैटर्न को पूरा करने के लिए नीचे दी गई आकृति में प्रश्नवाचक चिह्न (?) के स्थान पर आएगा।



Ans

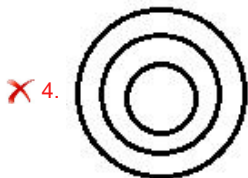
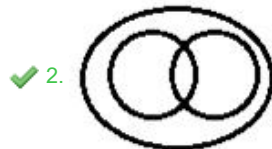
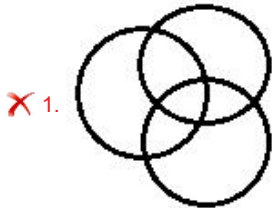


Question ID : 65497815648  
Chosen Option : 4

**Q.18** Select the Venn diagram that best illustrates the relationship between the following classes.

Females, Mothers, Sisters

Ans



Question ID : 65497815652  
Chosen Option : 2

Q.19 दिए गए पैटर्न का ध्यानपूर्वक अध्ययन करें और उस संख्या का चयन करें, जो इसमें प्रश्रवाचक चिह्न (?) के स्थान पर आएगी?

25 24 122  
31 27 143  
35 29 ?

- Ans  1. 222  
 2. 114  
 3. 197  
 4. 157

Question ID : 65497815631  
Chosen Option : 4

Q.20 यदि  $T > H > K > L$  और  $V < K > Z = B$  है, तो निम्न में से कौन-सा निष्कर्ष सही नहीं है?

- Ans  1.  $K = B$   
 2.  $V < T$   
 3.  $T > L$   
 4.  $H > Z$

Question ID : 65497815646  
Chosen Option : 1

Q.21 उस विकल्प का चयन करें, जो तीसरे शब्द से ठीक उसी प्रकार संबंधित है, जिस प्रकार दूसरा शब्द पहले शब्द से संबंधित है।

रूपया : मुद्रा :: गर्मी : ?

- Ans  1. तापमान  
 2. आर्द्रता  
 3. मौसम  
 4. ऊष्मा

Question ID : 65497815639  
Chosen Option : 3

Q.22 उस विकल्प का चयन करें, जो तीसरी संख्या से ठीक उसी प्रकार संबंधित है, जिस प्रकार दूसरी संख्या पहली संख्या से संबंधित है।

6 : 85 :: 12 : ?

- Ans  1. 313  
 2. 346  
 3. 210  
 4. 301

Question ID : 65497815630  
Chosen Option : 2

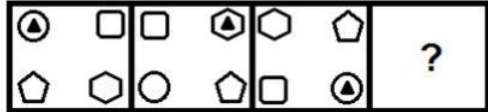


Q.23 किसी निश्चित कूट भाषा में, 'HOUSE' को '81261922' और 'INK' को '181411' लिखा जाता है। उसी कूट भाषा में, 'MISTAKE' को किस प्रकार लिखा जाएगा?

- Ans
- ✗ 1. 14901920261222
  - ✓ 2. 13181920261122
  - ✗ 3. 13181819261105
  - ✗ 4. 13091920011122

Question ID : 65497815637  
Chosen Option : 2

Q.24 उस आकृति का चयन करें, जो निम्न आकृति श्रेणी में प्रश्नवाचक चिह्न (?) के स्थान पर आएगी।



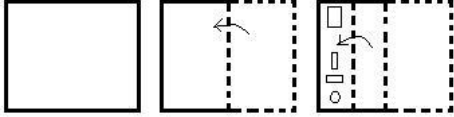
Ans

- ✓ 1.
- ✗ 2.
- ✗ 3.
- ✗ 4.

Question ID : 65497815647  
Chosen Option : 1

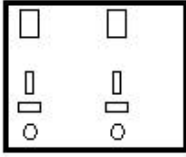


Q.25 एक कागज को निम्नानुसार मोड़ा और काटा गया है। इसे खोलने पर यह कैसा दिखेगा?

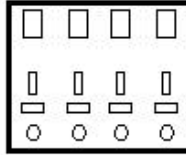


Ans

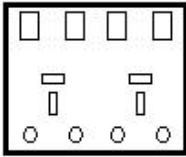
✗ 1.



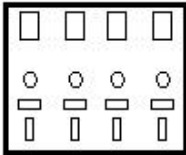
✓ 2.



✗ 3.



✗ 4.



Question ID : 65497815651

Chosen Option : 2

Section : Numerical Aptitude

Q.1 एक वस्तु 18% की हानि पर बेची गई। यदि उसे ₹2,475 अधिक में बेचा जाता, तो 12% लाभ हुआ होता। वस्तु का क्रय मूल्य ज्ञात कीजिए।

Ans ✗ 1. ₹8,200

✗ 2. ₹8,000

✓ 3. ₹8,250

✗ 4. ₹8,500

Question ID : 65497816167

Chosen Option : 3