

Q.1 गणितीय चिह्नों के उस सही क्रम का चयन करें, जिससे A, B, C, D और E को क्रमिक रूप से प्रतिस्थापित करने पर दिया गया समीकरण संतुलित हो जाएगा।

$$38 A 56 B 8 C 15 D (36 E 28) = 151$$

- Ans
- 1. + + x - +
  - 2. - + + x -
  - 3. - x + + -
  - 4. x - + + -

Question ID : 65497814619

Chosen Option : 2

Q.2 यदि किसी निश्चित कूट भाषा में, HOUSE को 340 के रूप में और FOETUS को 516 के रूप में कूटबद्ध किया जाता है, तो उसी कूट भाषा में, CONSENT को किस रूप में कूटबद्ध किया जाएगा?

- Ans
- 1. 455
  - 2. 360
  - 3. 630
  - 4. 542

Question ID : 65497814627

Chosen Option : 3

Q.3 V, W, X, Y और Z पांच व्यक्ति, गोल मेज के परितः इसके केंद्र की ओर अभिमुख होकर बैठे हैं। V उस W के दाईं ओर दूसरे स्थान पर बैठा है, जो कि X के दाईं ओर दूसरे स्थान पर बैठा है। यदि Y, X के संलग्न बैठा है, तो V के बाईं ओर पड़ोस में कौन बैठा है?

- Ans
- 1. W
  - 2. Y
  - 3. Z
  - 4. X

Question ID : 65497814634

Chosen Option : 4

Q.4 जिस प्रकार 'युवा', 'आयु' से संबंधित है, उसी प्रकार 'अल्प', '\_\_\_\_\_' से संबंधित है।

- Ans
- 1. रेलगाड़ी
  - 2. छोटा
  - 3. वर्षा
  - 4. अवधि

Question ID : 65497814630

Chosen Option : 4



Download SSC CGL, CHSL E-BOOKS

[CLICK HERE](#)

Q.5 दो कथनों के बाद दो निष्कर्ष I और II दिए गए हैं। कथनों को सत्य मानते हुए, भले ही ये सामान्य रूप से ज्ञात तथ्यों से भिन्न प्रतीत होते हों, निर्धारित करें कि कौन सा/से निष्कर्ष कथनों का तार्किक रूप से अनुसरण करता/करते है/हैं।

कथन:

सभी चील, पतंग हैं।  
सभी पतंग, गौरैया हैं।

निष्कर्ष:

I. सभी गौरैया, चील हैं।  
II. सभी चील, गौरैया हैं।

- Ans  1. न तो निष्कर्ष I न ही II अनुसरण करता है।  
 2. केवल निष्कर्ष II अनुसरण करता है।  
 3. निष्कर्ष I और II दोनों अनुसरण करते हैं।  
 4. केवल निष्कर्ष I अनुसरण करता है।

Question ID : 65497814632

Chosen Option : 2

Q.6 किसी कूट भाषा में, 12345 को 182764125 के रूप में कूटबद्ध किया जाता है। इसी भाषा में, 65428 को किस रूप में कूटबद्ध किया जाएगा?

- Ans  1. 216125747512  
 2. 21512463511  
 3. 149016025  
 4. 216125648512

Question ID : 65497814620

Chosen Option : 4

Q.7 विकल्पों में से कौन-सी संख्या, निम्न संख्या श्रेणी में प्रश्नवाचक चिह्न (?) के स्थान पर आएगी?

2, 12, 30, 56, 90, 132, ?

- Ans  1. 180  
 2. 184  
 3. 182  
 4. 186

Question ID : 65497814623

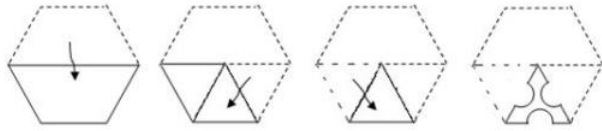
Chosen Option : 3



Download SSC CGL, CHSL E-BOOKS

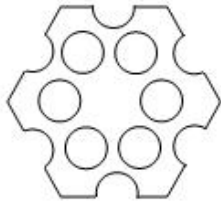
[CLICK HERE](#)

Q.8 एक कागज़ को निम्न आकृति के अनुसार मोड़ा और काटा गया है। यह कागज़ खोलने पर कैसा दिखेगा?




Ans


✓ 1.



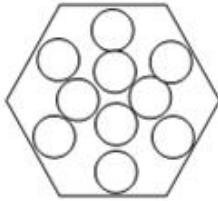
✗ 2.



✗ 3.



✗ 4.



Question ID : 65497814641  
Chosen Option : 1

Q.9 विकल्पों में से कौन-सी संख्या, निम्न संख्या श्रेणी में प्रश्नवाचक चिह्न (?) के स्थान पर आएगी?

86, 74, 84, 76, ?, 78, 80

Ans ✓ 1. 82

✗ 2. 84

✗ 3. 78

✗ 4. 80

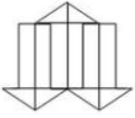
Question ID : 65497814622  
Chosen Option : 1



Download SSC CGL, CHSL E-BOOKS

CLICK HERE

Q.10 उस विकल्प आकृति का चयन करें, जो निम्न आकृति में अन्तःस्थापित है। (घुमाने की अनुमति नहीं है)



Ans

✓ 1.



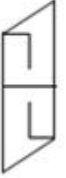
✗ 2.



✗ 3.



✗ 4.



Question ID : 65497814639

Chosen Option : 4



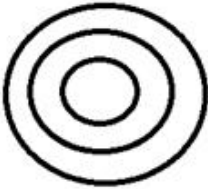



Download SSC CGL, CHSL E-BOOKS

[CLICK HERE](#)

Q.11 उस वेन-आरेख का चयन करें, जो निम्न वर्गों के बीच संबंध को सर्वोत्तम ढंग से निरूपित करता है।

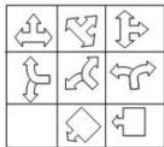
ग्रामीण व्यक्ति, शिक्षित व्यक्ति, बुद्धिमान व्यक्ति

Ans





- ✗ 1. 
- ✗ 2. 
- ✗ 3. 
- ✓ 4. 

Question ID : 65497814642  
Chosen Option : 4

Q.12 उस विकल्प आकृति का चयन करें, जिसको दी गई प्रश्न आकृति के रिक्त स्थान में रखने पर पैटर्न पूरा हो जाएगा।



Ans

- ✗ 1. 
- ✗ 2. 
- ✗ 3. 
- ✓ 4. 

Question ID : 65497814638  
Chosen Option : 4

Q.13 दिए गए पैटर्न का ध्यान से अध्ययन करें और उस संख्या का चयन करें जो प्रश्न चिन्ह (?) के स्थान पर आ सकती है।

9 7 79  
7 8 71  
6 9 ?

- Ans  1. 69  
 2. 71  
 3. 74  
 4. 66

Question ID : 65497814621

Chosen Option : 1

Q.14 बैंकिंग प्रणाली, गुणता चक्र, कार्य प्रोत्साहन, निर्णय लेने की क्षमता, समसामयिक विषयों और व्यक्तित्व विकास से संबंधित छः विशेष व्याख्यानो का आयोजन करना है। नीचे दिए गए विवरण के अनुसार, सोमवार से रविवार तक प्रत्येक दिन एक व्याख्यान आयोजित करना है:

1. 'कार्य प्रोत्साहन' का आयोजन 'निर्णय लेने की क्षमता' के तुरंत बाद किया जाना चाहिए।
2. 'गुणता चक्र' का आयोजन बुधवार को करना है और 'व्यक्तित्व विकास' के बाद नहीं किया जाना चाहिए।
3. 'निर्णय लेने की क्षमता' का आयोजन शुक्रवार को करना है और 'बैंकिंग प्रणाली' और 'समसामयिक विषयों' के बीच दो दिन का अंतराल होना चाहिए।
4. एक दिन, शनिवार के अलावा, कोई व्याख्यान नहीं होगा। 'समसामयिक विषयों' का आयोजन छुट्टी के पिछले दिन होना चाहिए।

पहले दिन (सोमवार) कौन-सा व्याख्यान आयोजित होगा?

- Ans  1. समसामयिक विषय  
 2. कार्य प्रोत्साहन  
 3. बैंकिंग प्रणाली  
 4. व्यक्तित्व विकास

Question ID : 65497814636

Chosen Option : --

Q.15 विकल्पों में से कौन-सा अक्षर-समूह, निम्न अक्षर श्रेणी में प्रश्नवाचक चिह्न (?) के स्थान पर आएगा?

GJM, QTW, ADG, ?

- Ans  1. KOR  
 2. JMP  
 3. JNR  
 4. KNQ

Question ID : 65497814631

Chosen Option : 4



Download SSC CGL, CHSL E-BOOKS

CLICK HERE

Q.16 किसी निश्चित कूट भाषा में, यदि FINALIZE को JKRCPKDG लिखा जाता है, तो उसी कूट भाषा में, INSIGNIA को क्या लिखा जाएगा?

- Ans  1. KRWKRRKC  
 2. GRWGKRGY  
 3. MRWMKRMG  
 4. MPTMIPMG

Question ID : 65497814625

Chosen Option : 1

Q.17 दो कथनों के बाद तीन निष्कर्ष I, II और III दिए गए हैं। कथनों को सत्य मानते हुए, भले ही ये सामान्य रूप से ज्ञात तथ्यों से भिन्न प्रतीत होते हों, निर्धारित करें कि कौन सा/से निष्कर्ष कथनों का तार्किक रूप से अनुसरण करता/करते है/हैं।

कथन:

सभी टॉम, जैरी हैं।  
कुछ जैरी, मिकी हैं।

निष्कर्ष:

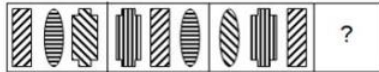
- I. कुछ टॉम, मिकी हैं।  
 II. कुछ टॉम, मिकी नहीं हैं।  
 III. कुछ जैरी, टॉम हैं।

- Ans  1. निष्कर्ष II और III दोनों अनुसरण करते हैं।  
 2. केवल निष्कर्ष I अनुसरण करता है।  
 3. केवल निष्कर्ष III अनुसरण करता है।  
 4. केवल निष्कर्ष II अनुसरण करता है।

Question ID : 65497814633

Chosen Option : 3

Q.18 उस विकल्प आकृति का चयन करें, जो निम्न आकृति श्रेणी में प्रश्नवाचक चिह्न (?) के स्थान पर आएगी।



Ans

- 1.
- 2.
- 3.
- 4.

Question ID : 65497814637

Chosen Option : 1



Download SSC CGL, CHSL E-BOOKS

[CLICK HERE](#)

Q.19 यदि दर्पण को आकृति के दाईं ओर रखा गया हो, तो दी गई आकृति के सही दर्पण प्रतिबिंब का चयन करें।

Ù&Á?FS

- Ans
- 1. ZLjV8Q
  - 2. SF?Á&Ù
  - 3. SJèV8Q
  - 4. ZF?À&Ú

Question ID : 65497814640

Chosen Option : 4

Q.20 आठ छात्र दो बेंच पर बैठे हैं जिनमें से L, M, N, O सामने वाले बेंच पर बैठे हैं और P, Q, R, S अगले बेंच पर बैठे हैं, लेकिन वे इस क्रम में नहीं बैठे हैं। Q, M के ठीक पीछे बैठा है, जो कि सबसे दाईं ओर बैठा है। O और P तथा L और S विकर्णतः तिरछी स्थिति में एक-दूसरे के निकट बैठे हैं, S सबसे बाईं ओर बैठा है। N की बैठने की स्थिति बताइए।

- Ans
- 1. R के ठीक सामने
  - 2. R से विकर्णतः
  - 3. O के दाईं ओर
  - 4. L के बाईं ओर

Question ID : 65497814635

Chosen Option : 1

Q.21 उस विकल्प का चयन करें, जो तीसरे अक्षर-समूह से ठीक उसी प्रकार संबंधित है, जिस प्रकार दूसरा अक्षर-समूह पहले अक्षर-समूह से संबंधित है।

ORGANZA : LJTAMBZ :: TEMPLATE : ?

- Ans
- 1. QBJMIXQB
  - 2. GWNLOAGW
  - 3. FFNQMZHV
  - 4. GFMQLZGV

Question ID : 65497814628

Chosen Option : 2

Q.22 इनमें से कौन-से दो अंकों को आपस में बदली करने से दिया गया समीकरण संतुलित हो जाएगा?

$$76 + 108 \div 9 - 11 \times 2 = 18$$

- Ans
- 1. 1 और 7
  - 2. 2 और 7
  - 3. 6 और 2
  - 4. 8 और 7

Question ID : 65497814618

Chosen Option : 3



Download SSC CGL, CHSL E-BOOKS

[CLICK HERE](#)



Q.23 किसी निश्चित कूट भाषा में, यदि HARIDWAR को FCPKBYT लिखा जाता है, तो उसी कूट भाषा में, BIKANER को क्या लिखा जाएगा?

- Ans  1. AGIALCP  
 2. ZKICLGP  
 3. DKMCPGT  
 4. KIBNARE

Question ID : 65497814624  
Chosen Option : 2

Q.24 यदि किसी निश्चित कूट भाषा में, ORATORY को 116 के रूप में और RAVENOUS को 119 के रूप में कूटबद्ध किया जाता है, तो उसी कूट भाषा में, IRIDOLOGY को किस रूप में कूटबद्ध किया जाएगा?

- Ans  1. 118  
 2. 116  
 3. 110  
 4. 114

Question ID : 65497814626  
Chosen Option : 3

Q.25 उस विकल्प का चयन करें, जो तीसरे शब्द से ठीक उसी प्रकार संबंधित है, जिस प्रकार दूसरा शब्द पहले शब्द से संबंधित है।

कोहिमा : नागालैंड :: शिलांग : ?

- Ans  1. मेघालय  
 2. उड़ीसा  
 3. सिक्किम  
 4. असम

Question ID : 65497814629  
Chosen Option : 1

Section : Numerical Aptitude

Q.1 यदि 180 का  $x\%$ ,  $(x + 350)$  से 25% कम है, तो  $(x + 50)$  का 18%,  $x$  के 12% से कितने प्रतिशत अधिक होगा?

- Ans  1. 80  
 2. 72  
 3. 60  
 4. 75

Question ID : 65497814650  
Chosen Option : 4



Download SSC CGL, CHSL E-BOOKS

[CLICK HERE](#)