

**Comprehension:**

In the following passage some words have been deleted. Fill in the blanks with the help of the alternatives given. Select the most appropriate option for each blank.

Time is very precious and must not be wasted on petty matters that have (1)\_\_\_\_\_ value in our lives. People keep money in safes but time (2)\_\_\_\_\_ be saved in this way. Time can be saved and utilized only by being alert, (3)\_\_\_\_\_ it very carefully and being conscious of its passage. People who made the right use of time by not wasting it on worldly (4)\_\_\_\_\_ and spent it on understanding the true nature of life and its purpose have left us with a (5)\_\_\_\_\_ collection of religious books and wise thoughts.

**SubQuestion No : 25**

**Q.25** Select the most appropriate option to fill in blank number 5.

- Ans**  1. richer  
 2. richest  
 3. rich  
 4. too rich

Question ID : **65497815309**  
 Chosen Option : 3

**Section : General Intelligence and Reasoning**

**Q.1** दो कथन और उसके बाद दो निष्कर्ष I और II दिए गए हैं। यह मानते हुए कि कथन सत्य हैं, भले ही वे सामान्य रूप से ज्ञात तथ्यों से भिन्न प्रतीत होते हों, बताएं कि कौन सा/से निष्कर्ष दिए गए कथनों का तार्किक रूप से अनुसरण करता है/करते हैं?

**कथन:**

सभी मशीनें, रेफ्रिजरेटर हैं।  
 सभी रेफ्रिजरेटर, गीजर हैं।

**निष्कर्ष:**

- I. कुछ मशीनें, गीजर नहीं हैं।  
 II. कुछ गीजर, मशीनें हैं।

- Ans**  1. केवल निष्कर्ष I अनुसरण करता है।  
 2. न तो निष्कर्ष I और न ही II अनुसरण करता है।  
 3. केवल निष्कर्ष II अनुसरण करता है।  
 4. निष्कर्ष I और II दोनों अनुसरण करते हैं।

Question ID : **65497815541**  
 Chosen Option : 3



**Download SSC CGL, CHSL E-BOOKS**

[CLICK HERE](#)

Q.2 यदि दर्पण को चित्रानुसार MN पर रखा जाए, तो दिए गए संयोजन का दर्पण में निर्मित सही प्रतिबिंब का चयन कीजिए।




Ans

1. R t 4 P u G  
 2. R t 4 P u G  
 3. R t 4 P u G  
 4. R t 4 P u G

Question ID : 65497815549

Chosen Option : 2

Q.3 वर्गों के उस समुच्चय का चयन करें, जिनके बीच संबंध को निम्न वेन आरेख द्वारा सर्वोत्तम ढंग से निरूपित किया गया है।



Ans

1. मोटर साइकिल, वाहन, स्कूटर  
 2. कार, बस, साइकिल  
 3. मसाले, जीरा, धातु  
 4. गन्ना, फल, दूध

Question ID : 65497815551

Chosen Option : 1

Q.4 विकल्पों में से कौन-सी संख्या, दी गई श्रेणी में प्रश्नवाचक चिह्न (?) के स्थान पर आएगी?

55, 68, 82, ?, 113, 130

Ans

1. 97  
 2. 104  
 3. 94  
 4. 90

Question ID : 65497815531

Chosen Option : 1



Download SSC CGL, CHSL E-BOOKS

[CLICK HERE](#)

Q.5 विनीता, अनीता, प्रीति और कुंजन एक वर्गाकार मेज के चारों ओर केंद्राभिमुख होकर भोजन कर रही हैं। प्रत्येक सहेली चार साइड में से एक साइड के मध्य में बैठी है। कुंजन, अनीता के बाईं ओर बैठी है। प्रीति, विनीता के दाईं ओर बैठी है। कुंजन के बाईं ओर कौन बैठी है?

- Ans  1. प्रीति  
 2. अनीता  
 3. या तो विनीता या अनीता  
 4. विनीता

Question ID : 65497815543  
 Chosen Option : 1

Q.6 निम्न में से कौन-सा अक्षर-समूह दी गई श्रेणी में प्रश्नवाचक चिह्न (?) के स्थान पर आएगा?

YTM, AQQ, CNU, ?, GHC

- Ans  1. ELZ  
 2. DLY  
 3. EKX  
 4. EKY

Question ID : 65497815540  
 Chosen Option : 4

Q.7 उस विकल्प का चयन करें, जो तीसरे अक्षर-समूह से ठीक उसी प्रकार संबंधित है, जिस प्रकार दूसरा अक्षर-समूह पहले अक्षर-समूह से संबंधित है।

PRANIC : SQOBDJ :: SORBID : ?

- Ans  1. PTCSEJ  
 2. QTCRFJ  
 3. PUCTEJ  
 4. PTNSEK

Question ID : 65497815537  
 Chosen Option : 1

Q.8 दिए गए पैटर्न का ध्यानपूर्वक अध्ययन करें और उस संख्या का चयन करें, जो इसमें प्रश्नवाचक चिह्न (?) के स्थान पर आएगी?

445 285 80  
 550 332 109  
 655 441 ?

- Ans  1. 107  
 2. 147  
 3. 129  
 4. 90

Question ID : 65497815530  
 Chosen Option : 1



Download SSC CGL, CHSL E-BOOKS

[CLICK HERE](#)

Q.9 किसी निश्चित कूट भाषा में, 'PLANT' को 'OJXJO' लिखा जाता है। उसी कूट भाषा में 'FORTE' को किस प्रकार लिखा जाएगा?

- Ans  1. EMOPZ  
 2. ELNPZ  
 3. ENPPZ  
 4. EMOQY

Question ID : 65497815533  
 Chosen Option : 1

Q.10 Two statements are given followed by three conclusions numbered I, II and III. Assuming the statements to be true, even if they seem to be at variance with commonly known facts, decide which of the conclusions logically follow(s) from the statements.

Statements:

All pigeons are crows.  
 No crow is a bird.

Conclusions:

- I. Some crows are pigeons.  
 II. Some pigeons are birds.  
 III. No pigeon is a bird.

- Ans  1. Only conclusions I and III follow.  
 2. Either conclusion II or III follows.  
 3. Only conclusions II and III follow.  
 4. Only conclusions I and II follow.

Question ID : 65497815542  
 Chosen Option : 1

Q.11 दिए गए समीकरण को संतुलित करने के लिए, इनमें से किन दो चिह्नों को एक-दूसरे से प्रतिस्थापित करना होगा?

$$32 + 14 \times 3 - 91 \div 7 = 3$$

- Ans  1. + और -  
 2. + और ×  
 3. + और ×  
 4. + और ×

Question ID : 65497815527  
 Chosen Option : 1

Q.12 किसी निश्चित कूट भाषा में, 'DOSIER' को 'DEIORS' और 'LOGIC' को 'CGILO' लिखा जाता है। उसी कूट भाषा में 'CORTEX' को किस प्रकार लिखा जाएगा?

- Ans  1. DPSUFY  
 2. ECROXT  
 3. CEORTX  
 4. CEROXT

Question ID : 65497815534  
 Chosen Option : 3



Download SSC CGL, CHSL E-BOOKS

CLICK HERE

Q.13 G, H, M, J, K और L छह मित्र उत्तर की ओर अभिमुख होकर सीधी रेखा में बैठे हैं। L और H के बीच G बैठा है। H, M के दाईं ओर चौथे स्थान पर बैठा है। K, H के दाईं ओर पड़ोस में बैठा है। L और M के बीच कौन बैठा है?

Ans  1. G

2. J

3. H

4. K

Question ID : 65497815544

Chosen Option : 2

Q.14 उस विकल्प का चयन करें, जो तीसरे शब्द से ठीक उसी प्रकार संबंधित है, जिस प्रकार दूसरा शब्द पहले शब्द से संबंधित है।

गुड़हल : फूल :: पेंगुइन : ?

Ans  1. पक्षी

2. काला

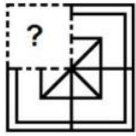
3. बर्फ

4. सरीसृप

Question ID : 65497815539

Chosen Option : 1

Q.15 उस विकल्प आकृति का चयन करें, जो पैटर्न को पूरा करने के लिए नीचे दी गई आकृति में प्रश्नवाचक (?) के स्थान पर आएगी।



Ans

1.



2.



3.



4.



Question ID : 65497815547

Chosen Option : 1



Download SSC CGL, CHSL E-BOOKS

[CLICK HERE](#)

Q.16 किसी निश्चित कूट भाषा में, 'BOXER' को '251224229' लिखा जाता है। उसी कूट भाषा में 'PULLY' को किस प्रकार लिखा जाएगा?

- Ans  1. 16211212  
 2. 11612152  
 3. 16615158  
 4. 11615152

Question ID : 65497815535  
 Chosen Option : 2

Q.17 किसी निश्चित कूट भाषा में, 'WORSHIP' को '23418198316' और 'ROAD' को '18414' लिखा जाता है। उसी कूट भाषा में 'REDUCE' को किस प्रकार लिखा जाएगा?

- Ans  1. 9546035  
 2. 1824532  
 3. 1854735  
 4. 1823132

Question ID : 65497815536  
 Chosen Option : 2

Q.18 उस विकल्प का चयन करें, जो तीसरी संख्या से ठीक उसी प्रकार संबंधित है, जिस प्रकार दूसरी संख्या पहली संख्या से संबंधित है।

20 : 421 :: 18 : ?

- Ans  1. 289  
 2. 389  
 3. 305  
 4. 343

Question ID : 65497815529  
 Chosen Option : 4

Q.19 विकल्पों में से कौन-सी संख्या, दी गई श्रेणी में प्रश्नवाचक चिह्न (?) के स्थान पर आएगी?

68, 77, 89, 105, ?, 153

- Ans  1. 120  
 2. 130  
 3. 126  
 4. 141

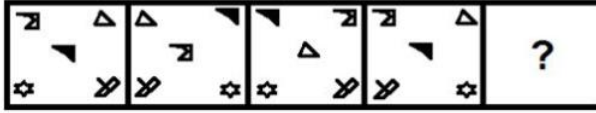
Question ID : 65497815532  
 Chosen Option : 3



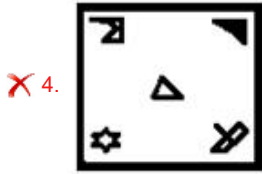
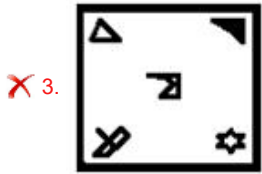
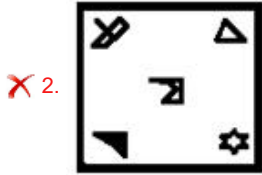
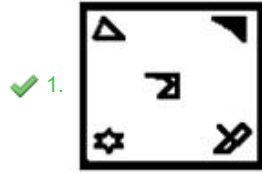
Download SSC CGL, CHSL E-BOOKS

[CLICK HERE](#)

Q.20 उस विकल्प का चयन करें, जो निम्न आकृति श्रेणी में प्रश्नवाचक चिह्न (?) के स्थान पर आएगा।



Ans



Question ID : 65497815546

Chosen Option : 1

Q.21 दिए गए समीकरण को संतुलित करने के लिए, इनमें से किन दो संख्याओं को एक-दूसरे से प्रतिस्थापित करना होगा?

$$72 + 63 \div 9 \times 5 - 36 = 67$$

Ans ✗ 1. 72 और 36

✗ 2. 63 और 36

✓ 3. 63 और 72

✗ 4. 5 और 36

Question ID : 65497815528

Chosen Option : 3



Download SSC CGL, CHSL E-BOOKS

[CLICK HERE](#)

**Q.22** उस विकल्प आकृति का चयन करें, जिसमें दी गई आकृति (X) उसके भाग के रूप में अन्तःस्थापित है। (घुमाने की अनुमति नहीं है)



(X)

Ans

✗ 1.



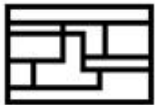
✗ 2.



✓ 3.



✗ 4.



Question ID : 65497815548

Chosen Option : 3

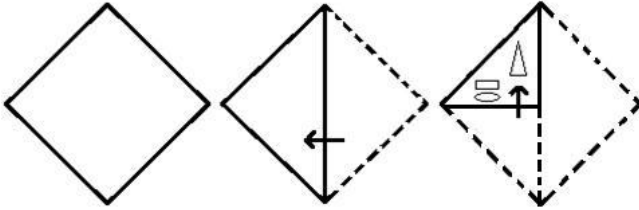


Download SSC CGL, CHSL E-BOOKS

[CLICK HERE](#)

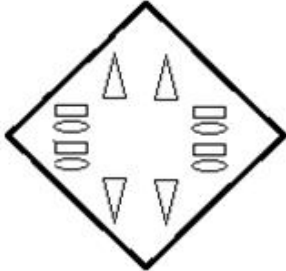


Q.23 एक कागज को निम्नानुसार मोड़ा और काटा गया है। इसे खोलने पर यह कैसा दिखेगा?

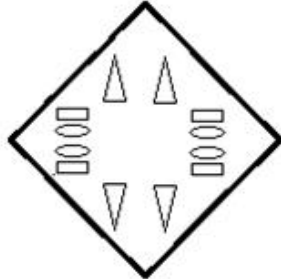


Ans

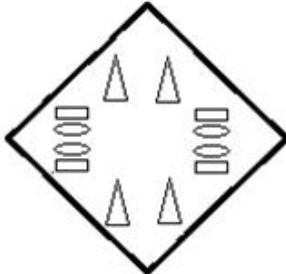
✗ 1.



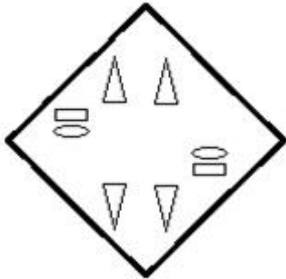
✓ 2.



✗ 3.



✗ 4.



Question ID : 65497815550  
Chosen Option : 2

Q.24 उस विकल्प का चयन करें, जो तीसरे शब्द से ठीक उसी प्रकार संबंधित है, जिस प्रकार दूसरा शब्द पहले शब्द से संबंधित है।

आलसी : परिश्रमी :: धनी : ?

- Ans
- 1. धन
  - 2. दुखी
  - 3. अमीर
  - 4. कंगाल

Question ID : 65497815538  
Chosen Option : 4

Q.25 P, Q, R, S और T पांच लोहे की गेंदों में से, Q का वजन 5 kg है, जो कि P के वजन से दोगुना है। S का वजन T के वजन से आधा है। R का वजन P और Q दोनों के कुल वजन के बराबर है। T का वजन R के वजन से चार गुना है। S का वजन कितना है?

- Ans
- 1. 15 kg
  - 2. 30 kg
  - 3. 7.5 kg
  - 4. 10 kg

Question ID : 65497815545  
Chosen Option : 1

Section : Numerical Aptitude

Q.1 A और B विलयन में अम्ल और जल का अनुपात क्रमशः 2 : 7 और 4 : 5 है। इन विलयनों को 4 : 3 के अनुपात में मिश्रित किया जाता है। परिणामी विलयन में अम्ल और जल का अनुपात ज्ञात करें।

- Ans
- 1. 21 : 40
  - 2. 20 : 43
  - 3. 23 : 40
  - 4. 25 : 21

Question ID : 65497814554  
Chosen Option : 2

Q.2  $\frac{5}{8} \div \left( \frac{8}{11} \times 2\frac{3}{4} \div \frac{4}{9} \right) + 5\frac{1}{3} \div \left( 5\frac{1}{4} \div \frac{3}{8} \times \frac{3}{7} \right)$  of  $1\frac{7}{9}$  का मान ज्ञात करें।

- Ans
- 1.  $\frac{1}{4}$
  - 2.  $\frac{23}{36}$
  - 3.  $\frac{5}{18}$
  - 4.  $\frac{1}{2}$

Question ID : 65497814544  
Chosen Option : 2



Download SSC CGL, CHSL E-BOOKS

[CLICK HERE](#)