

Comprehension:

In the following passage some words have been deleted. Fill in the blanks with the help of the alternatives given. Select the most appropriate option for each blank.

The judge, in a solemn manner, declared (1)_____ there was enough evidence to (2)_____ that Max had indeed (3)_____ his neighbour's cat. This was a (4)_____ crime and deserved an (5)_____ punishment.

SubQuestion No : 24

Q.24 Select the most appropriate option to fill in blank no. 4.

- Ans 1. sober
 2. serious
 3. steady
 4. stern

Question ID : 65497815813
 Chosen Option : 2

Comprehension:

In the following passage some words have been deleted. Fill in the blanks with the help of the alternatives given. Select the most appropriate option for each blank.

The judge, in a solemn manner, declared (1)_____ there was enough evidence to (2)_____ that Max had indeed (3)_____ his neighbour's cat. This was a (4)_____ crime and deserved an (5)_____ punishment.

SubQuestion No : 25

Q.25 Select the most appropriate option to fill in blank no. 5.

- Ans 1. improper
 2. invisible
 3. anxious
 4. appropriate

Question ID : 65497815814
 Chosen Option : 4

Section : General Intelligence and Reasoning

Q.1 गणितीय चिह्नों के उस सही क्रम का चयन करें, जिन्हें क्रमिक रूप से * के स्थान पर रखने पर समीकरण संतुलित हो जाएगा।

$$92*4*36*13*9=104$$

- Ans 1. + - + ×
 2. ÷ - + ×
 3. × + + -
 4. - ÷ × +

Question ID : 65497814316
 Chosen Option : 2



Download SSC CGL, CHSL E-BOOKS

[CLICK HERE](#)

Q.2 कौन-सी संख्या निम्न श्रेणी में प्रश्नवाचक चिह्न (?) के स्थान पर होगी?

11, 13, 16, 26, 41, 67, 102, ?

- Ans
- 1. 125
 - 2. 215
 - 3. 251
 - 4. 152

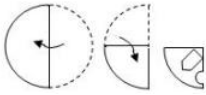
Question ID : 65497814317
Chosen Option : 4

Q.3 47 व्यक्तियों वाली पंक्ति में, X, आगे से 14वें स्थान पर है जबकि Y पीछे से 17वें स्थान पर है। यदि वे अपने स्थानों को एक-दूसरे से बदल लेते हैं, तो Y पीछे से 34वें स्थान पर आ जाता है, तो X आगे से किस स्थान पर होगा?

- Ans
- 1. 29
 - 2. 30
 - 3. 31
 - 4. 32

Question ID : 65497814331
Chosen Option : --

Q.4 एक कागज़ को निम्न आकृतियों के अनुसार मोड़ा और काटा जाता है। खोलने पर यह कागज़ कैसा दिखेगा?



Ans

- 1.
- 2.
- 3.
- 4.

Question ID : 65497814338
Chosen Option : 3



Download SSC CGL, CHSL E-BOOKS

[CLICK HERE](#)

Q.5 किसी कक्षा में छह छात्र इंटरैक्टिव बोर्ड की ओर अभिमुख होकर बेंच पर बैठे हैं। A, B के दाईं ओर दूसरे स्थान पर बैठा है, जबकि F, E के दाईं ओर दूसरे स्थान पर बैठा है, यदि C, A के दाईं ओर दूसरे स्थान पर बैठा है, तो F के स्थान से D के बैठने की स्थिति क्या है?

- Ans 1. दाईं ओर दूसरा
 2. बाईं ओर पड़ोस में
 3. बाईं ओर दूसरा
 4. दाईं ओर तीसरा

Question ID : 65497814332
 Chosen Option : 1

Q.6 निम्न अक्षर-श्रेणी में प्रश्नवाचक चिह्न (?) के स्थान पर कौन-सा अक्षर-समूह आएगा?

TPM, IEB, XTQ, ?

- Ans 1. MIF
 2. NJG
 3. MIE
 4. NJF

Question ID : 65497814328
 Chosen Option : 1

Q.7 यदि किसी निश्चित कूट भाषा में, STAMINA को 74 के रूप में और OCTOBER को 75 के रूप में कूटबद्ध किया जाता है, तो उसी कूट भाषा में IMPOSING को किस रूप में कूटबद्ध किया जाएगा?

- Ans 1. 102
 2. 114
 3. 117
 4. 99

Question ID : 65497814323
 Chosen Option : --



Download SSC CGL, CHSL E-BOOKS

[CLICK HERE](#)

Q.8 उस विकल्प का चयन करें, जिसमें निम्न आकृति अन्तःस्थापित है। (घुमाने की अनुमति नहीं है)

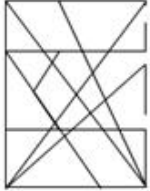
 Σ

Ans

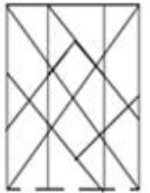
✗ 1.



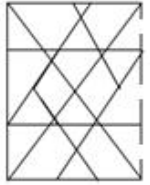
✗ 2.



✗ 3.



✓ 4.



Question ID : 65497814336
Chosen Option : 4



Download SSC CGL, CHSL E-BOOKS

[CLICK HERE](#)

Q.9 उस विकल्प आकृति का चयन करें, जो निम्न आकृति श्रेणी में प्रश्नवाचक चिह्न (?) के स्थान पर आएगी।



Ans

✗ 1.



✓ 2.



✗ 3.



✗ 4.



Question ID : 65497814334

Chosen Option : 2

Q.10 किसी निश्चित कूट भाषा में, यदि IRONING को OWSQKOG लिखा जाता है, तो उसी कूट भाषा में SHERIFF को किस प्रकार लिखा जाएगा?

Ans ✗ 1. YNKXOLL

✓ 2. YMIUKGF

✗ 3. YMKWLK

✗ 4. HSREFIF

Question ID : 65497814322

Chosen Option : 2

Q.11 उस विकल्प का चयन करें, जो तीसरे शब्द से ठीक उसी प्रकार संबंधित है, जिस प्रकार दूसरा शब्द पहले शब्द से संबंधित है।

मंगलवार : शनिवार :: मई : _____.

Ans ✗ 1. अप्रैल

✗ 2. अगस्त

✓ 3. सितम्बर

✗ 4. अक्टूबर

Question ID : 65497814327

Chosen Option : 4



Download SSC CGL, CHSL E-BOOKS

CLICK HERE

Q.12 उस विकल्प का चयन करें, जो तीसरे अक्षर-समूह से ठीक उसी प्रकार संबंधित है जिस प्रकार दूसरा अक्षर-समूह पहले अक्षर-समूह से संबंधित है।

CONCEPT : DDFOPQU :: NARROWS : _____.

- Ans
- 1. WSRRONA
 - 2. XTSP OBS
 - 3. OBSSPXT
 - 4. BOPSSTX

Question ID : 65497814325

Chosen Option : 4

Q.13 यदि किसी निश्चित कूट भाषा में LEARNING को 82463739 के रूप में और MOBILE को 510782 के रूप में कूटबद्ध किया जाता है, तो उसी कूट भाषा में IMAGINE को किस रूप में कूटबद्ध किया जाएगा?

- Ans
- 1. 7549732
 - 2. 8317945
 - 3. 6548732
 - 4. 7206834

Question ID : 65497814324

Chosen Option : 1

Q.14 किसी निश्चित कूट भाषा में, यदि GLAMOUR को AGLMORU लिखा जाता है, तो उसी कूट भाषा में, RUTTING को किस प्रकार लिखा जाएगा?

- Ans
- 1. GNITTUR
 - 2. GNURITT
 - 3. INGTRRU
 - 4. GINRTTU

Question ID : 65497814321

Chosen Option : 4

Q.15 यदि दर्पण को आकृति के दाईं ओर रखा गया हो, तो दी गई आकृति के सही दर्पण प्रतिबिंब का चयन करें।
RLKQSN

- Ans
- 1. BГKQ2И
 - 2. NSQKLR
 - 3. RJKQ2И
 - 4. И2QKЯR

Question ID : 65497814337

Chosen Option : 4



Download SSC CGL, CHSL E-BOOKS

[CLICK HERE](#)

Q.16 निम्न संख्या श्रेणी में प्रश्नवाचक चिह्न (?) के स्थान पर कौन-सी संख्या आएगी?

4, 6, 9, 14, 23, 40, ?

Ans 1. 73

2. 72

3. 74

4. 71

Question ID : 65497814320

Chosen Option : 1

Q.17 यदि - को ÷ के साथ परस्पर बदली किया जाता है और + को × के साथ परस्पर बदली किया जाता है, तो निम्न में से कौन-सा समीकरण सही होगा?

Ans 1. $32 + 21 \times 9 - 184 \div 8 = 198$

2. $32 \div 21 + 9 - 184 \times 8 = 198$

3. $32 \times 21 + 9 \div 184 - 8 = 198$

4. $32 + 21 - 9 \times 184 \div 8 = 198$

Question ID : 65497814315

Chosen Option : 4

Q.18 'Truck' is related to 'Road' in the same way as 'Tram' is related to '_____ '.

Ans 1. Air

2. Rail

3. Rope

4. Wheels

Question ID : 65497814326

Chosen Option : 3





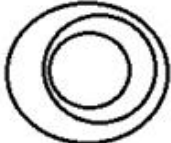
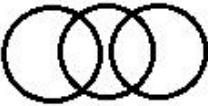
Download SSC CGL, CHSL E-BOOKS

[CLICK HERE](#)

Q.19 Select the Venn diagram that best illustrates the relationship between the following classes:

Playground, Stadium, Goalpost

Ans

- 1. 
- 2. 
- 3. 
- 4. 

Question ID : 65497814339
Chosen Option : 3

Q.20 Two statements are given, followed by two conclusions numbered I and II. Assuming the statements to be true, even if they seem to be at variance with commonly known facts, decide which of the conclusions logically follow(s) from the statements.

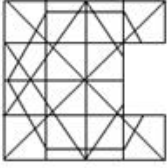
Statements:
All trees are plants.
Some plants are climbers.

Conclusions:
I. Some plants are trees.
II. Some trees are climbers.

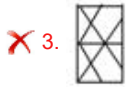
- Ans
- 1. Both conclusions I and II follow.
 - 2. Only conclusion I follows.
 - 3. Only conclusion II follows.
 - 4. Neither conclusion I nor II follows.

Question ID : 65497814329
Chosen Option : 2

Q.21 उस विकल्प आकृति का चयन करें, जो निम्न पैटर्न को पूरा करेगी।



Ans



Question ID : 65497814335

Chosen Option : 4

Q.22 उस विकल्प का चयन करें जो निम्न शब्दों के उस क्रम को दर्शाता है जिसमें वे अंग्रेजी शब्दकोष में आते हैं।

1. Dreamlike
2. Dreamer
3. Dreamy
4. Dreamland
5. Dreamtime

Ans ✓ 1. 2 - 4 - 1 - 5 - 3

✗ 2. 1 - 4 - 2 - 5 - 3

✗ 3. 4 - 1 - 2 - 3 - 5

✗ 4. 2 - 4 - 1 - 3 - 5

Question ID : 65497814333

Chosen Option : 1



Download SSC CGL, CHSL E-BOOKS

[CLICK HERE](#)

Q.23 Three statements are given, followed by four conclusions numbered I, II, III and IV. Assuming the statements to be true, even if they seem to be at variance with commonly known facts, decide which of the conclusions logically follow(s) from the statements.

Statements:

Some advocates are doctors.
Some doctors are players.
All players are engineers.

Conclusions:

I. Some players are doctors.
II. Some engineers are advocates.
III. All advocates are engineers.
IV. Some engineers are doctors.

- Ans** 1. Both conclusions I and II follow
 2. Both conclusions I and III follow
 3. Both conclusions II and IV follow
 4. Both conclusions I and IV follow

Question ID : 65497814330

Chosen Option : 4

Q.24 निम्न संख्या श्रेणी में प्रश्नवाचक चिह्न (?) के स्थान पर कौन-सी संख्या आएगी?

168, 168, 84, 28, ?

- Ans** 1. 14
 2. 12
 3. 4
 4. 7

Question ID : 65497814319

Chosen Option : 4

Q.25 उस विकल्प का चयन करें, जिसमें संख्याएं एक-दूसरे से ठीक उसी प्रकार संबंधित हैं, जिस प्रकार से निम्न समुच्चय की संख्याएं एक-दूसरे से संबंधित हैं।

46 : 82 : 154

- Ans** 1. 78 : 141 : 276
 2. 70 : 133 : 258
 3. 86 : 159 : 303
 4. 62 : 116 : 224

Question ID : 65497814318

Chosen Option : 4

Section : Numerical Aptitude



Download SSC CGL, CHSL E-BOOKS

[CLICK HERE](#)