

Q.1 उस सही विकल्प का चयन करें, जो किसी पुस्तक की निम्न सामग्री के तार्किक और सार्थक क्रम को निरूपित करता है।

1. प्रस्तावना
2. विषय-सूची
3. अध्याय
4. ग्रंथ-सूची
5. आवरण पृष्ठ

- Ans 1. 1, 5, 2, 3, 4
2. 5, 1, 2, 3, 4
3. 2, 1, 5, 3, 4
4. 1, 2, 5, 3, 4

Question ID : 65497817363
Chosen Option : 4

Q.2 चार अक्षर-समूह दिए गए हैं, जिनमें से तीन किसी प्रकार समान हैं जबकि एक असंगत है। उस असंगत अक्षर-समूह का चयन करें।

- Ans 1. ADI
2. EHM
3. FJN
4. DGL

Question ID : 65497817358
Chosen Option : 3

Q.3 Two statements are given followed by two conclusions numbered I and II. Assuming that the information given in the statements is true, even if it appears to be different from commonly known facts, decide which of the conclusions logically follow(s) from the statements.

Statements:

1. Some bags are covers.
2. All sheets are covers.

Conclusions:

- I. All covers are sheets.
- II. Some bags are sheets.

- Ans 1. Neither conclusion I nor II follows.
2. Both conclusions I and II follow
3. Only conclusion I follows
4. Only conclusion II follows

Question ID : 65497817359
Chosen Option : 1



Download SSC CGL, CHSL E-BOOKS

[CLICK HERE](#)

Q.4 यदि निम्न गणितीय चिह्नों को निम्नानुसार प्रतिस्थापित किया जाता है, तो उस विकल्प का चयन करें, जो सही समीकरण को निरूपित करता है।

÷ को + में बदला गया है
 × को - में बदला गया है
 + को - में बदला गया है
 - को ÷ में बदला गया है

- Ans
- 1. $26 \times 18 \div 39 + 4 - 111 = 100$
 - 2. $26 + 18 - 39 \times 4 \div 111 = 119$
 - 3. $26 - 18 + 39 \div 4 \times 111 = 40$
 - 4. $26 - 18 + 39 \times 4 \div 111 = 203$

Question ID : 65497817346

Chosen Option : --

Q.5 Select the option which is related to third term in the same way as the second term is related to the first term.

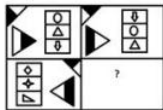
Focus : Distract :: Precise : ?

- Ans
- 1. Careless
 - 2. Insufficient
 - 3. Specific
 - 4. Strict

Question ID : 65497817356

Chosen Option : 1

Q.6 नीचे एक पैटर्न दिया गया है, जिसमें से एक खंड काटा गया है। उस विकल्प का चयन करें, जो पैटर्न में सही ढंग से रखे जाने पर पैटर्न को पूरा करेगा।



Ans

- 1.
- 2.
- 3.
- 4.

Question ID : 65497817365

Chosen Option : 2



Download SSC CGL, CHSL E-BOOKS

[CLICK HERE](#)

Q.7 उस आकृति का चयन करें, जो निम्न श्रेणी में अगले स्थान पर आएगी।



Ans



Question ID : 65497817364

Chosen Option : 1

Q.8 किसी निश्चित कूट भाषा में, EXCEL को 44 और WORD को 56 लिखा जाता है। उसी कूट भाषा में HEAVEN को किस प्रकार लिखा जाएगा?

Ans ✗ 1. 61

✗ 2. 58

✗ 3. 55

✓ 4. 49

Question ID : 65497817353

Chosen Option : 4

Q.9 किसी निश्चित कूट भाषा में, SEAT को TIJJ लिखा जाता है। उसी कूट भाषा में, TREE को किस प्रकार लिखा जाएगा?

Ans ✓ 1. UVNU

✗ 2. VUNU

✗ 3. SVNN

✗ 4. UVNV

Question ID : 65497817352

Chosen Option : 1



Download SSC CGL, CHSL E-BOOKS

[CLICK HERE](#)

Q.10 आठ दोस्त P, Q, R, S, T, U, V और W एक आयताकार मेज के चारों ओर बैठे हैं। R उत्तर-पश्चिम में बैठा है। R और P विकर्णतः एक दूसरे के सम्मुख बैठे हैं, जबकि V और U विकर्णतः एक दूसरे के सम्मुख बैठे हैं। W पश्चिम दिशा की ओर अभिमुख है, Q पूर्व दिशा की ओर अभिमुख है, और S ठीक R तथा V के बीच बैठा है। T किस दिशा में बैठा है?

- Ans
- 1. पश्चिम
 - 2. दक्षिण
 - 3. पूर्व
 - 4. उत्तर

Question ID : 65497817362
Chosen Option : 2

Q.11 उस विकल्प का चयन करें, जो तीसरे पद से ठीक उसी प्रकार संबंधित है, जिस प्रकार दूसरा पद पहले पद से संबंधित है।

BOARD : VSELX :: ENJOY : ?

- Ans
- 1. IHDSC
 - 2. HICSD
 - 3. FEDSE
 - 4. IHEAC

Question ID : 65497817355
Chosen Option : 4

Q.12 किसी निश्चित कूट भाषा में, JET को TED और MAD को WAN लिखा जाता है। उसी कूट भाषा में, CARE को किस प्रकार लिखा जाएगा?

- Ans
- 1. LKBE
 - 2. MADE
 - 3. MALE
 - 4. MABE

Question ID : 65497817351
Chosen Option : 4

Q.13 यदि A का अर्थ 'घटाना' है, B का अर्थ 'जोड़' है, C का अर्थ 'गुणा' है और D का अर्थ 'भाग' है, तो निम्न समीकरण का मान ज्ञात करें।

96 D 12 A 6 B 3 C 5

- Ans
- 1. 7
 - 2. 17
 - 3. 128
 - 4. 1158

Question ID : 65497817345
Chosen Option : 2



Download SSC CGL, CHSL E-BOOKS

[CLICK HERE](#)

Q.14 उस विकल्प का चयन करें, जो तीसरे शब्द से ठीक उसी प्रकार संबंधित है, जिस प्रकार दूसरा शब्द पहले शब्द से संबंधित है।

लघु : विशालकाय :: कण : ?

- Ans
- 1. अवपरमाणुक
 - 2. धूल
 - 3. संपूर्ण
 - 4. विमुखता

Question ID : 65497817357
Chosen Option : 3

Q.15 उस संख्या का चयन करें, जो निम्न पैटर्न में प्रश्नवाचक चिह्न (?) के स्थान पर आएगी?

5 6 7 8 9
115 206 ? 502 719

- Ans
- 1. 337
 - 2. 347
 - 3. 343
 - 4. 333

Question ID : 65497817350
Chosen Option : 4

Q.16 किसी निश्चित कूट भाषा में, C को 3 के रूप में और DAM को 6 के रूप में कूटबद्ध किया जाता है। उसी कूट भाषा में, HENCE को किस रूप में कूटबद्ध किया जाएगा?

- Ans
- 1. 5
 - 2. 11
 - 3. 12
 - 4. 7

Question ID : 65497817354
Chosen Option : 4



Download SSC CGL, CHSL E-BOOKS

[CLICK HERE](#)

Q.17 यदि दर्पण को दी गई आकृति के दाईं ओर रखा जाए, तो आकृति के दर्पण में निर्मित सही प्रतिबिंब का चयन कीजिए।

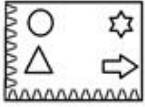


Ans

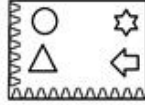
✗ 1.



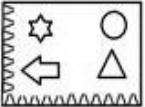
✗ 2.



✓ 3.



✗ 4.



Question ID : 65497817367

Chosen Option : 3

Q.18 आठ छात्र A, B, C, D, E, F, G और H एक गोल मेज के परितः एक दूसरे से बराबर दूरी पर बैठे हैं। यदि B उत्तर-पूर्व दिशा में बैठा है तो H किस दिशा में बैठा है?

Ans ✗ 1. उत्तर-पूर्व

✗ 2. उत्तर-पश्चिम

✓ 3. दक्षिण-पूर्व

✗ 4. दक्षिण-पश्चिम

Question ID : 65497817361

Chosen Option : 2

Q.19 उस विकल्प का चयन करें, जो चौथी संख्या से ठीक उसी प्रकार संबंधित है, जिस प्रकार पहली संख्या दूसरी संख्या से संबंधित है।

28 : 145 :: ? : 100

Ans ✗ 1. 20

✗ 2. 13

✓ 3. 19

✗ 4. 17

Question ID : 65497817347

Chosen Option : 3



Download SSC CGL, CHSL E-BOOKS

[CLICK HERE](#)

Q.20 तीन कथनों के बाद तीन निष्कर्ष I, II और III दिए गए हैं। यह मानते हुए कि कथनों में दी गई जानकारी सत्य है, भले ही ये सामान्य रूप से ज्ञात तथ्यों से भिन्न प्रतीत होते हों, निर्धारित करें कि कौन से निष्कर्ष कथनों का तार्किक रूप से अनुसरण करते हैं?

कथन:

1. कोई भी जंगल, पेड़ नहीं है।
2. कुछ पेड़, लंबे हैं।
3. कोई भी पौधा, लंबा नहीं है।

निष्कर्ष:

- I. कुछ पौधे, पेड़ हैं।
- II. सभी पेड़, लंबे हैं।
- III. कुछ जंगल, लंबे हैं।

- Ans 1. कोई भी निष्कर्ष अनुसरण नहीं करता है।
 2. निष्कर्ष I और II दोनों अनुसरण करते हैं।
 3. केवल निष्कर्ष II अनुसरण करता है।
 4. निष्कर्ष II और III दोनों अनुसरण करते हैं।

Question ID : 65497817360

Chosen Option : 1

Q.21 उस संख्या का चयन करें, जो निम्न श्रेणी में प्रश्नवाचक चिह्न (?) के स्थान पर आएगी?

117, 98, 80, ?, 47, 32

- Ans 1. 63
 2. 75
 3. 58
 4. 55

Question ID : 65497817349

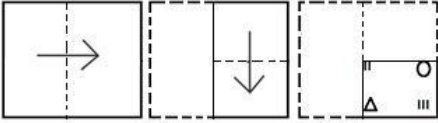
Chosen Option : 1



Download SSC CGL, CHSL E-BOOKS

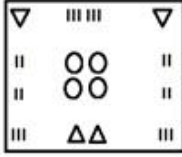
[CLICK HERE](#)

Q.22 एक कागज़ को निम्नानुसार मोड़ा और काटा जाता है। यह खोलने पर कैसा दिखेगा?

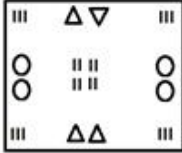


Ans

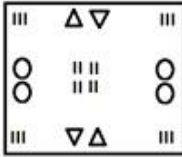
✗ 1.



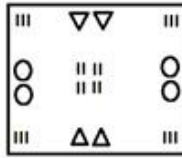
✗ 2.



✗ 3.



✓ 4.



Question ID : 65497817368

Chosen Option : 4

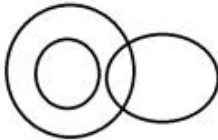
Q.23 उस वेन-आरेख का चयन करें, जो निम्न वर्गों के बीच संबंध को सर्वोत्तम ढंग से निरूपित करता है।
पुरुष, स्केटर, भूरे-बालों वाले लोग

Ans

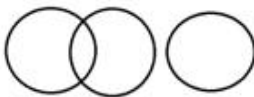
✓ 1.




✗ 2.



✗ 3.



✗ 4.



Question ID : 65497817369

Chosen Option : 3



Download SSC CGL, CHSL E-BOOKS

[CLICK HERE](#)

Q.24 उस विकल्प का चयन करें, जिसमें दी गई आकृति अन्तःस्थापित है। (घुमाने की अनुमति नहीं है)



Ans

✗ 1.



✓ 2.



✗ 3.



✗ 4.



Question ID : 65497817366

Chosen Option : 2

Q.25 दिए गए पैटर्न का ध्यानपूर्वक अध्ययन करें और उस संख्या का चयन करें, जो इसमें प्रश्रवाचक चिह्न (?) के स्थान पर आएगी?

6 12 78

6 15 99

3 13 ?

Ans ✗ 1. 50

✗ 2. 45

✗ 3. 54

✓ 4. 49

Question ID : 65497817348

Chosen Option : 4

Section : Quantitative Aptitude



Download SSC CGL, CHSL E-BOOKS

[CLICK HERE](#)