

Comprehension:

In the following passage some words have been deleted. Fill in the blanks with the help of the alternatives given. Select the most appropriate option for each blank.

One day while the magistrate was walking (1)_____ a market he saw a crowd outside a poultry shop. (2)_____ enquiring what the matter was (3)_____ learnt that a peasant had accidentally (4)_____ a heavy sack on a chicken, (5)_____ it to death.

SubQuestion No : 24

Q.24 Select the most appropriate option to fill in blank number 4.

- Ans 1. selected
 2. dropped
 3. picked
 4. filled

Question ID : 65497814803
Chosen Option : 4

Comprehension:

In the following passage some words have been deleted. Fill in the blanks with the help of the alternatives given. Select the most appropriate option for each blank.

One day while the magistrate was walking (1)_____ a market he saw a crowd outside a poultry shop. (2)_____ enquiring what the matter was (3)_____ learnt that a peasant had accidentally (4)_____ a heavy sack on a chicken, (5)_____ it to death.

SubQuestion No : 25

Q.25 Select the most appropriate option to fill in blank number 5.

- Ans 1. creeping
 2. covering
 3. crushing
 4. crumbling

Question ID : 65497814804
Chosen Option : 2

Section : General Intelligence and Reasoning

Q.1 एक निश्चित कूट भाषा में, यदि SMOOTHIE को UKQMVFKC लिखा जाता है, तो उसी कूट भाषा में HEAVENLY को क्या लिखा जाएगा?

- Ans 1. FCYTCLJW
 2. JGCXGPNA
 3. JCCTGLNW
 4. FGYXCPJA

Question ID : 65497814524
Chosen Option : 3



Download SSC CGL, CHSL E-BOOKS

[CLICK HERE](#)

Q.2 एक निश्चित कूट भाषा में, यदि PETITION को 75292965 के रूप में, और GERMINATE को 759495125 के रूप में कूटबद्ध किया जाता है, तो उसी भाषा में COMPLEX को किस रूप में कूटबद्ध किया जाता है?


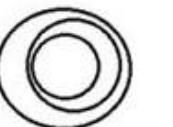

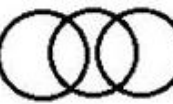
- Ans
- 1. 4647256
 - 2. 3647356
 - 3. 3536254
 - 4. 4514776

Question ID : 65497814526
Chosen Option : 2

Q.3 दिए गये विकल्पों में से उस वेन आरेख का चयन कीजिए जो निम्नांकित वर्गों के मध्य संबंध का सर्वश्रेष्ठ निरूपण करता है।

पेंसिल, शार्पनर, लेड

Ans

- 1. 
- 2. 
- 3. 
- 4. 

Question ID : 65497814541
Chosen Option : 1

Q.4 'Sewing' is related to 'Tailor' in the same way as 'Painting' is related to '_____'.
'

- Ans
- 1. Painter
 - 2. Canvas
 - 3. Printer
 - 4. Paint


Question ID : 65497814528
Chosen Option : 1



Download SSC CGL, CHSL E-BOOKS

[CLICK HERE](#)

Q.5 उस विकल्प आकृति की पहचान कीजिए जो निम्नांकित पैटर्न को पूर्ण करेगी।



Ans


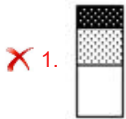


Question ID : 65497814537
Chosen Option : 1

Q.6 उस आकृति का चयन कीजिए जो निम्नांकित आकृति श्रृंखला में प्रश्नवाचक चिह्न (?) के स्थान पर आएगी।



Ans



Question ID : 65497814536
Chosen Option : 4



Download SSC CGL, CHSL E-BOOKS

[CLICK HERE](#)

Q.7 दो कथन और उसके बाद दो निष्कर्ष I और II दिए गए हैं। यह मानते हुए कि कथन सत्य हैं, भले ही वे सामान्य रूप से ज्ञात तथ्यों से भिन्न प्रतीत होते हों, बताएं कि कौन सा/से निष्कर्ष दिए गए कथनों का तार्किक रूप से अनुसरण करता है/करते हैं?

कथन:

सभी कप प्लेट हैं।
कुछ प्लेट तश्तरी हैं।

निष्कर्ष:

I. सभी प्लेट कप हैं।
II. कुछ कप तश्तरी हैं।

- Ans 1. निष्कर्ष I और II दोनों अनुसरण करते हैं
 2. न तो निष्कर्ष I और न ही II अनुसरण करता है
 3. केवल निष्कर्ष II अनुसरण करता है
 4. केवल निष्कर्ष I अनुसरण करता है

Question ID : 65497814531
Chosen Option : 3

Q.8 उस संख्या-युग्म का चयन करें, जिसमें संख्याएं एक-दूसरे से ठीक उसी प्रकार संबंधित हैं जिस प्रकार निम्न संख्या-युग्म की संख्याएं एक-दूसरे से संबंधित हैं।

144 : 168

- Ans 1. 121 : 143
 2. 169 : 159
 3. 64 : 82
 4. 81 : 100

Question ID : 65497814519
Chosen Option : 1

Q.9 दिए गए विकल्पों में से गणितीय चिह्नों के उस संयोजन का चयन करें जिसे निम्न समीकरण में * के स्थान पर क्रमिक रूप से रखने पर समीकरण संतुलित हो जाएगा।

$46 * 72 * 18 * 27 * 135 = 19$

- Ans 1. -, ×, +, +
 2. +, +, ×, -
 3. +, -, +, ×
 4. ×, +, -, +

Question ID : 65497814518
Chosen Option : 2

Q.10 छः लोग ग्रुप फोटोग्राफ के लिए कैमरे के समक्ष पोज दे रहे हैं। P ठीक N और S के बीच में है, जबकि Q, N के बाईं ओर पड़ोस में है। O दाईं ओर पर है, जबकि उसके बाईं ओर पड़ोस में R है। S के दाईं ओर पड़ोस में कौन है?

- Ans 1. N
 2. Q
 3. R
 4. P

Question ID : 65497814534
Chosen Option : 3



Download SSC CGL, CHSL E-BOOKS

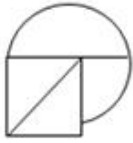
CLICK HERE

Q.11 यदि दर्पण को दी गई आकृति के दाईं ओर रखा जाए, तो दर्पण में निर्मित सही प्रतिबिंब का चयन कीजिए।

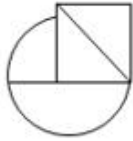


Ans

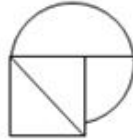
✗ 1.



✗ 2.



✓ 3.



✗ 4.



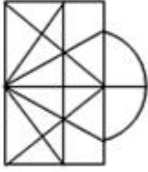
Question ID : 65497814539
Chosen Option : 3

Q.12 उस विकल्प का चयन कीजिए जिसमें दी गई आकृति अंतर्निहित है (घुमाने की अनुमति नहीं है)।

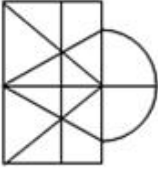


Ans

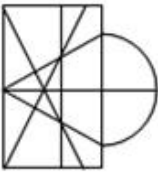
✗ 1.



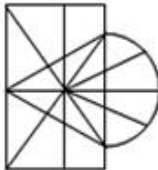
✗ 2.



✗ 3.



✓ 4.



Question ID : 65497814538

Chosen Option : 4

Q.13 उस समुच्चय का चयन करें, जिसमें संख्याएं एक-दूसरे से ठीक उसी प्रकार संबंधित हैं, जिस प्रकार निम्न समुच्चय की संख्याएं एक-दूसरे से संबंधित हैं।

(4, 3, 35)

Ans ✗ 1. (6, 9, 65)

✓ 2. (7, 12, 95)

✗ 3. (8, 13, 110)

✗ 4. (9, 18, 153)

Question ID : 65497814520

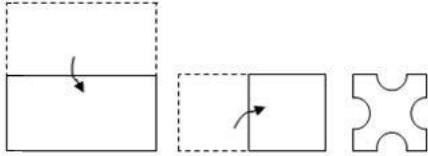
Chosen Option : 2



Download SSC CGL, CHSL E-BOOKS


[CLICK HERE](#)

Q.14 एक कागज को निम्नानुसार मोड़ा और काटा गया है। इसे खोलने पर यह कैसा दिखेगा?

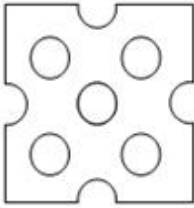


Ans


✓ 1.



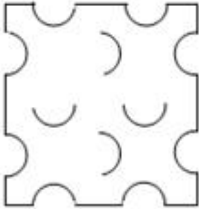
✗ 2.



✗ 3.



✗ 4.



Question ID : 65497814540

Chosen Option : 1

Q.15 उस विकल्प का चयन कीजिए जिसका तीसरे अक्षर-समूह से वही संबंध है, जो दूसरे अक्षर-समूह का पहले अक्षर-समूह से है।

FLUIDITY : YUTLIIFD :: IMPROVISE : ?

Ans ✗ 1. VRPSOIME

✗ 2. PMIVORES

✓ 3. VSRPOMIIE

✗ 4. ORPMIESIV

Question ID : 65497814527

Chosen Option : 3



Download SSC CGL, CHSL E-BOOKS

[CLICK HERE](#)

Q.16 दो कथन और उसके बाद दो निष्कर्ष I और II दिए गए हैं। यह मानते हुए कि कथन सत्य हैं, भले ही वे सामान्य रूप से ज्ञात तथ्यों से भिन्न प्रतीत होते हों, बताएं कि कौन सा/से निष्कर्ष दिए गए कथनों का तार्किक रूप से अनुसरण करता है/करते हैं?

कथन:

कुछ पैन बोटल हैं।
सभी बोटल मग हैं।

निष्कर्ष:

I. सभी मग बोटल हैं।
II. कुछ मग पैन हैं।

- Ans 1. केवल निष्कर्ष I अनुसरण करता है
 2. केवल निष्कर्ष II अनुसरण करता है
 3. न तो निष्कर्ष I और न ही II अनुसरण करता है
 4. निष्कर्ष I और II दोनों अनुसरण करते हैं

Question ID : 65497814532
Chosen Option : 2

Q.17 निम्न श्रेणी में प्रश्नवाचक चिह्न (?) के स्थान पर कौन सी संख्या आएगी?

6, 11, 18, 27, 38, ?

- Ans 1. 53
 2. 49
 3. 51
 4. 54

Question ID : 65497814522
Chosen Option : 3

Q.18 एक निश्चित कूट भाषा में, यदि FEVERISH को 29 के रूप में और COUNSEL को 98 के रूप में कूटबद्ध किया जाता है, तो उसी कूट भाषा में MUTATED को किस रूप में कूटबद्ध किया जाएगा?

- Ans 1. 80
 2. 92
 3. 48
 4. 84

Question ID : 65497814525
Chosen Option : 3

Q.19 निम्न समीकरण को संतुलित करने के लिए किन दो अंकों को परस्पर बदला जाना चाहिए?

$87 \times 2 - 65 + 182 \div 38 = 155$

- Ans 1. 6 और 2
 2. 2 और 8
 3. 8 और 6
 4. 5 और 7

Question ID : 65497814517
Chosen Option : 2



Download SSC CGL, CHSL E-BOOKS

CLICK HERE

Q.20 उस विकल्प का चयन कीजिए जिसका तीसरे शब्द से वही संबंध है जो दूसरे शब्द का पहले शब्द से है।

खलनायक : नायक :: शैतान : ?

- Ans
- 1. सदाचारी
 - 2. फरिश्ता
 - 3. ईश्वर
 - 4. दिव्य

Question ID : 65497814529

Chosen Option : 2

Q.21 स्कूल की सुबह की प्रार्थना में, चंचल सामने से 8वें स्थान पर थी, जबकि प्रिंस उसी पंक्ति में पीछे से 11वें स्थान पर था। यदि वे अपने-अपने स्थान बदल लेते हैं, तो चंचल सामने से 22वें स्थान पर पहुंच जाती है। पंक्ति में विद्यार्थियों की संख्या कितनी है?

- Ans
- 1. 33
 - 2. 30
 - 3. 32
 - 4. 31

Question ID : 65497814533

Chosen Option : 3

Q.22 एक निश्चित कूट भाषा में, यदि GLOWING को GGILNOW लिखा जाता है, तो उसी कूट भाषा में OBVIOUS को क्या लिखा जाएगा?

- Ans
- 1. BOIVUOS
 - 2. IVBOSUO
 - 3. BIOOSUV
 - 4. VUSOOIB

Question ID : 65497814523

Chosen Option : 3

Q.23 निम्न श्रेणी में प्रश्नवाचक चिह्न (?) के स्थान पर कौन सी संख्या आएगी?

128, 116, 126, 118, 124, ?

- Ans
- 1. 118
 - 2. 122
 - 3. 124
 - 4. 120

Question ID : 65497814521

Chosen Option : 4



Download SSC CGL, CHSL E-BOOKS

CLICK HERE

Q.24 अभय के चाचा, उसके लिए कौकण से कुछ आम भेजते हैं। यदि वह प्रतिदिन कुछ निश्चित संख्या में आम खाता है, तो वे 60 दिन तक चलते हैं। लेकिन, अभय का चचेरा भाई राजीव उसके साथ छुट्टियां बिताने आता है और दोनों 36 दिन में आम समाप्त कर देते हैं। यदि राजीव अकेले आमों को खाता है, तो आम कितने दिनों तक चलेंगे?

- Ans
- 1. 180
 - 2. 120
 - 3. 72
 - 4. 90

Question ID : 65497814535
Chosen Option : 4

Q.25 उस विकल्प का चयन कीजिए जो अक्षर-समूह की निम्न श्रृंखला में प्रश्नवाचक चिह्न (?) के स्थान पर आएगा।

VSP, NKH, FCZ, ?

- Ans
- 1. XVS
 - 2. WTQ
 - 3. WUS
 - 4. XUR

Question ID : 65497814530
Chosen Option : 4

Section : Quantitative Aptitude

Q.1 $1\frac{4}{11} \div \left\{ \left[\frac{11}{80} \div \frac{3}{4} \left(\frac{1}{4} - \frac{1}{3} \times \frac{1}{5} \right) \div 1\frac{5}{6} \right] + \frac{9}{11} \right\}$ का मान ज्ञात करें।

- Ans
- 1. 1
 - 2. 10
 - 3. 4
 - 4. 5

Question ID : 65497815775
Chosen Option : --

Q.2 लंबवृत्तीय शंकु के आकार का एक पात्र है, जिसकी त्रिज्या और गहराई बराबर है, यह 2 mm व्यास की 128000 गोलाकार बूंदों से पूरी तरह से भर जाता है। पात्र की त्रिज्या (cm में) ज्ञात करें?

- Ans
- 1. 6
 - 2. 8
 - 3. 2
 - 4. 4

Question ID : 65497817388
Chosen Option : --



Download SSC CGL, CHSL E-BOOKS

[CLICK HERE](#)