

**Comprehension:**

In the following passage, some words have been deleted. Fill in the blanks with the help of the options given. Select the most appropriate option for each blank.

According to a news report, schools are setting up adequate facilities and taking (1)\_\_\_\_\_ to restart learning on campus hoping to reopen schools later, if not sooner. (2)\_\_\_\_\_ schools are preparing themselves to restart, most parents are still not sure of sending their (3)\_\_\_\_\_ to school. Parents of primary school children are particularly concerned about their children's (4)\_\_\_\_\_ to health risks. Parents, in general, say that they have always tried to keep their children away from (5)\_\_\_\_\_ like mobile phones and tablets, but the current Covid-19 situation has forced the children into online learning, and they spend long hours in front of the screens.

**SubQuestion No : 25**

**Q.25** Select the most appropriate option to fill in blank no. 5.

- Ans  1. products  
 2. electronics  
 3. lessons  
 4. devices

Question ID : 65497817632  
 Chosen Option : 4

Section : **General Intelligence and Reasoning**

**Q.1** छह व्यक्ति, विनय, माधव, नीलेश, सागर, अरविंद, राजेश, दो पंक्तियों में एक दूसरे के सामने खड़े हैं, और हर पंक्ति में तीन व्यक्ति हैं।

- 1) नीलेश ठीक अरविंद और सागर के बीच में है।  
 2) नीलेश, विनय के सामने नहीं है।  
 3) माधव, अरविंद के सामने है।  
 राजेश कहां खड़ा है?

- Ans  1. विनय के सम्मुख  
 2. विनय और माधव के बीच  
 3. विनय और अरविंद के बीच में  
 4. सागर के सम्मुख

Question ID : 65497816655  
 Chosen Option : 2

**Q.2** विकल्पों में से उस संख्या-युग्म का चयन करें, जिसमें दी गई दोनों संख्याएं एक-दूसरे से ठीक उसी प्रकार संबंधित हैं, जिस प्रकार, इस दी गई संख्या-युग्म की संख्याएं एक-दूसरे से संबंधित हैं।

6 : 85

- Ans  1. 9 : 181  
 2. 5 : 50  
 3. 7 : 112  
 4. 8 : 114

Question ID : 65497816640  
 Chosen Option : 1



**Download SSC CGL, CHSL E-BOOKS**

[CLICK HERE](#)

Q.3 पांच व्यक्ति, A, B, C, D, E, केंद्र की ओर अभिमुख होकर एक गोल मेज के परितः बैठे हैं।

- 1) E और D के पड़ोस में A बैठा है।
  - 2) B, D के बाएं दूसरे स्थान पर बैठा है।
- B के दाएं पड़ोस में कौन बैठा है?

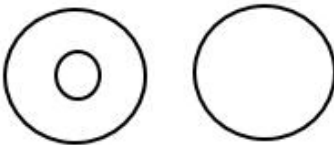



- Ans
- 1. E
  - 2. C
  - 3. D
  - 4. A

Question ID : 65497816654  
Chosen Option : 2

Q.4 उस वेन-आरेख का चयन करें, जो निम्न के बीच संबंध को सर्वश्रेष्ठ रूप से निरूपित करता है।

बाघ, सरीसृप, कछुआ

Ans

- 1. 
- 2. 
- 3. 
- 4. 

Question ID : 65497816662  
Chosen Option : 1

Q.5 यदि 'DONKEY' को '88' के रूप में तथा 'SPARROW' को '79' के रूप में कूटबद्ध किया जाता है, तो 'PEGION' को किस रूप में कूटबद्ध किया जाएगा?

- Ans
- 1. 73
  - 2. 91
  - 3. 96
  - 4. 85

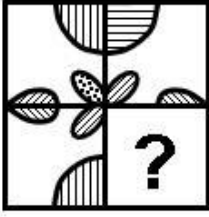
Question ID : 65497816647  
Chosen Option : 3



Download SSC CGL, CHSL E-BOOKS

[CLICK HERE](#)

Q.6 उस आकृति का चयन करें, जो दिए गए पैटर्न को पूरा करेगी।



Ans

✓ 1.



✗ 2.



✗ 3.



✗ 4.



Question ID : 65497816658

Chosen Option : 1

Q.7 दो कथन और उसके बाद दो निष्कर्ष। और II दिए गए हैं। यह मानते हुए कि कथन सत्य हैं, भले ही वे सामान्य रूप से ज्ञात तथ्यों से भिन्न प्रतीत होते हों, बताएं कि कौन सा/से निष्कर्ष दिए गए कथनों का तार्किक रूप से अनुसरण करता है/करते हैं।

कथन:

कुछ कुर्सियां खिड़कियां हैं।

सभी खिड़कियां बोर्ड हैं।

निष्कर्ष:

I. सभी कुर्सियां बोर्ड हैं।

II. सभी बोर्ड खिड़कियां हैं।

Ans

✗ 1. केवल निष्कर्ष II अनुसरण करता है।

✗ 2. निष्कर्ष I और II दोनों अनुसरण करते हैं।

✓ 3. न तो निष्कर्ष I और न ही II अनुसरण करता है।

✗ 4. केवल निष्कर्ष I अनुसरण करता है।

Question ID : 65497816652

Chosen Option : 3



Download SSC CGL, CHSL E-BOOKS

CLICK HERE

Q.8 गणितीय चिह्नों के उस सही संयोजन का चयन करें, जिन्हें क्रमिक रूप से \* चिह्नों के स्थान पर रखने पर समीकरण संतुलित हो जाएगा।

$$12 * 6 * 54 * 6 * 7 = 70$$

- Ans  1. ×, -, ÷, +  
 2. ÷, +, ×, -  
 3. ÷, +, -, ×  
 4. -, +, ÷, ×

Question ID : 65497816639  
Chosen Option : 1

Q.9 विकल्पों में से उस संख्या का चयन करें, जो दी गई संख्या श्रेणी में प्रश्नवाचक चिह्न (?) के स्थान पर आएगी?

3, 13, 53, 213, ?

- Ans  1. 1065  
 2. 640  
 3. 853  
 4. 942

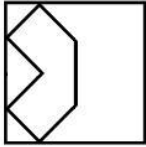
Question ID : 65497816642  
Chosen Option : 3



Download SSC CGL, CHSL E-BOOKS


[CLICK HERE](#)

Q.10 उस आकृति का चयन करें, जिसमें दी गई आकृति अंतःस्थापित है (घुमाने की अनुमति नहीं है)।

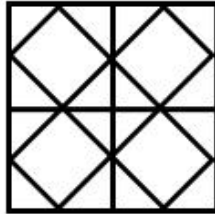


Ans

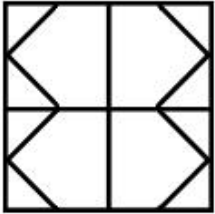
✗ 1.



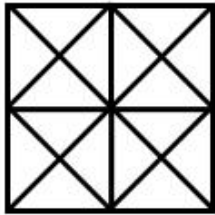
✓ 2.



✗ 3.



✗ 4.



Question ID : 65497816659

Chosen Option : 2

Q.11 यदि दर्पण को दी गई आकृति के दाईं ओर रखा जाए, तो आकृति के दर्पण में निर्मित सही प्रतिबिंब का चयन कीजिए।

ANTONYMS

Ans

✓ 1.

ΣMYNOTIA

✗ 2.

ΣMYOITIA

✗ 3.

ANTONYMS

✗ 4.

ANTNYMS

Question ID : 65497816660

Chosen Option : 1

Q.12 यदि किसी कोड भाषा में 'AEROPLANE' को 'CCTMRJCLG' लिखा जाता है, तो इसी कोड भाषा में 'CHOPPER' को क्या लिखा जाएगा?

- Ans  1. EFQNRCT  
 2. EFQRNCT  
 3. AJMRNGP  
 4. EJQRRGT

Question ID : 65497816644  
 Chosen Option : 1

Q.13 दिए गए समीकरण को संतुलित करने के लिए, इनमें से किन दो चिह्नों को एक-दूसरे से प्रतिस्थापित करना होगा?

$$48 \div 12 \times 3 + 5 - 4 = 21$$

- Ans  1. - और ×  
 2. - और +  
 3. × और +  
 4. ÷ और ×

Question ID : 65497816638  
 Chosen Option : 1

Q.14 उस विकल्प का चयन करें, जो निम्न शब्दों के तार्किक और सार्थक क्रम को दर्शाता है।

1. प्यूपा
2. अंडा
3. वयस्क
4. लार्वा

- Ans  1. 4, 2, 1, 3  
 2. 2, 1, 4, 3  
 3. 2, 4, 1, 3  
 4. 4, 2, 3, 1

Question ID : 65497816656  
 Chosen Option : 1

Q.15 यदि 'CAPACITY' को '81' के रूप में तथा 'VOLUME' को '91' के रूप में कूटबद्ध किया जाता है, तो 'AMOUNT' को किस रूप में कूटबद्ध किया जाएगा?

- Ans  1. 87  
 2. 85  
 3. 86  
 4. 84

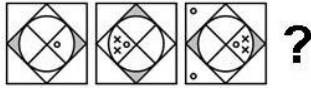
Question ID : 65497816646  
 Chosen Option : 4



Download SSC CGL, CHSL E-BOOKS

[CLICK HERE](#)

Q.16 कौन-सी विकल्प आकृति, दी गई आकृति श्रेणी में प्रश्नवाचक चिह्न (?) की जगह पर आएगी?



Ans

✓ 1.




✗ 2.



✗ 3.



✗ 4.



Question ID : 65497816657  
Chosen Option : 1

Q.17 विकल्पों में से उस अक्षर-समूह का चयन करें, जो दी गई श्रेणी में प्रश्नवाचक चिह्न (?) के स्थान पर आकर श्रेणी को पूरा करेगा?

ASDF, BUGJ, CWJN, ?

Ans ✗ 1. DXKO

✓ 2. DYMR

✗ 3. DXLQ

✗ 4. DYKQ

Question ID : 65497816651  
Chosen Option : 2

Q.18 दो कथन और उसके बाद चार निष्कर्ष I, II, III और IV दिए गए हैं। यह मानते हुए कि कथन सत्य हैं, भले ही वे सामान्य रूप से ज्ञात तथ्यों से भिन्न प्रतीत होते हों, बताएं कि कौन सा/से निष्कर्ष दिए गए कथनों का तार्किक रूप से अनुसरण करता है/करते हैं।

कथन:

कोई भी मछली, पेन नहीं है।  
सभी कुंजियां, पेन हैं।

निष्कर्ष:

- I. कोई भी कुंजी पेन नहीं है।
- II. कोई भी पेन कुंजी नहीं है।
- III. कुछ पेन कुंजियां हैं।
- IV. कुछ कुंजियां मछलियां हैं।

- Ans  1. केवल निष्कर्ष III अनुसरण करता है।  
 2. केवल निष्कर्ष I अनुसरण करता है।  
 3. निष्कर्ष I और II, दोनों अनुसरण करते हैं।  
 4. निष्कर्ष I और IV, दोनों अनुसरण करते हैं।

Question ID : 65497816653

Chosen Option : 1

Q.19 'दाब' का जो संबंध 'पास्कल' से है, और 'विद्युत' का जो संबंध 'वाट' से है, वही संबंध 'ऊष्मा' का '\_\_\_\_\_' से है।

- Ans  1. जूल  
 2. ओम  
 3. बार  
 4. वोल्ट

Question ID : 65497816650

Chosen Option : 1

Q.20 विकल्पों में से उस संख्या का चयन करें, जो दी गई संख्या श्रेणी में प्रश्नवाचक चिह्न (?) के स्थान पर आएगी?

2, 4, 8, 32, 256, ?

- Ans  1. 8192  
 2. 2048  
 3. 1024  
 4. 4096

Question ID : 65497816643

Chosen Option : 1

Q.21 यदि किसी कोड भाषा में 'GOODLUCK' को 'MEWNFQQ' लिखा जाता है, तो इसी कोड भाषा में 'FORTUNE' को क्या लिखा जाएगा?

- Ans  1. HQTVOHB  
 2. PGWTQVH  
 3. QTHDVHJ  
 4. GPWVTQH

Question ID : 65497816645

Chosen Option : 1



Download SSC CGL, CHSL E-BOOKS

[CLICK HERE](#)



Q.22 'IPL' का जो संबंध 'क्रिकेट' से है, वही संबंध 'विंबलडन' का ' \_\_\_\_\_ ' से है।

- Ans
- 1. फुटबॉल
  - 2. बैडमिंटन
  - 3. टेनिस
  - 4. हॉकी

Question ID : 65497816649  
Chosen Option : 2

Q.23 उस विकल्प का चयन करें, जो तीसरे अक्षर-समूह से ठीक उसी प्रकार संबंधित है, जिस प्रकार दूसरा अक्षर-समूह पहले अक्षर-समूह से संबंधित है।

ABRUPT : BZUQUN :: SUDDEN : ?

- Ans
- 1. URGFJP
  - 2. TSAHJH
  - 3. URFGJP
  - 4. TSGZJH

Question ID : 65497816648  
Chosen Option : 4

Q.24 दिए गए विकल्पों में से, संख्याओं के उस समुच्चय का चयन करें, जिसमें दी गई संख्याएं एक-दूसरे से ठीक उसी प्रकार संबंधित हैं, जिस प्रकार, इस दी गई संख्याओं के समुच्चय की संख्याएं एक-दूसरे से संबंधित हैं।

(12, 30, 204)

- Ans
- 1. (4, 12, 28)
  - 2. (15, 20, 265)
  - 3. (9, 12, 225)
  - 4. (11, 15, 236)


Question ID : 65497816641  
Chosen Option : 3



Download SSC CGL, CHSL E-BOOKS

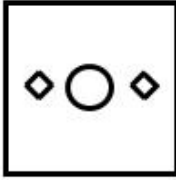
[CLICK HERE](#)

Q.25 एक कागज को नीचे दिखाए अनुसार मोड़ा और काटा जाता है। जब इसे खोला जाएगा, तो यह कैसा दिखेगा?




Ans

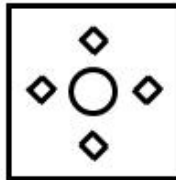
✗ 1.




✗ 2.



✓ 3.



✗ 4.



Question ID : 65497816661  
Chosen Option : 3

Section : Numerical Aptitude

Q.1 ₹3,240 की राशि पर, दो वर्ष के बाद, वार्षिक रूप से चक्रवृद्धि ब्याज ₹370 है। दशमलव के बाद दो स्थानों तक ब्याज की दर की गणना करें?

Ans ✓ 1. 5.56%

✗ 2. 4.05%

✗ 3. 5.26%

✗ 4. 4.67%

Question ID : 65497817282  
Chosen Option : 1



Download SSC CGL, CHSL E-BOOKS

CLICK HERE