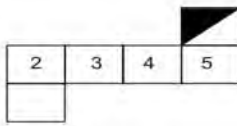


Constable GD in CAPFs NIA SSF and Rifleman GD in Assam Rifles Examination 2021

Roll Number	
Candidate Name	
Venue Name	ION Digital Zone iDZ Jalalpur
Exam Date	30/11/2021
Exam Time :	9:00 AM - 10:30 AM
Subject	Constable GD 2021

Section : Part A General Intelligence and Reasoning

Q.1 वह बॉक्स चुनें जो दी गई कागज की शीट को मोड़े जाने पर बने बॉक्स के सदृश नहीं है।



Ans



Question ID : 65497831787

Status : Answered

Chosen Option : 2

Q.2 चार व्यक्ति A, B, C और D कैरम खेल रहे हैं। A, C के बाईं ओर ठीक बगल में बैठा है। D, B के दाईं ओर ठीक बगल में बैठा है। कौन सा कथन A की सही स्थिति को दर्शाता है?

- Ans
- ✗ 1. D के सामने
 - ✗ 2. C के सामने
 - ✓ 3. B के सामने
 - ✗ 4. B की बाईं ओर ठीक बगल में

Question ID : 65497831791

Status : Answered

Chosen Option : 3



Download SSC CGL, CHSL E-BOOKS

[CLICK HERE](#)

Q.3 यदि दर्पण को दाईं ओर रखा गया हो, तो दिए गए संयोजन के सही दर्पण प्रतिबिंब का चयन करें।

f h d B 3 1

Ans

- 1.
- 2.
- 3.
- 4.

Question ID : 65497831771
 Status : Answered
 Chosen Option : 3

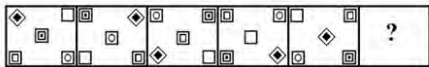
Q.4 'तलवार' का 'शस्त्र' से वही संबंध है, जो 'नेकलेस' का '_____' से है।

Ans

- 1. सुनार
- 2. गर्दन
- 3. आभूषण
- 4. महिलाएं

Question ID : 65497831790
 Status : Answered
 Chosen Option : 3

Q.5 दिए गए विकल्पों में से उस आकृति का चयन कीजिए जो दी गई श्रृंखला में प्रश्न चिह्न (?) के स्थान पर आ सकती है।



Ans

- 1.
- 2.
- 3.
- 4.

Question ID : 65497831783
 Status : Answered
 Chosen Option : 2

Q.6 दिए गए कथनों और निष्कर्षों को ध्यान से पढ़ें। यह मानते हुए कि कथनों में दी गई जानकारी सत्य है, भले ही यह सामान्य रूप से ज्ञात तथ्यों से भिन्न प्रतीत होती हो, यह निर्णय लें कि दिए गए निष्कर्षों में से कौन सा/से निष्कर्ष कथनों का तार्किक रूप से अनुसरण करता है / करते हैं।

कथन:

सभी अमरूद, नाशपातियाँ हैं।
कुछ कीवी, नाशपातियाँ हैं।

निष्कर्ष:

I. कुछ कीवी, अमरूद हैं।
II. कुछ नाशपातियाँ, कीवी हैं।

- Ans
- 1. न तो निष्कर्ष I और न ही II अनुसरण करता है।
 - 2. केवल निष्कर्ष I अनुसरण करता है।
 - 3. निष्कर्ष I और II दोनों अनुसरण करते हैं।
 - 4. केवल निष्कर्ष II अनुसरण करता है।

Question ID : 65497831773

Status : Answered

Chosen Option : 4

Q.7 वह विकल्प चुनें, जिसका तीसरी संख्या से ठीक वैसा ही संबंध है, जैसा कि दूसरी संख्या का संबंध पहली संख्या से है।

129 : 216 :: 165 : ?

- Ans
- 1. 252
 - 2. 348
 - 3. 269
 - 4. 306

Question ID : 65497831785

Status : Answered

Chosen Option : 1

Q.8 एक निश्चित कूट भाषा में, DANGER को EDSHHW के रूप में लिखा जाता है। उसी भाषा में SPEEDY को किस रूप में लिखा जाएगा?

- Ans
- 1. TSIEGE
 - 2. TSJFGD
 - 3. TSJEJE
 - 4. TSIFGD

Question ID : 65497831772

Status : Answered

Chosen Option : 2



Download SSC CGL, CHSL E-BOOKS

[CLICK HERE](#)

Q.9 छह लोग, K, L, M, N, O और P किसी षट्कोणीय आकृति वाले मैदान में बैठे हुए हैं, लेकिन यह आवश्यक नहीं कि वे समान क्रम में हों। L या M के बगल में K नहीं बैठा हुआ है। M या O के बगल में N नहीं बैठा हुआ है। L, M के बगल में बैठा हुआ है। M और N के बीच में P बैठा हुआ है। घड़ी की दिशा में लोगों के बैठने की स्थिति का सही क्रम क्या है?

- Ans
- 1. L-N-O-K-M-P
 - 2. L-M-P-N-K-O
 - 3. L-O-K-P-M-N
 - 4. L-M-N-P-K-O

Question ID : 65497831784
Status : Answered
Chosen Option : 2

Q.10 उस विकल्प को चुनिए जो तीसरे पद से उसी तरह संबंधित है जिस तरह दूसरा पद पहले पद से संबंधित है।

BUMP : NOSD :: PICK : ?

- Ans
- 1. IEGR
 - 2. GIAR
 - 3. QJBX
 - 4. LGDL

Question ID : 65497831777
Status : Answered
Chosen Option : 1

Q.11 चार अक्षर-समूह दिए गए हैं, जिनमें से तीन किसी तरह से एक समान हैं और एक असंगत है। उस अक्षर-समूह का चयन करें जो असंगत है।

- Ans
- 1. HFDZX
 - 2. CAYWU
 - 3. OMKIG
 - 4. TRPNL

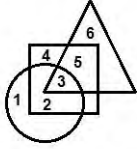
Question ID : 65497831768
Status : Answered
Chosen Option : 1



Download SSC CGL, CHSL E-BOOKS

[CLICK HERE](#)

Q.12 निम्नलिखित आरेख में, 'वृत्त', 'सैनिकों' को निरूपित करता है, 'वर्ग', 'भारतीयों' को निरूपित करता है, और 'त्रिभुज', 'गायकों' को निरूपित करता है। विभिन्न खंडों में दी गई संख्याएं उस श्रेणी से संबंधित व्यक्तियों की संख्या को दर्शाती हैं।



संख्या '5' किस श्रेणी को दर्शाती है?

- Ans
- 1. भारतीय गायक, जो सैनिक हैं
 - 2. भारतीय गायक, जो सैनिक नहीं हैं
 - 3. भारतीय सैनिक, जो गायक नहीं हैं
 - 4. भारतीय, जो न तो गायक हैं और न ही सैनिक हैं

Question ID : 65497831792

Status : Answered

Chosen Option : 2

Q.13 एक खास कोड भाषा में, 'VENDOR' को 'TMFLGT' लिखा जाता है। इस भाषा में 'CUSTOM' को कैसे लिखा जाएगा?

- Ans
- 1. DTVQPN
 - 2. OMVQWA
 - 3. BSTSPA
 - 4. OTVQMW

Question ID : 65497831778

Status : Answered

Chosen Option : 2

Q.14 दिए गए विकल्पों में से वह संख्या चुनें जो निम्नलिखित श्रेणी में प्रश्नवाचक चिह्न (?) के स्थान पर आ सकती है।

14, 16, 22, 34, 54, 84, ?

- Ans
- 1. 121
 - 2. 112
 - 3. 126
 - 4. 148

Question ID : 65497831770

Status : Answered

Chosen Option : 3



Download SSC CGL, CHSL E-BOOKS

[CLICK HERE](#)

Q.15 किसी निश्चित कूट भाषा में, 'SOBER' को '64' के रूप में कूटबद्ध किया जाता है और 'NOSTALGIA' को '107' के रूप में कूटबद्ध किया जाता है। उसी भाषा में 'REPAIR' को किस तरह कूटबद्ध किया जाएगा?

- Ans
- 1. 67
 - 2. 83
 - 3. 80
 - 4. 73

Question ID : 65497831769
Status : Answered
Chosen Option : 4

Q.16 दिए गए विकल्पों में से उस संख्या का चयन कीजिए जो दी गई श्रृंखला में प्रश्न चिह्न (?) के स्थान पर आ सकती है।

13, 15, 12, 17, 10, 21, 8, ?

- Ans
- 1. 25
 - 2. 23
 - 3. 22
 - 4. 24

Question ID : 65497831782
Status : Answered
Chosen Option : 1

Q.17 गणितीय चिह्नों का वह सही संयोजन चुनें जिससे (?) संकेतों को क्रमिक रूप से बदला जा सके और दिए गए समीकरण को सही बनाया जा सके।

72 ? 18 ? 11 ? 44

- Ans
- 1. +, -, =
 - 2. ×, +, =
 - 3. ×, +, =
 - 4. ÷, ×, =

Question ID : 65497831786
Status : Answered
Chosen Option : 4

Q.18 दिए गए पैटर्न का ध्यानपूर्वक अध्ययन करें और उस संख्या का चयन करें जो इसमें प्रश्न चिह्न (?) के स्थान पर आ सकती है।

13 30 34
27 ? 14
19 30 22

- Ans
- 1. 32
 - 2. 30
 - 3. 34
 - 4. 36

Question ID : 65497831774
Status : Not Answered
Chosen Option : --



Download SSC CGL, CHSL E-BOOKS

[CLICK HERE](#)

Q.19 उस अक्षर संयोजन का चयन करें जिसे दी गई श्रृंखला के रिक्त स्थानों में क्रमिक रूप से रखे जाने पर श्रृंखला पूर्ण हो जाएगी।

L_PO_LO_OK_OP_KL_POK

- Ans
- 1. O, O, P, K, L, O
 - 2. O, K, P, L, O, O
 - 3. O, P, O, K, O, L
 - 4. O, P, K, O, L, O

Question ID : 65497831781

Status : Answered

Chosen Option : 2

Q.20 एक सेब का मूल्य, एक केले के मूल्य के दो गुने से चार कम है, और एक पपीते का मूल्य, एक सेब के मूल्य से आधा है। यदि फलों का कुल मूल्य ₹ 150 है, तो केले का मूल्य क्या है?

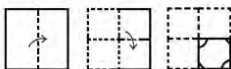
- Ans
- 1. ₹33
 - 2. ₹42
 - 3. ₹36
 - 4. ₹39

Question ID : 65497831775

Status : Answered

Chosen Option : 4

Q.21 नीचे दी गई आकृतियों में कागज़ के एक टुकड़े को मोड़ने का क्रम और मोड़े गए कागज़ को काटने का तरीका दर्शाया गया है। कागज़ को खोले जाने पर वह कैसा दिखाई देगा?



Ans

- 1.
- 2.
- 3.
- 4.

Question ID : 65497831776

Status : Answered

Chosen Option : 3



Download SSC CGL, CHSL E-BOOKS

[CLICK HERE](#)

Q.22 दिए गए विकल्पों में से उस अक्षर-समूह का चयन करें, जो निम्नलिखित श्रृंखला में प्रश्नवाचक चिह्न (?) के स्थान पर आ सकता है।

DQH, HUL, MZQ, SFW, ?

- Ans 1. YMC
 2. ZLC
 3. ZNE
 4. ZMD

Question ID : 65497831789
Status : Answered
Chosen Option : 4

Q.23 उस सही विकल्प का चयन कीजिए जो दिए गए शब्दों के उस क्रम को दर्शाता है जिस क्रम में वे अंग्रेजी शब्दकोश में आते हैं।

1. Terminus
2. Therefore
3. Terrace
4. Thesis
5. Thiamine

- Ans 1. 1, 5, 2, 4, 3
 2. 1, 3, 2, 4, 5
 3. 1, 2, 3, 4, 5
 4. 1, 2, 4, 3, 5

Question ID : 65497831780
Status : Answered
Chosen Option : 2



Download SSC CGL, CHSL E-BOOKS

[CLICK HERE](#)

Q.24 उस विकल्प को चुनें जिसमें दी गई आकृति अंतःस्थापित है (घुमाने की अनुमति नहीं है)।

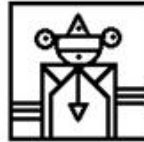


Ans

✗ 1.



✓ 2.



✗ 3.



✗ 4.



Question ID : 65497831788

Status : Answered

Chosen Option : 2

Q.25 P, Q, R, S, T और U एक परिवार के छह सदस्य हैं। P, Q का पति है। U, Q का भाई है। R, Q के एकमात्र भाई का पुत्र है। S, T की बहन है। P, S का पिता है। U का T से क्या संबंध है?

Ans ✓ 1. मामा

✗ 2. भाई

✗ 3. मौसेरा भाई

✗ 4. फूफा

Question ID : 65497831779

Status : Answered

Chosen Option : 1

Section : Part B General Knowledge and General Awareness

Q.1 मुगलों को अपने तैमूर (तिमुरीद) राजवंश पर गर्व था। वे इसे किस प्रकार मनाया करते थे?

Ans ✗ 1. सैनिकों को दिन समर्पित करके

✗ 2. देश में छुट्टी के रूप में एक विशेष दिन घोषित करके

✓ 3. प्रत्येक शासक को तैमूर और स्वयं का एक चित्र प्रदान करके

✗ 4. घुड़दौड़ और निशानेबाजी जैसे विभिन्न कार्यक्रम आयोजित करके

Question ID : 65497831808

Status : Answered

Chosen Option : 4



Download SSC CGL, CHSL E-BOOKS

CLICK HERE