

Constable GD in CAPFs NIA SSF and Rifleman GD in Assam Rifles Examination 2021

Roll Number	
Candidate Name	
Venue Name	ANAND INTERNATIONAL COLLEGE OF ENGINEERING JAIPUR
Exam Date	29/11/2021
Exam Time :	12:30 PM - 2:00 PM
Subject	Constable GD 2021

Section : Part A General Intelligence and Reasoning

Q.1 एक कक्षा में कुल 60 छात्र हैं। छात्र 'B' का रैंक, योग्यता क्रम में नीचे की ओर से 41वां है। ऊपर की ओर से छात्र 'B' का रैंक क्या है?

- Ans** 1. 20वां
 2. 21वां
 3. 22वां
 4. 23वां

Question ID : **65497832915**
Status : **Answered**
Chosen Option : 1

Q.2 दिए गए संयोजन के सही दर्पण प्रतिबिंब का चयन करें, जब दर्पण को दिखाए गए अनुसार PQ पर रखा गया है।

BD9SKC |

- Ans** 1. B D 9 S K C
 2. B D 9 S K C
 3. B D 9 S K C
 4. B D 9 S K C

Question ID : **65497832931**
Status : **Answered**
Chosen Option : 2



Download SSC CGL, CHSL E-BOOKS

[CLICK HERE](#)

Q.3 अक्षरों के उस संयोजन का चयन करें जिसे दी गई श्रेणी में रिक्त स्थानों पर क्रमिक रूप से रखने पर श्रेणी पूर्ण हो जाएगी।

K _ T _ STKM _ RST _ MTRS _ KM _ RST

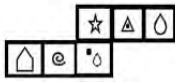
- Ans
- 1. K, T, R, M, T, R
 - 2. M, R, T, K, T, T
 - 3. M, T, R, K, T, R
 - 4. K, M, R, T, T, T

Question ID : 65497832933

Status : Answered

Chosen Option : 2

Q.4 उस बक्से का चयन करें जिसे दिए गए पत्रक (sheet) को उसकी रेखाओं पर मोड़कर बनाया जा सकता है।



Ans

- 1.
- 2.
- 3.
- 4.

Question ID : 65497832921

Status : Answered

Chosen Option : 4

Q.5 एक निश्चित कूट भाषा में, 'FAMILY' को 'QXBJSD' के रूप में लिखा जाता है। उसी भाषा में 'FILMY' को किस रूप में लिखा जाएगा?

- Ans
- 1. QBJSD
 - 2. QXBSD
 - 3. QDSBX
 - 4. QJSBD

Question ID : 65497832923

Status : Answered

Chosen Option : 4

Q.6 दिए गए विकल्पों में से उस अक्षर-समूह का चयन कीजिए जो दी गई श्रृंखला में प्रश्न चिह्न (?) के स्थान पर प्रतिस्थापित हो सकता है।

AU, BO, CI, DE, ?

- Ans
- 1. GE
 - 2. EA
 - 3. FI
 - 4. HU

Question ID : 65497832911
Status : Answered
Chosen Option : 2

Q.7 एक पंक्ति में, मानसी बाई ओर से 29वें और दाईं ओर से 33वें स्थान पर है। पंक्ति में कितने विद्यार्थी हैं?

- Ans
- 1. 61
 - 2. 55
 - 3. 60
 - 4. 65

Question ID : 65497832918
Status : Answered
Chosen Option : 1

Q.8 किसी कूट भाषा में, ROM को $\alpha \times @$ और HEIGHT को $\epsilon \div \beta \odot \infty^*$ के रूप में लिखा जाता है। उसी भाषा में TIGER को किस प्रकार से लिखा जाएगा?

- Ans
- 1. $\beta \odot \div @$
 - 2. $\times \div \beta \odot^*$
 - 3. $^* \beta \odot \div \alpha$
 - 4. $\odot \div @ \div \beta$

Question ID : 65497832914
Status : Answered
Chosen Option : 3



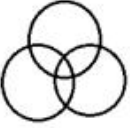
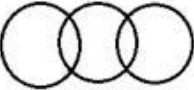

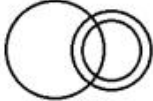
Download SSC CGL, CHSL E-BOOKS

[CLICK HERE](#)

Q.9 उस वेन आरेख का चयन करें, जो निम्नलिखित वर्गों के बीच के संबंध को सबसे अच्छे तरीके से दर्शाता है।

विद्यार्थी, खिलाड़ी, क्रिकेट खिलाड़ी

Ans

- ✘ 1. 
- ✘ 2. 
- ✘ 3. 
- ✔ 4. 

Question ID : 65497832917

Status : Answered

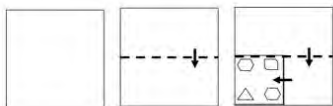
Chosen Option : 1



Download SSC CGL, CHSL E-BOOKS

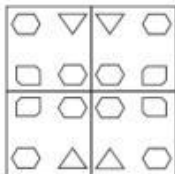
[CLICK HERE](#)

Q.10 नीचे दी गई आकृतियों में कागज़ के एक टुकड़े को मोड़ने और मोड़े गए कागज़ को काटने के तरीके का क्रम दर्शाया गया है। कागज़ को खोले जाने पर वह कैसा दिखाई देगा?




Ans


1.



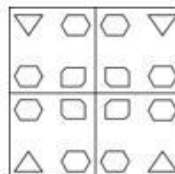
2.



3.



4.



Question ID : 65497832927

Status : Answered

Chosen Option : 4

Q.11 दिए गए कथनों और निष्कर्षों को ध्यान से पढ़ें। यह मानते हुए कि कथनों में दी गई जानकारी सत्य है, भले ही यह सामान्य रूप से ज्ञात तथ्यों से भिन्न प्रतीत होती हो, और यह निर्णय लें कि दिए गए निष्कर्षों में से कौन-सा/से निष्कर्ष कथनों का तार्किक रूप से अनुसरण करता है/करते हैं।

कथन:

सभी लड़के स्नातक हैं।

सभी स्नातक विवाहित हैं।

निष्कर्ष:

I. सभी लड़के विवाहित हैं।

II. सभी स्नातक विवाहित हैं।

Ans

1. निष्कर्ष I और II दोनों अनुसरण करते हैं।

2. केवल निष्कर्ष I अनुसरण करता है।

3. या तो निष्कर्ष I या तो II अनुसरण करता है।

4. केवल निष्कर्ष II अनुसरण करता है।

Question ID : 65497832924

Status : Answered

Chosen Option : 1



Download SSC CGL, CHSL E-BOOKS

CLICK HERE

Q.12 गणितीय चिह्नों के उस सही संयोजन का चयन करें जो '@' संकेतों के स्थान पर क्रमिक रूप से आ सकता है और दिए गए समीकरण को संतुलित कर सकता है।

13 @ 4 @ 5 @ 57

- Ans
- 1. +, ×, =
 - 2. ÷, -, =
 - 3. ×, +, =
 - 4. ×, -, =

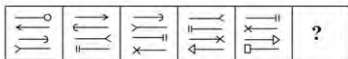
Question ID : 65497832920
 Status : Answered
 Chosen Option : 3

Q.13 72 विद्यार्थियों की एक कक्षा में लड़कों की संख्या लड़कियों की संख्या की दोगुनी है। लड़कों की संख्या ज्ञात करें।

- Ans
- 1. 24
 - 2. 48
 - 3. 36
 - 4. 18

Question ID : 65497832926
 Status : Answered
 Chosen Option : 2

Q.14 दिए गए विकल्पों में से उस आकृति का चयन कीजिए जो निम्नांकित श्रेणी में प्रश्नवाचक चिह्न (?) के स्थान पर आ सकती है।



Ans

- 1.
- 2.
- 3.
- 4.

Question ID : 65497832935
 Status : Answered
 Chosen Option : 2

Q.15 दिए गए विकल्पों में से उस संख्या का चयन कीजिए जो निम्न श्रेणी में प्रश्नवाचक चिह्न (?) के स्थान पर आएगी।

21, 22, 18, 27, 11, 36, ?

Ans 1. 72

2. 0

3. 27

4. 2

Question ID : 65497832934

Status : Answered

Chosen Option : 2

Q.16 उस विकल्प का चयन करें जो तीसरी संख्या से उसी प्रकार संबंधित है जिस प्रकार दूसरी संख्या पहली संख्या से संबंधित है।

234 : 171 :: 2535 : ?

Ans 1. 6414

2. 4838

3. 2393

4. 3787

Question ID : 65497832919

Status : Answered

Chosen Option : 1



Download SSC CGL, CHSL E-BOOKS

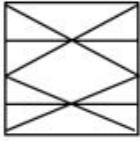
[CLICK HERE](#)

Q.17 उस विकल्प का चयन करें जिसमें दी गई आकृति अंतर्निहित है।

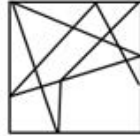


Ans

1.



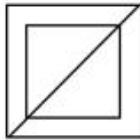
2.



3.



4.



Question ID : 65497832922
Status : Answered
Chosen Option : 2

Q.18 एक खास कूट भाषा में, 'KNOW' को '1614154' के रूप में कूटबद्ध किया जाता है। इस भाषा में 'HIRE' कैसे कूटबद्ध किया जाएगा?

Ans 1. 18191822

2. 199922

3. 1991822

4. 89185

Question ID : 65497832929
Status : Answered
Chosen Option : 3

Q.19 दिए गए विकल्पों में से उस संख्या का चयन करें, जो निम्नलिखित श्रृंखला में प्रश्नवाचक चिह्न (?) के स्थान पर आ सकती है।

9, 28, 65, 126, ?, 344

- Ans
- 1. 225
 - 2. 218
 - 3. 191
 - 4. 217

Question ID : 65497832930

Status : Not Attempted and Marked For Review

Chosen Option : --

Q.20 धीरज ने संदीप से कहा, "मेरी माँ तुम्हारी माँ की इकलौती पुत्री है।" धीरज की माँ संदीप से कैसे संबंधित है?

- Ans
- 1. माँ
 - 2. चाची
 - 3. बहन
 - 4. दादी

Question ID : 65497832916

Status : Answered

Chosen Option : 3

Q.21 चार अक्षर-समूह दिए गए हैं जिनमें से तीन किसी तरीके से समान हैं और एक भिन्न है। भिन्न अक्षर-समूह को चुनिए।

- Ans
- 1. ZOV
 - 2. VAQ
 - 3. XED
 - 4. WRU

Question ID : 65497832928

Status : Not Attempted and Marked For Review

Chosen Option : --

Q.22 'मनोभ्रंश' का संबंध 'स्मृति' से ठीक उसी तरह है, जैसे 'अनिद्रा' का संबंध '_____ ' से है।

- Ans
- 1. चलने
 - 2. नींद
 - 3. दौड़ने
 - 4. भूलने

Question ID : 65497832912

Status : Answered

Chosen Option : 2



Download SSC CGL, CHSL E-BOOKS

[CLICK HERE](#)

Q.23 उस सही विकल्प का चयन कीजिए जो दिए गए शब्दों के उस क्रम को दर्शाता है जिस क्रम में वे अंग्रेजी शब्दकोश में आते हैं।

1. Poverty
2. Pretension
3. Perturb
4. Pendant
5. Pollution

- Ans 1. 4, 5, 3, 1, 2
 2. 4, 3, 5, 1, 2
 3. 3, 5, 2, 1, 4
 4. 3, 4, 2, 1, 5

Question ID : 65497832932
Status : Answered
Chosen Option : 2

Q.24 दिए गए पैटर्न का ध्यानपूर्वक अध्ययन करें और उस संख्या का चयन करें जो इसमें प्रश्न चिह्न (?) के स्थान पर आ सकती है।

26 18 13
50 21 46
626 ? 123

- Ans 1. 303
 2. 313
 3. 246
 4. 324

Question ID : 65497832925
Status : Not Attempted and Marked For Review
Chosen Option : --

Q.25 उस विकल्प का चयन करें जो तीसरे पद से ठीक उसी प्रकार से संबंधित है जैसे दूसरा पद पहले पद से संबंधित है।

DRON : BPML :: HOST : ?

- Ans 1. FMQR
 2. MRQF
 3. FMRQ
 4. MFRQ

Question ID : 65497832913
Status : Answered
Chosen Option : 1

Section : Part B General Knowledge and General Awareness