

## Constable GD in CAPFs NIA SSF and Rifleman GD in Assam Rifles Examination 2021

Roll Number	
Candidate Name	
Venue Name	CLM Resources and Management
Exam Date	29/11/2021
Exam Time :	9:00 AM - 10:30 AM
Subject	Constable GD 2021

### Section : Part A General Intelligence and Reasoning

Q.1 दिए गए विकल्पों में से उस संख्या का चयन करें जो निम्नलिखित श्रृंखला में प्रश्न चिह्न (?) के स्थान पर आ सकती है।

6, 8, 20, 66, ?

Ans  1. 312

2. 204

3. 284

4. 272

Question ID : 65497830889

Status : Not Answered

Chosen Option : --

Q.2 दिए गए कथनों और निष्कर्षों को ध्यानपूर्वक पढ़ें। कथनों में दी गई जानकारी को सत्य मानते हुए, भले ही वो सामान्य रूप से ज्ञात तथ्यों से भिन्न प्रतीत होती हो, बताइए कि निम्न में से कौन से निष्कर्ष कथनों का तार्किक रूप से अनुसरण करते हैं।

कथन :

- कुछ फूल, रसायन हैं।
- कुछ रसायन, जड़ी-बूटी हैं।

निष्कर्ष:

- कोई भी फूल, जड़ी-बूटी नहीं है।
- कुछ फूल, जड़ी-बूटी हैं।

Ans  1. या तो निष्कर्ष I या निष्कर्ष II अनुसरण करता है।

2. निष्कर्ष I और II दोनों अनुसरण करते हैं।

3. केवल निष्कर्ष II अनुसरण करता है।

4. केवल निष्कर्ष I अनुसरण करता है।

Question ID : 65497830880

Status : Answered

Chosen Option : 1

Q.3 पाँच मित्र श्रुति, श्रेया, अनूप, अंकित और किरण एक पंक्ति में दक्षिण की ओर मुँह करके बैठे हैं। श्रुति, श्रेया और अनूप के बीच है। किरण और श्रेया क्रमशः पश्चिम और पूर्व के अंतिम सिरो पर बैठे हैं। बीच में कौन बैठा/बैठी है?

Ans  1. श्रुति

2. किरण

3. अंकित

4. अनूप

Question ID : 65497830902

Status : Answered

Chosen Option : 1



Download SSC CGL, CHSL E-BOOKS

[CLICK HERE](#)

Q.4 दिए गए विकल्पों में से उस संख्या का चयन करें जो निम्नलिखित श्रृंखला में प्रश्न चिह्न (?) के स्थान पर आ सकती है।

53, 74, 95, 116, ?

Ans  1. 137

2. 143

3. 129

4. 125

Question ID : 65497830894

Status : Answered

Chosen Option : 1

Q.5 दिए गए विकल्पों में से उस अक्षर-समूह का चयन करें जो निम्नलिखित श्रृंखला में प्रश्न चिह्न (?) के स्थान पर आ सकता है।

BY, FU, JQ, NM, RI, ?

Ans  1. WD

2. EV

3. VE

4. UE

Question ID : 65497830900

Status : Answered

Chosen Option : 3

Q.6 उस विकल्प का चयन करें जो तीसरे शब्द से उसी प्रकार संबंधित है जिस प्रकार दूसरा शब्द पहले शब्द से संबंधित है।

इंटोमोलॉजी (Entomology): कीट :: इथियोलॉजी (Ichthyology) : ?

Ans  1. जीवाणु

2. सिक्का

3. मछली

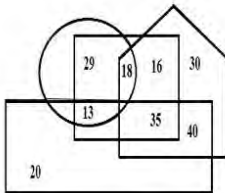
4. मधु

Question ID : 65497830901

Status : Answered

Chosen Option : 1

Q.7 दी गई आकृति में, पंचभुज 'नेपाली शब्दों' को निरूपित करता है, वृत्त 'हिंदी शब्दों' को निरूपित करता है, आयत 'अंग्रेजी शब्दों' को निरूपित करता है, और वर्ग 'फारसी शब्दों' को निरूपित करता है।



कौन सी संख्या अंग्रेजी और फारसी के उन शब्दों को निरूपित करती है जो हिंदी शब्दों में शामिल हैं?

Ans  1. 16

2. 29

3. 13

4. 35

Question ID : 65497830903

Status : Answered

Chosen Option : 3



Download SSC CGL, CHSL E-BOOKS

[CLICK HERE](#)

Q.8 एक निश्चित कूट भाषा में, 'JAIPUR' को 'AJPIRU' के रूप में लिखा जाता है और 'BHOPAL' को 'HBPOLA' के रूप में लिखा जाता है। उसी भाषा में 'INDORE' को किस रूप में लिखा जाएगा?

- Ans  1. NIODER  
 2. DNEERO  
 3. DINRUP  
 4. NDOIER

Question ID : 65497830885  
 Status : Answered  
 Chosen Option : 1

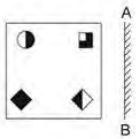
Q.9 नौ विद्यार्थी, अजय, गीता, नव्या, विपिन, पिकी, कबीर, मोहन, सरोज और रानी, अपनी ऊँचाइयों के घटते क्रम के अनुसार बाईं ओर से दाईं ओर एक पंक्ति में खड़े हैं। अजय ठीक बीच में खड़ा है। मोहन और कबीर क्रमशः बाईं ओर दाईं ओर से तीसरे स्थान पर हैं। गीता पंक्ति के किसी एक छोर पर है। नव्या, अजय के बाईं ओर बिल्कुल बगल में खड़ी है। सभी नौ छात्रों में विपिन सबसे ऊँचा है। रानी, अजय और कबीर के बीच खड़ी है। पिकी दाईं ओर से आठवें स्थान पर है।

दाईं ओर से दूसरे स्थान पर कौन है?

- Ans  1. सरोज  
 2. पिकी  
 3. कबीर  
 4. मोहन

Question ID : 65497830893  
 Status : Answered  
 Chosen Option : 1

Q.10 दर्पण को AB रेखा पर रखे जाने पर निम्न आकृति के सही दर्पण प्रतिबिंब का चयन कीजिए।



Ans

- 1.
- 2.
- 3.
- 4.

Question ID : 65497830890  
 Status : Answered  
 Chosen Option : 2

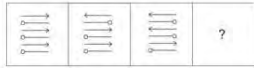
Q.11 उस विकल्प का चयन करें, जिसकी संख्याएँ आपस में उसी प्रकार संबंधित हैं, जिस प्रकार दिए गए समुच्चय की संख्याएँ आपस में संबंधित हैं।

(8, 112, 49)

- Ans  1. (15, 85, 25)  
 2. (16, 117, 81)  
 3. (12, 48, 64)  
 4. (7, 154, 121)

Question ID : 65497830881  
 Status : Answered  
 Chosen Option : 3

Q.12 दिए गए विकल्पों में से उस आकृति का चयन करें जो नीचे दी गई श्रृंखला में प्रश्न चिह्न (?) के स्थान पर आ सकती है।



Ans

- 1.
- 2.
- 3.
- 4.

Question ID : 65497830897  
 Status : Answered  
 Chosen Option : 1

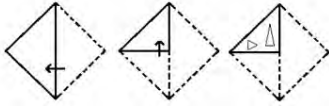
Q.13 एक काल्पनिक गणितीय प्रणाली में, प्रतीक '@' का अर्थ जोड़ है, प्रतीक '\$' का अर्थ विभाजन है, प्रतीक '&' का अर्थ घटाव है, और प्रतीक '#' का अर्थ गुणा है। निम्नलिखित अभिव्यंजक का मान क्या होगा?

165 \$ 11 # 15 & 4 @ 6

- Ans  1. 227  
 2. 157  
 3. 352  
 4. 355

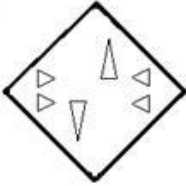
Question ID : 65497830896  
 Status : Answered  
 Chosen Option : 1

Q.14 निम्नांकित चित्रों में एक कागज को मोड़ने के क्रम और मुड़े हुए कागज को काटने का तरीका दर्शाया गया है। मुड़े हुए कागज को खोलने पर यह कैसा दिखाई देगा?

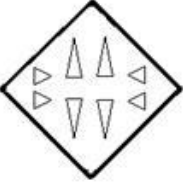


Ans

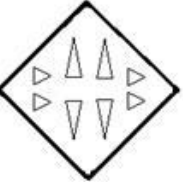
✗ 1.



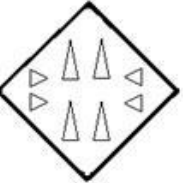
✓ 2.



✗ 3.



✗ 4.



Question ID : 65497830883  
Status : Answered  
Chosen Option : 2

Q.15 उस विकल्प का चयन करें जो तीसरे अक्षर-समूह से उसी प्रकार संबंधित है जिस प्रकार दूसरा अक्षर-समूह पहले अक्षर-समूह से संबंधित है।

SNJ : UQL :: XPT : ?

Ans

✓ 1. ZSV

✗ 2. ZTU

✗ 3. YTW

✗ 4. YSV

Question ID : 65497830884  
Status : Answered  
Chosen Option : 1



Download SSC CGL, CHSL E-BOOKS

[CLICK HERE](#)

Q.16 75 विद्यार्थियों की एक कक्षा में, 40 विद्यार्थी क्रिकेट में भाग लेते हैं, 28 विद्यार्थी हॉकी में भाग लेते हैं और 12 विद्यार्थी क्रिकेट और हॉकी दोनों में भाग लेते हैं। वहीं 19 विद्यार्थी इन दोनों में से किसी भी खेल में भाग नहीं लेते हैं। कितने विद्यार्थी केवल हॉकी में भाग लेते हैं?

- Ans
- 1. 44
  - 2. 28
  - 3. 16
  - 4. 35

Question ID : 65497830882  
Status : Answered  
Chosen Option : 2

Q.17 एक निश्चित कूट भाषा में, 'ATUL' को '1-20-21-12' के रूप में कूटबद्ध किया जाता है और 'RAJU' को '18-1-10-21' के रूप में कूटबद्ध किया जाता है। उसी भाषा में 'GITA' को किस रूप में कूटबद्ध किया जाएगा?

- Ans
- 1. 7-9-20-1
  - 2. 5-11-22-1
  - 3. 6-10-20-1
  - 4. 8-9-20-1

Question ID : 65497830888  
Status : Answered  
Chosen Option : 1

Q.18 एक विशिष्ट कूट भाषा में, 'INAUGRAL' को 'UANILARG' लिखा जाता है। उसी भाषा में 'PROLIFER' को क्या लिखा जाएगा?

- Ans
- 1. LOPRERFJ
  - 2. LORPREFI
  - 3. RPLIFIRE
  - 4. ORPIFREF

Question ID : 65497830879  
Status : Answered  
Chosen Option : 2

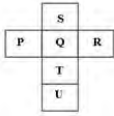
Q.19 उस विकल्प का चयन कीजिए जिसमें निम्न शब्दों का वह क्रम दिया गया है, जिस क्रम में वे अंग्रेजी शब्दकोश में मौजूद होते हैं।

1. Delicious
2. Deliberate
3. Delinquent
4. Delirium
5. Delicacy

- Ans
- 1. 3, 5, 1, 4, 2
  - 2. 2, 5, 3, 4, 1
  - 3. 2, 5, 1, 4, 3
  - 4. 2, 5, 1, 3, 4

Question ID : 65497830891  
Status : Answered  
Chosen Option : 4

Q.20 दिए गए शीट को मोड़कर एक घन बनाया गया है। इस प्रकार बने घन में, 'Q' अक्षर दर्शाने वाले फलक के विपरीत फलक पर कौन सा अक्षर होगा?



- Ans
- 1. U
  - 2. T
  - 3. S
  - 4. R

Question ID : 65497830898  
Status : Answered  
Chosen Option : 1

Q.21 मनोज, कपिल के पिता हैं। कपिल, माया का एकलौता बेटा है। काव्या, माया की बेटी है। नेहा, काव्या की एकलौती बेटी है। कपिल का नेहा से क्या संबंध है?

- Ans
- 1. दादा
  - 2. पिता
  - 3. भाई
  - 4. मामा

Question ID : 65497830886  
Status : Answered  
Chosen Option : 3

Q.22 उस विकल्प का चयन करें जो तीसरी संख्या से उसी प्रकार संबंधित है जिस प्रकार दूसरी संख्या पहली संख्या से संबंधित है।

154 : 10 :: 261 : ?

- Ans
- 1. 8
  - 2. 9
  - 3. 10
  - 4. 7

Question ID : 65497830895  
Status : Answered  
Chosen Option : 2

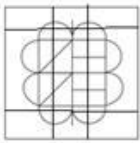


Q.23 उस विकल्प का चयन करें जिसमें दी गई आकृति अंतर्निहित है (घुमाने की अनुमति नहीं है)।

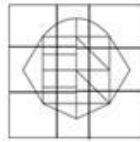


Ans

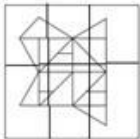
1.



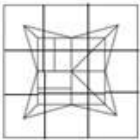
2.



3.



4.



Question ID : 65497830899  
Status : Answered  
Chosen Option : 2

Q.24 अक्षरों के उस संयोजन का चयन करें जो दी गई श्रृंखला के रिक्त स्थान में क्रमिक रूप से रखे जाने पर श्रृंखला को पूर्ण करेगा।

\_ a d f b \_ d f b a \_ f b a d \_

Ans

1. d f b a

2. b a f d

3. a b f d

4. b a d f

Question ID : 65497830892  
Status : Answered  
Chosen Option : 4

Q.25 चार अक्षर-समूह दिए गए हैं, जिनमें से तीन किसी तरह से संगत हैं और कोई एक असंगत है। असंगत अक्षर-समूह का चयन कीजिए।

Ans

1. RUW

2. SVY

3. JMO

4. NQS

Question ID : 65497830887  
Status : Answered  
Chosen Option : 2

Section : Part B General Knowledge and General Awareness