

Constable GD in CAPFs NIA SSF and Rifleman GD in Assam Rifles Examination 2021

Roll Number	
Candidate Name	
Venue Name	iON Digital Zone iDZ Ramtekdi 2
Exam Date	26/11/2021
Exam Time :	4:00 PM - 5:30 PM
Subject	Constable GD 2021

Section : Part A General Intelligence and Reasoning

Q.1 एक निश्चित कूट भाषा में, 'HORNS' को 'SRONH' और 'CRUDE' को 'UREDC' लिखा जाता है। उसी कूट भाषा में, 'FACTOR' को किस प्रकार लिखा जाएगा?

Ans 1. TROFCA

2. ACFOTR

3. TSOCAE

4. TROACF

Question ID : 65497828593

Status : **Not Attempted and
Marked For Review**

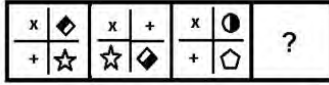
Chosen Option : --



Download SSC CGL, CHSL E-BOOKS

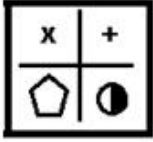
[CLICK HERE](#)

Q.2 दिए गए विकल्पों में से उस आकृति का चयन करें, जो निम्नलिखित श्रृंखला में प्रश्नवाचक चिह्न (?) के स्थान पर आ सकती है।

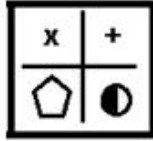


Ans

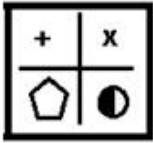
✗ 1.



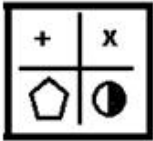
✓ 2.



✗ 3.



✗ 4.



Question ID : 65497828614

Status : Answered

Chosen Option : 1

Q.3 एक निश्चित कूट भाषा में, 'RAT' को '39' लिखा जाता है; और 'BEAR' को '26' लिखा जाता है। उसी कूट भाषा में 'SNAKE' को किस प्रकार लिखा जाएगा?

Ans ✗ 1. 54

✓ 2. 50

✗ 3. 52

✗ 4. 48

Question ID : 65497828599

Status : Answered

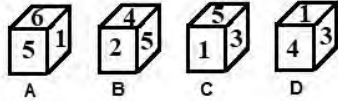
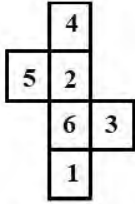
Chosen Option : 2



Download SSC CGL, CHSL E-BOOKS

CLICK HERE

Q.4 उन पासों का चयन कीजिए, जिन्हें दी गई शीट को रेखाओं पर मोड़कर बनाया जा सकता है।



- Ans
- 1. केवल A, C और D
 - 2. केवल A और D
 - 3. केवल A
 - 4. केवल A और C

Question ID : 65497828605

Status : Answered

Chosen Option : 2

Q.5 यदि 'A' का अर्थ 'जोड़' है, 'B' का अर्थ 'गुणा' है, 'C' का अर्थ 'घटाना' है, और 'D' का अर्थ 'भाग' है, तो निम्न व्यंजक का मान कितना होगा?

90 D (2 B 5) A 4 B (12 A 10) C 4 B (17 C 10)

- Ans
- 1. 67
 - 2. 69
 - 3. 65
 - 4. 61

Question ID : 65497828604

Status : Answered

Chosen Option : 2



Download SSC CGL, CHSL E-BOOKS

[CLICK HERE](#)

Q.6 उस विकल्प का चयन कीजिए जिसमें दी गई आकृति सन्निकित है। (आकृति को घुमाने की अनुमति नहीं है)



Ans

✓ 1.



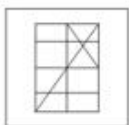
✗ 2.



✗ 3.



✗ 4.



Question ID : 65497828606

Status : Answered

Chosen Option : 1

Q.7 अरुणिमा ने साहिल से कहा, "तुम्हारे साले की इकलौती बहन का पुत्र मेरा नाती है।" साहिल का अरुणिमा से क्या संबंध है?

Ans

✗ 1. पुत्र

✗ 2. ससुर

✓ 3. दामाद

✗ 4. चाचा

Question ID : 65497828617

Status : Answered

Chosen Option : 3

Q.8 पांच मित्र A, B, C, D और E एक सीधी पंक्ति में बैठे हैं। A और B एक-दूसरे के बगल में बैठे हैं। B, A और C के बीच में बैठा है। A, D के बाईं ओर तीसरे स्थान पर बैठा है। D दाएं सिरे से दूसरे स्थान पर बैठा है। बाएं सिरे से तीसरे स्थान पर कौन बैठा है?

Ans

✗ 1. D

✓ 2. C

✗ 3. E

✗ 4. A

Question ID : 65497828602

Status : Answered

Chosen Option : 2



Download SSC CGL, CHSL E-BOOKS

[CLICK HERE](#)

Q.9 उस विकल्प का चयन कीजिए जिसमें दी गई संख्याएँ आपस में उसी तरह से संबंधित हैं जिस प्रकार दिए गए समुच्चय की संख्याएँ आपस में संबंधित हैं।

(7, 308, 11)

- Ans
- 1. (9, 160, 8)
 - 2. (16, 239, 6)
 - 3. (12, 324, 9)
 - 4. (8, 164, 5)

Question ID : 65497828595

Status : **Not Attempted and Marked For Review**

Chosen Option : --

Q.10 214 कर्मचारियों वाले एक संगठन में, 120 ने क्ले मॉडलिंग में भाग लिया और 130 ने पोस्टर मेकिंग में भाग लिया, 36 कर्मचारियों ने क्ले मॉडलिंग और पोस्टर मेकिंग दोनों में भाग लिया। यदि प्रत्येक कर्मचारी ने दो गतिविधियों में से कम से कम एक में भाग लिया, तो कितने कर्मचारियों ने केवल पोस्टर मेकिंग में भाग लिया?

- Ans
- 1. 80
 - 2. 94
 - 3. 84
 - 4. 90

Question ID : 65497828596

Status : **Marked For Review**

Chosen Option : 3

Q.11 उस विकल्प का चयन करें, जिसका तीसरे शब्द से वही संबंध है, जो दूसरे शब्द का पहले शब्द से है।

गति : स्पीडोमीटर :: वायु दाब : ?

- Ans
- 1. बैरोमीटर (Barometer)
 - 2. अल्टीमीटर (Altimeter)
 - 3. वैरियोमीटर (Variometer)
 - 4. हाइप्सोमीटर (Hypsometer)

Question ID : 65497828608

Status : **Marked For Review**

Chosen Option : 1



Download SSC CGL, CHSL E-BOOKS

[CLICK HERE](#)

Q.12 उस वेन आरेख का चयन करें, जो निम्नलिखित वर्गों के बीच के संबंध को सबसे अच्छे तरीके से दर्शाता है।

अनाज, चुकंदर, कीवी

Ans



Question ID : 65497828610

Status : Answered

Chosen Option : 4

Q.13 दिए गए विकल्पों में से उस संख्या का चयन करें, जो निम्नलिखित श्रेणी में प्रश्नवाचक चिह्न (?) के स्थान पर आ सकती है।

21, 32, 54, ?, 131

Ans

1. 87

2. 72

3. 95

4. 66

Question ID : 65497828613

Status : Answered

Chosen Option : 1

Q.14 दिए गए विकल्पों में से उस अक्षर-समूह का चयन करें, जो निम्नलिखित श्रृंखला में प्रश्नवाचक चिह्न (?) के स्थान पर आ सकता है।

KMQW, HJNT, CEIO, ?

Ans

1. ACGM

2. IMST

3. FINT

4. OQSY

Question ID : 65497828607

Status : Not Attempted and Marked For Review

Chosen Option : --



Download SSC CGL, CHSL E-BOOKS

[CLICK HERE](#)

Q.15 दिए गए कथनों और निष्कर्षों को ध्यान से पढ़िए। कथनों में दी गई जानकारी को सत्य मानते हुए विचार करें, भले ही वे सामान्यतः ज्ञात तथ्यों से भिन्न प्रतीत होती हों, और बताएं कि दिए गए निष्कर्षों में से कौन से तार्किक रूप से कथनों का पालन करते हैं?

कथन:

1. कोई भी लड़की, संगीतकार नहीं है।
2. कोई भी संगीतकार, शिक्षक नहीं है।
3. सभी सितारे, संगीतकार हैं।

निष्कर्ष:

- I. कोई भी सितारा, लड़की नहीं है।
- II. कोई भी सितारा, शिक्षक नहीं है।

- Ans
- 1. कोई भी निष्कर्ष पालन नहीं करता है।
 - 2. केवल निष्कर्ष I पालन करता है।
 - 3. दोनों ही निष्कर्ष पालन करते हैं।
 - 4. केवल निष्कर्ष II पालन करता है।

Question ID : 65497828594

Status : Answered

Chosen Option : 3

Q.16 दिए गए विकल्पों में से उस संख्या का चयन करें, जो निम्नलिखित श्रेणी में प्रश्नवाचक चिह्न (?) के स्थान पर आ सकती है।

31, 37, 41, 43, ?

- Ans
- 1. 45
 - 2. 47
 - 3. 51
 - 4. 49

Question ID : 65497828600

Status : Answered

Chosen Option : 4

Q.17 उस विकल्प का चयन कीजिए, जिसका तीसरी संख्या से वही संबंध है, जो दूसरी संख्या का पहली संख्या से है।

8 : 104 :: 16 : ?

- Ans
- 1. 336
 - 2. 300
 - 3. 335
 - 4. 320

Question ID : 65497828603

Status : Not Attempted and Marked For Review

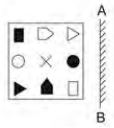
Chosen Option : --



Download SSC CGL, CHSL E-BOOKS


[CLICK HERE](#)

Q.18 दर्पण को 'AB' पर रखे जाने पर, जैसा कि दर्शाया गया है, दी गई आकृति के सही दर्पण प्रतिबिंब का चयन करें।



Ans

✓ 1.




✗ 2.



✗ 3.



✗ 4.



Question ID : 65497828601

Status : Answered

Chosen Option : 1

Q.19 उस सही विकल्प का चयन करें, जो दिए गए शब्दों के उस क्रम को दर्शाता है, जिस क्रम में वे अंग्रेजी शब्दकोश में मौजूद होते हैं।

1. Program
2. Problem
3. Proposal
4. Profound
5. Property

Ans ✓ 1, 2, 4, 1, 5, 3

✗ 2, 3, 2, 4, 5, 1

✗ 3, 2, 1, 4, 5, 3

✗ 4, 4, 2, 1, 3, 5

Question ID : 65497828611

Status : Answered

Chosen Option : 1



Download SSC CGL, CHSL E-BOOKS

CLICK HERE

Q.20 अक्षरों के उस संयोजन का चयन करें, जिसे दी गई श्रृंखला के रिक्त स्थानों में क्रमवार भरने पर श्रृंखला पूर्ण हो जाएगी।

Z _ _ U M _ A F _ M _ A _ _ M

- Ans
- 1. DZFUMZA
 - 2. AFZUFU
 - 3. UADZMFZ
 - 4. FDPZMUF

Question ID : 65497828612
Status : Answered
Chosen Option : 2

Q.21 छह मित्र P, Q, R, S, T और U दो पंक्तियों में बैठे हैं, प्रत्येक पंक्ति में तीन मित्र बैठे हैं। S किसी भी पंक्ति के सिरे पर नहीं बैठा है। T, R के बगल में बैठा है। R और U, विकर्णतः एक दूसरे के सामने बैठे हैं। P, U के बाईं ओर दूसरे स्थान पर बैठा है। दिए गए विकल्पों में से कौन से तीन मित्र समान पंक्ति में बैठे हैं?

- Ans
- 1. TQU और PRS
 - 2. PTQ और RSU
 - 3. PSU और RTQ
 - 4. STU और PRQ

Question ID : 65497828609
Status : Answered
Chosen Option : 3

Q.22 एक निश्चित कूट भाषा में, 'INSPIRE' को 'JPTTJZF' लिखा जाता है। उसी कूट भाषा में 'FORGIVE' को किस प्रकार लिखा जाएगा?

- Ans
- 1. GQRKIDF
 - 2. GQSLIDF
 - 3. GQTKJEF
 - 4. GQSKJDF

Question ID : 65497828616
Status : Answered
Chosen Option : 4

Q.23 उस विकल्प का चयन करें, जो तीसरे अक्षर-समूह से वही संबंध है, जो दूसरे अक्षर-समूह का पहले अक्षर-समूह से है।

HKN : KOS :: MPS : ?

- Ans
- 1. PTW
 - 2. TPX
 - 3. TPW
 - 4. PTX

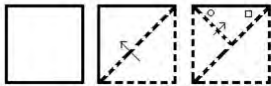
Question ID : 65497828615
Status : Answered
Chosen Option : 4

Q.24 चार अक्षर-समूह दिए गए हैं, जिनमें से तीन किसी तरह से संगत हैं और एक असंगत है। असंगत अक्षर-समूह का चयन करें।

- Ans
- 1. HQZ
 - 2. DMV
 - 3. HQY
 - 4. BKT

Question ID : 65497828598
Status : Answered
Chosen Option : 3

Q.25 निम्नलिखित आकृतियों में कागज के एक टुकड़े को मोड़ने का क्रम और उसे काटने की विधि दर्शाई गई है। इस कागज को खोलने पर यह कैसा दिखाई देगा?



Ans

- 1.
- 2.
- 3.
- 4.

Question ID : 65497828597
Status : Answered
Chosen Option : 3

Section : Part B General Knowledge and General Awareness

Q.1 निम्नलिखित में से किस राज्य में जन्म के समय जीवन प्रत्याशा सबसे अधिक है?

- Ans
- 1. हरियाणा
 - 2. केरल
 - 3. गोवा
 - 4. तमिलनाडु

Question ID : 65497828619
Status : Answered