

Constable GD in CAPFs NIA SSF and Rifleman GD in Assam Rifles Examination 2021

Roll Number	
Candidate Name	
Venue Name	iON Digital Zone iDZ Dohna
Exam Date	26/11/2021
Exam Time :	12:30 PM - 2:00 PM
Subject	Constable GD 2021

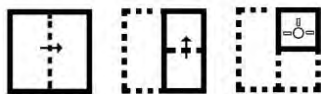
Section : **Part A General Intelligence and Reasoning**

Q.1 एक निश्चित कूट भाषा में, 'FLOWER' को 'KQTSAN' के रूप में लिखा जाता है। उसी कूट भाषा में 'WINDOW' को किस रूप में लिखा जाएगा?

- Ans**
- 1. CNSZLS
 - 2. BNSZKS
 - 3. BNSALS
 - 4. BMSAKS

Question ID : 65497831393
Status : Answered
Chosen Option : 2

Q.2 नीचे दी गई आकृतियों में कागज के एक टुकड़े को मोड़ने का क्रम और उस मुड़े हुए कागज को काटने का तरीका दर्शाया गया है। इस कागज को खोलने पर यह कैसा दिखेगा?



Ans

- 1.
- 2.
- 3.
- 4.

Question ID : 65497831403
Status : Answered
Chosen Option : 4

Q.3 छः मित्र, G, H, I, J, K और L, एक गोल मेज़ के परितः, मेज़ के केंद्र की ओर मुंह करके बैठे हुए हैं। H, G के बाईं ओर तीसरे स्थान पर बैठा है। L और I, H के बगल में नहीं हैं। K, I के दाईं ओर बगल में बैठा है। L के बाईं ओर बगल में कौन बैठा है?

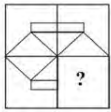
- Ans
- 1. I
 - 2. J
 - 3. G
 - 4. H

Question ID : 65497831397

Status : Not Attempted and Marked For Review

Chosen Option : --

Q.4 दिए गए विकल्पों में से उस आकृति का चयन कीजिए जो निम्नांकित पैटर्न में प्रश्नवाचक चिह्न (?) के स्थान पर आ सकती है और पैटर्न को पूरा कर सकती है। (आकृति को घुमाने की अनुमति नहीं है)



- Ans
- 1.
 - 2.
 - 3.
 - 4.

Question ID : 65497831407

Status : Answered

Chosen Option : 1

Q.5 अक्षरों के उस संयोजन का चयन करें जिसे दी गई श्रेणी में रिक्त स्थानों पर क्रमिक रूप से रखने पर श्रेणी पूर्ण हो जाएगी।

TK_TKT_P_K_KPTK_K_TK

- Ans
- 1. P, K, T, P, K, T
 - 2. P, K, T, T, T, P
 - 3. P, T, T, K, P, T
 - 4. P, T, K, P, T, K

Question ID : 65497831405

Status : Answered

Chosen Option : 2



Download SSC CGL, CHSL E-BOOKS

[CLICK HERE](#)

Q.6 दिए गए विकल्पों में से उस संख्या का चयन कीजिए जो निम्न श्रेणी में प्रश्नवाचक चिह्न (?) के स्थान पर आएगी।

31, 32, 36, 63, 79, 204, ?

Ans 1. 240

2. 220

3. 204

4. 202

Question ID : 65497831406

Status : Answered

Chosen Option : 1

Q.7 उस विकल्प का चयन करें जो तीसरे पद से उसी प्रकार संबंधित है जिस प्रकार दूसरा पद पहले पद से संबंधित है।

LARGE : NDTJG :: APPLES : ?

Ans 1. CSROPU

2. CSROGV

3. DSROGV

4. CSORGV

Question ID : 65497831392

Status : Answered

Chosen Option : 2

Q.8 उस सही विकल्प का चयन कीजिए जो दिए गए शब्दों के उस क्रम को दर्शाता है जिस क्रम में वे अंग्रेजी शब्दकोश में आते हैं।

1. Censored
2. Cerebellum
3. Centripetal
4. Ceremonial
5. Centurion

Ans 1. 1, 3, 5, 2, 4

2. 3, 1, 2, 5, 4

3. 1, 5, 3, 4, 2

4. 3, 2, 1, 4, 5

Question ID : 65497831404

Status : Answered

Chosen Option : 1

Q.9 दिए गए विकल्पों में से उस अक्षर-समूह का चयन करें जो निम्नलिखित श्रृंखला में प्रश्न चिह्न (?) के स्थान पर आ सकता है।

STGMQ, SGQTM, SQMGT, ?

Ans 1. SGTQM

2. SMTQG

3. SMQTG

4. STQMG

Question ID : 65497831395

Status : Answered

Chosen Option : 2



Download SSC CGL, CHSL E-BOOKS

[CLICK HERE](#)

Q.10 उस विकल्प का चयन कीजिए जो चौथी संख्या से उसी प्रकार है जिस प्रकार पहली संख्या दूसरी संख्या से और पांचवीं संख्या छठी संख्या से संबंधित है।

15 : 555 :: ? : 221 :: 17 : 719

Ans 1. 11

2. 5

3. 23

4. 19

Question ID : 65497831388

Status : Answered

Chosen Option : 2

Q.11 चार अक्षर-समूह दिए गए हैं, जिनमें से तीन किसी प्रकार से समान हैं और एक उनसे असंगत है। उस असंगत अक्षर-समूह का चयन करें।

Ans 1. DEWK

2. BQJM

3. ATGN

4. GSHH

Question ID : 65497831408

Status : Answered

Chosen Option : 1

Q.12 किसी निश्चित कूट भाषा में, 'FLORA' को 'DORII' के रूप में लिखा जाता है। उसी कूट भाषा में 'MUSIC' को किस रूप में लिखा जाएगा?

Ans 1. GQWQF

2. FVFPR

3. FFVRP

4. GFWQQ

Question ID : 65497831399

Status : Answered

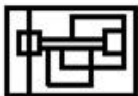
Chosen Option : 3

Q.13 उस विकल्प का चयन करें जिसमें दी गई आकृति सन्निकित है (आकृति को घुमाने की अनुमति नहीं है)।



Ans

1.



2.



3.



4.



Question ID : 65497831391

Status : Answered

Chosen Option : 1



Download SSC CGL, CHSL E-BOOKS

[CLICK HERE](#)

Q.14 विकल्पों में से उस संख्या का चयन कीजिए जो नीचे दी गई श्रृंखला में प्रश्न चिह्न (?) के स्थान पर आ सकती है।

10, 21, 35, 56, 90, 145, 231, 360, ?

- Ans 1. 463
 2. 564
 3. 436
 4. 546

Question ID : 65497831410
Status : Answered
Chosen Option : 4

Q.15 राजन का परिवार अपनी मासिक आय का 60% किराने के सामान पर, अपनी मासिक आय का 12% घर के किराए पर, अपनी मासिक आय का 8% चिकित्सा व्ययों पर खर्च करता है और शेष ₹18,000 की बचत करता है। राजन के परिवार की मासिक आय कितनी है?

- Ans 1. ₹80,000
 2. ₹90,000
 3. ₹80,250
 4. ₹90,200

Question ID : 65497831402
Status : Answered
Chosen Option : 2

Q.16 'लखनऊ' का जो संबंध 'गोमती' से है, वही संबंध 'वाराणसी' का ' _____ ' से है।

- Ans 1. सरयू
 2. गंगा
 3. गोदावरी
 4. यमुना

Question ID : 65497831396
Status : Answered
Chosen Option : 2

Q.17 दिए गए पैटर्न का ध्यानपूर्वक अध्ययन करें और उस संख्या का चयन करें जो इसमें प्रश्न चिह्न (?) के स्थान पर आ सकती है।

3 16 26
4 20 32
6 28 ?

- Ans 1. 44
 2. 38
 3. 48
 4. 46

Question ID : 65497831401
Status : Answered
Chosen Option : 1

Q.18 किसी निश्चित कूट भाषा में, 'POEM' को '63' के रूप में कूटबद्ध किया जाता है। उसी भाषा में 'FILE' को किस रूप में कूटबद्ध किया जाएगा?

- Ans
- 1. 76
 - 2. 78
 - 3. 80
 - 4. 82

Question ID : 65497831409
Status : Answered
Chosen Option : 4

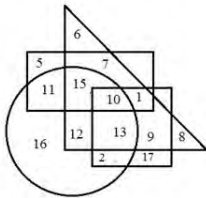
Q.19 यदि दर्पण को निम्न आकृति के अनुसार PQ पर रखा जाता है, तो दिए गए संयोजन का दर्पण में निर्मित सही प्रतिबिंब चयनित करें।



- Ans
- 1. TIREMUDOC
 - 2. DOCƏUMƏIL
 - 3. DOC+UMƏIL
 - 4. TIRƏMUDOC

Question ID : 65497831411
Status : Answered
Chosen Option : 1

Q.20 नीचे दिए गए आरेख में, वृत्त 'प्रबंधकों' को निरूपित करता है, वर्ग 'ईमानदार' को निरूपित करता है, आयत 'महिलाओं' को निरूपित करता है, और त्रिकोण 'ग्रामीण' को निरूपित करता है।



वह संख्या कौन सी है जो उन ग्रामीण ईमानदार प्रबंधकों को निरूपित करती है जो महिलाएँ नहीं हैं?

- Ans
- 1. 12
 - 2. 13
 - 3. 10
 - 4. 9

Question ID : 65497831398
Status : Answered
Chosen Option : 2

Q.21 दिए गए कथनों और निष्कर्षों को ध्यानपूर्वक पढ़ें। यह मानते हुए कि कथनों में दी गई सूचना सही है, भले ही वह सामान्य रूप से ज्ञात तथ्यों से भिन्न प्रतीत होती हो, यह निर्धारित करें कि दिए गए निष्कर्षों में से कौन-सा/से निष्कर्ष कथनों का तार्किक रूप से अनुसरण करता है/करते हैं।

कथन:

कुछ कारें, ट्रेन हैं।
कुछ ट्रेन, ट्रैक्टर हैं।

निष्कर्ष:

- I. कोई भी ट्रैक्टर, कार नहीं है।
- II. कोई भी ट्रेन, कार नहीं है।
- III. कुछ ट्रैक्टर, कार हैं।

- Ans 1. या तो निष्कर्ष I या निष्कर्ष III अनुसरण करता है।
 2. निष्कर्ष II और III दोनों अनुसरण करते हैं।
 3. निष्कर्ष I और II दोनों अनुसरण करते हैं।
 4. सभी निष्कर्ष अनुसरण करते हैं।

Question ID : 65497831400

Status : Answered

Chosen Option : 3

Q.22 अर्ध का विवाह चेतना के साथ हुआ है, जो कि दिलीप की एकलौती बहन है। मुकुल, चेतना के दादाजी हैं। नेहा का विवाह मुकुल के साथ हुआ है और उनके दो बेटे हार्दिक और भावेश हैं। हार्दिक अविवाहित है। अंजलि, नेहा की बहू है। ज्ञान, दिलीप और एकता का बेटा है। चेतना का ज्ञान से क्या संबंध है?

- Ans 1. भाभी
 2. पत्नी
 3. बहू
 4. बुआ

Question ID : 65497831394

Status : Answered

Chosen Option : 4

Q.23 आठ मित्र P, Q, R, S, T, U, V और W किसी गोल मेज के परितः दक्षिणावर्त रूप से इसी क्रम में बैठे हैं। सभी एक दूसरे से समान दूरी पर केंद्र की ओर अभिमुख होकर बैठे हैं। यदि U उत्तर-पूर्व दिशा की ओर अभिमुख है, तो दक्षिण दिशा की ओर कौन अभिमुख है?

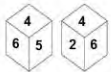
- Ans 1. S
 2. R
 3. T
 4. P

Question ID : 65497831387

Status : Not Answered

Chosen Option : --

Q.24 एक ही पासे की दो अलग-अलग स्थितियां दर्शाई गई हैं, जिनके छह पृष्ठों पर 1 से लेकर 6 तक की संख्या अंकित की गई है। उस संख्या का चयन करें जो '2' वाले पृष्ठ के विपरीत पृष्ठ पर होगी।



- Ans 1. 4
 2. 5
 3. 3
 4. 1

Question ID : 65497831390

Status : Answered

Chosen Option : 2



Download SSC CGL, CHSL E-BOOKS

[CLICK HERE](#)

Q.25 दिए गए समीकरण को संतुलित करने के लिए किन दो संख्याओं को परस्पर बदला जाना चाहिए?

$$27 + 36 \div 9 \times 15 - 24 = 57$$

- Ans
- 1. 27 और 9
 - 2. 27 और 24
 - 3. 24 और 9
 - 4. 15 और 9

Question ID : 65497831389
Status : Answered
Chosen Option : 2

Section : Part B General Knowledge and General Awareness

Q.1 डिएगो मेराडोना, अर्जेन्टीना के फुटबॉल खिलाड़ी, जिनका 25 नवंबर 2020 को निधन हो गया, एक यादगार गोल के विश्व-प्रसिद्ध हैं, इस गोल को क्या संज्ञा दी गई है?

- Ans
- 1. 'गोल्डन हैड' गोल
 - 2. 'सिल्वर लाइनिंग' गोल
 - 3. 'हैंड ऑफ मेराडोना' गोल
 - 4. 'हैंड ऑफ गॉड' गोल

Question ID : 65497831435
Status : Answered
Chosen Option : 4

Q.2 मुगल सम्राट बाबर के बारे में निम्नलिखित में से कौन सा कथन गलत है?

- Ans
- 1. जब वह सिंहासन पर बैठा तो उसकी उम्र 18 वर्ष थी।
 - 2. उसने फर्गाना के राज सिंहासन पर विजय प्राप्त की थी।
 - 3. उसने 1494 में राज सिंहासन प्राप्त किया था।
 - 4. वह पहला मुगल सम्राट था।

Question ID : 65497831430
Status : Answered
Chosen Option : 3

Q.3 नवंबर 2020 में, अंडमान और निकोबार कमांड (ANC) ने एक संयुक्त सेवा अभ्यास _____ कोड नाम से प्रारंभ किया जिसमें अंडमान और निकोबार कमांड के तीनों सेवा घटक शामिल थे।

- Ans
- 1. बुल स्ट्राइक
 - 2. ब्ल्यू सी
 - 3. ब्ल्यू रिबन
 - 4. बुल फाइट

Question ID : 65497831422
Status : Not Answered
Chosen Option : --

Q.4 निम्नलिखित में से कौन-सा, अपशिष्ट प्रबंधन का एक स्थायी तरीका नहीं है?

- Ans
- 1. जलाना (Burning)
 - 2. पुनर्चक्रण (Recycling)
 - 3. भस्मीकरण (Incineration)
 - 4. भूमि भराव (Landfill)

Question ID : 65497831414
Status : Answered
Chosen Option : 1