

Constable GD in CAPFs NIA SSF and Rifleman GD in Assam Rifles Examination 2021

Roll Number	
Candidate Name	
Venue Name	ION Digital Zone IDZ Greater Noida
Exam Date	26/11/2021
Exam Time :	9:00 AM - 10:30 AM
Subject	Constable GD 2021

Section : Part A General Intelligence and Reasoning

Q.1 उस विकल्प का चयन करें जो तीसरे शब्द से उसी प्रकार संबंधित है जिस प्रकार दूसरा शब्द पहले शब्द से संबंधित है।

पत्तियां : क्लोरोफिल :: रक्त : ?

- Ans 1. हीमोग्लोबिन
 2. प्लाज्मा
 3. प्लेटलेट्स
 4. श्वेत रक्त कणिकाएं

Question ID : 65497834965

Status : Answered

Chosen Option : 1

Q.2 दिए गए संयोजन के उस सही दर्पण प्रतिबिंब का चयन करें जो दर्पण को PQ पर रखने पर बनेगा।

GR8ZEQ

- Ans 1. Q8Z8R9
 2. Q8ZEQ
 3. Q8ZEQ
 4. Q8ZEQ

Question ID : 65497834946

Status : Answered

Chosen Option : 3



Download SSC CGL, CHSL E-BOOKS

[CLICK HERE](#)

Q.3 एक निश्चित कूट भाषा में, TRICKY को CXLFQH के रूप में लिखा जाता है। उसी कूट भाषा में PICNIC को किस रूप में लिखा जाएगा?

- Ans
- 1. YOFOOL
 - 2. YOEQOL
 - 3. YOEOOL
 - 4. YOFQOL

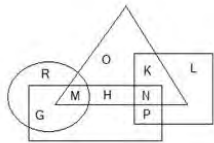
Question ID : 65497834948
Status : Not Answered
Chosen Option : --

Q.4 एक निश्चित कूट भाषा में, TAPE को EPAT और LOVE को EVOL के रूप में लिखा जाता है। उसी कूट भाषा में, NITIN को किस रूप में लिखा जाएगा?

- Ans
- 1. NITIN
 - 2. ITNNI
 - 3. TINNI
 - 4. INNTI

Question ID : 65497834944
Status : Answered
Chosen Option : 1

Q.5 नीचे दी गई आकृति में, आयत 'मज़बूत' को निरूपित करता है, वृत्त 'चमड़े' को निरूपित करता है, त्रिभुज 'थैले' को निरूपित करता है, और वर्ग 'लाल' को निरूपित करता है।



उस अक्षर का चयन करें जो चमड़े के उन थैलों को निरूपित करता है जो मज़बूत हैं लेकिन लाल रंग के नहीं हैं।

- Ans
- 1. K
 - 2. G
 - 3. N
 - 4. M

Question ID : 65497834967
Status : Answered
Chosen Option : 4



Q.6 नीचे पांच अक्षर दिए गए हैं, जिनमें से चार किसी प्रकार से संगत हैं और एक असंगत है। उस असंगत अक्षर का चयन कीजिए।

A, D, I, P, R

Ans 1. P

2. I

3. D

4. R

Question ID : 65497834943

Status : Answered

Chosen Option : 4

Q.7 दिए गए विकल्पों में से उस संख्या का चयन कीजिए जो निम्न श्रृंखला में प्रश्नचिह्न (?) के स्थान पर आ सकती है।

2, 3, 4, 5, 6, 7, 8, ?, 10, 13, 12, 17, 14

Ans 1. 12

2. 11

3. 9

4. 10

Question ID : 65497834957

Status : Answered

Chosen Option : 3

Q.8 निमेश, मेघना का एकलौता भाई है। सुरभि, निमेश की बेटी है। मेघना और नेहा बहनें हैं। मणि, करण का बेटा है, जो कि मेघना का पति है। मणि का सुरभि से क्या संबंध है?

Ans 1. मामा

2. चाचा

3. पिता

4. फुफेरा भाई

Question ID : 65497834949

Status : Answered


Chosen Option : 4



Download SSC CGL, CHSL E-BOOKS

[CLICK HERE](#)

Q.9 दी गई शीट को मोड़कर एक बॉक्स बनाया गया है। इस प्रकार से बने बॉक्स में, ♥ दर्शाने वाले फलक के विपरीत कौन-सा फलक होगा?



Ans



Question ID : 65497834953

Status : Answered

Chosen Option : 2

Q.10 यदि निम्नांकित व्यंजक में '÷' और '-' के स्थानों को आपस में बदल दिया जाए और अंकों '2' और '4' के स्थानों को आपस में बदल दिया जाए, तो निम्न व्यंजक का मान क्या होगा?

$$426 \div 648 - 312$$

Ans 1. 124

2. 424

3. 244

4. 224

Question ID : 65497834952

Status : Answered

Chosen Option : 3

Q.11 उस विकल्प का चयन करें जो तीसरे अक्षर-समूह से उसी प्रकार संबंधित है जिस प्रकार दूसरा अक्षर-समूह पहले अक्षर-समूह से संबंधित है।

CGRT : DJWA :: XUKM : ?

Ans 1. YYPT

2. YYQT

3. YXQT

4. YXPT

Question ID : 65497834947

Status : Answered

Chosen Option : 3



Download SSC CGL, CHSL E-BOOKS

[CLICK HERE](#)

Q.12 उस विकल्प का चयन कीजिए जिसका तीसरी संख्या से वही संबंध है, जो दूसरी संख्या का पहली संख्या से है।

132 : 501 :: 2364 : ?

Ans 1. 5073

2. 3474

3. 9430

4. 4582

Question ID : 65497834951

Status : Answered

Chosen Option : 3

Q.13 दिए गए पैटर्न का ध्यानपूर्वक अध्ययन करें, और उस संख्या का चयन करें जो इसमें प्रश्नचिह्न (?) के स्थान पर आ सकती है।

9 12 13

42 98 ?

39 46 80

Ans 1. 89

2. 140

3. 99

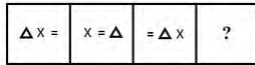
4. 93

Question ID : 65497834961

Status : Answered

Chosen Option : 1

Q.14 दिए गए विकल्पों में से उस आकृति का चयन कीजिए जो दी गई श्रृंखला में प्रश्न चिह्न (?) के स्थान पर आ सकती है।



Ans

1. $= x \Delta$

2. $x \Delta =$

3. $\Delta = x$

4. $\Delta \times =$

Question ID : 65497834958

Status : Answered

Chosen Option : 4



Download SSC CGL, CHSL E-BOOKS

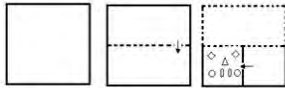
[CLICK HERE](#)

Q.15 किसी विशिष्ट कूट भाषा में, 'the light house' को 'zu chi pin', 'house is big' को 'mo tim zu' और 'the big garden' को 'riz tim pin' लिखा जाता है। इस कूट भाषा में 'light' को क्या लिखा जाएगा?

- Ans
- 1. chi
 - 2. big
 - 3. mo
 - 4. riz

Question ID : 65497834959
 Status : Answered
 Chosen Option : 1

Q.16 निम्नांकित चित्रों में एक कागज को मोड़ने का क्रम और मुड़े हुए कागज को काटने का तरीका दर्शाया गया है। मुड़े हुए कागज को खोलने पर यह कैसा दिखाई देगा?



Ans

- 1.
- 2.
- 3.
- 4.

Question ID : 65497834963
 Status : Answered
 Chosen Option : 3

Q.17 दिए गए विकल्पों में से उस संख्या का चयन कीजिए जो निम्न श्रृंखला में प्रश्नचिह्न (?) के स्थान पर आ सकती है।

2, 4, 16, 256, ?

- Ans 1. 65500
 2. 65336
 3. 65000
 4. 65536

Question ID : 65497834945

Status : Answered

Chosen Option : 4

Q.18 दिए गए विकल्पों में से उस अक्षर-समूह का चयन करें जो निम्नलिखित श्रृंखला में प्रश्न चिह्न (?) के स्थान पर आ सकता है।

HSI, OLO, VEU, CXA, ?

- Ans 1. JQG
 2. KPG
 3. KQF
 4. JPF

Question ID : 65497834964

Status : Answered

Chosen Option : 1

Q.19 एक साबुन का मूल्य ₹7 और एक कलम का मूल्य ₹5 है। राजेश ₹38 में ये दोनों चीजें खरीदीं। उसने कितने साबुन खरीदे?

- Ans 1. 4
 2. 5
 3. 2
 4. 3

Question ID : 65497834962

Status : Answered

Chosen Option : 1



Download SSC CGL, CHSL E-BOOKS

[CLICK HERE](#)

Q.20 दिए गए कथनों और निष्कर्षों को ध्यानपूर्वक पढ़ें। आपको कथनों में दी गई जानकारी को सही मान कर चलना है, भले ही वो सामान्य ज्ञात तथ्यों से भिन्न प्रतीत होती हो, और फिर निर्णय कीजिए कि दिए गए निष्कर्षों में से कौन से निष्कर्ष कथनों का तार्किक रूप से अनुसरण करते हैं।

कथन :

कुछ पतंग, जहाज हैं।
सभी जहाज, जेपेलिन हैं।

निष्कर्ष :

- कुछ पतंग, जेपेलिन हैं।
- सभी जेपेलिन, जहाज हैं।

- Ans
- 1. दोनों निष्कर्ष अनुसरण करते हैं।
 - 2. केवल निष्कर्ष 1 अनुसरण करता है।
 - 3. केवल निष्कर्ष 2 अनुसरण करता है।
 - 4. कोई भी निष्कर्ष अनुसरण नहीं करता है।

Question ID : 65497834960

Status : Answered

Chosen Option : 2

Q.21 Eight persons are sitting in a circle facing the centre. Arush is sitting opposite to Rita. There are two persons sitting between Rakesh and Arush. Ankita is sitting towards the right of Arush and opposite to Urvashi. Anu is sitting between Rita and Urvashi. Ankita is sitting between Rohan and Rakesh. Aman is sitting towards the left of Rohan. Who is sitting between Arush and Urvashi?

- Ans
- 1. Rohan
 - 2. Aman
 - 3. Anu
 - 4. Ankita

Question ID : 65497834950

Status : Answered

Chosen Option : 2

Q.22 उस अक्षर संयोजन का चयन करें जिसे दी गई श्रृंखला के रिक्त स्थानों में क्रमिक रूप से रखे जाने पर श्रृंखला पूर्ण हो जाएगी।

s_r_ks__ck_urc_su_c_

- Ans
- 1. c, u, c, s, r, k, s, k
 - 2. c, u, c, r, s, k, r, k
 - 3. u, c, u, r, s, k, r, k
 - 4. u, c, u, k, r, s, r, k

Question ID : 65497834956

Status : Answered

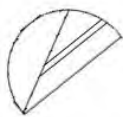
Chosen Option : 3



Download SSC CGL, CHSL E-BOOKS

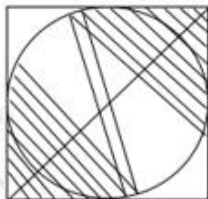
[CLICK HERE](#)

Q.23 उस विकल्प का चयन करें जिसमें दी गई आकृति सन्नहित है (आकृति को घुमाने की अनुमति है)।

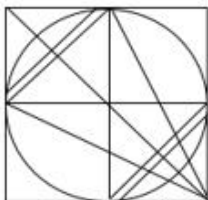


Ans

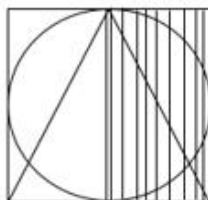
1.



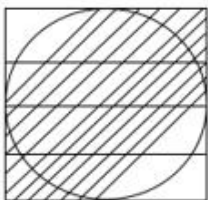
2.



3.



4.



Question ID : 65497834954

Status : Answered

Chosen Option : 2

Q.24 Six friends, Perna, Priyanka, Rahul, Vishal, Tushar and Shruti, are sitting around a circular table, facing the centre of the table. Priyanka is sitting to the immediate left of Tushar. Vishal is sitting to the immediate left of Rahul. Perna is second to the right of Vishal. Perna is sitting between Rahul and Shruti. Who is sitting between Perna and Vishal?

Ans 1. Shruti

2. Tushar

3. Priyanka

4. Rahul

Question ID : 65497834966

Status : Answered

Chosen Option : 4



Download SSC CGL, CHSL E-BOOKS

[CLICK HERE](#)

Q.25 उस सही विकल्प का चयन करें जो दिए गए शब्दों का तार्किक और सार्थक क्रम दर्शाता है।

- i. एमोनियाकरण
- ii. विनाइट्रीकरण
- iii. नाइट्रोजन स्थिरीकरण
- iv. स्वांगीकरण
- v. नाइट्रीकरण

- Ans
- 1. iii, v, i, iv, ii
 - 2. v, iii, i, iv, ii
 - 3. v, iii, iv, i, ii
 - 4. iii, v, iv, i, ii

Question ID : 65497834955
Status : Not Answered
Chosen Option : --

Section : Part B General Knowledge and General Awareness

Q.1 चारमीनार, जोकि एक लोकप्रिय स्मारक और मकबरा है, कहाँ स्थित है?

- Ans
- 1. चेन्नई
 - 2. मुंबई
 - 3. हैदराबाद
 - 4. दिल्ली

Question ID : 65497834979
Status : Answered
Chosen Option : 3

Q.2 'द रूल ब्रेकर्स (the Rule Breakers)' नामक पुस्तक के लेखक कौन हैं?

- Ans
- 1. प्रीति शेनॉय
 - 2. अमिताव घोष
 - 3. बिबेक देबरॉय
 - 4. सत्यार्थ नायक

Question ID : 65497834982
Status : Not Answered
Chosen Option : --

Q.3 निम्नलिखित में से किस राज्य में प्रतिवर्ष 'अंतरराष्ट्रीय चेरी ब्लॉसम उत्सव' मनाया जाता है?

- Ans
- 1. पंजाब
 - 2. मेघालय
 - 3. उत्तराखंड
 - 4. हिमाचल प्रदेश

Question ID : 65497834970
Status : Not Answered
Chosen Option : --



Download SSC CGL, CHSL E-BOOKS

[CLICK HERE](#)