

Constable GD in CAPFs NIA SSF and Rifleman GD in Assam Rifles Examination 2021

Roll Number	
Candidate Name	
Venue Name	ANAND INTERNATIONAL COLLEGE OF ENGINEERING JAIPUR
Exam Date	25/11/2021
Exam Time :	12:30 PM - 2:00 PM
Subject	Constable GD 2021

Section : **Part A General Intelligence and Reasoning**

Q.1 एक विशिष्ट कूट भाषा में, CHEAP को QBFID लिखा जाता है। उसी कूट भाषा में QUOTE को किस प्रकार लिखा जाएगा?

- Ans 1. FUPVR
 2. ETOUQ
 3. RVNUF
 4. UOQET

Question ID : 65497828231
Status : Not Answered
Chosen Option : --

Q.2 उस संख्या-त्रिक का चयन करें, जिसकी तीन संख्याओं के बीच वह संबंध नहीं है, जो शेष तीन संख्या-त्रिकों की संख्याओं के बीच है।

- Ans 1. (23, 69, 105)
 2. (17, 51, 85)
 3. (19, 57, 95)
 4. (13, 39, 65)

Question ID : 65497828218
Status : Answered
Chosen Option : 1

Q.3 उस विकल्प का चयन करें, जिसका तीसरे पद से वही संबंध है, जो दूसरे पद का पहले पद से है।

LARGE : MASHE :: WATER : _____

- Ans 1. VBSFQ
 2. VAUES
 3. XBUFS
 4. XAUES

Question ID : 65497828230
Status : Not Answered
Chosen Option : --



Download SSC CGL, CHSL E-BOOKS

[CLICK HERE](#)

Q.4 आठ मित्र, अरविंद, प्रिया, कुणाल, काजल, आशीष, महक, शुभम और रिद्धि, एक अष्टभुजाकार मेज़ के चारों ओर मेज़ के केंद्र की ओर मुह करके बैठे हैं। कुणाल, महक और आशीष के बीच में है। काजल, प्रिया और अरविंद के बीच में है। शुभम, रिद्धि के बाईं ओर ठीक बगल में है। अरविंद, आशीष के दाईं ओर तीसरे स्थान पर है। रिद्धि और प्रिया के बीच में कौन बैठा/बैठी है?

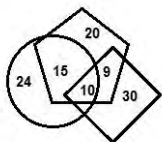
- Ans
- 1. अरविंद
 - 2. आशीष
 - 3. काजल
 - 4. शुभम

Question ID : 65497828225

Status : Answered

Chosen Option : 1

Q.5 निम्नलिखित आरेख में, 'समचतुर्भुज', 'शिक्षकों' को निरूपित करता है, 'वृत्त', 'समाज-सेवकों' को निरूपित करता है, और 'पंचभुज', 'महिलाओं' को निरूपित करता है। विभिन्न खंडों में दी गई संख्याएं, उस श्रेणी से संबंधित व्यक्तियों की संख्या को दर्शाती हैं।



कितनी महिला शिक्षक, समाज सेवक भी हैं?

- Ans
- 1. 10
 - 2. 24
 - 3. 9
 - 4. 15

Question ID : 65497828236

Status : Answered

Chosen Option : 1

Q.6 'सुवा' का 'फ़िजी' से वही संबंध है, जो 'हेल्सिंकी' का '_____' से है।

- Ans
- 1. फ़्रांस
 - 2. ग्रीस
 - 3. हंगरी
 - 4. फ़िनलैंड

Question ID : 65497828234

Status : Answered

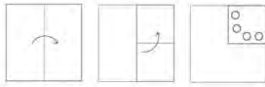
Chosen Option : 2



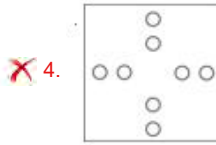
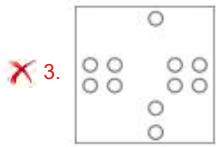
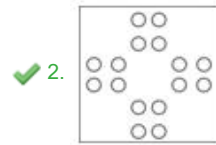
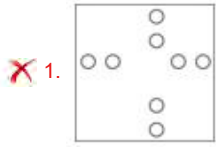
Download SSC CGL, CHSL E-BOOKS

[CLICK HERE](#)

Q.7 निम्नांकित आकृतियों में एक कागज के टुकड़े को मोड़ने का क्रम और मुड़े हुए कागज को काटने की विधि दर्शाई गई है। यह कागज खोलने पर कैसा दिखेगा?



Ans



Question ID : 65497828220
Status : Answered
Chosen Option : 2

Q.8 निम्नलिखित चार अक्षर-समूहों में से तीन किसी न किसी प्रकार संगत हैं और एक असंगत है। उस अक्षर-समूह का चयन करें, जो असंगत है।

- Ans
- ✗ 1. PUZEJ
 - ✗ 2. YDINS
 - ✓ 3. TXBFK
 - ✗ 4. BGLQV

Question ID : 65497828212
Status : Not Answered
Chosen Option : --

Q.9 यदि '+' का अर्थ '-', '-' का अर्थ 'x', 'x' का अर्थ '+', और '+' का अर्थ '+' है, तो निम्नलिखित व्यंजक का मान कितना होगा?

$$9 - 9 \div 72 \times 4 + 6$$

- Ans
- ✗ 1. 98
 - ✗ 2. 29
 - ✗ 3. 27
 - ✓ 4. 93

Question ID : 65497828227
Status : Answered
Chosen Option : 4



Download SSC CGL, CHSL E-BOOKS

CLICK HERE

Q.10 दिए गए विकल्पों में से उस अक्षर-समूह का चयन करें, जो निम्नलिखित श्रृंखला में प्रश्नवाचक चिन्ह (?) के स्थान पर आ सकता है।

GQT, ETP, CWL, AZH, ?

- Ans 1. YBD
 2. YCE
 3. YCD
 4. ZCD

Question ID : 65497828233
Status : Answered
Chosen Option : 3

Q.11 N के दो बच्चे - S और P हैं। N की पत्नी J, M की मां की इकलौती बहन है। R, M के नाना हैं। R का N से क्या संबंध है?

- Ans 1. पिता
 2. दामाद
 3. ससुर
 4. चाचा/ताऊ/फूफा/मामा/मौसा

Question ID : 65497828232
Status : Not Answered
Chosen Option : --

Q.12 उस सही विकल्प का चयन करें, जो दिए गए शब्दों के तार्किक और सार्थक क्रम को दर्शाता है।

- i. फूल
ii. अंकुर
iii. फल
iv. पौधा
v. बीज

- Ans 1. v, iv, i, iii, ii
 2. v, ii, iv, i, iii
 3. ii, i, iii, iv, v
 4. ii, v, iv, i, iii

Question ID : 65497828221
Status : Answered
Chosen Option : 2



Download SSC CGL, CHSL E-BOOKS

[CLICK HERE](#)

Q.13 दिए गए कथनों और निष्कर्षों को ध्यानपूर्वक पढ़ें। कथनों में दी गई जानकारी को सत्य मानते हुए विचार करें, भले ही वह सामान्य रूप से ज्ञात तथ्यों से भिन्न प्रतीत होती हो, और बताएं कि दिए गए निष्कर्षों में से कौन से, तार्किक रूप से कथनों का पालन करते हैं?

कथन:
सभी नेता, पुरुष हैं।
कुछ विद्यार्थी, नेता हैं।

निष्कर्ष:
I. कुछ विद्यार्थी, पुरुष हैं।
II. सभी नेता, विद्यार्थी हैं।

- Ans
- 1. निष्कर्ष I और II दोनों पालन करते हैं।
 - 2. केवल निष्कर्ष I पालन करता है।
 - 3. केवल निष्कर्ष II पालन करता है।
 - 4. या तो निष्कर्ष I या II पालन करता है।

Question ID : 65497828217
Status : Not Answered
Chosen Option : --

Q.14 दिए गए विकल्पों में से उस संख्या का चयन करें, जो निम्नलिखित श्रेणी में प्रश्नवाचक चिह्न (?) के स्थान पर आ सकती है।

34, 37, 42, 49, 60, 73, 90, ?

- Ans
- 1. 117
 - 2. 109
 - 3. 119
 - 4. 99

Question ID : 65497828214
Status : Answered
Chosen Option : 2

Q.15 उस अक्षर संयोजन का चयन करें, जिसे दी गई श्रृंखला के रिक्त स्थानों में क्रमिक रूप से रखे जाने पर श्रृंखला को पूर्ण करेगा।

r _ x | _ q _ _ x _ p q _ e _ l p _

- Ans
- 1. e, x, q, r, p, l, x, p
 - 2. p, e, q, l, x, p, r, q
 - 3. p, e, r, p, l, r, x, q
 - 4. e, p, r, e, l, r, x, q

Question ID : 65497828222
Status : Not Answered
Chosen Option : --



Download SSC CGL, CHSL E-BOOKS

[CLICK HERE](#)

Q.16 छह मित्र A, B, C, D, E और F एक सीधी क्षैतिज पंक्ति में उत्तर की ओर मुख करके बैठे हैं। E और C के बीच चार व्यक्ति बैठे हैं। D, A और F के बीच में बैठा है। A, E के दाईं ओर ठीक बगल में बैठा है। F के दाईं ओर ठीक बगल में कौन बैठा है?

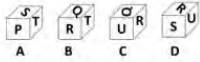
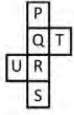
- Ans
- 1. A
 - 2. C
 - 3. B
 - 4. D

Question ID : 65497828235

Status : Not Answered

Chosen Option : --

Q.17 उन पासों का चयन करें जिन्हें दिए गए पत्रक (sheet) को रेखाओं के अनुसार मोड़ कर बनाया जा सकता है।



- Ans
- 1. केवल A, B और C
 - 2. केवल A और B
 - 3. A, B, C और D
 - 4. केवल B और D

Question ID : 65497828228

Status : Not Answered

Chosen Option : --



Download SSC CGL, CHSL E-BOOKS

[CLICK HERE](#)

Q.18 उस विकल्प का चयन करें जो दी गई आकृति में अंतर्निहित है, (घुमाने की अनुमति नहीं है)।



Ans

- 1.
- 2.
- 3.
- 4.

Question ID : 65497828229

Status : Answered

Chosen Option : 1

Q.19 एक विशिष्ट कूट भाषा में, 'FRY' को '147' और 'CROP' को '208' लिखा जाता है। उसी कूट भाषा में 'MUSIC' को किस प्रकार लिखा जाएगा?

- Ans
- 1. 385
 - 2. 325
 - 3. 295
 - 4. 199

Question ID : 65497828213

Status : Answered

Chosen Option : 2

Q.20 एक पिता और उसके पुत्र की वर्तमान आयु का योग 58 वर्ष है। चार वर्ष पूर्व, उनकी आयु का अनुपात 4 : 1 था। पिता की वर्तमान आयु कितनी है?

- Ans
- 1. 38 वर्ष
 - 2. 40 वर्ष
 - 3. 35 वर्ष
 - 4. 44 वर्ष

Question ID : 65497828219

Status : Answered

Chosen Option : 2



Download SSC CGL, CHSL E-BOOKS

[CLICK HERE](#)

Q.21 दिए गए विकल्पों में से उस संख्या का चयन करें, जो निम्नलिखित श्रेणी में प्रश्नवाचक चिह्न (?) के स्थान पर आ सकती है।

14, 29, 57, 115, 229, ?

Ans 1. 457

2. 459

3. 463

4. 461

Question ID : 65497828223

Status : Answered

Chosen Option : 2

Q.22 उस विकल्प का चयन करें, जिसका तीसरी संख्या से वही संबंध है, जो दूसरी संख्या का पहली संख्या से है।

7 : 342 :: 9 : ?

Ans 1. 327

2. 728

3. 729

4. 329

Question ID : 65497828226

Status : Answered

Chosen Option : 2

Q.23 दिए गए विकल्पों में से उस आकृति का चयन करें जो नीचे दी गई श्रृंखला में प्रश्न चिह्न (?) के स्थान पर आ सकती है।



Ans

1.



2.



3.



4.



Question ID : 65497828224

Status : Answered

Chosen Option : 4



Download SSC CGL, CHSL E-BOOKS

[CLICK HERE](#)

Q.24 जब दर्पण को संयोजन के दिए गए चित्र के दाईं ओर रखा जाता है तो दिए गए संयोजन के सही दर्पण प्रतिबिंब का चयन करें।

B Y u m g d

Ans

1. **P q m u Y B**
2. **q p m u Y B**
3. **q p m u Y B**
4. **q p m u Y B**

Question ID : 65497828215

Status : Answered

Chosen Option : 1

Q.25 एक निश्चित कूट भाषा में, 'SHIMLA' को 'TJLQQG' और 'RANCHI' को 'SCQGMQ' लिखा जाता है। उसी कूटभाषा में 'MUMBAI' को किस प्रकार लिखा जाएगा?

Ans

1. **NWPFFO**
2. **NXQEFP**
3. **MXPEFP**
4. **OWQEEP**

Question ID : 65497828216

Status : Answered

Chosen Option : 1

Section : Part B General Knowledge and General Awareness

Q.1 विश्व दर्शन दिवस, प्रति वर्ष नवंबर के तीसरे _____ को मनाया जाता है।

Ans

1. सोमवार
2. शनिवार
3. गुरुवार
4. शुक्रवार

Question ID : 65497828248

Status : Not Answered

Chosen Option : --

Q.2 किस मंत्रालय / संस्थान ने वित्तीय वर्ष 2019-20 के लिए, स्थिर मूल्यों (2011-12) और वर्तमान मूल्यों, दोनों पर, राष्ट्रीय आय के अनंतिम अनुमान जारी किए हैं?

Ans

1. गृह मंत्रालय
2. राष्ट्रीय सांख्यिकी कार्यालय
3. वित्त आयोग
4. नीति (NITI) आयोग

Question ID : 65497828245

Status : Not Answered

Chosen Option : --



Download SSC CGL, CHSL E-BOOKS

[CLICK HERE](#)