

Constable GD in CAPFs NIA SSF and Rifleman GD in Assam Rifles Examination 2021

Roll Number	
Candidate Name	
Venue Name	iON Digital Zone iDZ3 Patliputra
Exam Date	24/11/2021
Exam Time :	4:00 PM - 5:30 PM
Subject	Constable GD 2021

Section : Part A General Intelligence and Reasoning

Q.1 दिए गए विकल्पों में से उस अक्षर-समूह का चयन करें जो निम्नलिखित श्रृंखला में प्रश्न चिह्न (?) के स्थान पर आ सकता है।

AS, CQ, EO, ?

Ans 1. GN

2. HN

3. HM

4. GM

Question ID : 65497835722

Status : Answered

Chosen Option : 4

Q.2 उस विकल्प का चयन करें जिसमें दिए गए संख्या-त्रिक की संख्याओं के बीच वही संबंध नहीं है जो संबंध निम्न संख्या-त्रिक की संख्याओं के बीच है।

(3, 6, 18)

Ans 1. (7, 14, 42)

2. (6, 12, 36)

3. (9, 18, 54)

4. (8, 16, 56)

Question ID : 65497835710

Status : Answered

Chosen Option : 4

Q.3 यदि 'A + B' का अर्थ है कि 'A, B की पुत्री है', 'A × B' का अर्थ है कि 'A, B की बहन है' और 'A = B' का अर्थ है कि 'A, B की पत्नी है' तो व्यंजक 'C × G × U + M = R' में G का R से क्या संबंध है?

Ans 1. माता

2. बहन

3. पुत्री

4. पुत्र

Question ID : 65497835707

Status : Not Answered

Chosen Option : --



Download SSC CGL, CHSL E-BOOKS

[CLICK HERE](#)

Q.4 छः दोस्त R, S, T, U, V और W एक सीधी पंक्ति में बैठे हैं। T बाएं से तीसरे और दाएं से चौथे स्थान पर है। V, T और S के बीच में है। S, U के बाईं ओर बगल में है। R, T और W के बीच में है। V दाईं ओर से किस स्थान पर बैठा है?

- Ans 1. तीसरे
 2. दूसरे
 3. चौथे
 4. पांचवे

Question ID : 65497835715
Status : Answered
Chosen Option : 1

Q.5 दिए गए विकल्पों में से उस संख्या का चयन कीजिए जो निम्न श्रेणी में प्रश्नवाचक चिह्न (?) के स्थान पर आएगी।

5, 16, 28, 36, 71, 90, 234, 342, ?

- Ans 1. 793
 2. 893
 3. 739
 4. 839

Question ID : 65497835716
Status : Answered
Chosen Option : 3

Q.6 एक निश्चित कूट भाषा में, 'TIKRI' को '201811369' के रूप में कूटबद्ध किया जाता है। उसी कूट भाषा में, 'BOARD' को किस रूप में कूटबद्ध किया जाएगा?

- Ans 1. 2301364
 2. 2151364
 3. 2301184
 4. 2151184

Question ID : 65497835714
Status : Answered
Chosen Option : 1

Q.7 यदि 'P' का अर्थ 'जोड़' है, 'Q' का अर्थ 'गुणा' है, 'R' का अर्थ 'घटाना' है, और 'S' का अर्थ 'भाग' है, तो निम्न व्यंजक का मान कितना होगा?

45S (3P7) P5S (8S4) P9Q (15S5)

- Ans 1. 32
 2. 28
 3. 34
 4. 38

Question ID : 65497835718
Status : Answered
Chosen Option : 3



Q.8 दिए गए कथनों और निष्कर्षों को ध्यानपूर्वक पढ़ें। यह मानते हुए कि कथनों में दी गई जानकारी सत्य है, भले ही वह सामान्य रूप से ज्ञात तथ्यों से भिन्न प्रतीत होती हो, निर्णय लें कि दिए गए निष्कर्षों में से कौन से निष्कर्ष कथनों का तार्किक रूप से अनुसरण करते हैं।

कथन:

कुछ थैले, कलम हैं।
सभी कलम, बक्से हैं।
सभी थैले, पुस्तकें हैं।

निष्कर्ष:

I. कुछ पुस्तकें, बक्से हैं।
II. कुछ बक्से, थैले हैं।
III. कुछ पुस्तकें, कलम हैं।

- Ans 1. केवल निष्कर्ष I और III अनुसरण करते हैं।
 2. I, II और III सभी निष्कर्ष अनुसरण करते हैं।
 3. केवल निष्कर्ष I और II अनुसरण करते हैं।
 4. केवल निष्कर्ष II और III अनुसरण करते हैं।

Question ID : 65497835709

Status : Answered

Chosen Option : 2

Q.9 उस विकल्प का चयन करें, जो तीसरे पद से उसी प्रकार संबंधित है, जिस प्रकार दूसरा पद पहले पद से संबंधित है।

SYMBOL : YSBMLO :: BANQUETS : ?

- Ans 1. ABQNSTEU
 2. ABQNEUST
 3. NABEUQST
 4. QNABSTEU

Question ID : 65497835705

Status : Answered

Chosen Option : 2

Q.10 उस विकल्प का चयन कीजिए जिसका तीसरी संख्या से वही संबंध है जो दूसरी संख्या का पहली संख्या से है और छठी संख्या का पांचवीं संख्या से है।

23 : 368 :: 25 : ? :: 21 : 294

- Ans 1. 450
 2. 442
 3. 382
 4. 371

Question ID : 65497835717

Status : Answered

Chosen Option : 1



Download SSC CGL, CHSL E-BOOKS

[CLICK HERE](#)

Q.11 किसी निश्चित कूट भाषा में, 'BOWLER' को 'C p X M f S' के रूप में लिखा जाता है और 'NEAT' को 'O f b U' के रूप में लिखा जाता है। उसी कूट भाषा में 'SERIOUS' को किस रूप में लिखा जाएगा?

- Ans
- 1. T f T j P V T
 - 2. T f S J P w t
 - 3. T f S j p v T
 - 4. T f s J p U t

Question ID : 65497835706

Status : Answered

Chosen Option : 3

Q.12 उस विकल्प का चयन करें जिसमें निम्नलिखित शब्दों का वह क्रम दिया गया है, जिस क्रम में वे अंग्रेजी शब्दकोश में आते हैं।

1. Restates
2. Resistance
3. Restoration
4. Resonant
5. Resection

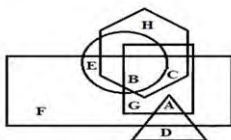
- Ans
- 1. 5, 4, 2, 3, 1
 - 2. 5, 2, 4, 1, 3
 - 3. 5, 2, 1, 4, 3
 - 4. 5, 2, 4, 3, 1

Question ID : 65497835726

Status : Answered

Chosen Option : 2

Q.13 नीचे दी गई आकृति में, वर्ग 'प्राकृतिक उपग्रह' को निरूपित करता है, वृत्त 'तारों' को निरूपित करता है, आयत 'ग्रहों' को निरूपित करता है, षट्भुज 'वायुमंडल' को निरूपित करता है, और त्रिभुज 'कृत्रिम उपग्रह' को निरूपित करता है।
कौन सा अक्षर ग्रहों को निरूपित करता है, लेकिन उन तारों को निरूपित नहीं करता है जिनमें वायुमंडल और प्राकृतिक उपग्रह हैं लेकिन कृत्रिम उपग्रह नहीं है।



- Ans
- 1. C
 - 2. E
 - 3. B
 - 4. A

Question ID : 65497835725

Status : Answered

Chosen Option : 3



Download SSC CGL, CHSL E-BOOKS

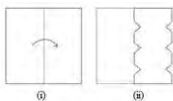
[CLICK HERE](#)

Q.14 एक निश्चित कूट भाषा में, 'DOCTOR' को 'SQWGTJ' के रूप में लिखा जाता है और 'SINGER' को 'SGJRNY' के रूप में लिखा जाता है। उसी कूट भाषा में 'TAILOR' को किस रूप में लिखा जाएगा?

- Ans 1. SQOMFZ
 2. SQOMFX
 3. TQQNEZ
 4. TOOMFZ

Question ID : 65497835708
 Status : Answered
 Chosen Option : 3

Q.15 नीचे दी गई आकृतियों में कागज़ के एक टुकड़े को मोड़ने और मोड़े गए कागज़ को काटने के तरीके का क्रम दर्शाया गया है। कागज़ को खोले जाने पर वह कैसा दिखाई देगा?



Ans

- 1.
- 2.
- 3.
- 4.

Question ID : 65497835712
 Status : Not Answered
 Chosen Option : --

Q.16 दिए गए विकल्पों में से उस संख्या का चयन कीजिए जो निम्न श्रेणी में प्रश्नवाचक चिह्न (?) के स्थान पर आएगी।

8, 25, 57, 221, 449, ?

- Ans 1. 1879
 2. 1978
 3. 1798
 4. 1789

Question ID : 65497835728
 Status : Answered
 Chosen Option : 3



Download SSC CGL, CHSL E-BOOKS

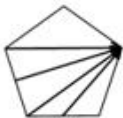
[CLICK HERE](#)

Q.17 दिए गए विकल्पों में से उस आकृति का चयन करें, जो निम्न आकृति श्रृंखला में प्रश्नवाचक चिह्न (?) के स्थान पर आ सकती है।



Ans

✓ 1.



✗ 2.



✗ 3.



✗ 4.



Question ID : 65497835729

Status : Answered

Chosen Option : 1

Q.18 उस विकल्प का चयन कीजिए जिसमें दी गई आकृति सन्निहित है। (आकृति को घुमाने की अनुमति नहीं है)



Ans

✓ 1.



✗ 2.



✗ 3.



✗ 4.



Question ID : 65497835720

Status : Answered

Chosen Option : 2



Download SSC CGL, CHSL E-BOOKS

[CLICK HERE](#)

Q.19 उस विकल्प का चयन करें जो तीसरे शब्द से उसी प्रकार संबंधित है जिस प्रकार दूसरा शब्द पहले शब्द से संबंधित है।

सिफ़िलिस : जीवाणु :: टीनिया पेडिस : ?

- Ans 1. कवक
 2. शैवाल
 3. प्रोटोज़ोआ
 4. विषाणु

Question ID : 65497835723
Status : Not Answered
Chosen Option : --

Q.20 चार अक्षर-समूह दिए गए हैं, जिनमें से तीन एक निश्चित प्रकार से समान हैं, जबकि एक उनसे असंगत है। उस असंगत अक्षर-समूह का चयन कीजिए।

- Ans 1. KIEA
 2. XVRL
 3. RPLF
 4. MKGA

Question ID : 65497835713
Status : Answered
Chosen Option : 1

Q.21 यदि शिखा और राजकुमार की वर्तमान आयु का अनुपात 2 : 1 है और 15 वर्ष पूर्व उनकी आयु का अनुपात 3 : 1 था, तो शिखा की वर्तमान आयु (वर्षों में) क्या है?

- Ans 1. 45
 2. 30
 3. 75
 4. 60

Question ID : 65497835711
Status : Answered
Chosen Option : 4

Q.22 यदि दर्पण को निम्नांकित चित्र के अनुसार 'PQ' पर रखा जाए, तो दिए गए संयोजन का दर्पण में निर्मित सही प्रतिबिंब चयनित कीजिए।

KURDARAM
P
|
Q

- Ans 1. MARKURDA
 2. MURADKUR
 3. RAMKURDA
 4. MARADKUR

Question ID : 65497835721
Status : Answered
Chosen Option : 2



Q.23 अक्षरों के उस संयोजन का चयन करें, जिसे दी गई श्रृंखला के रिक्त स्थानों में क्रम से रखे जाने पर श्रृंखला पूर्ण हो जाएगी।

I _ _ Q Z _ _ K _ _ I J _ Q Z

- Ans 1. JKIJQZK
 2. JKQZKI
 3. IJKQZQK
 4. IQZIJKI

Question ID : 65497835727

Status : Answered

Chosen Option : 1

Q.24 चार सहेलियां रति, अरीमा, सोनाली और गीत उत्तर दिशा की ओर अभिमुख होकर एक बिस्तर पर एक दूसरे के बगल में बैठी हैं। सोनाली, रति के बाईं ओर बैठी है। रति, अरीमा के बाईं ओर बगल में बैठी है। गीत, रति और सोनाली के बीच में बैठी है। दायें छोर से दूसरे स्थान पर कौन सी लड़की बैठी है?

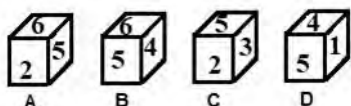
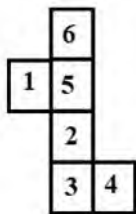
- Ans 1. गीत
 2. अरीमा
 3. रति
 4. सोनाली

Question ID : 65497835724

Status : Not Answered

Chosen Option : --

Q.25 निम्न शीट को रेखाओं पर से मोड़कर बनाये जा सकने वाले पासों का चयन कीजिए।



- Ans 1. केवल A
 2. A, B, C और D
 3. केवल A और C
 4. केवल B

Question ID : 65497835719

Status : Not Answered

Chosen Option : --

Section : Part B General Knowledge and General Awareness