


Constable GD in CAPFs NIA SSF and Rifleman GD in Assam Rifles Examination 2021

Roll Number	
Candidate Name	
Venue Name	ANAND INTERNATIONAL COLLEGE OF ENGINEERING JAIPUR
Exam Date	24/11/2021
Exam Time :	9:00 AM - 10:30 AM
Subject	Constable GD 2021

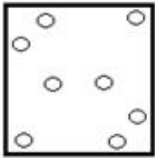
Section : Part A General Intelligence and Reasoning

Q.1 निम्नांकित आकृतियों में एक कागज के टुकड़े को मोड़ने का क्रम और मुड़े हुए कागज को काटने की विधि दर्शाई गई है। यह कागज खोलने पर कैसा दिखेगा?

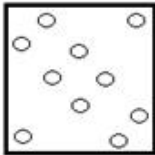


Ans

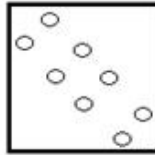
1.



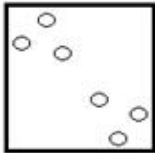
2.



3.



4.



Question ID : 65497829880

Status : Answered

Chosen Option : 3



Download SSC CGL, CHSL E-BOOKS

[CLICK HERE](#)

Q.2 एक निश्चित कूट भाषा में, 'FLOAT' को 'ROU' लिखा जाता है, 'CLAIM' को 'OAV' लिखा जाता है। उसी कूट भाषा में 'ARMED' को किस प्रकार लिखा जाएगा?

- Ans
- 1. SMI
 - 2. DMK
 - 3. RFC
 - 4. TFE

Question ID : 65497829886
Status : Answered
Chosen Option : 1

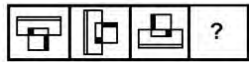
Q.3 दिए गए विकल्पों में से उस संख्या का चयन करें, जो निम्नलिखित श्रेणी में प्रश्न चिह्न (?) के स्थान पर आ सकती है।

2, 5, 11, 17, ?, 31, 41

- Ans
- 1. 21
 - 2. 25
 - 3. 29
 - 4. 23

Question ID : 65497829870
Status : Answered
Chosen Option : 3

Q.4 दिए गए विकल्पों में से उस आकृति का चयन कीजिए, जो निम्नलिखित श्रृंखला में प्रश्नवाचक चिह्न (?) के स्थान पर आ सकती है।

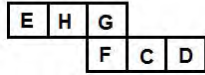


Ans

- 1.
- 2.
- 3.
- 4.

Question ID : 65497829884
Status : Answered
Chosen Option : 1

Q.5 दी गई शीट को मोड़कर एक घन बनाया जाता है। इस तरह बने घन में 'C' दर्शाने वाले फलक के विपरीत वाले फलक पर कौन सा अक्षर होगा?



- Ans
- 1. F
 - 2. G
 - 3. H
 - 4. E

Question ID : 65497829866
Status : Answered
Chosen Option : 3

Q.6 एक निश्चित कूट भाषा में, 'LAYOUT' को 'WRRVDI' लिखा जाता है। उसी कूट भाषा में, 'CHETAK' को किस प्रकार लिखा जाएगा?

- Ans
- 1. HXQBEF
 - 2. NXWBKZ
 - 3. NWXKBZ
 - 4. HQXEBF

Question ID : 65497829876
Status : Answered
Chosen Option : 2

Q.7 यदि 'A' का अर्थ '+' है, 'B' का अर्थ '-' है, 'C' का अर्थ 'x' है, और 'D' का अर्थ '÷' है, तो दिए गए व्यंजक का मान कितना होगा?

$$36 A (15 C 4) B (21 A 13) A 24 D (16 D 2) = ?$$

- Ans
- 1. 65
 - 2. 51
 - 3. 96
 - 4. 83

Question ID : 65497829865
Status : Answered
Chosen Option : 1

Q.8 दो बहनों रजिनी और रानी की आयु का अनुपात 2 : 3 है। 6 वर्ष बाद, उनकी आयु का अनुपात 3 : 4 हो जाएगा। रजिनी की वर्तमान आयु कितनी है?

- Ans
- 1. 12 वर्ष
 - 2. 18 वर्ष
 - 3. 16 वर्ष
 - 4. 14 वर्ष

Question ID : 65497829879
Status : Answered
Chosen Option : 1



Q.9 दिए गए विकल्पों में से उस संख्या का चयन कीजिए, जो निम्नलिखित श्रेणी में प्रश्नवाचक चिन्ह (?) के स्थान पर आ सकती है।

6, 22, 70, 214, ?, 1942

- Ans
- 1. 280
 - 2. 638
 - 3. 646
 - 4. 430

Question ID : 65497829883
Status : Answered
Chosen Option : 3

Q.10 उस विकल्प का चयन करें जो दी गई आकृति में सन्निहित नहीं है (घुमाने की अनुमति नहीं है)।



- Ans
- 1.
 - 2.
 - 3.
 - 4.

Question ID : 65497829867
Status : Answered
Chosen Option : 4

Q.11 दिए गए विकल्पों में से उस अक्षर-समूह का चयन करें, जो निम्नलिखित शृंखला में प्रश्न चिह्न (?) के स्थान पर आ सकता है?

SRQ, PON, ?, JIH, GFE

- Ans
- 1. LKM
 - 2. MLK
 - 3. KLM
 - 4. MKL

Question ID : 65497829872
Status : Answered
Chosen Option : 2



Q.12 'विटीकल्चर (Viticulture)' का 'अंगूर (Grapes)' से वही संबंध है, जो 'फ्लोरीकल्चर (Floriculture)' का _____ से है।

- Ans
- 1. फूलों (Flowers)
 - 2. पौधों (Plants)
 - 3. रेशम के कीड़े (Silkworm)
 - 4. फ्लोरीन (Fluorine)

Question ID : 65497829873
Status : Answered
Chosen Option : 1

Q.13 एक लड़के की ओर इशारा करते हुए, रंजीता ने कहा, "वह मेरे पति के ससुर की इकलौती पुत्री के पुत्र के पिता की इकलौती बहन का पुत्र है"। उस लड़के की माँ का रंजीता के पति से क्या संबंध है?

- Ans
- 1. चाची/ताई/बुआ
 - 2. मां
 - 3. पुत्री
 - 4. बहन

Question ID : 65497829887
Status : Answered
Chosen Option : 4

Q.14 उस सही विकल्प का चयन कीजिए, जो दिए गए शब्दों के उस क्रम को दर्शाता है, जिस क्रम में वे अंग्रेज़ी शब्दकोश में मौजूद होते हैं।

- 1. Acoustic
- 2. Academy
- 3. Accent
- 4. Accord
- 5. Active

- Ans
- 1. 2, 3, 4, 1, 5
 - 2. 2, 3, 1, 4, 5
 - 3. 2, 3, 4, 5, 1
 - 4. 2, 4, 3, 1, 5

Question ID : 65497829881
Status : Answered
Chosen Option : 1

Q.15

- Ans
- 1.
 - 2.
 - 3.
 - 4.

Question ID : 65497829871
Status : Answered
Chosen Option : 4



Q.16 उस विकल्प का चयन करें, जिसका तीसरी संख्या से वही संबंध है, जो दूसरी संख्या का पहली संख्या से है और छठी संख्या का पांचवीं संख्या से है।

7 : 113 :: 11 : ? :: 15 : 481

- Ans
- 1. 388
 - 2. 340
 - 3. 265
 - 4. 155

Question ID : 65497829864

Status : Not Answered

Chosen Option : --

Q.17 दिए गए कथनों और निष्कर्षों को ध्यानपूर्वक पढ़ें। कथनों में दी गई जानकारी को सत्य मानते हुए विचार करें, भले ही वह सामान्यतः ज्ञात तथ्यों से भिन्न प्रतीत होती हो, और बताइए कि दिए गए निष्कर्षों में से कौन से, तार्किक रूप से कथनों का पालन करते हैं?

कथन:

सभी चूहे, कुत्ते हैं।
कुछ चूहे, मुर्गियां हैं।

निष्कर्ष :

- I. कुछ चूहे, कुत्ते हैं।
- II. कुछ मुर्गियां, चूहे हैं।

- Ans
- 1. केवल निष्कर्ष II पालन करता है
 - 2. केवल निष्कर्ष I पालन करता है
 - 3. न तो निष्कर्ष I और न ही निष्कर्ष II पालन करता है
 - 4. निष्कर्ष I और II दोनों ही पालन करते हैं

Question ID : 65497829877

Status : Answered

Chosen Option : 4

Q.18

- Ans
- 1.
 - 2.
 - 3.
 - 4.

Question ID : 65497829875

Status : Answered

Chosen Option : 4



Download SSC CGL, CHSL E-BOOKS

[CLICK HERE](#)

Q.19 अक्षरों के उस संयोजन का चयन कीजिए, जिसे दी गई शृंखला के रिक्त स्थानों में क्रमबद्ध रूप से रखने पर शृंखला पूर्ण हो जाएगी।

O _ KM _ OPK _ AO _ _ MA

- Ans 1. P A M P O
 2. P A M P K
 3. M A K A P
 4. P M A P K

Question ID : 65497829882
Status : Answered
Chosen Option : 2

Q.20 दिए गए पैटर्न का ध्यानपूर्वक अध्ययन कीजिए और उस संख्या का चयन कीजिए जो इसमें प्रश्नवाचक चिह्न (?) के स्थान पर आ सकती है।

6 15 48
7 17 55
13 29 ?

- Ans 1. 78
 2. 87
 3. 79
 4. 97

Question ID : 65497829878
Status : Not Answered
Chosen Option : --

Q.21 एक निश्चित कूट भाषा में, 'RAT' को '39' लिखा जाता है और 'DOG' को '26' लिखा जाता है। उसी भाषा में 'YAK' को किस प्रकार लिखा जाएगा?

- Ans 1. 43
 2. 31
 3. 37
 4. 25

Question ID : 65497829869
Status : Answered
Chosen Option : 3

Q.22 चार अक्षर-समूह दिए गए हैं, जिनमें से तीन किसी तरह से संगत हैं और एक असंगत है। उस अक्षर-समूह का चयन करें, जो असंगत है।

- Ans 1. GIMU
 2. DFJP
 3. NPTZ
 4. FHRL

Question ID : 65497829868
Status : Answered
Chosen Option : 1



Q.23 P, Q, R, S, T, U और V एक दीवार पर एक पंक्ति में पश्चिम दिशा की ओर मुंह करके बैठे हैं। R, S के ठीक बाईं ओर है। Q दोनों सिरों में से एक पर है और T उसके बगल में है। V, T और U के बीच में बैठा हुआ है। S उत्तरी सिरे से पांचवें स्थान पर है। उन व्यक्तियों में से कौन पंक्ति के ठीक मध्य में बैठा है?

- Ans
- 1. V
 - 2. U
 - 3. T
 - 4. Q

Question ID : 65497829874
Status : Answered
Chosen Option : 2

Q.24 उस विकल्प का चयन कीजिए, जिसका तीसरे पद से वही संबंध है, जो दूसरे पद का पहले पद से है।

TONGUE : PUHOFV :: MASTER : ?

- Ans
- 1. BNUTSF
 - 2. PCTHVS
 - 3. TBOSFU
 - 4. SFUTBN

Question ID : 65497829885
Status : Not Answered
Chosen Option : --

Q.25 आठ मित्र K, L, M, N, O, P, Q और R दो वृत्ताकार मेजों के परितः बैठे हैं, जिनमें से एक छोटे आकार की आंतरिक मेज और एक बड़े आकार की बाहरी मेज है। दोनों वृत्ताकार मेजों के केंद्र समान हैं। प्रत्येक मेज पर चार व्यक्ति एक-दूसरे से समान दूरी पर केंद्र की ओर मुख करके बैठे हैं। M, L के दाईं ओर ठीक बगल में बैठा है। Q और N दक्षिण में बैठे हैं और वे R और L की ओर मुख करके बैठे हैं। M, समान मेज पर O के सामने बैठा है। P, बाहरी मेज पर K के सामने बैठा है। N समान मेज पर P और K के बीच में बैठा है। L समान पर M और O के बीच में बैठा है। बाहरी मेज पर उत्तर दिशा में कौन बैठा है?

- Ans
- 1. P
 - 2. K
 - 3. L
 - 4. R

Question ID : 65497829863
Status : Not Answered
Chosen Option : --

Section : Part B General Knowledge and General Awareness

Q.1 'प्रधानमंत्री उज्ज्वला योजना' इनमें से किस वर्ष में प्रारंभ की गई थी?

- Ans
- 1. 2016
 - 2. 2020
 - 3. 2014
 - 4. 2018

Question ID : 65497829902
Status : Answered
Chosen Option : 1



Download SSC CGL, CHSL E-BOOKS

[CLICK HERE](#)