

Constable GD in CAPFs NIA SSF and Rifleman GD in Assam Rifles Examination 2021

Roll Number	
Candidate Name	
Venue Name	ION Digital Zone iDZ Sirsakala Bhilai-3
Exam Date	23/11/2021
Exam Time :	4:00 PM - 5:30 PM
Subject	Constable GD 2021

Section : Part A General Intelligence and Reasoning

Q.1 दिए गए विकल्पों में से वह संख्या चुनें जो निम्नलिखित श्रेणी में प्रश्नवाचक चिह्न (?) के स्थान पर आ सकती है।

7, 14, 17, 68, 73, ?

- Ans
- 1. 408
 - 2. 528
 - 3. 432
 - 4. 438

Question ID : 65497829106

Status : Not Attempted and Marked For Review

Chosen Option : --

Q.2 उस विकल्प का चयन कीजिए, जिसमें दी गई संख्याओं के बीच वही संबंध है, जो दिए गए समुच्चय की संख्याओं के बीच है।

(9, 45, 10)

- Ans
- 1. (5, 75, 26)
 - 2. (8, 72, 18)
 - 3. (6, 85, 22)
 - 4. (7, 40, 12)

Question ID : 65497829110

Status : Not Attempted and Marked For Review

Chosen Option : --

Q.3 सात दोस्त S, T, U, V, W, X और Y, एक वृत्त के इर्द-गिर्द वृत्त के केंद्र की ओर पीठ करके बैठे हैं। Y और V के बीच तीन व्यक्ति हैं। W, V के दाईं ओर ठीक बगल में बैठा है। U, Y और X के बीच में बैठा है। T, W या Y के बगल में नहीं बैठा है। S, W के बगल में बैठा है। V और X के बीच कौन बैठा है?

- Ans
- 1. T
 - 2. S
 - 3. Y
 - 4. U

Question ID : 65497829119

Status : Answered



Download SSC CGL, CHSL E-BOOKS

[CLICK HERE](#)

Q.4 चार अक्षर-समूह दिए गए हैं, जिनमें से तीन किसी तरह से संगत हैं और एक असंगत है। उस अक्षर-समूह का चयन करें, जो असंगत है।

- Ans
- 1. KNQW
 - 2. PSVYB
 - 3. CGILN
 - 4. DGJMP

Question ID : 65497829104
Status : Answered
Chosen Option : 3

Q.5 उस विकल्प का चयन कीजिए, जो दिए गए शब्दों के उस क्रम को दर्शाता है, जिस क्रम में वे अंग्रेजी शब्दकोश में मौजूद होते हैं।

1. Rotate
2. Rose
3. Resolute
4. Repair
5. Recreate

- Ans
- 1. 5, 4, 3, 2, 1
 - 2. 4, 5, 3, 2, 1
 - 3. 1, 4, 3, 2, 5
 - 4. 5, 4, 3, 1, 2

Question ID : 65497829113
Status : Answered
Chosen Option : 1

Q.6 उस विकल्प का चयन करें, जिसका तीसरे पद से वही संबंध है, जो दूसरे पद का पहले पद से है।

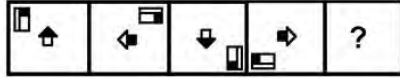
NOSE : ENOS :: PROUD : ?

- Ans
- 1. RPUOD
 - 2. DOPRU
 - 3. DUROP
 - 4. OUPDR

Question ID : 65497829101
Status : Answered
Chosen Option : 2



Q.7 उस आकृति का चयन कीजिए जो निम्न आकृति श्रृंखला में प्रश्नवाचक चिह्न (?) के स्थान पर आएगी।



Ans

1.



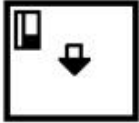
2.



3.



4.



Question ID : 65497829116

Status : Answered

Chosen Option : 2

Q.8 उस विकल्प का चयन कीजिए, जिसका चौथी संख्या से वही संबंध है, जो पहली संख्या का दूसरी संख्या से है और पांचवीं संख्या का छठी संख्या से है।

9 : 44001 :: ? : 46521 :: 14 : 55211

Ans 1. 14

2. 20

3. 10

4. 18

Question ID : 65497829122

Status : Answered

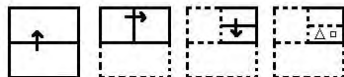
Chosen Option : 4



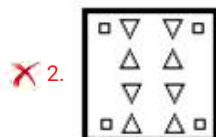
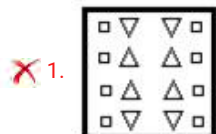
Download SSC CGL, CHSL E-BOOKS

[CLICK HERE](#)

Q.9 निम्नलिखित आकृतियों में कागज के एक टुकड़े को मोड़ने का क्रम और उसे काटने की विधि दर्शाई गई है। इस कागज को खोलने पर यह कैसा दिखाई देगा?



Ans



Question ID : 65497829112

Status : Answered

Chosen Option : 3

Q.10 दिए गए विकल्पों में से उस संख्या का चयन कीजिए, जो निम्नलिखित श्रेणी में प्रश्न चिह्न (?) के स्थान पर आ सकती है।

40, 46, 58, 82, 130, ?

Ans ✗ 1. 174

✗ 2. 206

✓ 3. 226

✗ 4. 166

Question ID : 65497829115

Status : Answered

Chosen Option : 3

Q.11 मनदीप और स्वाति के वेतनों का योग ₹85,000 है। स्वाति और युक्ति के वेतनों का योग ₹60,000 है। यदि स्वाति का वेतन, युक्ति के वेतन से ₹10,000 अधिक है, तो मनदीप का वेतन कितना है?

Ans ✗ 1. ₹40,000

✗ 2. ₹35,000

✗ 3. ₹25,000

✓ 4. ₹50,000

Question ID : 65497829111

Status : Answered

Chosen Option : 4



Download SSC CGL, CHSL E-BOOKS

CLICK HERE

Q.12 यदि 'A' का अर्थ '+' है, 'B' का अर्थ '-' है, 'C' का अर्थ 'x' है और 'D' का अर्थ '÷' है, तो दिए गए व्यंजक का मान ज्ञात कीजिए।

$$27 D 3 A 5 A (9 C 6) B 15 A (14 B 11) C 6 = ?$$

- Ans
- 1. 71
 - 2. 81
 - 3. 54
 - 4. 43

Question ID : 65497829123
Status : Answered
Chosen Option : 1

Q.13 दिए गए विकल्पों में से उस अक्षर-समूह का चयन करें, जो निम्नलिखित श्रृंखला में प्रश्न चिह्न (?) के स्थान पर आ सकता है।

MLW, JJV, GHU, ?

- Ans
- 1. FFS
 - 2. GET
 - 3. EGR
 - 4. DFT

Question ID : 65497829117
Status : Answered
Chosen Option : 4

Q.14 'दर्ज़ी' का 'पोशाक' से वही संबंध है, जो 'मोची' का '_____' से है।

- Ans
- 1. साइकिल
 - 2. जूते
 - 3. फ़र्नीचर
 - 4. भवन

Question ID : 65497829118
Status : Answered
Chosen Option : 2



Download SSC CGL, CHSL E-BOOKS

[CLICK HERE](#)

Q.15 दिए गए कथनों और निष्कर्षों को ध्यानपूर्वक पढ़ें। कथनों में दी गई जानकारी को सत्य मानें, भले ही वे सामान्यतः ज्ञात तथ्यों से भिन्न प्रतीत होती हों, और बताएं कि दिए गए निष्कर्षों में से कौन से तार्किक रूप से कथनों का पालन करते हैं?

कथन:

1. सभी सुइयां, कागज़ हैं।
2. कुछ सुइयां, चाकू हैं।

निष्कर्ष:

- I. कुछ चाकू, कागज़ हैं।
- II. कोई कागज़, चाकू नहीं है।

- Ans
- 1. केवल निष्कर्ष I पालन करता है।
 - 2. केवल निष्कर्ष II पालन करता है।
 - 3. दोनों ही निष्कर्ष पालन करते हैं।
 - 4. न तो निष्कर्ष I और न ही II पालन करता है।

Question ID : 65497829109

Status : Answered

Chosen Option : 1

Q.16 एक विशिष्ट कूट भाषा में, 'DUMP' को 'ETNQ' और 'EAGER' को 'DZHDS' लिखा जाता है। उसी कूट भाषा में 'FINGER' को क्या लिखा जाएगा?

- Ans
- 1. GHOHDS
 - 2. GJOHQS
 - 3. IFGNRE
 - 4. HHOHDS

Question ID : 65497829102

Status : Answered

Chosen Option : 1

Q.17 किसी निश्चित कूट भाषा में, 'TARGET' को '219752' और 'PRIZE' को '79985' लिखा जाता है। उसी कूट भाषा में 'QUEEN' को किस प्रकार लिखा जाएगा?

- Ans
- 1. 83225
 - 2. 73554
 - 3. 82554
 - 4. 83555

Question ID : 65497829105

Status : Answered

Chosen Option : 4

Q.18 एक बैठक में भाग ले रहे आठ अधिकारी A, B, C, D, E, F, G और H, एक वृत्ताकार मेज के इर्द-गिर्द इसी क्रम में दक्षिणावर्त बैठे हैं। सभी का मुख मेज के केंद्र की ओर है और उनके बीच समान दूरी है। यदि D का मुख उत्तर-पश्चिम दिशा की ओर है, तो F किस दिशा में बैठा है?

- Ans
- 1. दक्षिण-पूर्व
 - 2. दक्षिण-पश्चिम
 - 3. उत्तर-पूर्व
 - 4. उत्तर-पश्चिम

Question ID : 65497829121

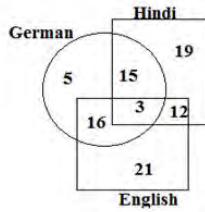
Status : Answered



Download SSC CGL, CHSL E-BOOKS

[CLICK HERE](#)

Q.19 दिया गया आरेख उन विद्यार्थियों की संख्या दर्शाता है जो विभिन्न भाषाएँ जानते हैं। [हिंदी (Hindi), अंग्रेज़ी (English) और जर्मन (German)]



उन विद्यार्थियों की संख्या कितनी है जो अंग्रेज़ी और जर्मन दोनों जानते हैं, लेकिन हिंदी नहीं जानते हैं?

- Ans
- 1. 15
 - 2. 12
 - 3. 3
 - 4. 16

Question ID : 65497829120
Status : Answered
Chosen Option : 4

Q.20 विशाल, नर्मदा का पति है। प्रतीक, गौरवी का भाई है। कार्तिक, प्रथमेश का बेटा है, जो आरती का पति है। आरती के बेटे का विवाह नर्मदा से हुआ है। गौरवी, विशाल की बेटी है। प्रथमेश का गौरवी से क्या संबंध है?

- Ans
- 1. नाना
 - 2. दादा
 - 3. मामा/मौसा
 - 4. चाचा/फूफा

Question ID : 65497829103
Status : Answered
Chosen Option : 2

Q.21 अक्षरों के उस संयोजन का चयन कीजिए, जिसे दी गई अक्षर श्रृंखला के रिक्त स्थानों में क्रमिक रूप से रखने पर श्रृंखला पूर्ण हो जाएगी।

G _ C T _ X _ T G X _ T _ X C T G _ C T

- Ans
- 1. X X C G G Y
 - 2. X G C C G X
 - 3. X G C C C G
 - 4. T G C C G G

Question ID : 65497829114
Status : Answered
Chosen Option : 2



Q.22 एक निश्चित कूट भाषा में 'READY' को 'IVZWB' लिखा जाता है। उसी कूट भाषा में 'PERFORM' को किस प्रकार लिखा जाएगा?

- Ans
- 1. LORPREFI
 - 2. KVIULIN
 - 3. RPLIFIRE
 - 4. KVPRERFJ

Question ID : 65497829108
Status : Answered
Chosen Option : 2


Q.23 जब दर्पण को दिए गए संयोजन के दाईं ओर रखा जाता है, तो संयोजन के सही दर्पण प्रतिबिंब का चयन करें।

8 5 6 w q a

- Ans
- 1. e p m @ 7 8
 - 2. 8 p w @ 9 8
 - 3. 8 p w @ 7 8
 - 4. 8 b w 9 7 8

Question ID : 65497829107
Status : Answered
Chosen Option : 3

Q.24 दी गई शीट को मोड़कर एक घन बनाया जाता है। इस प्रकार निर्मित घन में, 'A' अक्षर वाले फलक के विपरीत फलक पर कौन सा अक्षर मौजूद होगा?

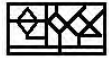


- Ans
- 1. C
 - 2. B
 - 3. D
 - 4. F

Question ID : 65497829124
Status : Answered
Chosen Option : 1



Q.25 उस विकल्प का चयन करें, जो दी गई आकृति में अंतर्निहित है (आकृति को घुमाने की अनुमति नहीं है)।



Ans



Question ID : 65497829125

Status : Answered

Chosen Option : 3

Section : Part B General Knowledge and General Awareness

Q.1 निम्नलिखित में से कौन सा महासागरीय गतिविधि को संदर्भित नहीं करता है?

Ans 1. परावर्तन

2. तरंग

3. ज्वार-भाटा

4. धाराएं

Question ID : 65497829145

Status : Answered

Chosen Option : 1

Q.2 निम्नलिखित में से कौन-सा लोक नृत्य असम की 'चाय जनजातियों' (tea tribes) द्वारा किया जाता है?

Ans 1. डोमकच (Domkach)

2. अलकप (Alkap)

3. झुमुर (Jhumur)

4. बाराओ (Barao)

Question ID : 65497829130

Status : Not Answered

Chosen Option : --



Download SSC CGL, CHSL E-BOOKS

[CLICK HERE](#)