

Constable GD in CAPFs NIA SSF and Rifleman GD in Assam Rifles Examination 2021

Roll Number	
Candidate Name	
Venue Name	iON Digital Zone iDZ Laxman Nagar
Exam Date	23/11/2021
Exam Time :	12:30 PM - 2:00 PM
Subject	Constable GD 2021

Section : Part A General Intelligence and Reasoning

Q.1 'पेन' का 'स्याही' से वही संबंध है, जो 'ब्रश' का '_____ ' से है।

- Ans
- 1. पेंसिल
 - 2. पेंट
 - 3. कामाज़
 - 4. चित्रकला पुस्तिका

Question ID : 65497835325
Status : Answered
Chosen Option : 2

Q.2 चार संख्याओं A, B, C और D का योग 147 है। C और D का अनुपात क्रमशः 3 : 5 है। D, A के पांच गुने के बराबर है। C, B के दोगुने के बराबर है। B का मान ज्ञात कीजिए।

- Ans
- 1. 42
 - 2. 45
 - 3. 27
 - 4. 21

Question ID : 65497835344
Status : Answered
Chosen Option : 4

Q.3 किसी कूट भाषा में, 'TOY' को 'UPZ' और 'COW' को 'DPX' लिखा जाता है। उसी कूट भाषा में 'MONU' को किस प्रकार लिखा जाएगा?

- Ans
- 1. NPVO
 - 2. VONP
 - 3. VOPN
 - 4. NPOV

Question ID : 65497835333
Status : Answered
Chosen Option : 4

Q.4 दिए गए विकल्पों में से उस संख्या का चयन करें, जो निम्नलिखित श्रेणी में प्रश्न चिह्न (?) के स्थान पर आ सकती है।

9, 18, 45, 126, ?

- Ans
- 1. 393
 - 2. 333
 - 3. 396
 - 4. 369

Question ID : 65497835334
Status : Answered
Chosen Option : 4

Q.5 दिए गए विकल्पों में से उस अक्षर-समूह का चयन करें, जो निम्नलिखित श्रृंखला में प्रश्न चिह्न (?) के स्थान पर आ सकता है।

FIK, HKM, JMO, LOQ, ?

- Ans
- 1. NRQ
 - 2. QNS
 - 3. NQS
 - 4. SQN

Question ID : 65497835324
Status : Answered
Chosen Option : 3

Q.6 दिए गए विकल्पों में से उस आकृति का चयन कीजिए, जो निम्नांकित श्रृंखला में प्रश्न चिह्न (?) के स्थान पर आ सकती है।



Ans

- 1.
- 2.
- 3.
- 4.

Question ID : 65497835331
Status : Answered
Chosen Option : 1

Q.7 पांच मित्र, R, S, V, P और Q, उत्तर दिशा की ओर मुख करके एक पंक्ति में बैठे हैं। Q, R के दाईं ओर तथा S के बाईं ओर बैठा है। यदि V, R के बाईं ओर बैठने वाला एकमात्र व्यक्ति है, तो बाएं सिरे पर कौन बैठा है?

- Ans 1. V
 2. R
 3. S
 4. P

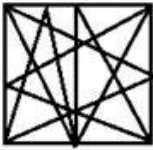
Question ID : 65497835326
 Status : Answered
 Chosen Option : 1

Q.8 उस विकल्प का चयन कीजिए जिसमें दी गई आकृति सन्निहित है। (आकृति को घुमाने की अनुमति नहीं है)

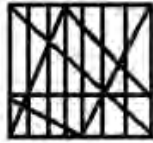


Ans

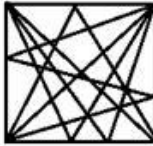
1.



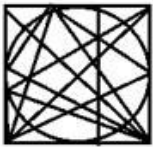
2.



3.

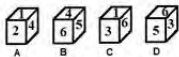
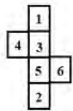


4.



Question ID : 65497835340
 Status : Answered
 Chosen Option : 2

Q.9 उन पासों का चयन कीजिए, जिन्हें दी गई शीट को रेखाओं के अनुसार मोड़कर बनाया जा सकता है।



Ans

1. केवल C

2. केवल A और C

3. केवल A, B और D

4. केवल A और B

Question ID : 65497835339
 Status : Answered
 Chosen Option : 2



Download SSC CGL, CHSL E-BOOKS

[CLICK HERE](#)

Q.10 दिए गए विकल्पों में से उस संख्या का चयन करें, जो निम्नलिखित श्रेणी में प्रश्न चिह्न (?) के स्थान पर आ सकती है।

92, 86, 81, 77, ?, 72

Ans 1. 74

2. 73

3. 75

4. 76

Question ID : 65497835330

Status : Answered

Chosen Option : 1

Q.11 उस विकल्प का चयन कीजिए, जिसका तीसरे पद से वही संबंध है, जो दूसरे पद का पहले पद से है।

SITAR : TKWEW :: CRAME : ?

Ans 1. DTDSJ

2. DSCQJ

3. DTDQK

4. DTDQJ

Question ID : 65497835346

Status : Answered

Chosen Option : 4

Q.12 उस सही विकल्प का चयन करें, जो दिए गए शब्दों के उस क्रम को दर्शाता है, जिसमें वे अंग्रेजी शब्दकोश में मौजूद होते हैं।

1. Gracious
2. Gorgeous
3. Government
4. Governor
5. Governess

Ans 1. 3, 5, 1, 4, 2

2. 2, 5, 1, 3, 4

3. 2, 5, 1, 4, 3

4. 2, 5, 3, 4, 1

Question ID : 65497835328

Status : Answered

Chosen Option : 4

Q.13 दर्पण को चित्र में प्रदर्शित किए गए अनुसार 'PQ' पर रखे जाने पर, दिए गए संयोजन के सही दर्पण प्रतिबिंब का चयन कीजिए।

NANKAU
P
Q

Ans 1. UAKNAI

2. KAUANI

3. IAKNAU

4. KAUANI

Question ID : 65497835335

Status : Answered

Chosen Option : 1

Q.14 एक निश्चित कूट भाषा में JAGUAR को MDJXDU लिखा जाता है। उसी कूट भाषा में LEOPARD को किस प्रकार लिखा जाएगा?

- Ans
- 1. OHRTDUH
 - 2. OHQSDVG
 - 3. OGRSEUG
 - 4. OHRSDUG

Question ID : 65497835341
Status : Answered
Chosen Option : 4

Q.15 चार अक्षर-समूह दिए गए हैं, जिनमें से तीन किसी तरह से संगत हैं और एक असंगत है। असंगत अक्षर-समूह का चयन करें।

- Ans
- 1. HI
 - 2. PG
 - 3. AB
 - 4. CD

Question ID : 65497835332
Status : Answered
Chosen Option : 2

Q.16 एक लड़के की तस्वीर की ओर इशारा करते हुए, निखिल ने कहा, "वह मेरी मां की सास की बेटी के इकलौते भाई का बेटा है"। तस्वीर में मौजूद लड़के का निखिल से क्या संबंध है?

- Ans
- 1. पिता
 - 2. चचेरे/ममेरे/फुफेरे/मौसेरे-भाई/बहन
 - 3. चाचा/ताऊ/फूफा
 - 4. भाई

Question ID : 65497835348
Status : Answered
Chosen Option : 4

Q.17 उस विकल्प का चयन कीजिए जिसका तीसरी संख्या से वही संबंध है जो दूसरी संख्या का पहली संख्या से है।

15 : 210 :: 26 : ?

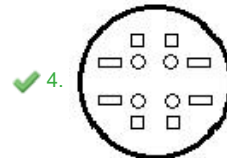
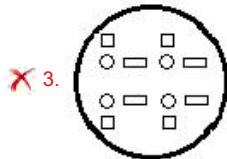
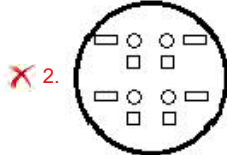
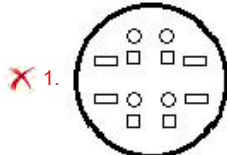
- Ans
- 1. 650
 - 2. 666
 - 3. 656
 - 4. 676

Question ID : 65497835337
Status : Answered
Chosen Option : 1

Q.18 कागज के एक टुकड़े को मोड़ने के क्रम और मुड़े हुए कागज को काटने के तरीके को नीचे दी गई आकृतियों में दर्शाया गया है। खोलने पर, यह कागज कैसा दिखाई देगा?

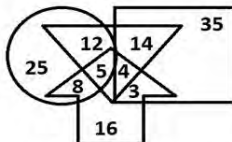


Ans



Question ID : 65497835345
Status : Answered
Chosen Option : 4

Q.19 दिए गए वेन आरेख में, वृत्त 'फुटबॉल खेलने वाली लड़कियों' को निरूपित करता है, आयत 'फुटबॉल खेलने वाले लड़कों' को निरूपित करता है, त्रिभुज, 'हॉकी खेलने वाली लड़कियों और लड़कों' को निरूपित करता है और तीर 'बैडमिंटन खेलने वाले खिलाड़ियों' को निरूपित करता है।



उन लड़कियों और लड़कों की कुल संख्या कितनी है, जो फुटबॉल और हॉकी दोनों खेलते हैं?

- Ans
- ✗ 1. 9
 - ✗ 2. 70
 - ✓ 3. 35
 - ✗ 4. 26

Question ID : 65497835327
Status : Answered
Chosen Option : 4

Q.20 पांच खिलाड़ी एक पार्क में एक सीधी पंक्ति में उत्तर दिशा की ओर मुख करके बैठे हैं। A और B एक साथ बैठे हैं। C, B और D के बीच में बैठा है। E, C के दाईं ओर दूसरे स्थान पर है। बाईं ओर से B की स्थिति ज्ञात कीजिए।

- Ans 1. दूसरी
 2. पांचवीं
 3. पहली
 4. चौथी

Question ID : 65497835336
Status : Answered
Chosen Option : 1

Q.21 उस विकल्प का चयन करें, जिसमें दी गई संख्याओं के बीच वही संबंध है, जो दिए गए समूह की संख्याओं के बीच है।

4, 17, 33

- Ans 1. 10, 14, 114
 2. 5, 10, 55
 3. 12, 15, 244
 4. 6, 15, 71

Question ID : 65497835343
Status : Answered
Chosen Option : 4

Q.22 यदि 'Z' का अर्थ 'जोड़ना' है, 'X' का अर्थ 'गुणा' है, 'Y' का अर्थ 'भाग' है, और 'W' का अर्थ 'घटाना' है, तो निम्न व्यंजक का मान कितना होगा?

15 Y (11 Z 4) Z 3 X 4 (19 Z 3) Y 11 X 3 (3 Z 2)

- Ans 1. 405
 2. 361
 3. 390
 4. 408

Question ID : 65497835338
Status : Answered
Chosen Option : 2

Q.23 एक निश्चित कूट भाषा में, DOUBLE को ZKQRYM लिखा जाता है और TEN को XMV लिखा जाता है। उसी कूट भाषा में TOLL को किस प्रकार लिखा जाएगा?

- Ans 1. YKXM
 2. UKQR
 3. MVYY
 4. XKYY

Question ID : 65497835347
Status : Not Answered
Chosen Option : --



Download SSC CGL, CHSL E-BOOKS

[CLICK HERE](#)

Q.24 उस अक्षर संयोजन का चयन करें, जिसे क्रमबद्ध रूप से दी गई श्रृंखला के रिक्त स्थानों में रखे जाने पर श्रृंखला पूर्ण हो जाएगी।

L _ _ K C _ O Q _ C L O _ _ C

Ans 1. OQLKQK

2. QOLKQK

3. OQLOQC

4. OKOQCQ

Question ID : 65497835329

Status : Answered

Chosen Option : 1

Q.25 दिए गए कथनों और निष्कर्षों को ध्यानपूर्वक पढ़ें। कथनों में दी गई जानकारी को सत्य मानते हुए विचार करें, भले ही वह सामान्यतः ज्ञात तथ्यों से भिन्न प्रतीत होती हो, और तय करें कि दिए गए निष्कर्षों में से कौन से कथनों का तार्किक रूप से पालन करते हैं?

कथन:

कुछ कदू केले हैं।
सभी केले करेले हैं।

निष्कर्ष:

I. कोई करेला कदू नहीं है।

II. कुछ करेले केले हैं।

Ans 1. निष्कर्ष I और II दोनों ही पालन करते हैं।

2. या तो निष्कर्ष I या II पालन करता है।

3. केवल निष्कर्ष I पालन करता है।

4. केवल निष्कर्ष II पालन करता है।

Question ID : 65497835342

Status : Answered

Chosen Option : 4

Section : Part B General Knowledge and General Awareness

Q.1 नवंबर 2020 में, निम्नलिखित में से किसे इक्विटास स्मॉल फ़ाइनेंस बैंक का ब्रांड एंबेसडर नियुक्त किया गया था?

Ans 1. अक्षय कुमार

2. स्मृति मंधाना

3. सुष्मिता सेन

4. विराट कोहली

Question ID : 65497835363

Status : Answered

Chosen Option : 1

Q.2 भारतीय संविधान के अनुच्छेद _____ में उल्लिखित है कि राष्ट्रपति, एंग्लो-इंडियन समुदाय के दो सदस्यों को लोकसभा में नामनिर्देशित कर सकते हैं, यदि समुदाय का प्रतिनिधित्व पर्याप्त न हो।

Ans 1. 333

2. 335

3. 337

4. 331

Question ID : 65497835372

Status : Answered

Chosen Option : 4