

## Constable GD in CAPFs NIA SSF and Rifleman GD in Assam Rifles Examination 2021

Roll Number	
Candidate Name	
Venue Name	Maa Santoshi Computers Pvt. Ltd.
Exam Date	23/11/2021
Exam Time :	9:00 AM - 10:30 AM
Subject	Constable GD 2021

Section : Part A General Intelligence and Reasoning

Q.1 उस विकल्प का चयन करें जो तीसरी संख्या से उसी प्रकार संबंधित है जिस प्रकार दूसरी संख्या पहली संख्या से संबंधित है।

15 : 225 :: 24 : ?

- Ans
- 1. 552
  - 2. 446
  - 3. 529
  - 4. 576

Question ID : 65497833173

Status : Answered

Chosen Option : 4



Download SSC CGL, CHSL E-BOOKS

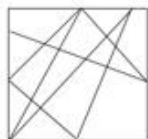
[CLICK HERE](#)

Q.2 उस विकल्प का चयन करें जिसमें दी गई आकृति अंतर्निहित है (आकृति को घुमाने की अनुमति नहीं है)।

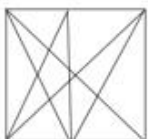


Ans

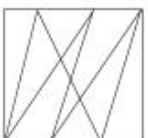
✓ 1.



✗ 2.



✗ 3.



✗ 4.



Question ID : 65497833176

Status : Answered

Chosen Option : 1

Q.3 'प्रतिरोध' का जो संबंध 'ओम' से है, 'बल' का वही संबंध '\_\_\_\_\_' से है।

Ans ✗ 1. वोल्ट

✗ 2. अंश

✓ 3. न्यूटन

✗ 4. रेडियन

Question ID : 65497833182

Status : Answered

Chosen Option : 3

Q.4 चार अक्षर समूह दिए गए हैं, जिनमें से तीन किसी तरह से समान हैं और एक असंगत है। उस असंगत अक्षर समूह का चयन कीजिए।

Ans ✗ 1. LMWU

✓ 2. PQZY

✗ 3. JKUS

✗ 4. DEOM

Question ID : 65497833165

Status : Answered

Chosen Option : 2



Download SSC CGL, CHSL E-BOOKS

[CLICK HERE](#)

Q.5 दिए गए कथनों और निष्कर्षों को ध्यानपूर्वक पढ़ें। यह मानते हुए कि कथनों में दी गई सूचना सत्य है, भले ही वह सामान्य रूप से ज्ञात तथ्यों से भिन्न प्रतीत होती हो, और बताइए कि दिए गए निष्कर्षों में से कौन-सा/से निष्कर्ष कथनों का तार्किक रूप से अनुसरण करता है/करते हैं।

कथन:

कुछ चम्मच, प्लेट हैं।  
कुछ प्लेट, गिलास हैं।

निष्कर्ष:

- I. कोई भी गिलास, चम्मच नहीं है।
- II. कोई भी प्लेट, चम्मच नहीं है।
- III. कुछ गिलास, चम्मच हैं।

- Ans
- 1. केवल निष्कर्ष II और III अनुसरण करते हैं।
  - 2. सभी निष्कर्ष अनुसरण करते हैं।
  - 3. या तो निष्कर्ष I या निष्कर्ष III अनुसरण करता है।
  - 4. केवल निष्कर्ष I और II अनुसरण करते हैं।

Question ID : 65497833185

Status : Answered

Chosen Option : 3

Q.6 राजपाल और रामपाल दो भाई हैं। सुनीता, राजपाल की भाभी है। रघुबीर, सुनीता के पिता हैं। सुनीता, विक्रम की इकलौती बहन है। हर्ष, सुनीता का इकलौता पुत्र है। रामपाल का हर्ष से क्या संबंध है?

- Ans
- 1. पिता
  - 2. चाचा
  - 3. दादा
  - 4. मामा

Question ID : 65497833171

Status : Answered

Chosen Option : 1

Q.7 दिए गए विकल्पों में से उस आकृति का चयन करें, जो निम्नांकित आकृति में प्रश्नवाचक चिह्न (?) के स्थान पर आ सकती है, और पैटर्न को पूरा कर सकती है (घुमाने की अनुमति नहीं है)।



- Ans
- 1.
  - 2.
  - 3.
  - 4.

Question ID : 65497833180

Status : Answered

Chosen Option : 4



Download SSC CGL, CHSL E-BOOKS

CLICK HERE

Q.8 निम्नलिखित विकल्पों में से उस विकल्प का चयन करें, जो दिए गए शब्दों के उस सही क्रम को दर्शाता है, जिस क्रम में ये शब्द अंग्रेजी शब्दकोश में दिखाई देते हैं।

1. Stumpy
2. Stumble
3. Stupor
4. Stuffy
5. Stung

- Ans  1. 4, 1, 2, 5, 3  
 2. 4, 2, 1, 5, 3  
 3. 4, 2, 5, 1, 3  
 4. 2, 4, 1, 5, 3

Question ID : 65497833177

Status : Answered

Chosen Option : 2

Q.9 दिए गए पैटर्न का ध्यानपूर्वक अध्ययन कीजिए और उस संख्या का चयन कीजिए जो इसमें प्रश्नवाचक चिह्न (?) के स्थान पर आ सकती है।

4 10 9  
5 13 13  
7 19 ?

- Ans  1. 13  
 2. 21  
 3. 17  
 4. 23

Question ID : 65497833186

Status : Not Attempted and  
Marked For Review

Chosen Option : --

Q.10 अक्षरों के उस संयोजन का चयन करें, जिसे जब दी गई श्रृंखला के रिक्त स्थानों में क्रम से रखा जाए, तो श्रृंखला पूर्ण हो सके।

S O \_ \_ T A S \_ \_ A T A \_ \_ N A T \_ \_ O N A \_ \_

- Ans  1. NAONSOTASA  
 2. NAONSOASON  
 3. NAONSOASTA  
 4. NAONSOSATA

Question ID : 65497833178

Status : Not Answered

Chosen Option : --



Download SSC CGL, CHSL E-BOOKS

[CLICK HERE](#)

Q.11 दिए गए विकल्पों में से उस संख्या का चयन करें, जो निम्नलिखित श्रृंखला में प्रश्नवाचक चिह्न (?) के स्थान पर आ सकती है।

7, 11, 16, 22, ?, 37, 46

Ans  1. 29

2. 27

3. 28

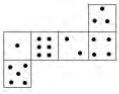
4. 31

Question ID : 65497833179

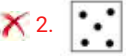
Status : Answered

Chosen Option : 1

Q.12 नीचे दी गई शीट को मोड़कर एक बॉक्स बनाया गया है। इस प्रकार बने बॉक्स में, उस फलक का चयन करें जो चार बिंदु दर्शाने वाले फलक के विपरीत फलक पर होगा।



Ans



Question ID : 65497833175

Status : Answered

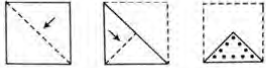
Chosen Option : 1



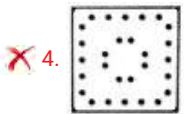
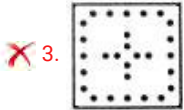
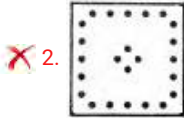

Download SSC CGL, CHSL E-BOOKS

[CLICK HERE](#)

Q.13 निम्नांकित आकृतियों में एक कागज के टुकड़े को मोड़ने का क्रम और मुड़े हुए कागज को काटने की विधि दर्शाई गई है। यह कागज खोलने पर कैसा दिखेगा?



Ans



Question ID : 65497833188

Status : Answered

Chosen Option : 1

Q.14 यदि  $5 + 8 = 14$ ,  $9 + 6 = 21$ , और  $4 + 10 = 13$  है, तो  $7 + 2 =$  कितना होगा?

Ans ✓ 1. 15

✗ 2. 16

✗ 3. 18

✗ 4. 17

Question ID : 65497833187

Status : Not Attempted and Marked For Review

Chosen Option : --

Q.15 दिए गए विकल्पों में से उस संख्या का चयन कीजिए जो निम्नलिखित श्रृंखला में प्रश्न चिह्न (?) को प्रतिस्थापित कर सकती है।

1, 8, 64, 512, ?

Ans ✗ 1. 17282

✓ 2. 4096

✗ 3. 2744

✗ 4. 2197

Question ID : 65497833167

Status : Answered

Chosen Option : 2



Download SSC CGL, CHSL E-BOOKS

CLICK HERE

Q.16 यदि 'N' का अर्थ 'x' है, 'T' का अर्थ '-' है, 'M' का अर्थ '=' है, 'A' का अर्थ '=' है, और 'R' का अर्थ '+' है, तो निम्नलिखित में से कौन सा समीकरण तार्किक रूप से सही होगा?

- Ans
- 1. 36M18N36R18T36A58
  - 2. 36N18R36M18T36A54
  - 3. 36A18T36N18R36M54
  - 4. 36M18N36R18T36A54

Question ID : 65497833174

Status : **Not Attempted and Marked For Review**

Chosen Option : --

Q.17 एक निश्चित कूट भाषा में, 'GROWTH' को 'OIGHGW' लिखा जाता है। उसी कूट भाषा में, 'GODREJ' को क्या लिखा जाएगा?

- Ans
- 1. DOGJER
  - 2. DGLVJR
  - 3. DPGJZR
  - 4. DLGJVR

Question ID : 65497833183

Status : **Answered**

Chosen Option : 1

Q.18 उस अक्षर-समूह का चयन कीजिए जो निम्नांकित श्रेणी में प्रश्नवाचक चिह्न (?) के स्थान पर आ सकता है।

BER, EAT, HWV, ?, NOZ

- Ans
- 1. LSY
  - 2. LSX
  - 3. KTX
  - 4. KSX

Question ID : 65497833181

Status : **Answered**

Chosen Option : 4

Q.19 उस विकल्प का चयन कीजिए जिसका तीसरे पद से वही संबंध है जो दूसरे पद का पहले पद से है।

BEARD : FTCGD :: CROWN : ?

- Ans
- 1. PYBCE
  - 2. WXDJM
  - 3. PYQTE
  - 4. PYQVH

Question ID : 65497833169

Status : **Answered**

Chosen Option : 3



Q.20 एक निश्चित कूट भाषा में, PRINCE को OQHODF लिखा जाता है। उसी कूट भाषा में BUDGET को क्या लिखा जाएगा?

- Ans  1. ATCHFU  
 2. DBQSFU  
 3. ATEIFU  
 4. ATCIFU

Question ID : 65497833170  
Status : Answered  
Chosen Option : 1

Q.21 छह मित्र उत्तर दिशा की ओर अभिमुख होकर एक पंक्ति में बैठे हैं। मेहर पश्चिमी छोर पर बैठी है। निधि केवल सिया के बाईं ओर बैठी है। अंश और निधि के बीच में दो व्यक्ति बैठे हैं। गौरव और मेहर के बीच में एक व्यक्ति बैठा है। रक्षित, अंश के दाईं ओर बैठा है। पूर्व से तीसरे स्थान पर कौन-सा व्यक्ति बैठा है?

- Ans  1. रक्षित  
 2. गौरव  
 3. अंश  
 4. निधि

Question ID : 65497833172  
Status : Answered  
Chosen Option : 2

Q.22 एक निश्चित कूट भाषा में, TAILOR को 538490 और LAND को 4367 के रूप में कूटबद्ध किया गया है। उसी भाषा में DRAIN को किस रूप में कूटबद्ध किया जाएगा?

- Ans  1. 70367  
 2. 70389  
 3. 70386  
 4. 60378

Question ID : 65497833166  
Status : Answered  
Chosen Option : 3

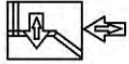


Download SSC CGL, CHSL E-BOOKS

[CLICK HERE](#)

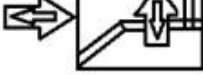


Q.23 यदि दर्पण को दी गई आकृति के दाईं ओर रखा गया हो, तो आकृति का सही दर्पण प्रतिबिंब चयनित कीजिए।

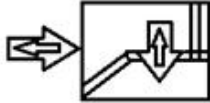


Ans

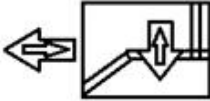
✗ 1.



✓ 2.



✗ 3.



✗ 4.



Question ID : 65497833168

Status : Answered

Chosen Option : 2

Q.24 छह सहेलियाँ गोपी, शीला, रावली, सरयू, हिना और गिरि उत्तर दिशा की ओर मुख करके एक पंक्ति में खड़ी हैं। शीला और हिना के बीच में दो व्यक्ति हैं। रावली ठीक हिना और सरयू के बीच में है। गोपी के आगे केवल एक व्यक्ति है। गिरि ठीक गोपी और हिना के बीच में है। हिना पंक्ति में पीछे से तीसरे स्थान पर है। शीला और हिना के बीच में कौन-से दो व्यक्ति हैं?

Ans

✗ 1. गिरि और सरयू

✓ 2. गोपी और गिरि

✗ 3. सरयू और रावली

✗ 4. गोपी और रावली

Question ID : 65497833184

Status : Not Answered

Chosen Option : --



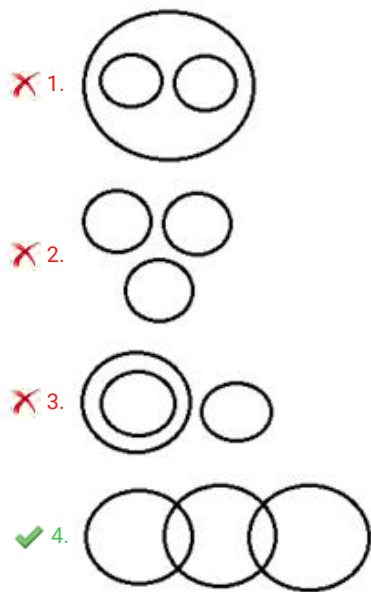
Download SSC CGL, CHSL E-BOOKS

[CLICK HERE](#)

Q.25 Select the Venn diagram that best represents the relationship between the following classes.

Entrance test, Questions, Practice test

Ans



Question ID : 65497833189

Status : Answered

Chosen Option : 1

Section : Part B General Knowledge and General Awareness

Q.1 किसकी सलाह पर, गांधीजी ने जमीन और वहां के लोगों के बारे में जानने के लिए एक वर्ष ब्रिटिश भारत की यात्रा पर बिताया?

- Ans
- ✗ 1. लाला लाजपत राय
  - ✗ 2. बिपिन चंद्र पाल
  - ✗ 3. बाल गंगाधर तिलक
  - ✓ 4. गोपाल कृष्ण गोखले

Question ID : 65497833210

Status : Answered

Chosen Option : 4

Q.2 निम्नलिखित में से वह कौन सा गंभीर मानसिक रोग है, जो व्यक्ति के सोचने, अनुभूति करने और व्यवहार करने के ढंग को प्रभावित करता है?

- Ans
- ✗ 1. फीताकृमि संक्रमण (Taeniasis)
  - ✗ 2. धमनीकाठिन्य (Atherosclerosis)
  - ✓ 3. खंडित मनस्कता (Schizophrenia)
  - ✗ 4. गोलकृमि संक्रमण (Ascariasis)

Question ID : 65497833202

Status : Not Answered

Chosen Option : --



Download SSC CGL, CHSL E-BOOKS

CLICK HERE