

Constable GD in CAPFs NIA SSF and Rifleman GD in Assam Rifles Examination 2021

Roll Number	
Candidate Name	
Venue Name	Examit Infotech Pvt Ltd
Exam Date	22/11/2021
Exam Time :	4:00 PM - 5:30 PM
Subject	Constable GD 2021

Section : **Part A General Intelligence and Reasoning**

Q.1 उस विकल्प का चयन कीजिए जिसका तीसरी संख्या से वही संबंध है, जो दूसरी संख्या का पहली संख्या से है।

6 : 216 :: 8 : ?

Ans 1. 1024

2. 512

3. 154

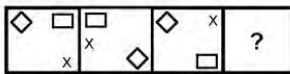
4. 64

Question ID : 65497831646

Status : **Answered**


Chosen Option : 2

Q.2 दिए गए विकल्पों में से उस आकृति को चुनिए जो निम्न श्रृंखला में प्रश्नचिह्न (?) का स्थान ले सकती है।

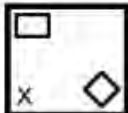


Ans

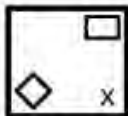
1.



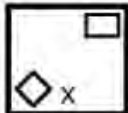
2.



3.



4.



Question ID : 65497831653

Status : **Answered**

Chosen Option : 1



Download SSC CGL, CHSL E-BOOKS

CLICK HERE

Q.3 दर्पण को दी गई आकृति के दाईं ओर रखे जाने पर, आकृति का दर्पण में निर्मित सही प्रतिबिंब चयनित करें।



Ans

- 1.
- 2.
- 3.
- 4.

Question ID : 65497831657
Status : Answered
Chosen Option : 1

Q.4 A, B, C और D नाम के चार मित्र एक रेस्तरां में एक वर्गाकार मेज के चारों ओर बैठे हुए हैं। यदि B, A के ठीक सामने और D के विकर्णतः सामने बैठा हुआ है, तो C के सामने कौन बैठा है?

- Ans
- 1. कोई नहीं
 - 2. A
 - 3. D
 - 4. B

Question ID : 65497831643
Status : Answered
Chosen Option : 3

Q.5 एक निश्चित कूट भाषा में VOLLEY को WpMMfZ लिखा जाता है और DON को EpO लिखा जाता है। उसी कूट भाषा में DENSITY को किस प्रकार लिखा जाएगा?

- Ans
- 1. EfOtJUZ
 - 2. EFotJUy
 - 3. FfOtJuZ
 - 4. EEoTjUz

Question ID : 65497831664
Status : Answered
Chosen Option : 1

Q.6 उस संख्या की पहचान करें जो निम्न श्रृंखला से संबंधित नहीं है।

18, 27, 35, 45, 54

- Ans 1. 18
 2. 45
 3. 54
 4. 35

Question ID : 65497831652
Status : Answered
Chosen Option : 4

Q.7 दिए गए विकल्पों में से उस अक्षर-समूह का चयन करें जो निम्नलिखित श्रृंखला में प्रश्नवाचक चिह्न (?) के स्थान पर आ सकता है।

NKI, PMK, ROM, ?

- Ans 1. SPN
 2. TOM
 3. TQO
 4. TRP

Question ID : 65497831641
Status : Answered
Chosen Option : 3

Q.8 उस अक्षर संयोजन का चयन करें जिसे दी गई श्रृंखला के रिक्त स्थानों में क्रमिक रूप से रखे जाने पर श्रृंखला पूर्ण होगी।

BCB_BC_IB_BI

- Ans 1. BCI
 2. BCC
 3. CBI
 4. IBC

Question ID : 65497831651
Status : Answered
Chosen Option : 3

Q.9 यदि समायरा, मेरे पिता की माता के इकलौते पुत्र की पुत्री है, तो समायरा का मुझसे क्या संबंध है?

- Ans 1. भतीजी/भांजी
 2. पुत्री
 3. मां
 4. बहन

Question ID : 65497831665
Status : Answered
Chosen Option : 4

Q.10 एक सम्मेलन के अंत में, उपस्थित सभी 30 व्यक्तियों ने एक-दूसरे से हाथ मिलाया। इस प्रकार कुल कितनी बार हाथ मिलाए गए?

- Ans 1. 435
 2. 450
 3. 300
 4. 60

Question ID : 65497831661
Status : Answered
Chosen Option : 2

Q.11 A, B, C, D, E और F, अलग-अलग लंबाइयों के छः मित्र हैं। A केवल C और E से लंबा है। B, D से छोटा है लेकिन D उनमें से सबसे लंबा नहीं है। उनमें से सबसे लंबा कौन है?

- Ans
- 1. E
 - 2. A
 - 3. F
 - 4. C

Question ID : 65497831645
Status : Answered
Chosen Option : 3

Q.12 चार अक्षर-समूह दिए गए हैं, जिनमें से तीन किसी तरह से एक समान हैं और एक असंगत है। उस अक्षर-समूह का चयन करें जो असंगत है।

- Ans
- 1. USB
 - 2. IDE
 - 3. RDN
 - 4. ZTG

Question ID : 65497831654
Status : Answered
Chosen Option : 4

Q.13 एक निश्चित कूट भाषा में KING को 1012810131568 के रूप में कूटबद्ध किया जाता है। उसी कूट भाषा में ROSE को किस रूप में कूटबद्ध किया जाएगा?

- Ans
- 1. 17191614201864
 - 2. 17191416182046
 - 3. 17181416192056
 - 4. 19171614192035

Question ID : 65497831655
Status : Not Attempted and Marked For Review
Chosen Option : --

Q.14 उस विकल्प का चयन कीजिए जो दिए गए शब्दों का वह क्रम दर्शाता है जिस क्रम में वे अंग्रेजी शब्दकोश में आते हैं।

1. Power
2. Piece
3. Peace
4. Poem
5. Palm

- Ans
- 1. 1, 2, 3, 4, 5
 - 2. 2, 3, 1, 5, 4
 - 3. 5, 4, 3, 2, 1
 - 4. 5, 3, 2, 4, 1

Question ID : 65497831650
Status : Answered
Chosen Option : 4



Download SSC CGL, CHSL E-BOOKS

[CLICK HERE](#)

Q.15 एक विशिष्ट कूट भाषा में, 'ORACLE' को 'HSVUXG' और 'DAVID' को 'BVJFB' लिखा जाता है। इसी कूट भाषा में 'VIDEO' को क्या लिखा जाएगा?

- Ans 1. JFBGH
 2. JFGBH
 3. JBFHG
 4. GFBJH

Question ID : 65497831658
Status : Answered
Chosen Option : 1

Q.16 दिए गए पैटर्न का ध्यानपूर्वक अध्ययन करें, और उस संख्या का चयन करें जो इसमें प्रश्नवाचक चिह्न (?) के स्थान पर आ सकती है।

10 13 17
12 11 ?
160 185 235

- Ans 1. 15
 2. 13
 3. 10
 4. 17

Question ID : 65497831660
Status : Answered
Chosen Option : 2

Q.17 निम्नलिखित समीकरण को सही (संतुलित) बनाने के लिए किन दो संख्याओं (अंक नहीं) को आपस में बदलना होगा?

$$3 \times 45 \div 5 + 7 - 12 = 70$$

- Ans 1. 3 और 5
 2. 5 और 7
 3. 3 और 7
 4. 5 और 12

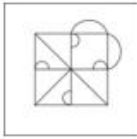
Question ID : 65497831647
Status : Answered
Chosen Option : 1

Q.18 उस विकल्प का चयन करें जिसमें दी गई आकृति सन्निहित है (घुमाने की अनुमति नहीं है)।



Ans

✓ 1.



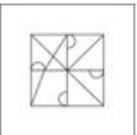
✗ 2.



✗ 3.

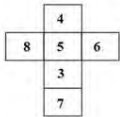


✗ 4.



Question ID : 65497831649
Status : Answered
Chosen Option : 1

Q.19 दी गई शीट को मोड़कर एक घन बनाया जाता है। इस प्रकार से बने घन में, संख्या '7' दर्शाने वाले फलक के विपरीत फलक पर कौन-सी संख्या होगी?



Ans

✓ 1. 5

✗ 2. 6

✗ 3. 8

✗ 4. 4

Question ID : 65497831648
Status : Answered
Chosen Option : 1

Q.20 निम्नांकित चित्रों में एक कागज को मोड़ने के क्रम और मुड़े हुए कागज को काटने का तरीका दर्शाया गया है। मुड़े हुए कागज को खोलने पर यह कैसा दिखाई देगा?



Ans

✗ 1.



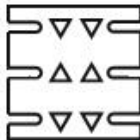
✗ 2.



✗ 3.



✓ 4.



Question ID : 65497831662

Status : Answered

Chosen Option : 4

Q.21 दिए गए विकल्पों में से उस संख्या का चयन करें जो निम्नलिखित श्रृंखला में प्रश्न चिह्न (?) के स्थान पर आ सकती है।

6, 8, 20, 50, 106, ?

Ans

✗ 1. 212

✗ 2. 280

✓ 3. 196

✗ 4. 218

Question ID : 65497831656

Status : Not Attempted and Marked For Review

Chosen Option : --

Q.22 'शहद' का जो संबंध 'मधुमक्खी' से है वही संबंध 'चीनी' का '_____' से है।

Ans

✗ 1. मिठाई

✗ 2. केक

✓ 3. गन्ना

✗ 4. जूसर

Question ID : 65497831642

Status : Answered

Chosen Option : 3

Q.23 उस विकल्प का चयन कीजिए, जिसका तीसरे पद से वही संबंध है, जो दूसरे पद का पहले पद से है।

TANGY : GZMTB :: PRIEST : ?





- Ans
- 1. LIRVJG
 - 2. KIRVHG
 - 3. KJSVHG
 - 4. KIRUHF

Question ID : 65497831663
Status : Answered
Chosen Option : 2

Q.24 उस वेन आरेख का चयन करें जो निम्नलिखित वर्गों के बीच के संबंधों का सबसे अच्छी तरह से दर्शाता है।

पुलिस, पुरुष, पति

Ans

- 1. 
- 2. 
- 3. 
- 4. 

Question ID : 65497831644
Status : Answered
Chosen Option : 2

Q.25 दिए गए कथनों और निष्कर्षों को ध्यानपूर्वक पढ़ें। कथनों में दी गई जानकारी को सत्य मानते हुए भले ही वह सामान्य ज्ञात तथ्यों से भिन्न प्रतीत होती हो, निर्णय कीजिए कि दिए गए निष्कर्षों में से कौन से निष्कर्ष कथनों का तार्किक रूप से अनुसरण करते हैं।

कथन:

सभी फल, फूल हैं।
कुछ फल, कीवी हैं।

निष्कर्ष:

- I. कुछ फूल, कीवी हैं।
- II. सभी कीवी, फल हैं।

- Ans
- 1. निष्कर्ष I और II दोनों अनुसरण करते हैं।
 - 2. केवल निष्कर्ष II अनुसरण करता है।
 - 3. न तो निष्कर्ष I और न ही निष्कर्ष II अनुसरण करता है।
 - 4. केवल निष्कर्ष I अनुसरण करता है।

Question ID : 65497831659
Status : Answered
Chosen Option : 4

Section : Part B General Knowledge and General Awareness