

Constable GD in CAPFs NIA SSF and Rifleman GD in Assam Rifles Examination 2021

Roll Number	
Candidate Name	
Venue Name	iON Digital Zone iDZ Green Park
Exam Date	22/11/2021
Exam Time :	9:00 AM - 10:30 AM
Subject	Constable GD 2021

Section : Part A General Intelligence and Reasoning

Q.1 अक्षरों के उस संयोजन का चयन कीजिए, जिसे दी गई श्रृंखला के रिक्त स्थानों में क्रमबद्ध रूप से रखने पर श्रृंखला पूर्ण हो जाएगी।

N _ K _ T N O K _ T _ _ _ D T

- Ans
- 1. KDDNOK
 - 2. ONDNOK
 - 3. ODKNOK
 - 4. ODDNOK

Question ID : 65497834711

Status : Answered

Chosen Option : 4

Q.2 उस विकल्प का चयन करें जिसमें दी गई आकृति अंतर्निहित है (आकृति को घुमाने की अनुमति नहीं है)।



Ans

- 1.
- 2.
- 3.
- 4.

Question ID : 65497834693

Status : Answered

Chosen Option : 3



Download SSC CGL, CHSL E-BOOKS

[CLICK HERE](#)

Q.3 उस विकल्प का चयन करें जो तीसरे शब्द से उसी प्रकार संबंधित है जिस प्रकार दूसरा शब्द पहले शब्द से संबंधित है।

मधुमक्खियां : भिनभिनाना :: मुर्गियां : ?

- Ans
- 1. गरजना
 - 2. किकियाना
 - 3. कुटकुटाना
 - 4. चहचहाना

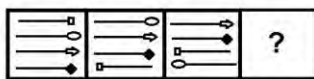
Question ID : 65497834698
Status : Answered
Chosen Option : 3

Q.4 एक निश्चित कूट भाषा में, 'DICTIONARY' को '20' के रूप में कूटबद्ध किया जाता है और 'MOBILITY' को '16' के रूप में कूटबद्ध किया जाता है। उसी कूट भाषा में 'TERMINATION' को किस रूप में कूटबद्ध किया जाएगा?

- Ans
- 1. 20
 - 2. 24
 - 3. 18
 - 4. 22

Question ID : 65497834702
Status : Answered
Chosen Option : 4

Q.5 दिए गए विकल्पों में से उस आकृति का चयन कीजिए, जो निम्न आकृति श्रृंखला में प्रश्नवाचक चिन्ह (?) के स्थान पर आ सकती है।



- Ans
- 1.
 - 2.
 - 3.
 - 4.

Question ID : 65497834713
Status : Answered
Chosen Option : 1



Download SSC CGL, CHSL E-BOOKS

[CLICK HERE](#)

Q.6 किसी विशिष्ट कूट भाषा में, 'LEMON' को 'ELMNO' के रूप में लिखा जाता है। उसी कूट भाषा में 'CLUSTER' को किस रूप में लिखा जाएगा?

- Ans
- 1. LUCETRS
 - 2. CLESRUT
 - 3. CELRSTU
 - 4. LCUTESR

Question ID : 65497834705
Status : Not Answered
Chosen Option : --

Q.7 उस विकल्प का चयन करें, जो चौथी संख्या से उसी प्रकार संबंधित है जिस प्रकार पहली संख्या दूसरी संख्या से और पाँचवीं संख्या छठी संख्या से संबंधित है।

64 : 4 :: ? : 6 :: 100 : 5

- Ans
- 1. 144
 - 2. 188
 - 3. 228
 - 4. 108

Question ID : 65497834690
Status : Answered
Chosen Option : 1

Q.8 किसी विशिष्ट कूट भाषा में, 'RAJU' को 'WFOZ' और 'SITA' को 'XNYF' के रूप में लिखा जाता है। उसी कूट भाषा में 'MONU' को किस रूप में लिखा जाएगा?

- Ans
- 1. UTRZ
 - 2. SRSY
 - 3. TRSX
 - 4. RTSZ

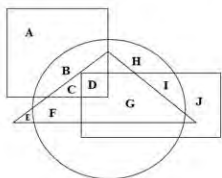
Question ID : 65497834695
Status : Answered
Chosen Option : 4



Download SSC CGL, CHSL E-BOOKS

[CLICK HERE](#)

Q.9 निम्न वेन आरेख में, त्रिभुज, 'लंबे व्यक्तियों' का निरूपण करता है, वृत्त 'काली आंखों वाले व्यक्तियों' का निरूपण करता है, आयत 'भूरे बालों वाले व्यक्तियों' का निरूपण करता है, और वर्ग 'लड़कों' का निरूपण करता है। निम्नलिखित में से कौन-सा अक्षर उन लंबे और काली आंखों वाले लड़कों का निरूपण करता है, जिनके बाल भूरे नहीं हैं?



- Ans**
- 1. F
 - 2. G
 - 3. C
 - 4. D

Question ID : 65497834700
 Status : Answered
 Chosen Option : 3

Q.10 दिए गए विकल्पों में से उस संख्या का चयन करें जो निम्नलिखित श्रृंखला में प्रश्न चिह्न (?) के स्थान पर आ सकती है।

4, 5, 18, 19, 68, 69, ?

- Ans**
- 1. 250
 - 2. 256
 - 3. 262
 - 4. 266

Question ID : 65497834703
 Status : Not Answered
 Chosen Option : --

Q.11 पांच सहेलियां भूमिका, राशि, श्वेता, विभा और अरुणिमा पूर्व दिशा की ओर अभिमुख होकर एक पंक्ति में बैठी हैं। भूमिका, विभा और श्वेता के बीच में बैठी है। राशि, श्वेता के बाईं ओर दूसरे स्थान पर बैठी है। दक्षिण छोर पर कौन सी लड़की बैठी है?

- Ans**
- 1. अरुणिमा
 - 2. राशि
 - 3. विभा
 - 4. श्वेता

Question ID : 65497834699
 Status : Answered
 Chosen Option : 3



Download SSC CGL, CHSL E-BOOKS

[CLICK HERE](#)

Q.12 फलों की एक दुकान में केवल दो प्रकार के फल हैं, जिनके नाम संतरे और आम हैं। संतरों की संख्या आमों की संख्या की तीन गुनी है। निम्नलिखित में से कौन सी संख्या दुकान में फलों की कुल संख्या को निरूपित नहीं कर सकती है?

- Ans
- 1. 40
 - 2. 48
 - 3. 44
 - 4. 42

Question ID : 65497834708

Status : Answered

Chosen Option : 4

Q.13 आठ मित्र P, Q, R, S, T, U, V और W एक पंक्ति में बैठे फिल्म देख रहे हैं। T एक छोर पर बैठा है। Q, W और R के बीच में बैठा है। V, S और U के बीच में बैठा है। W, T के दाएँ बगल में बैठा है। R, P के बाएँ बगल में बैठा है। P और U के बीच में दो व्यक्ति बैठे हैं। दूसरे छोर पर कौन बैठा है?

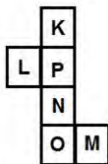
- Ans
- 1. S
 - 2. R
 - 3. P
 - 4. U

Question ID : 65497834689

Status : Answered

Chosen Option : 4

Q.14 दी गई शीट को मोड़कर एक घन बनाया गया है। इस प्रकार बने घन में, कौन से अक्षर एक-दूसरे के विपरीत फलक पर नहीं होंगे?



- Ans
- 1. K और N
 - 2. L और M
 - 3. O और M
 - 4. P और O

Question ID : 65497834692

Status : Answered

Chosen Option : 3



Download SSC CGL, CHSL E-BOOKS

[CLICK HERE](#)

Q.15 दिए गए कथनों और निष्कर्षों को ध्यानपूर्वक पढ़ें। यह मानते हुए कि कथनों में दी गई सूचना सही है, भले ही वह सामान्य रूप से ज्ञात तथ्यों से भिन्न प्रतीत होती हो, यह निर्धारित करें कि दिए गए निष्कर्षों में से कौन-सा/से निष्कर्ष कथनों का तार्किक रूप से अनुसरण करता है/करते हैं।

कथन:

सभी एंजाइम, विटामिन हैं।
सभी विटामिन, कार्बोहाइड्रेट हैं।

निष्कर्ष:

- I. सभी एंजाइम, कार्बोहाइड्रेट हैं।
- II. कोई भी एंजाइम, कार्बोहाइड्रेट नहीं है।

- Ans
- 1. केवल निष्कर्ष I अनुसरण करता है।
 - 2. या तो निष्कर्ष I या निष्कर्ष II अनुसरण करता है।
 - 3. निष्कर्ष I और II दोनों अनुसरण करते हैं।
 - 4. केवल निष्कर्ष II अनुसरण करता है।

Question ID : 65497834706

Status : Answered

Chosen Option : 1

Q.16 उस विकल्प का चयन कीजिए, जो निम्न शब्दों के उस क्रम को दर्शाता है, जिस क्रम में वे अंग्रेज़ी शब्दकोश में आते हैं।

1. Durable
2. Duty
3. Dubious
4. Duster
5. Dustbin

- Ans
- 1. 1, 3, 5, 4, 2
 - 2. 3, 1, 4, 5, 2
 - 3. 3, 5, 1, 4, 2
 - 4. 3, 1, 5, 4, 2

Question ID : 65497834710

Status : Answered

Chosen Option : 4

Q.17 दिए गए विकल्पों में से उस अक्षर-समूह का चयन कीजिए जो दी गई श्रृंखला में प्रश्न चिह्न (?) के स्थान पर आ सकता है।

PEA, SJH, VOO, YTV, ?

- Ans
- 1. CBY
 - 2. YBC
 - 3. CYB
 - 4. BYC

Question ID : 65497834697

Status : Answered

Chosen Option : 4



Download SSC CGL, CHSL E-BOOKS

CLICK HERE

Q.18 दिए गए विकल्पों में से उस संख्या का चयन कीजिए, जो निम्नलिखित श्रेणी में प्रश्नवाचक चिन्ह (?) के स्थान पर आ सकती है।

345, 334, 320, 303, 283, 260, ?

- Ans 1. 208
 2. 234
 3. 212
 4. 221

Question ID : 65497834712
 Status : Answered
 Chosen Option : 2

Q.19 दिए गए समीकरण को संतुलित करने के लिए किन दो चिह्नों को परस्पर बदलना होगा?

$$5 - 24 + 17 \times 16 \div 4 = 133$$

- Ans 1. + और +
 2. + और ×
 3. × और +
 4. × और -

Question ID : 65497834691
 Status : Answered
 Chosen Option : 4

Q.20 एक परिवार में छः व्यक्ति, M, N, P, Q, R और S हैं। S, M की दादी है। P, R की बहन है। N, P के पिता है। M, Q और R का एकलौता पुत्र है। N की कोई विवाहित पुत्री नहीं है। M का N क्या संबंध है?

- Ans 1. पिता
 2. पुत्र
 3. भाई
 4. पोता

Question ID : 65497834696
 Status : Answered
 Chosen Option : 4

Q.21 दिए गए संयोजन के सही दर्पण प्रतिबिंब का चयन करें, जो दर्पण को दर्शाई गई स्थिति 'XX' पर रखने पर बनेगा।

AHKRQP |
 x
 x

- Ans 1. PQRHKA
 2. PQRHKA
 3. PQRHKA
 4. PQRHKA

Question ID : 65497834704
 Status : Answered
 Chosen Option : 1



Download SSC CGL, CHSL E-BOOKS

CLICK HERE

Q.22 चार अक्षर-समूह दिए गए हैं, जिनमें से तीन किसी तरह से संगत हैं और एक असंगत है। उस असंगत अक्षर-समूह का चयन करें।

- Ans
- 1. PSVY
 - 2. BEHK
 - 3. HLOR
 - 4. KNQT

Question ID : 65497834701
 Status : Answered
 Chosen Option : 3

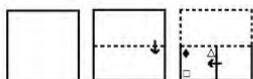
Q.23 दिए गए पैटर्न का ध्यानपूर्वक अध्ययन करें और उस संख्या का चयन करें जो इसमें प्रश्नचिह्न (?) के स्थान पर आ सकती है।

34 38 7
 46 38 5
 84 ? 15

- Ans
- 1. 38
 - 2. 78
 - 3. 87
 - 4. 83

Question ID : 65497834707
 Status : Not Answered
 Chosen Option : --

Q.24 नीचे दी गई आकृतियों में कागज के एक टुकड़े को मोड़ने का क्रम और उस मुड़े हुए कागज को काटने का तरीका दर्शाया गया है। इस कागज को खोलने पर यह कैसा दिखेगा?



- Ans
- 1.
 - 2.
 - 3.
 - 4.

Question ID : 65497834709
 Status : Answered
 Chosen Option : 1

Q.25 उस विकल्प का चयन करें जो तीसरे अक्षर-समूह से उसी प्रकार संबंधित है जिस प्रकार दूसरा अक्षर-समूह पहले अक्षर-समूह से संबंधित है।

DKLH : GPSQ :: FRLP : ?

- Ans
- 1. JWSY
 - 2. JWRY
 - 3. IWRZ
 - 4. IWSY

Question ID : 65497834694
Status : Answered
Chosen Option : 4

Section : Part B General Knowledge and General Awareness

Q.1 निम्नलिखित में से किस खिलाड़ी ने 2020 में फ्रांस के नांतेस में आयोजित एलेक्सिस वेलेंटाइन इंटरनेशनल बॉक्सिंग टूर्नामेंट में स्वर्ण पदक नहीं जीता था?

- Ans
- 1. संजीत
 - 2. अमित पंघाल
 - 3. सुमित सांगवान
 - 4. आशीष कुमार

Question ID : 65497834730
Status : Not Answered
Chosen Option : --

Q.2 निम्नलिखित में से कौन फारसी, अरबी और तुर्की के साथ ही साथ संस्कृत, हिंदी और राजस्थानी के प्रख्यात विद्वान थे?

- Ans
- 1. अकबर
 - 2. बीरबल
 - 3. रसखान
 - 4. अब्दुल रहीम खान-ए-खाना

Question ID : 65497834727
Status : Answered
Chosen Option : 4

Q.3 वर्ष 2019 का ज्ञानपीठ पुरस्कार किसे दिया गया था?

- Ans
- 1. शंख घोष
 - 2. अक्किताम अच्युतन नंबूदरी
 - 3. चंद्रशेखर कंबरा
 - 4. भालचंद्र नामदेव

Question ID : 65497834729
Status : Answered
Chosen Option : 2



Download SSC CGL, CHSL E-BOOKS

[CLICK HERE](#)