

## Constable GD in CAPFs NIA SSF and Rifleman GD in Assam Rifles Examination 2021

Roll Number	
Candidate Name	
Venue Name	iON Digital Zone iDZ4 Patliputra
Exam Date	18/11/2021
Exam Time :	4:00 PM - 5:30 PM
Subject	Constable GD 2021

### Section : Part A General Intelligence and Reasoning

Q.1 I, II, III, IV, V और VI संख्याओं द्वारा चिह्नित एक ही पासे की दो विभिन्न स्थितियाँ दर्शाई गई हैं। उस संख्या का चयन करें जो 'IV' संख्या दर्शाने वाले फलक के विपरीत फलक पर होगी।



- Ans
- 1. V
  - 2. VI
  - 3. III
  - 4. II

Question ID : 65497832787  
Status : Answered  
Chosen Option : 2

Q.2 एक निश्चित कूट भाषा में, 'MAGNET' को 'HFTIJO' लिखा जाता है। उसी कूट भाषा में 'CULPRIT' को क्या लिखा जाएगा?

- Ans
- 1. XPGUWDO
  - 2. XZGKMNO
  - 3. XPQUMNO
  - 4. XZOKINO

Question ID : 65497832803  
Status : Not Answered  
Chosen Option : --

Q.3 एक काल्पनिक गणितीय प्रणाली में, प्रतीक '-' का अर्थ जोड़ है, प्रतीक '+' का अर्थ विभाजन है, प्रतीक 'x' का अर्थ घटाव है, और प्रतीक '÷' का अर्थ गुणा है। निम्नलिखित व्यंजक का मान क्या होगा?

$$144 \times 35 + 7 \div 12 - 3$$

- Ans
- 1. 43
  - 2. 95
  - 3. 87
  - 4. 107

Question ID : 65497832786  
Status : Answered  
Chosen Option : 3



Download SSC CGL, CHSL E-BOOKS

CLICK HERE

Q.4 दिए गए विकल्पों में से उस अक्षर-समूह का चयन करें, जो निम्नलिखित श्रृंखला में प्रश्नवाचक चिह्न (?) के स्थान पर आ सकता है।

UKT, PFO, KAJ, ?

Ans  1. FVE

2. GHM

3. EVO

4. FEQ

Question ID : 65497832798

Status : Answered

Chosen Option : 1

Q.5 जिस प्रकार 'फ़ैक्टरी', 'उत्पादन' से संबंधित है, उसी प्रकार 'रसोई', '\_\_\_\_\_ ' से संबंधित है।

Ans  1. सब्ज़ी

2. फलों

3. आयोजन

4. पकाने

Question ID : 65497832799

Status : Answered

Chosen Option : 4

Q.6 उस सही विकल्प का चयन कीजिए जो दिए गए शब्दों के उस क्रम को दर्शाता है जिस क्रम में वे अंग्रेजी शब्दकोश में आते हैं।

- i. Monkey
- ii. Money
- iii. Monotony
- iv. Monarch
- v. Monster

Ans  1. i, ii, iii, iv, v

2. iv, ii, i, iii, v

3. ii, i, iv, v, iii

4. iv, iii, i, ii, v

Question ID : 65497832789

Status : Answered

Chosen Option : 2

Q.7 उस संख्या की पहचान करें, जो निम्नलिखित श्रेणी से संबंधित नहीं है।

16, 17, 25, 52, 116, 243

Ans  1. 243

2. 52

3. 25

4. 116

Question ID : 65497832807

Status : Answered

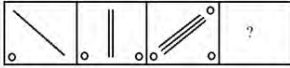
Chosen Option : 1



Download SSC CGL, CHSL E-BOOKS

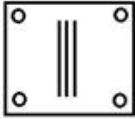
[CLICK HERE](#)

**Q.8** दिए गए विकल्पों में से उस आकृति का चयन करें जो नीचे दी गई श्रृंखला में प्रश्न चिह्न (?) के स्थान पर आ सकती है।

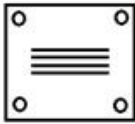


**Ans**

1.




2.



3.



4.



Question ID : 65497832792

Status : Answered

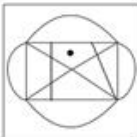
Chosen Option : 2

**Q.9** उस विकल्प का चयन करें जिसमें दी गई आकृति अंतर्निहित है (घुमाने की अनुमति नहीं है)।

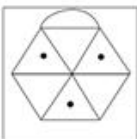


**Ans**

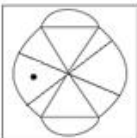
1.



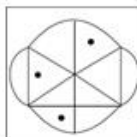
2.



3.



4.



Question ID : 65497832788

Status : Answered

Chosen Option : 4



**Download SSC CGL, CHSL E-BOOKS**

[CLICK HERE](#)

Q.10 छः मित्र P, Q, R, S, T और U एक-दूसरे से समान दूरी पर एक वृत्ताकार मेज के चारों ओर केंद्र की ओर मुंह करके हुए बैठे हैं। S, U और Q के बीच बैठा है। P, S के बाएं दूसरे और T के दाएं दूसरे स्थान पर बैठा है। Q, T और S के बीच बैठा है। S के सामने कौन बैठा है?

Ans  1. R

2. T

3. P

4. U

Question ID : 65497832800

Status : Answered

Chosen Option : 1

Q.11 चार अक्षर-समूह दिए गए हैं, जिनमें से तीन किसी तरह से संगत हैं और एक असंगत है। उस अक्षर-समूह का चयन करें, जो अन्य से असंगत है।

Ans  1. ZUP

2. LGB

3. FAU

4. MHC

Question ID : 65497832805

Status : Answered

Chosen Option : 3

Q.12 छः विद्यार्थी अणिमा, रोहित, किरण, सीमा, जया और मनीष, एक विद्यालय में शीर्ष छह रैंक धारक हैं। रोहित की रैंक किरण और सीमा की रैंक के बीच है। रोहित चौथी रैंक पर है। जया और सीमा की रैंक के बीच दो विद्यार्थी हैं। सभी छः विद्यार्थियों के बीच जया सबसे निचली रैंक पर है। मनीष की रैंक अणिमा की रैंक से ठीक ऊपर है।

पांचवीं रैंक पर कौन है?

Ans  1. किरण

2. सीमा

3. अणिमा

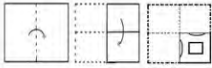
4. मनीष

Question ID : 65497832784

Status : Answered

Chosen Option : 1

**Q.13** नीचे दी गई आकृतियों में कागज़ के एक टुकड़े को मोड़ने और मोड़े गए कागज़ को काटने के तरीके का क्रम दर्शाया गया है। कागज़ को खोले जाने पर वह कैसा दिखाई देगा?




**Ans**

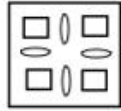
✗ 1.



✗ 2.



✓ 3.



✗ 4.



Question ID : 65497832797

Status : Answered

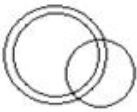
Chosen Option : 3

**Q.14** उस वेन आरेख का चयन करें, जो निम्नलिखित वर्गों के बीच के संबंध को सबसे अच्छे तरीके से दर्शाता है।

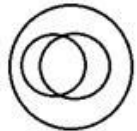
पृथ्वी, वन, वृक्ष

**Ans**

✗ 1.



✓ 2.



✗ 3.



✗ 4.



Question ID : 65497832801

Status : Answered

Chosen Option : 2



**Download SSC CGL, CHSL E-BOOKS**

[CLICK HERE](#)

Q.15 उस विकल्प का चयन करें जो तीसरी संख्या से उसी प्रकार संबंधित है जिस प्रकार दूसरी संख्या पहली संख्या से संबंधित है।

11 : 121 :: 17 : ?

Ans  1. 305

2. 289

3. 360

4. 256

Question ID : 65497832785

Status : Answered

Chosen Option : 2

Q.16 एक निश्चित कूट भाषा में, 'SLAM' को '5736339' लिखा जाता है, और 'TOY' को '604575' लिखा जाता है। उसी कूट भाषा में 'CLEAR' को क्या लिखा जाएगा?

Ans  1. 93612651

2. 93618357

3. 93615354

4. 63915354

Question ID : 65497832806

Status : Not Answered

Chosen Option : --

Q.17 रवली का कोई भाई नहीं है। गिरिमा, अर्जुन की पत्नी है। जाकिर, मालवी का पति है। छाया, रवली की पुत्री है। फातिमा, अर्जुन की पुत्री है। मालवी, रवली की मां है। गिरिमा, छाया की मौसी है। गिरिमा का जाकिर से क्या संबंध है?

Ans  1. पुत्री

2. बहू

3. साली

4. बहन

Question ID : 65497832804

Status : Answered

Chosen Option : 1

Q.18 एक निश्चित कूट भाषा में, 'CALM' को 'DCOQ' के रूप में लिखा जाता है। उसी कूट भाषा में 'COOK' को किस रूप में लिखा जाएगा?

Ans  1. DROQ

2. DQRO

3. DORQ

4. DPRQ

Question ID : 65497832793

Status : Answered

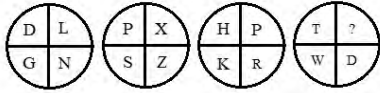
Chosen Option : 2



Download SSC CGL, CHSL E-BOOKS

[CLICK HERE](#)

Q.19 दिए गए पैटर्न का ध्यानपूर्वक अध्ययन करें और उस अक्षर का चयन करें जो इसमें प्रश्न चिह्न (?) के स्थान पर आ सकता है।



- Ans  1. A  
 2. Y  
 3. Z  
 4. B

Question ID : 65497832790  
 Status : Answered  
 Chosen Option : 4

Q.20 दिए गए विकल्पों में से उस संख्या का चयन करें जो निम्नलिखित श्रृंखला में प्रश्न चिह्न (?) के स्थान पर आ सकती है।

1, 2, 9, 64, ?

- Ans  1. 225  
 2. 625  
 3. 450  
 4. 570

Question ID : 65497832791  
 Status : Answered  
 Chosen Option : 2

Q.21 रोहित अपनी मासिक आय का 15% कल्याण निधि में दान करता है। शेष आय निम्नलिखित तरीके से खर्च की जाती है: भोजन पर 35%, किराए पर 20%, बिलों पर 17%, कपड़ों पर 8% और शेष को बचत के रूप में रखा जाता है। यदि प्रत्येक माह बचाई गई धन-राशि ₹14,620 है, तो रोहित की मासिक आय कितनी है?

- Ans  1. ₹86,000  
 2. ₹82,000  
 3. ₹75,300  
 4. ₹73,100

Question ID : 65497832796  
 Status : Answered  
 Chosen Option : 1

Q.22 उस विकल्प का चयन कीजिए जिसका तीसरे पद से वही संबंध है जो दूसरे पद का पहले पद से है।

INSERT: NIXZTR:: SECOND: ?

- Ans  1. ESHJDN  
 2. EHSDJN  
 3. ESJDHN  
 4. EHHJND

Question ID : 65497832802  
 Status : Answered  
 Chosen Option : 1

Q.23 दिए गए पैटर्न का ध्यानपूर्वक अध्ययन करें और उस संख्या का चयन करें जो इसमें प्रश्न चिह्न (?) के स्थान पर आ सकती है।

64 12 27  
216 ? 343  
512 40 125

- Ans  1. 64  
 2. 95  
 3. 42  
 4. 72

Question ID : 65497832795  
Status : Answered  
Chosen Option : 3

Q.24 दिए गए कथनों और निष्कर्षों को ध्यान से पढ़ें। यह मानते हुए कि कथनों में दी गई जानकारी सत्य है, भले ही यह सामान्य रूप से ज्ञात तथ्यों से भिन्न प्रतीत होती हो, यह निर्णय लें कि दिए गए निष्कर्षों में से कौन से निष्कर्ष कथनों का तार्किक रूप से अनुसरण करते हैं।

कथन:  
सभी फल, तने हैं।  
कुछ फल, पत्तियां हैं।

निष्कर्ष:  
I. कुछ तने, पत्तियां हैं।  
II. कुछ पत्तियां, फल हैं।

- Ans  1. केवल निष्कर्ष I अनुसरण करता है।  
 2. केवल निष्कर्ष II अनुसरण करता है।  
 3. न तो निष्कर्ष I और न ही II अनुसरण करता है।  
 4. निष्कर्ष I और II दोनों अनुसरण करते हैं।

Question ID : 65497832794  
Status : Answered  
Chosen Option : 4

Q.25 दिए गए संयोजन के सही दर्पण प्रतिबिंब का चयन कीजिए, जबकि दर्पण को इसकी दाईं ओर रखा गया है।

6 T Y G z 2

- Ans  1. 2 Z 9 Y T 6  
 2. 2 z 9 Y T 6  
 3. 6 T Y G z 2  
 4. 2 z 9 Y T 6

Question ID : 65497832808  
Status : Answered  
Chosen Option : 2

Section : Part B General Knowledge and General Awareness