

Constable GD in CAPFs NIA SSF and Rifleman GD in Assam Rifles Examination 2021

| | |
|----------------|---------------------------------------|
| Roll Number | |
| Candidate Name | |
| Venue Name | Aurobindo International School Jaipur |
| Exam Date | 18/11/2021 |
| Exam Time : | 12:30 PM - 2:00 PM |
| Subject | Constable GD 2021 |

Section : Part A General Intelligence and Reasoning

Q.1 उस विकल्प का चयन करें जो तीसरी संख्या से उसी प्रकार संबंधित है, जिस प्रकार दूसरी संख्या पहली संख्या से संबंधित है।

70 : 8 :: 87 : ?

Ans 1. 9

2. 6

3. 7

4. 8

Question ID : 65497830638

Status : Answered

Chosen Option : 1

Q.2 अक्षरों के उस संयोजन का चयन कीजिए जिसे नीचे दी गई श्रृंखला के रिक्त स्थानों पर क्रमिक रूप से रखने पर श्रृंखला पूर्ण हो जाएगी।

Z _ K F _ O K G Z _ K _ Z O _ I

Ans 1. O Z O H Z

2. O Z K H K

3. K Z O H K

4. O Z O H K

Question ID : 65497830626

Status : Answered

Chosen Option : 4

Q.3 किसी निश्चित कूट भाषा में, 'CHAINED' को 'EJYGPCF' के रूप में लिखा जाता है। उसी कूट भाषा में 'MEADOW' को किस रूप में लिखा जाएगा?

Ans 1. OCYFNY

2. PCYFMY

3. OCYFMY

4. PCYFQY

Question ID : 65497830630

Status : Answered

Chosen Option : 3

Q.4 यदि 'A' का अर्थ 'योग', 'B' का अर्थ 'घटाना', 'C' का अर्थ 'गुणा' और 'D' का अर्थ 'भाग' है, तो निम्नलिखित व्यंजक का मान कितना होगा?

6 C (57 B 8) D 7 B 32 A 9

Ans 1. 19

2. 27

3. 18

4. 15

Question ID : 65497830639

Status : Answered

Chosen Option : 1

Q.5 P, Q, R, S, T और U एक बेंच पर बैठे हुए हैं। Q दाएं किनारे पर है। R, S के दाईं ओर बगल में बैठा है। U, T के बाईं ओर बगल में बैठा है और T, Q के बाईं ओर बगल में बैठा है। P, S के बाईं ओर बगल में बैठा है। बाएं किनारे पर कौन बैठा है?

Ans 1. T

2. R

3. U

4. P

Question ID : 65497830646

Status : Answered

Chosen Option : 4

Q.6 उस विकल्प का चयन कीजिए, जिसमें निम्नलिखित शब्दों का वह क्रम दिया गया है जिस क्रम में वे अंग्रेजी शब्दकोश में आते हैं।

1. Hostile
2. Hostel
3. Hospital
4. House
5. Hopeless

Ans 1. 4, 3, 2, 1, 5

2. 5, 3, 1, 2, 4

3. 3, 5, 2, 1, 4

4. 5, 3, 2, 1, 4

Question ID : 65497830625

Status : Answered

Chosen Option : 4

Q.7 दिए गए विकल्पों में से वह संख्या चुनें जो निम्नलिखित श्रेणी में प्रश्नवाचक चिह्न (?) के स्थान पर आ सकती है।

17, 18, 26, 53, 117, ?

Ans 1. 242

2. 232

3. 336

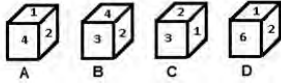
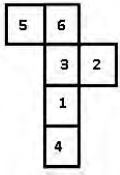
4. 302

Question ID : 65497830627

Status : Answered

Chosen Option : 1

Q.8 उस पासे का चयन करें, जिसे निम्नांकित पत्रक (शीट) को रेखाओं पर मोड़ने पर प्राप्त किया जा सकता है।



- Ans
- 1. केवल C
 - 2. A और C
 - 3. D और B
 - 4. केवल A

Question ID : 65497830640
Status : Answered
Chosen Option : 2

Q.9 एक विशिष्ट कोड भाषा में, 'GREW' का कोड '209224' है। इसी कोड भाषा में 'TYPE' का कोड क्या होगा?

- Ans
- 1. 721162
 - 2. 721122
 - 3. 202511
 - 4. 511237

Question ID : 65497830645
Status : Answered
Chosen Option : 2

Q.10 उस विकल्प का चयन कीजिए, जो तीसरे पद से उसी प्रकार संबंधित है, जिस प्रकार दूसरा पद पहले पद से संबंधित है।

CREAM : FPJYZ :: CHECK : ?

- Ans
- 1. FPJZV
 - 2. FFJAV
 - 3. FFJFV
 - 4. FZJFV

Question ID : 65497830629
Status : Answered
Chosen Option : 2

Q.11 अजय और चारुल भाई और बहन हैं। मनोज और दर्शन, कृपाल और सोना के पुत्र हैं। सोना चारुल की मां स्वप्निल की सास हैं। नेहा, नीती और नकुल, मनोज की पुत्रियां हैं और केवल अजय की चचेरी बहनें हैं। दर्शन की संतानों की संख्या बताइए?

- Ans
- 1. 2
 - 2. 1
 - 3. 4
 - 4. 3

Question ID : 65497830631
Status : Answered
Chosen Option : 1

Q.12 जिस प्रकार 'शब्दकोश', 'अर्थ' से संबंधित है, उसी प्रकार 'विश्वकोश', '_____ ' से संबंधित है।

- Ans
- 1. समाचार
 - 2. ज्ञान
 - 3. मुहावरा
 - 4. समानार्थक शब्द

Question ID : 65497830644
Status : Answered
Chosen Option : 2

Q.13 वह संख्या ज्ञात कीजिए, जिसमें उसके चार गुने को जोड़ने पर उसकी पूर्ववर्ती संख्या का 10 गुना प्राप्त होता है।

- Ans
- 1. 2
 - 2. 8
 - 3. 5
 - 4. 10

Question ID : 65497830635
Status : Answered
Chosen Option : 1

Q.14 निम्नलिखित चार अक्षर-समूहों में से तीन किसी न किसी प्रकार एक समान हैं और एक भिन्न है। उस अक्षर-समूह का चयन करें, जो भिन्न है।

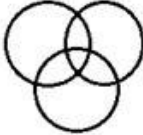


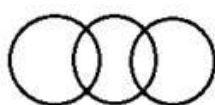
- Ans
- 1. DOU
 - 2. AHI
 - 3. GNU
 - 4. ODS

Question ID : 65497830643
Status : Answered
Chosen Option : 4

Q.15 उस वेन आरेख का चयन करें, जो निम्नलिखित वर्गों के बीच के संबंध को सबसे अच्छे तरीके से दर्शाता है।

यात्री, जहाज, ट्रेन

Ans

- 1. 
- 2. 
- 3. 
- 4. 

Question ID : 65497830649
Status : Answered
Chosen Option : 4

Q.16 दिए गए विकल्पों में से उस अक्षर-समूह का चयन करें, जो निम्नलिखित श्रृंखला में प्रश्नवाचक चिह्न (?) के स्थान पर आ सकता है।

FPW, EQV, DRU, ?

Ans 1. CST

2. COS

3. TWX

4. CSG

Question ID : 65497830642

Status : Answered

Chosen Option : 1

Q.17 दिए गए विकल्पों में से उस संख्या का चयन करें, जो निम्नलिखित श्रृंखला में प्रश्नवाचक चिह्न (?) के स्थान पर आ सकती है।

123, 98, 82, 73, 69, ?

Ans 1. 52

2. 49

3. 57

4. 68

Question ID : 65497830647

Status : Answered

Chosen Option : 4

Q.18 दिए गए पैटर्न का ध्यानपूर्वक अध्ययन कीजिए और उस संख्या का चयन कीजिए जो इसमें प्रश्नवाचक चिह्न (?) के स्थान पर आ सकती है।

9 18 ?

18 32 79

27 58 46

Ans 1. 21

2. 25

3. 26

4. 22

Question ID : 65497830634

Status : Not Answered

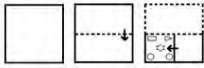
Chosen Option : --



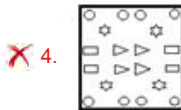
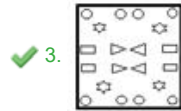
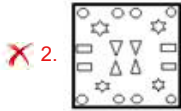
Download SSC CGL, CHSL E-BOOKS

[CLICK HERE](#)

Q.19 निम्नांकित आकृतियों में एक कागज के टुकड़े को मोड़ने का क्रम और मुड़े हुए कागज को काटने की विधि दर्शाई गई है। यह कागज खोलने पर कैसा दिखेगा?



Ans




Question ID : 65497830636

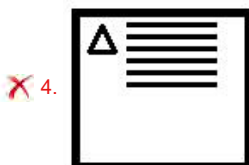
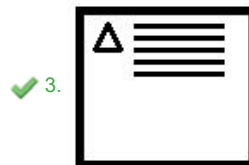

Status : Answered

Chosen Option : 3

Q.20 दिए गए विकल्पों में से उस आकृति का चयन कीजिए जो दी गई श्रृंखला में प्रश्न चिह्न (?) के स्थान पर आ सकती है।



Ans



Question ID : 65497830628

Status : Answered

Chosen Option : 3

Q.21 आठ मित्र A, B, C, D, E, F, G और H आपस में समान दूरी पर, एक गोल मेज पर केंद्र की ओर मुंह करके बैठे हुए हैं। D, F और H के बीच में बैठा है। A, B और G के बीच में नहीं बैठा है। C, A के दाएं तीसरे स्थान पर बैठा है। E, D के बाएं दूसरे स्थान पर बैठा है। A के सामने कौन बैठा है?

- Ans
- 1. H
 - 2. D
 - 3. E
 - 4. F

Question ID : 65497830637
Status : Answered
Chosen Option : 3

Q.22 दिए गए कथनों और निष्कर्षों को ध्यानपूर्वक पढ़ें। यह मानते हुए कि कथनों में दी गई जानकारी सही है, भले ही वह सामान्य रूप से ज्ञात तथ्यों से भिन्न प्रतीत होती हो, बताइए कि दिए गए निष्कर्षों में से कौन से निष्कर्ष कथनों का तार्किक रूप से अनुसरण करते हैं।

कथन :
सभी लड़कियां, एक्टर हैं।
सभी एक्टर, सिंगर हैं।

निष्कर्ष :
1. कुछ लड़कियां, सिंगर नहीं हैं।
2. कोई भी एक्टर, लड़की नहीं है।
3. सभी लड़कियां, सिंगर हैं।

- Ans
- 1. केवल निष्कर्ष 2 अनुसरण करता है।
 - 2. केवल निष्कर्ष 1 अनुसरण करता है।
 - 3. केवल निष्कर्ष 3 अनुसरण करता है।
 - 4. निष्कर्ष 1 और 3 दोनों अनुसरण करते हैं।

Question ID : 65497830633
Status : Answered
Chosen Option : 3

Q.23 दिए गए संयोजन के सही दर्पण प्रतिबिंब का चयन करें जब दर्पण को निम्नांकित चित्रानुसार PQ पर रखा गया है।

QZ9JFN |

- Ans
- 1. M E 1 0 5 0
 - 2. N F 1 6 5 0
 - 3. M F 1 0 5 0
 - 4. M F 1 1 0 5 0

Question ID : 65497830648
Status : Answered
Chosen Option : 3



Download SSC CGL, CHSL E-BOOKS

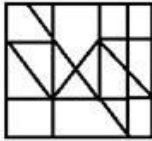
[CLICK HERE](#)

Q.24 उस विकल्प का चयन करें जिसमें दी गई आकृति अंतर्निहित है (घुमाने की अनुमति नहीं है)।

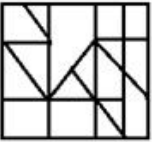


Ans

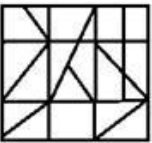
✓ 1.



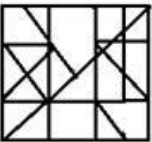
✗ 2.



✗ 3.



✗ 4.



Question ID : 65497830641

Status : Answered

Chosen Option : 1

Q.25 एक निश्चित कूट भाषा में, 'Where are you' को 'me ki na' लिखा जाता है, 'When you come' को 'bel na se' लिखा जाता है और 'Come back home' को 'se ne jo' लिखा जाता है। उसी कूट भाषा में 'When' को क्या लिखा जाएगा?

Ans ✗ 1. me

✓ 2. bel

✗ 3. se

✗ 4. ki

Question ID : 65497830632

Status : Answered

Chosen Option : 2

Section : Part B General Knowledge and General Awareness

Q.1 निम्नलिखित में से कौन सा ऊर्जा का एक पारंपरिक स्रोत है?

Ans ✗ 1. पवन ऊर्जा

✗ 2. सौर ऊर्जा

✓ 3. लकड़ी

✗ 4. बायोगैस

Question ID : 65497830667

Status : Answered

Chosen Option : 2



Download SSC CGL, CHSL E-BOOKS

[CLICK HERE](#)