

Constable GD in CAPFs NIA SSF and Rifleman GD in Assam Rifles Examination 2021

Roll Number	
Candidate Name	
Venue Name	iON Digital Zone iDZ Kanti
Exam Date	17/11/2021
Exam Time :	12:30 PM - 2:00 PM
Subject	Constable GD 2021

Section : **Part A General Intelligence and Reasoning**

Q.1 निम्नलिखित समीकरण को सही बनाने के लिए, किन दो गणितीय चिह्नों को एक दूसरे से बदलने की आवश्यकता है?

$$16 \div 32 \times 128 + 9 - 17 = -4$$

- Ans
- 1. + और +
 - 2. \times और -
 - 3. \times और +
 - 4. + और -

Question ID : **65497830258**

Status : **Answered**

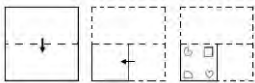
Chosen Option : **3**



Download SSC CGL, CHSL E-BOOKS

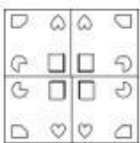
[CLICK HERE](#)

Q.2 निम्नांकित चित्रों में एक कागज को मोड़ने का क्रम और मुड़े हुए कागज को काटने का तरीका दर्शाया गया है। मुड़े हुए कागज को खोलने पर यह कैसा दिखाई देगा?

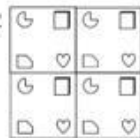


Ans

✓ 1.




✗ 2.



✗ 3.



✗ 4.



Question ID : 65497830255

Status : Answered

Chosen Option : 1

Q.3 अक्षरों के उस संयोजन का चयन करें जो नीचे दी गई श्रृंखला के रिक्त स्थान में क्रमिक रूप से रखे जाने पर श्रृंखला को पूर्ण करेगा।

G _ _ P K _ D F _ K G D _ _ K

Ans

✗ 1. DPDKFK

✗ 2. DFGDFP

✓ 3. DFGPFP

✗ 4. DFGDFK

Question ID : 65497830245

Status : Answered

Chosen Option : 3

Q.4 दिए गए विकल्पों में से उस संख्या का चयन करें जो निम्नलिखित श्रृंखला में प्रश्न चिह्न (?) के स्थान पर आ सकती है।

15, 45, 75, 105, ?

Ans

✓ 1. 135

✗ 2. 130

✗ 3. 120

✗ 4. 125

Question ID : 65497830246

Status : Answered

Chosen Option : 1



Download SSC CGL, CHSL E-BOOKS

CLICK HERE

Q.5 दिए गए कथनों और निष्कर्षों को ध्यानपूर्वक पढ़ें। कथनों में दी गई जानकारी सही मानते हुए, चाहे वह सामान्य ज्ञात तथ्यों से भिन्न प्रतीत होती हो, निर्णय करें कि दिए गए निष्कर्षों में से कौन सा/से, कथनों का तार्किक रूप से अनुसरण करता/करते हैं।

कथन :

सभी एम. टेक छात्र इंजीनियर हैं।
सभी एल.एल.एम. छात्र वकील हैं।

निष्कर्ष :

I. सभी वकील एल.एल.एम. छात्र हैं।
II. सभी इंजीनियर एम.टेक छात्र हैं।

Ans 1. न तो निष्कर्ष I और न ही निष्कर्ष II अनुसरण करता है।

2. केवल निष्कर्ष I अनुसरण करता है।

3. केवल निष्कर्ष II अनुसरण करता है।

4. निष्कर्ष I और II दोनों अनुसरण करते हैं।

Question ID : 65497830252

Status : Answered

Chosen Option : 1

Q.6 चार अक्षर-समूह दिए गए हैं, जिनमें से तीन किसी तरह से संगत हैं और एक असंगत है। उस अक्षर-समूह का चयन करें, जो अन्य से असंगत है।

Ans 1. PSVYB

2. NQTWA

3. DGJMP

4. TWZCF

Question ID : 65497830265

Status : Answered

Chosen Option : 2

Q.7 दिए गए पैटर्न का ध्यानपूर्वक अध्ययन करें, और उस संख्या का चयन करें जो इसमें प्रश्नवाचक चिह्न (?) के स्थान पर आ सकती है।

81 33 56

3 6 4

54 11 ?

Ans 1. 27

2. 28

3. 9

4. 14

Question ID : 65497830253

Status : Answered

Chosen Option : 2



Download SSC CGL, CHSL E-BOOKS

[CLICK HERE](#)

Q.8 एक निश्चित कूट भाषा में, COACH को 90 लिखा जाता है और POST को 210 लिखा जाता है। उसी कूट भाषा में NOISE को किस प्रकार लिखा जाएगा?

- Ans 1. 186
 2. 158
 3. 168
 4. 124

Question ID : 65497830266
Status : Answered
Chosen Option : 1

Q.9 एक विशिष्ट कूट भाषा में, 'DESK' का कोड '@#+% ' और 'RAIN' का कोड '\$-x*' है। इस कूट भाषा में 'RISK' का कोड क्या होगा?

- Ans 1. #+%@
 2. S#%×
 3. \$x+%
 4. +-%

Question ID : 65497830251
Status : Answered
Chosen Option : 3

Q.10 दिए गए विकल्पों में से उस अक्षर-समूह का चयन करें, जो निम्नलिखित श्रृंखला में प्रश्नवाचक चिन्ह (?) के स्थान पर आ सकता है।

BKR, DNV, FQZ, ?, JWH

- Ans 1. THE
 2. HUD
 3. HTD
 4. HSC

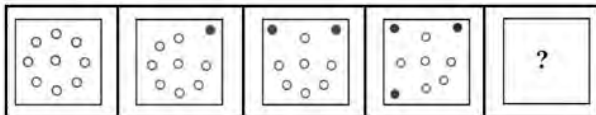
Question ID : 65497830261
Status : Answered
Chosen Option : 3





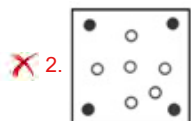
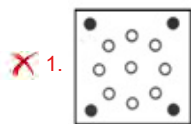
Download SSC CGL, CHSL E-BOOKS

[CLICK HERE](#)

Q.11 निम्न आकृति-श्रृंखला में प्रश्नवाचक चिह्न (?) के स्थान पर कौन-सी आकृति आएगी?



Ans



Question ID : 65497830247

Status : Answered

Chosen Option : 3

Q.12 बारह दोस्त दो समांतर रेखाओं में बैठे हुए हैं। हर पंक्ति में 6-6 लोग बैठे हुए हैं और उनका चेहरा दूसरी पंक्ति में बैठे लोगों की तरफ है। पंक्ति 1 में, A, B, C, D, E और F बैठे हुए हैं और उन सभी का चेहरा उत्तर दिशा की ओर है। पंक्ति 2 में, O, P, Q, R, S और T बैठे हुए हैं और उन सभी का चेहरा दक्षिण दिशा की ओर है, लेकिन यह आवश्यक नहीं है कि वे इसी क्रम में हों। C, B के दाईं ओर से तीसरे स्थान पर है। C, E या A के बगल में नहीं है। P, S के दाईं ओर तीसरे स्थान पर है। किसी भी पंक्ति के बिल्कुल अंत में न तो P और न ही S बैठा है। F का चेहरा O की ओर है जो T के दाईं ओर दूसरे स्थान पर है और T, S के बगल में नहीं है। Q और T के बीच में केवल दो लोग बैठे हुए हैं। A का चेहरा R की ओर नहीं है। निम्नलिखित में से कौन-सा युग्म पंक्तियों के छोरों पर बैठा हुआ है?

Ans

1. SB, PC

2. RB, TC

3. RE, TC

4. SA, PD

Question ID : 65497830256

Status : Answered

Chosen Option : 2



Download SSC CGL, CHSL E-BOOKS

[CLICK HERE](#)

Q.13 नीता, विनीता, सत्या, कामिनी, दिव्या और अल्पा एक वृत्ताकार मेज के चारों ओर मेज के केंद्र की ओर मुख करके बैठी हैं। अल्पा, विनीता के दाईं ओर ठीक बगल में बैठी है। कामिनी, नीता और सत्या के बीच में बैठी है। दिव्या, नीता और विनीता के बीच में बैठी है। सत्या के बाईं ओर तीसरे स्थान पर कौन बैठी है?

- Ans
- 1. विनीता
 - 2. अल्पा
 - 3. दिव्या
 - 4. नीता

Question ID : 65497830263
Status : Answered
Chosen Option : 3

Q.14 दिए गए विकल्पों में से उस संख्या का चयन कीजिए, जो निम्नलिखित श्रेणी में प्रश्नवाचक चिन्ह (?) के स्थान पर आ सकती है।

14, 33, 71, 147, 299, ?

- Ans
- 1. 603
 - 2. 612
 - 3. 493
 - 4. 593

Question ID : 65497830267
Status : Answered
Chosen Option : 1

Q.15 उस विकल्प का चयन करें जो तीसरे अक्षर-समूह से उसी प्रकार संबंधित है जिस प्रकार दूसरा अक्षर-समूह पहले अक्षर-समूह से संबंधित है।

RKM : VFS :: PSQ : ?

- Ans
- 1. TMW
 - 2. SNW
 - 3. SNX
 - 4. TNW

Question ID : 65497830248
Status : Answered
Chosen Option : 4




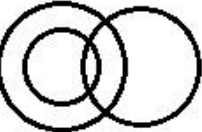

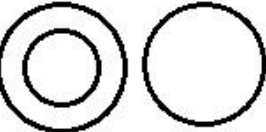
Download SSC CGL, CHSL E-BOOKS

[CLICK HERE](#)

Q.16 उस वेन आरेख का चयन कीजिए, जो निम्नलिखित वर्गों के बीच के संबंध को सर्वोत्तम ढंग से निरूपित करता है।

स्तनधारी, ज़ेबरा, पशु

Ans

- ✓ 1. 
- ✗ 2. 
- ✗ 3. 
- ✗ 4. 

Question ID : **65497830264**
Status : **Answered**
Chosen Option : **2**



Download SSC CGL, CHSL E-BOOKS

[CLICK HERE](#)

Q.17 उस विकल्प को चुनें जिसमें दी गई आकृति अंतःस्थापित है (घुमाने की अनुमति नहीं है)।

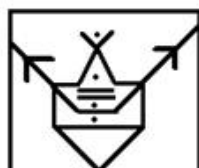


Ans

✗ 1.



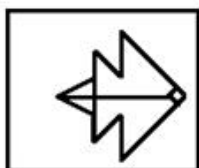
✓ 2.



✗ 3.



✗ 4.

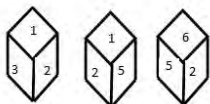


Question ID : 65497830260

Status : Answered

Chosen Option : 2

Q.18 एक ही पासे की तीन अलग-अलग स्थितियां दिखाई गई हैं। वह संख्या चुनें जो संख्या '4' वाले पृष्ठ के विपरीत पृष्ठ पर होगी।



Ans

✗ 1. 6

✓ 2. 2

✗ 3. 3

✗ 4. 1

Question ID : 65497830259

Status : Answered

Chosen Option : 2



Download SSC CGL, CHSL E-BOOKS

CLICK HERE

Q.19 दिए गए संयोजन के सही दर्पण प्रतिबिंब का चयन कीजिए, जबकि दर्पण को इसकी दाईं ओर रखा गया है।

F R 4 P W 5

Ans

- 1.
- 2.
- 3.
- 4.

Question ID : 65497830268

Status : Answered

Chosen Option : 4

Q.20 एक निश्चित कूट भाषा में, 'SINGER' को 'TKROUX' के रूप में लिखा जाता है। उसी कूट भाषा में 'ROOKIE' को किस रूप में लिखा जाएगा?

Ans

1. SQRSYK
2. SQSSYK
3. SQSRYK
4. SQRRYK

Question ID : 65497830249

Status : Answered

Chosen Option : 2

Q.21 एक संख्या को उसके 4 गुने से घटाया जाता है, और फिर प्राप्त संख्या को उसकी (परिणामी संख्या की) अगली संख्या में जोड़ा जाता है। यदि इसका उत्तर 91 प्राप्त होता है, तो आरंभिक संख्या कितनी थी?

Ans

1. 13
2. 17
3. 14
4. 15

Question ID : 65497830254

Status : Answered

Chosen Option : 4

Q.22 C, B का भाई है और D, E के दादा/नाना हैं। B, D की बहू है और A, E के पिता हैं। C का E से क्या संबंध है?

Ans

1. चाचा
2. चाची
3. मामी
4. मामा

Question ID : 65497830250

Status : Answered

Chosen Option : 4



Download SSC CGL, CHSL E-BOOKS

[CLICK HERE](#)

Q.23 वह विकल्प चुनें, जिसका तीसरी संख्या से ठीक वैसा ही संबंध है, जैसा कि दूसरी संख्या का संबंध पहली संख्या से है।

77 : 11 :: 259 : ?

- Ans 1. 29
 2. 37
 3. 43
 4. 31

Question ID : 65497830257
Status : Answered
Chosen Option : 2

Q.24 'नेफ्रोलॉजिस्ट' का 'गुर्दे' से वही संबंध है, जो 'कार्डियोलॉजिस्ट' का '_____' से है।

- Ans 1. हृदय
 2. फेफड़े
 3. पित्ताशय
 4. अग्न्याशय

Question ID : 65497830262
Status : Answered
Chosen Option : 1

Q.25 उस विकल्प का चयन कीजिए जिसमें निम्नलिखित शब्दों का वह क्रम दिया गया है जिस क्रम में वे अंग्रेज़ी शब्दकोश में आते हैं।

1. Uneventful
2. Uneconomical
3. Unexplained
4. Unexpected
5. Unemployment

- Ans 1. 3, 5, 1, 4, 2
 2. 2, 5, 3, 4, 1
 3. 2, 5, 1, 4, 3
 4. 2, 5, 1, 3, 4

Question ID : 65497830244
Status : Answered
Chosen Option : 3

Section : Part B General Knowledge and General Awareness

Q.1 राजनीतिज्ञ-लेखक एम वीरप्पा मोइली को उनकी _____ काव्य रचना 'श्री बाहुबली अहिंसादिग्विजयम' के लिए साहित्य अकादमी पुरस्कार 2020 से सम्मानित किया गया।

- Ans 1. तेलुगू
 2. तमिल
 3. मलयालम
 4. कन्नड़

Question ID : 65497830289
Status : Answered
Chosen Option : 1



Download SSC CGL, CHSL E-BOOKS

[CLICK HERE](#)