

## Constable GD in CAPFs NIA SSF and Rifleman GD in Assam Rifles Examination 2021

Roll Number	
Candidate Name	
Venue Name	iON Digital Zone iDZ Laxman Nagar
Exam Date	17/11/2021
Exam Time :	9:00 AM - 10:30 AM
Subject	Constable GD 2021

### Section : Part A General Intelligence and Reasoning

Q.1 आठ मित्र, P, Q, R, S, T, U, V और W, एक गोल मेज़ के परितः इसके केंद्र की ओर अभिमुख होकर बैठे हैं। P, R और S के बीच में है। T, W के बाईं ओर तीसरे स्थान पर है। Q, S के एकदम बाएं बगल में है। T, S के दाईं ओर तीसरे स्थान पर है। V, U और W के बीच में है। S और W के बीच में कौन बैठा है?

- Ans
- 1. T
  - 2. R
  - 3. P
  - 4. Q

Question ID : 65497831137  
Status : Answered  
Chosen Option : 3

Q.2 दिए गए पैटर्न का ध्यानपूर्वक अध्ययन करें और उस संख्या का चयन करें जो इसमें प्रश्न चिह्न (?) के स्थान पर आ सकती है।

57 28 29  
68 ? 33  
72 37 35

- Ans
- 1. 34
  - 2. 35
  - 3. 33
  - 4. 29

Question ID : 65497831151  
Status : Answered  
Chosen Option : 1



Download SSC CGL, CHSL E-BOOKS

[CLICK HERE](#)

**Q.3** दिए गए विकल्पों में से उस आकृति का चयन करें जो नीचे दी गई श्रृंखला में प्रश्न चिह्न (?) के स्थान पर आ सकती है।

S	T	I	S	T	1	U	
					2		?
V	U	V	U	V	S		

**Ans**

1.

T	3	S
		2
V	1	U

2.

S	2	T
3		1
U		V

3.

T	1	V
		2
S	3	U

4.

T	1	U
		2
S	3	V

Question ID : 65497831148

Status : Answered

Chosen Option : 2

**Q.4** उस वेन आरेख का चयन कीजिए, जो निम्नलिखित वर्गों के बीच के संबंध को सही ढंग से निरूपित करता है।

माता, पिता, पुरुष

**Ans**

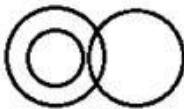
1.



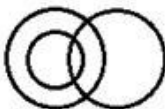
2.



3.



4.



Question ID : 65497831157

Status : Answered

Chosen Option : 1

Q.5 दिए गए विकल्पों में से वह संख्या चुनें जो निम्नलिखित श्रेणी में प्रश्नवाचक चिह्न (?) के स्थान पर आ सकती है।

16, 9, 27, 19, 76, 67, 335, ?

- Ans
- 1. 650
  - 2. 90
  - 3. 325
  - 4. 415

Question ID : 65497831135  
Status : Answered  
Chosen Option : 2

Q.6 अक्षरों के उस संयोजन का चयन करें जो दी गई श्रृंखला के रिक्त स्थान में क्रमिक रूप से रखे जाने पर श्रृंखला को पूर्ण करेगा।

P\_RQPS\_ \_P\_ \_Q\_SR\_P\_RQ

- Ans
- 1. QRQSRPQS
  - 2. SRQSRPQS
  - 3. SQQSRPQS
  - 4. SRSQRPQS

Question ID : 65497831146  
Status : Answered  
Chosen Option : 4

Q.7 दिए गए कथनों और निष्कर्षों को ध्यानपूर्वक पढ़ें। यह मानते हुए कि कथनों में दी गई जानकारी सही है, भले ही वह सामान्य रूप से ज्ञात तथ्यों से भिन्न प्रतीत होती हो, यह निर्धारित करें कि दिए गए निष्कर्षों में से कौन-से निष्कर्ष कथनों का तार्किक रूप से अनुसरण करते हैं।

कथन:  
कुछ तारे, ग्रह हैं।  
कुछ ग्रह, धूमकेतु हैं।

निष्कर्ष:  
I. कुछ धूमकेतु, ग्रह हैं।  
II. सभी तारे, धूमकेतु हैं।

- Ans
- 1. न तो निष्कर्ष I और न ही निष्कर्ष II अनुसरण करता है।
  - 2. निष्कर्ष I और II दोनों अनुसरण करते हैं।
  - 3. केवल निष्कर्ष I अनुसरण करता है।
  - 4. केवल निष्कर्ष II अनुसरण करता है।

Question ID : 65497831150  
Status : Answered  
Chosen Option : 4



Download SSC CGL, CHSL E-BOOKS

CLICK HERE

**Q.8** एक ही पासे के दो अलग-अलग स्थितियाँ दर्शाई गई हैं, जिनके फलकों पर 1 से 6 तक संख्याएं संख्या लिखी हुई हैं। उस संख्या का चयन कीजिए जो संख्या '6' वाले फलक के विपरीत फलक पर होगी।



- Ans**
- 1. 3
  - 2. 4
  - 3. 1
  - 4. 2

Question ID : 65497831140  
 Status : Answered  
 Chosen Option : 4

**Q.9** उस विकल्प का चयन कीजिए जिसमें नीचे दी गई आकृति सन्निहित है (आकृति को घुमाने की अनुमति नहीं है)।



**Ans**

- 1.
- 2.
- 3.
- 4.

Question ID : 65497831141  
 Status : Answered  
 Chosen Option : 1

Q.10 दो वर्ष पूर्व, T की आयु, P की आयु की दोगुनी थी। वर्तमान में P की आयु, R की आयु की तीन गुनी है। पांच साल में, P की आयु 29 वर्ष हो जाएगी। T की वर्तमान आयु कितनी है?

- Ans  1. 48  
 2. 46  
 3. 44  
 4. 42

Question ID : 65497831152  
Status : Answered  
Chosen Option : 3

Q.11 किसी निश्चित कूट भाषा में, 'NOTION' को '13127181213' के रूप में कूटबद्ध किया जाता है। उसी भाषा में 'BEAUTIFY' को किस रूप में कूटबद्ध किया जाएगा?

- Ans  1. 2522266718212  
 2. 2505016718212  
 3. 2022266818222  
 4. 2522268719215

Question ID : 65497831134  
Status : Answered  
Chosen Option : 3

Q.12 छः मित्र A, B, C, D, E और F एक सीधी क्षैतिज पंक्ति में उत्तर की ओर मुंह करके बैठे हुए हैं। B, F और C के बीच में बैठा है। E, C के दाईं ओर तीसरे स्थान पर बैठा है। D, E के बाईं ओर ठीक बगल में बैठा है। B के दाईं ओर दूसरे स्थान पर कौन बैठा है?

- Ans  1. E  
 2. A  
 3. F  
 4. D

Question ID : 65497831156  
Status : Answered  
Chosen Option : 4

Q.13 'जटिल' का 'सरल' से वही संबंध है, जो 'संकुचन' का '\_\_\_\_\_' से है।

- Ans  1. संकीर्ण  
 2. प्रसार  
 3. निष्पादन  
 4. छोटा

Question ID : 65497831155  
Status : Answered  
Chosen Option : 3



Download SSC CGL, CHSL E-BOOKS

CLICK HERE

Q.14 एक निश्चित कूट भाषा में, KILOGRAM को LZQFNKHJ के रूप में लिखा जाता है। उसी कूट भाषा में AIRCRAFT को किस रूप में लिखा जाएगा?

- Ans
- 1. SEZQHZBQ
  - 2. BSHZQEZB
  - 3. ZHSBQZQH
  - 4. SEZQBQHZ

Question ID : 65497831143

Status : Answered

Chosen Option : 4

Q.15 यदि दर्पण को दाईं ओर रखा गया हो, तो दिए गए संयोजन के सही दर्पण प्रतिबिंब का चयन करें।

s x g 5 A Y

- Ans
- 1. Y A ɹ p x ɛ
  - 2. ʌ V ɹ p x ɛ
  - 3. Y A ɹ 6 x ɛ
  - 4. Y A 9 p x ɛ

Question ID : 65497831136

Status : Answered

Chosen Option : 4

Q.16 उस विकल्प का चयन कीजिए जिसमें निम्न शब्दों का वह क्रम दिया गया है, जिस क्रम में वे अंग्रेज़ी शब्दकोश में मौजूद होते हैं।

- 1. Creditor
- 2. Creature
- 3. Credible
- 4. Creditable
- 5. Credentials

- Ans
- 1. 3, 5, 1, 4, 2
  - 2. 2, 5, 3, 4, 1
  - 3. 2, 5, 1, 3, 4
  - 4. 2, 5, 4, 3, 1

Question ID : 65497831145

Status : Answered

Chosen Option : 2



Download SSC CGL, CHSL E-BOOKS

[CLICK HERE](#)

Q.17 चार अक्षर-समूह दिए गए हैं, जिनमें से तीन किसी तरह से एक समान हैं और एक असंगत है। उस अक्षर-समूह का चयन करें जो असंगत है।

- Ans  1. CXGV  
 2. LOPK  
 3. EVIR  
 4. HSLO

Question ID : 65497831133  
Status : Answered  
Chosen Option : 4

Q.18 उस विकल्प का चयन कीजिए जो तीसरी संख्या से उसी तरह से संबंधित है जैसे दूसरी संख्या पहली संख्या से संबंधित है और छठी संख्या पाँचवीं संख्या से संबंधित है।

16 : 256 :: 21 : ? :: 19 : 361

- Ans  1. 484  
 2. 441  
 3. 422  
 4. 324

Question ID : 65497831138  
Status : Answered  
Chosen Option : 2

Q.19 किसी विशिष्ट कूट भाषा में, 'ABSTRACT' को 'IYYVDEU' के रूप में लिखा जाता है। उसी कूट भाषा में 'INSTINCT' को किस रूप में लिखा जाएगा?

- Ans  1. OUYYNQEU  
 2. QUYYNPEU  
 3. OUYMQEU  
 4. QUYYPMEU

Question ID : 65497831149  
Status : Answered  
Chosen Option : 3

Q.20 दिए गए विकल्पों में से उस संख्या का चयन करें जो निम्नलिखित श्रृंखला में प्रश्न चिह्न (?) के स्थान पर आ सकती है।

240, 258, 278, 300, ?

- Ans  1. 324  
 2. 355  
 3. 400  
 4. 312

Question ID : 65497831147  
Status : Answered  
Chosen Option : 1



Q.21 यदि 'A' का अर्थ '+' है, 'B' का अर्थ '-' है, 'C' का अर्थ 'x' है, और, 'D' का अर्थ '÷' है, तो दिए गए समीकरणों में से कौन सा समीकरण संतुलित है?

- Ans  1.  $45 D 5 C 7 A 14 = 77$   
 2.  $66 B 2 D 54 C 18 = 135$   
 3.  $45 A 5 C 7 D 14 = 77$   
 4.  $66 C 2 B 54 D 18 = 135$

Question ID : 65497831139  
Status : Answered  
Chosen Option : 2

Q.22 उस विकल्प का चयन कीजिए जो तीसरे पद से उसी प्रकार संबंधित है जिस प्रकार दूसरा पद पहले पद से संबंधित है।

METHOD : OIZPYP :: NORMAL : ?

- Ans  1. PSXUKX  
 2. QRYVLY  
 3. PXSUXK  
 4. PSXVLX

Question ID : 65497831142  
Status : Answered  
Chosen Option : 2

Q.23 राधा और ज्ञानेश की तीन बेटियाँ हैं - मनुजा, तारिणी और सुषमा। तारिणी की शादी जय से हुई है और सुषमा की शादी अभय से हुई है। ज्ञानेश का तीसरा दामाद अखिल है। अखिल के दो बच्चे पीयूष और रानी हैं। जय की दो बेटियाँ ऋचा और नेहा हैं। मृदुल, अभय का इकलौता बेटा है। राधा का रानी से क्या संबंध है?

- Ans  1. नानी  
 2. मौसेरी बहन  
 3. माँ  
 4. सास

Question ID : 65497831144  
Status : Answered  
Chosen Option : 1




Download SSC CGL, CHSL E-BOOKS

[CLICK HERE](#)

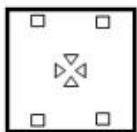


Q.24 नीचे दी गई आकृतियों में कागज के एक टुकड़े को मोड़ने का क्रम और उस मुड़े हुए कागज को काटने का तरीका दर्शाया गया है। इस कागज को खोलने पर यह कैसा दिखेगा?

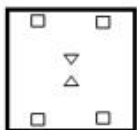


Ans

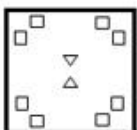
1.



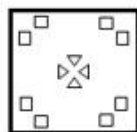
2.



3.



4.



Question ID : 65497831153

Status : Answered

Chosen Option : 1

Q.25 दिए गए विकल्पों में से उस अक्षर-समूह का चयन करें, जो निम्नलिखित श्रृंखला में प्रश्नवाचक चिन्ह (?) के स्थान पर आ सकता है।

UC, AE, GG, MI, SK, ?

Ans  1. YO

2. WN

3. YM

4. LM

Question ID : 65497831154

Status : Answered

Chosen Option : 4

Section : Part B General Knowledge and General Awareness

Q.1 निम्नलिखित में से किसने अवध को अशांत क्षेत्र घोषित करने में महत्वपूर्ण भूमिका निभाई, जिससे इसे ब्रिटिश नियंत्रण में लाना आवश्यक हो गया था?

Ans  1. लॉर्ड रिपन

2. लॉर्ड कैनिंग

3. लॉर्ड डलहौजी

4. लॉर्ड वेलेजली

Question ID : 65497831173

Status : Answered

Chosen Option : 4



Download SSC CGL, CHSL E-BOOKS

CLICK HERE