

## Constable GD in CAPFs NIA SSF and Rifleman GD in Assam Rifles Examination 2021

Roll Number	
Candidate Name	
Venue Name	
Exam Date	16/11/2021
Exam Time :	4:00 PM - 5:30 PM
Subject	Constable GD 2021

### Section : Part A General Intelligence and Reasoning

Q.1 दिए गए विकल्पों में से उस संख्या का चयन करें, जो निम्नलिखित श्रेणी में प्रश्नवाचक चिह्न (?) के स्थान पर आ सकती है।

209, 205, 196, 180, ?, 119

- Ans
- 1. 165
  - 2. 160
  - 3. 155
  - 4. 149

Question ID : 65497828857

Status : Answered

Chosen Option : 3

Q.2 किसी कूट भाषा में, APRIL को  $\alpha\beta\alpha\theta$  और MARCH को  $\theta\beta\theta\alpha$  लिखा जाता है। उसी कूट भाषा में PARAM को किस प्रकार लिखा जाएगा?

- Ans
- 1.  $\beta\alpha\theta\alpha$
  - 2.  $\alpha\theta\beta\alpha$
  - 3.  $\theta\beta\alpha\theta$
  - 4.  $\alpha\theta\beta\theta$

Question ID : 65497828848

Status : Answered

Chosen Option : 4

Q.3 चार अक्षर-समूह दिए गए हैं, जिनमें से तीन किसी तरह से संगत हैं और एक असंगत है। उस अक्षर-समूह का चयन करें, जो अन्य से असंगत है।

- Ans
- 1. AEI
  - 2. IOU
  - 3. ZDK
  - 4. AEU

Question ID : 65497828868

Status : Answered

Chosen Option : 3



Download SSC CGL, CHSL E-BOOKS

[CLICK HERE](#)

Q.4 उस विकल्प का चयन करें, जिसमें दी गई संख्याओं के बीच वही संबंध है, जो दिए गए समूह की संख्याओं के बीच है।

11, 4, 137

- Ans  1. 9, 8, 145  
 2. 10, 5, 148  
 3. 12, 7, 190  
 4. 15, 14, 205

Question ID : 65497828864

Status : **Not Attempted and Marked For Review**

Chosen Option : --

Q.5 एक ही पासे की तीन अलग-अलग स्थितियां दिखाई गई हैं। प्रतीक '&' वाले फलक के विपरीत वाले फलक पर कौन-सी संख्या होगी / कौन-सा प्रतीक होगा?



- Ans  1. #  
 2. \$  
 3. 9  
 4. %

Question ID : 65497828853

Status : **Answered**

Chosen Option : 4

Q.6 दिए गए विकल्पों में से उस संख्या का चयन कीजिए, जो निम्नलिखित श्रेणी में प्रश्नवाचक चिह्न (?) के स्थान पर आ सकती है।

14, 15, 24, 49, 98, 179, ?

- Ans  1. 290  
 2. 300  
 3. 312  
 4. 340

Question ID : 65497828870

Status : **Answered**

Chosen Option : 2

Q.7 एक निश्चित कूट भाषा में, ALARMING को 150 लिखा जाता है। उसी कूट भाषा में FLOATER को किस प्रकार लिखा जाएगा?

- Ans  1. 156  
 2. 141  
 3. 154  
 4. 124

Question ID : 65497828869

Status : **Not Attempted and Marked For Review**

Chosen Option : --

Q.8 उस विकल्प का चयन करें, जो दिए गए शब्दों के उस क्रम को दर्शाता है, जिस क्रम में ये शब्द अंग्रेजी शब्दकोश में मौजूद होते हैं।

1. Pitted
2. Pivot
3. Pixie
4. Pivotal
5. Pity

- Ans  1. 2, 1, 4, 5, 3  
 2. 1, 5, 4, 2, 3  
 3. 1, 5, 2, 4, 3  
 4. 1, 2, 3, 4, 5

Question ID : 65497828855

Status : **Answered**

Chosen Option : 3

Q.9 उस विकल्प का चयन कीजिए, जिसका तीसरी संख्या से वही संबंध है, जो दूसरी संख्या का पहली संख्या से है; और छठी संख्या का पांचवीं संख्या से है।

16 : 120 :: 18 : ? :: 22 : 231

- Ans  1. 134  
 2. 513  
 3. 153  
 4. 531

Question ID : 65497828851

Status : **Not Attempted and Marked For Review**

Chosen Option : --

Q.10 सीमा ने एक फोटो की ओर इशारा करते हुए मुझसे कहा, "वह तुम्हारे पिता का पुत्र है।" फोटो में मौजूद व्यक्ति का मेरे साथ क्या संबंध है?

- Ans  1. पिताजी  
 2. दादा/नाना  
 3. चाचा/ताऊ/फूफा/मामा/भौसा  
 4. भाई

Question ID : 65497828849

Status : **Answered**

Chosen Option : 4



**Download SSC CGL, CHSL E-BOOKS**

[CLICK HERE](#)

Q.11 दिए गए कथनों और निष्कर्षों को ध्यानपूर्वक पढ़ें। कथनों में दी गई जानकारी को सत्य मानते हुए विचार करें, भले ही वह सामान्यतः ज्ञात तथ्यों से भिन्न प्रतीत होती हो, और तय करें कि दिए गए निष्कर्षों में से कौन से कथनों का तार्किक रूप से पालन करते हैं?

कथन:

कोई लड़का इंजीनियर नहीं है।  
कोई इंजीनियर ड्राइवर नहीं है।  
सभी लड़कियां लड़के हैं।

निष्कर्ष:

I. सभी लड़के ड्राइवर हैं।  
II. कोई लड़की इंजीनियर नहीं है।

- Ans
- 1. केवल निष्कर्ष I पालन करता है।
  - 2. केवल निष्कर्ष II पालन करता है।
  - 3. निष्कर्ष I और II दोनों ही पालन करते हैं।
  - 4. या तो निष्कर्ष I या II पालन करता है।

Question ID : 65497828863

Status : Answered

Chosen Option : 2

Q.12 एक निश्चित कूट भाषा में MORSEL को LESROM लिखा जाता है। उसी कूट भाषा में GATEWAY को किस प्रकार लिखा जाएगा?

- Ans
- 1. AWYETAG
  - 2. YAWTEAG
  - 3. YAWATEG
  - 4. YAWETAG

Question ID : 65497828861

Status : Answered

Chosen Option : 4



Download SSC CGL, CHSL E-BOOKS

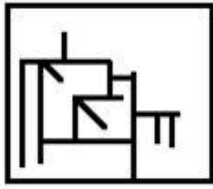
[CLICK HERE](#)

Q.13 उस विकल्प का चयन करें जिसमें दी गई आकृति सन्निहित है (आकृति को घुमाने की अनुमति नहीं है)।

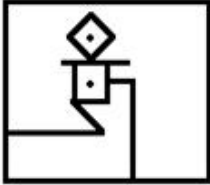


Ans

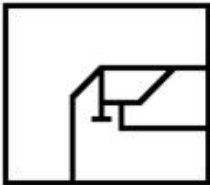
✓ 1.



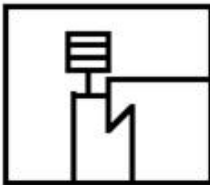
✗ 2.



✗ 3.



✗ 4.



Question ID : 65497828854

Status : Answered

Chosen Option : 1

Q.14 'क्रिकेट' का 'LBW' से वही संबंध है, जो 'शतरंज' का '\_\_\_\_\_' से है।

Ans ✗ 1. हिट विकेट

✗ 2. ड्यूस

✓ 3. चेकमेट

✗ 4. बैकस्ट्रोक

Question ID : 65497828860

Status : Answered

Chosen Option : 3



Download SSC CGL, CHSL E-BOOKS

[CLICK HERE](#)

Q.15 उस विकल्प का चयन करें, जिसका तीसरे अक्षर-समूह से वही संबंध है, जो दूसरे अक्षर-समूह का पहले अक्षर-समूह से है।

HOST : FMQR :: DRON : ?

- Ans
- 1. BPML
  - 2. BMPL
  - 3. BPLM
  - 4. BLMP

Question ID : 65497828847  
 Status : Answered  
 Chosen Option : 1

Q.16 दिए गए विकल्पों में से उस आकृति का चयन करें, जो निम्नांकित आकृति में प्रश्नवाचक चिह्न (?) के स्थान पर आ सकती है, और पैटर्न को पूरा कर सकती है (घुमाने की अनुमति नहीं है)।



- Ans
- 1.
  - 2.
  - 3.
  - 4.

Question ID : 65497828858  
 Status : Answered  
 Chosen Option : 2

Q.17 अक्षरों के उस संयोजन का चयन करें, जिसे दी गई शृंखला के रिक्त स्थानों में क्रमवार रखे जाने पर शृंखला पूर्ण हो जाएगी।

D \_\_ SHT \_\_ RISH \_\_ DRI \_\_ TIDRIS \_\_ I

- Ans
- 1. RITIDTSHHT
  - 2. RIIDTISHHT
  - 3. RDIITISHHT
  - 4. RDIISHTIHT

Question ID : 65497828856  
 Status : Answered  
 Chosen Option : 1

Q.18 छह लड़कियां A, B, C, D, E और F दो ऊर्ध्वाधर पंक्तियों में खड़ी हैं; सभी लड़कियों का मुख उत्तर दिशा की ओर है। प्रत्येक पंक्ति में तीन लड़कियां हैं। E, D के ठीक पीछे है। F, A के बाईं ओर है। C, B के ठीक आगे है। A, D के ठीक आगे है। कौन सी दो लड़कियां पंक्तियों के अंतिम स्थानों पर खड़ी हैं?

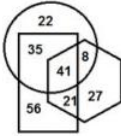
- Ans
- 1. A, F
  - 2. C, E
  - 3. A, B
  - 4. B, E

Question ID : 65497828862

Status : Not Answered

Chosen Option : --

Q.19 निम्नलिखित आरेख में, 'षट्भुज', 'इंजीनियरों' को निरूपित करता है, 'वृत्त', 'संगीत-प्रेमियों' को निरूपित करता है, और 'आयत', 'मॉर्निंग-वाँकरों' को निरूपित करता है। विभिन्न खंडों में दी गई संख्याएं, उस श्रेणी से संबंधित व्यक्तियों की संख्या को दर्शाती हैं।



कितने मॉर्निंग-वाँकर, संगीत प्रेमी हैं, लेकिन इंजीनियर नहीं हैं?

- Ans
- 1. 41
  - 2. 21
  - 3. 8
  - 4. 35

Question ID : 65497828867

Status : Answered

Chosen Option : 4

Q.20 यदि 21 मार्च 2007 को बुधवार है, तो 25 मई 2015 को सप्ताह का कौन सा दिन होगा?

- Ans
- 1. बुधवार
  - 2. सोमवार
  - 3. रविवार
  - 4. मंगलवार

Question ID : 65497828865

Status : Answered

Chosen Option : 2



Q.21 दिए गए विकल्पों में से उस अक्षर-समूह का चयन करें, जो निम्नलिखित शृंखला में प्रश्नवाचक चिह्न (?) के स्थान पर आ सकता है।

DOK, ENL, FMM, GLN, ?

Ans  1. GHP

2. HKO

3. GLO

4. HLP

Question ID : 65497828859

Status : Answered

Chosen Option : 2

Q.22 यदि 'A' का अर्थ 'जोड़ना' है, 'B' का अर्थ 'गुणा' है, 'C' का अर्थ 'घटाना' है, और 'D' का अर्थ 'भाग' है, तो निम्नलिखित व्यंजक का मान क्या होगा?

60 D 2 A 3 B 6 C 5 C (4 B 3)

Ans  1. 45

2. 41

3. 31

4. 35

Question ID : 65497828852

Status : Answered

Chosen Option : 3

Q.23 दिए गए संयोजन के सही दर्पण प्रतिबिंब का चयन कीजिए, जबकि दर्पण को इसकी दाईं ओर रखा गया है।

4 2 5 3 e f

Ans

1. 4 2 5 3 e f

2. 4 2 5 3 e f

3. 4 2 5 3 e f

4. 4 2 5 3 e f

Question ID : 65497828871

Status : Answered

Chosen Option : 3



Download SSC CGL, CHSL E-BOOKS

[CLICK HERE](#)



- Q.24 (i) अनुपमा, भाव्या, चहल, दिलीप, सौरभ, वरुण और गोविंद, एक वृत्ताकार व्यवस्था में केंद्र की ओर मुख करके बैठे हैं और ताश खेल रहे हैं।  
 (ii) सौरभ अनुपमा और दिलीप के बगल में बैठा है।  
 (iii) गोविंद, वरुण और चहल के बीच में नहीं बैठा है।  
 (iv) वरुण, अनुपमा के दाईं ओर ठीक बगल में बैठा है।  
 व्यक्तियों का इनमें से कौन सा युग्म एक दूसरे के बगल में नहीं बैठा है?

Ans  1. दिलीप, सौरभ

2. भाव्या, अनुपमा

3. गोविंद, दिलीप

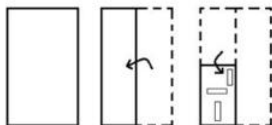
4. चहल, भाव्या

Question ID : 65497828850

Status : Not Answered

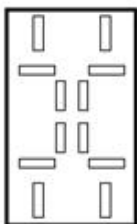
Chosen Option : --

- Q.25 कागज के एक टुकड़े को मोड़ने के क्रम और मुड़े हुए कागज को काटने के तरीके को निम्नलिखित आकृतियों में दर्शाया गया है। खोलने पर, यह कागज कैसा दिखाई देगा?

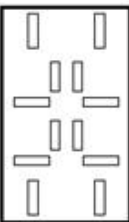


Ans

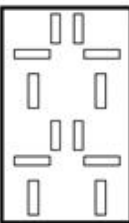
1.



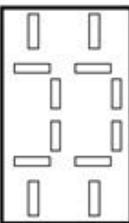
2.



3.



4.



Question ID : 65497828866

Status : Answered

Chosen Option : 1



Download SSC CGL, CHSL E-BOOKS

CLICK HERE