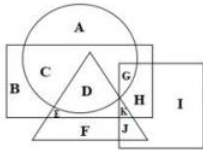


Exam Date	16/11/2021
Exam Time :	9:00 AM - 10:30 AM
Subject	Constable GD 2021

Section : Part A General Intelligence and Reasoning

Q.1 निम्नलिखित वेन आरेख में, वृत्त, 'सब्जियों' को निरूपित करता है, त्रिभुज, 'जड़ों' को निरूपित करता है, वर्ग 'कठोर मृदा' को निरूपित करता है, और आयत 'गर्मियों' को निरूपित करता है। निम्नलिखित में से कौन-सा अक्षर उन जड़ वाली सब्जियों को निरूपित करता है जो गर्मी में उगती हैं, लेकिन कठोर मृदा में नहीं उगती हैं?



- Ans
- 1. G
 - 2. K
 - 3. E
 - 4. D

Question ID : 65497828356

Status : Answered

Chosen Option : 4

Q.2 उस विकल्प का चयन करें, जो तीसरे पद से वही संबंध है, जो दूसरे पद का पहले पद से है।

BLOCK : LBPKC :: MARGIN : ?

- Ans
- 1. OBHQHL
 - 2. OHQHBL
 - 3. OHBHQH
 - 4. OHHQBL

Question ID : 65497828361

Status : Answered

Chosen Option : 4

Q.3 दिए गए पैटर्न का ध्यानपूर्वक अध्ययन करें और उस संख्या का चयन करें, जो इसमें प्रश्नवाचक चिह्न (?) के स्थान पर आ सकती है।

13 26 39
30 42 ?
17 16 15

- Ans
- 1. 40
 - 2. 54
 - 3. 45
 - 4. 60

Question ID : 65497828341

Status : Answered

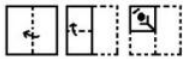
Chosen Option : 2



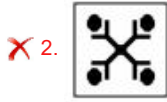
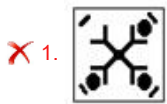
Download SSC CGL, CHSL E-BOOKS

CLICK HERE

Q.4 दिए गए चित्र में कागज के एक टुकड़े को मोड़ने का क्रम और मुड़े हुए टुकड़े को काटने की विधि दर्शाई गई है। यह कागज खोलने पर कैसा दिखेगा?



Ans



Question ID : 65497828343

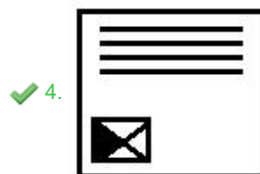

Status : Answered

Chosen Option : 3

Q.5 दिए गए विकल्पों में से उस आकृति का चयन कीजिए जो निम्नांकित आकृति श्रृंखला में प्रश्नवाचक चिह्न (?) के स्थान पर आ सकती है।



Ans



Question ID : 65497828352

Status : Answered

Chosen Option : 4

Q.6 पांच मित्र, P, Q, R, S और T, दक्षिण दिशा की ओर मुख करके एक पंक्ति में बैठे हैं। Q, मध्य स्थान पर बैठा है। P पश्चिमी सिरे पर बैठा है। T और R, Q के एक ही ओर बैठे हैं। P और R के बीच दो व्यक्ति बैठे हैं। Q और P के बीच में कौन बैठा है?

- Ans
- 1. Q
 - 2. T
 - 3. S
 - 4. R

Question ID : 65497828355
Status : Answered
Chosen Option : 3

Q.7 एक काल्पनिक गणितीय प्रणाली में, चिह्न '-' का अर्थ जोड़ है, चिह्न '+' का अर्थ भाग है, चिह्न 'x' का अर्थ घटाना है, और चिह्न '÷' का अर्थ गुणा है। गणित के अन्य सभी नियम मौजूदा प्रणाली के समान हैं। निम्नलिखित व्यंजक का मान ज्ञात कीजिए।

$$240 \times 72 + 8 \div 24 - 6$$

- Ans
- 1. 19
 - 2. 26
 - 3. 36
 - 4. 30

Question ID : 65497828346
Status : Answered
Chosen Option : 4

Q.8 दिए गए कथनों और निष्कर्षों को ध्यानपूर्वक पढ़ें। कथनों में दी गई जानकारी को सत्य मानते हुए विचार करें, भले ही वह सामान्य रूप से ज्ञात तथ्यों से भिन्न प्रतीत होती हो, और बताएं कि दिए गए निष्कर्षों में से कौन से, तार्किक रूप से कथनों का पालन करते हैं?

कथन:
सभी नीले सफेद हैं।
कुछ सफेद स्लेटी हैं।

निष्कर्ष:
I. सभी स्लेटी सफेद हैं।
II. सभी स्लेटी नीले हैं।

- Ans
- 1. केवल निष्कर्ष I पालन करता है।
 - 2. न तो निष्कर्ष I और न ही निष्कर्ष II पालन करता है।
 - 3. दोनों ही निष्कर्ष पालन करते हैं।
 - 4. केवल निष्कर्ष II पालन करता है।

Question ID : 65497828340
Status : Answered
Chosen Option : 2

Q.9 उस विकल्प का चयन करें, जिसका तीसरे शब्द से वही संबंध है, जो दूसरे शब्द का पहले शब्द से है।

भुवनेश्वर : ओडिशा :: आइज़ोल : ?

- Ans
- 1. मिज़ोरम
 - 2. मेघालय
 - 3. मणिपुर
 - 4. त्रिपुरा

Question ID : 65497828354
Status : Answered
Chosen Option : 1



Download SSC CGL, CHSL E-BOOKS

CLICK HERE

Q.10 किसी निश्चित कूट भाषा में, 'ARROW' को 'FOOSE' लिखा जाता है और 'GERM' को 'THOR' लिखा जाता है। उसी भाषा में 'MOWER' को किस प्रकार लिखा जाएगा?

- Ans
- 1. SHORE
 - 2. ROSHE
 - 3. HORSE
 - 4. RSEHO

Question ID : 65497828339
Status : Answered
Chosen Option : 4

Q.11 उस विकल्प का चयन करें जिसका तीसरी संख्या से वही संबंध है, जो दूसरी संख्या का पहली संख्या से है।

31 : 90 :: 43 : ?

- Ans
- 1. 125
 - 2. 102
 - 3. 130
 - 4. 75

Question ID : 65497828345
Status : Answered
Chosen Option : 1

Q.12 अक्षरों के उस संयोजन का चयन करें, जिसे दी गई श्रेणी के रिक्त स्थानों पर क्रमिक रूप से रखने पर श्रेणी पूर्ण हो जाएगी।

C 2 _ X 2 C C _ X X 2 _ C 2 _ X _ C

- Ans
- 1. C2X2X
 - 2. XCX2C
 - 3. AXX2C
 - 4. X2CX2

Question ID : 65497828350
Status : Answered
Chosen Option : 4

Q.13 जब किसी संख्या को उसके 5 के गुणज और उसके वर्ग में जोड़ा जाता है, तो इन तीनों संख्याओं का योग 91 प्राप्त होता है। संख्या ज्ञात कीजिए।

- Ans
- 1. 6
 - 2. 9
 - 3. 11
 - 4. 7

Question ID : 65497828342
Status : Answered
Chosen Option : 4

Q.14 निम्नलिखित चार अक्षर-समूहों में से तीन किसी तरह से संगत हैं और एक असंगत है। उस अक्षर-समूह का चयन करें, जो असंगत है।

- Ans
- 1. QRS
 - 2. NMP
 - 3. HIJ
 - 4. DEF

Question ID : 65497828357
Status : Answered
Chosen Option : 2

Q.15 एक विशिष्ट कूट भाषा में, 'India is my country' का अर्थ '8573' है, 'Sam is my friend' का अर्थ '8634' है, 'My country' का अर्थ '73' और 'Team India' का अर्थ '59' है। उस कूट भाषा में 'Country' के लिए प्रयुक्त कूट क्या है?

- Ans
- 1. 3
 - 2. 7
 - 3. 8
 - 4. 5

Question ID : 65497828358
Status : Answered
Chosen Option : 2

Q.16 उस विकल्प का चयन करें जिसमें दी गई आकृति अंतर्निहित है (घुमाने की अनुमति नहीं है)।



Ans

- 1.
- 2.
- 3.
- 4.

Question ID : 65497828348
Status : Answered
Chosen Option : 2

Q.17 दिए गए विकल्पों में से उस अक्षर-समूह का चयन कीजिए, जो दी गई श्रृंखला में प्रश्नवाचक चिह्न (?) के स्थान पर आ सकता है।

SKH, PMG, MOF, JQE, ?

- Ans
- 1. HSD
 - 2. SDF
 - 3. GSD
 - 4. GTD

Question ID : 65497828353

Status : Answered

Chosen Option : 3

Q.18 उस सही विकल्प का चयन करें, जो दिए गए शब्दों के उस क्रम को दर्शाता है, जिस क्रम में वे अंग्रेजी शब्दकोश में मौजूद होते हैं।

1. Prestige
2. Pristine
3. Prescribe
4. Prepaid
5. Premium

- Ans
- 1. 5, 4, 3, 1, 2
 - 2. 5, 3, 4, 1, 2
 - 3. 4, 5, 3, 2, 1
 - 4. 4, 5, 3, 1, 2

Question ID : 65497828349

Status : Answered

Chosen Option : 1

Q.19 किसी कूट भाषा में, 'CIRCLE' को 'DLWAHY' लिखा जाता है। उसी कूट भाषा में 'SQUARE' को किस प्रकार लिखा जाएगा?

- Ans
- 1. TNZYVY
 - 2. TNPYVY
 - 3. TTPNKY
 - 4. TTZYNY

Question ID : 65497828362

Status : Answered

Chosen Option : 4

Q.20 दिए गए विकल्पों में से उस संख्या का चयन कीजिए, जो निम्नलिखित श्रेणी में प्रश्नवाचक चिह्न (?) के स्थान पर आएगी।

19, 23, 32, 48, 73, ?

- Ans
- 1. 111
 - 2. 109
 - 3. 108
 - 4. 103

Question ID : 65497828351

Status : Answered

Chosen Option : 2

Q.21 दिए गए विकल्पों में से उस संख्या का चयन करें, जो निम्नलिखित श्रृंखला में प्रश्नवाचक चिह्न (?) के स्थान पर आ सकती है।

24, 40, 64, 104, ?, 312

- Ans
- 1. 168
 - 2. 176
 - 3. 228
 - 4. 154

Question ID : 65497828359

Status : Marked For Review

Chosen Option : 1

Q.22 X, \$, Y, &, Z और @ अक्षरों/प्रतीकों द्वारा चिह्नित एक ही पासे की दो विभिन्न स्थितियाँ दर्शाई गई हैं। उस अक्षर/प्रतीक का चयन करें जो \$ प्रतीक दर्शाने वाले फलक के विपरीत फलक पर होगा।



- Ans
- 1. Z
 - 2. X
 - 3. @
 - 4. &

Question ID : 65497828347

Status : Answered

Chosen Option : 4

Q.23 'R+S' का अर्थ है - 'R, S की पुत्री है'। 'R-S' का अर्थ है - 'R, S का पति है'। 'R x S' का अर्थ है - 'R, S का भाई है'। यदि 'T x V + Z' है, तो निम्नलिखित में से कौन-सा विकल्प सत्य है?

- Ans
- 1. T, Z का पिता है।
 - 2. T, Z का पुत्र है।
 - 3. T, Z का चाचा/ताऊ/मामा/भौसा/फूफा है।
 - 4. T, Z का भाई है।

Question ID : 65497828363

Status : Answered

Chosen Option : 2

Q.24 दिए गए संयोजन के सही दर्पण प्रतिबिंब का चयन करें जब दर्पण को निम्नांकित चित्रानुसार 'PQ' पर रखा गया है।

M8AGI2CAL

- Ans
- 1. M8VIGJCVF
 - 2. JAQZGIA8M
 - 3. M8VGIJCVF
 - 4. JAQZGIA8M

Question ID : 65497828360

Status : Answered

Chosen Option : 4

Q.25 आठ मित्र, A, B, C, D, E, F, G और H, सभी एक सीधी रेखा में उत्तर की ओर मुख करके बैठे हैं। F, D और G के बीच बैठा है। B, H और A के बीच बैठा है। E, G के बाईं ओर तीसरे स्थान पर है। G एक सिरे पर बैठा है। H, C के बाईं ओर तीसरे स्थान पर है। A और E के बीच कौन बैठा है?

- Ans
- 1. D
 - 2. B
 - 3. C
 - 4. H

Question ID : 65497828344
Status : Answered
Chosen Option : 3

Section : Part B General Knowledge and General Awareness

Q.1 केंद्रीय शिक्षा मंत्री ने 5 सितंबर 2020 को _____ नामक एक निःशुल्क मोबाइल ऐप लॉन्च किया।

- Ans
- 1. Duolingo (ड्युओलिंगो)
 - 2. EnglishPro (इंग्लिश प्रो)
 - 3. Hello Talk (हेलो टॉक)
 - 4. Beelinguapp (बिलिंगुऐप)

Question ID : 65497828387
Status : Not Answered
Chosen Option : --

Q.2 α कण _____ के द्विआवेशित (Doubly Charged) आयन होते हैं।

- Ans
- 1. बेरीलियम
 - 2. हाइड्रोजन
 - 3. हीलियम
 - 4. लीथियम

Question ID : 65497828369
Status : Answered
Chosen Option : 2

Q.3 2011-2012 में की गई गणनाओं के अनुसार, ग्रामीण भारत के व्यक्तियों के लिए गरीबी रेखा _____ प्रति माह तय की गई थी।

- Ans
- 1. ₹816
 - 2. ₹752
 - 3. ₹687
 - 4. ₹1,000

Question ID : 65497828372
Status : Answered
Chosen Option : 2

Q.4 भारतीय संविधान का कौन सा अनुच्छेद सहकारी समितियों (co-operative societies) के संवर्धन से संबंधित है?

- Ans
- 1. 31B
 - 2. 43B
 - 3. 43A
 - 4. 31A

Question ID : 65497828376
Status : Answered
Chosen Option : 2