

Constable GD in CAPFs NIA SSF and Rifleman GD in Assam Rifles Examination 2021

Roll Number	
Candidate Name	
Venue Name	iON Digital Zone iDZ 1 Hathipur
Exam Date	15/12/2021
Exam Time :	12:30 PM - 2:00 PM
Subject	Constable GD 2021

Section : Part A General Intelligence and Reasoning

Q.1 उस विकल्प का चयन कीजिए, जिसका चौथी संख्या से वही संबंध है, जो पहली संख्या का दूसरी संख्या से है और पांचवीं संख्या का छठी संख्या से है।

26 : 6 :: ? : 11 :: 37 : 7

Ans 1. 101

2. 82

3. 145

4. 122

Question ID : 65497834312

Status : Answered

Chosen Option : 1

Q.2 आठ लड़कियां, K, L, M, N, O, P, Q और R, दो पंक्तियों में बैठी हैं, प्रत्येक पंक्ति में चार लड़कियां हैं। दोनों पंक्तियां एक ही दिशा की ओर अभिमुख हैं। एक पंक्ति दूसरी पंक्ति के पीछे है। K एक सिरे पर है और P के बाईं ओर ठीक बगल में है। O, M के बाईं ओर ठीक बगल में है। K और R के बीच में दो लड़कियां बैठी हैं। L, P के ठीक पीछे है। O, L और M के बीच में है। N आगे वाली पंक्ति में नहीं है। P और R के बीच में कौन बैठा है?

Ans 1. Q

2. L

3. N

4. M

Question ID : 65497834311

Status : Answered

Chosen Option : 1



Download SSC CGL, CHSL E-BOOKS

[CLICK HERE](#)

Q.3 उस विकल्प का चयन कीजिए जो नीचे दी गई आकृति में सन्निहित है (आकृति को घुमाने की अनुमति नहीं है)।



Ans



Question ID : 65497834315

Status : Answered

Chosen Option : 3

Q.4 दिए गए कथनों और निष्कर्षों को ध्यानपूर्वक पढ़ें। कथनों में दी गई जानकारी को सत्य मानते हुए विचार करें, भले ही वह सामान्यतः ज्ञात तथ्यों से भिन्न प्रतीत होती हो, और बताएं कि दिए गए निष्कर्षों में से कौन से, कथनों का तार्किक रूप से पालन करते हैं?

कथन:

कुछ गुलाब, पैंसी हैं।

कुछ लिली, पैंसी हैं।

सभी गुलाब, डेज़ी हैं।

निष्कर्ष:

I. कुछ गुलाब, लिली हैं।

II. सभी पैंसी, डेज़ी हैं।

Ans 1. न तो निष्कर्ष I और न ही निष्कर्ष II पालन करता है।

2. केवल निष्कर्ष II पालन करता है।

3. निष्कर्ष I और II दोनों ही पालन करते हैं।

4. केवल निष्कर्ष I पालन करता है।

Question ID : 65497834322

Status : Answered

Chosen Option : 1

Q.5 एक लड़के के फोटोग्राफ की ओर इशारा करते हुए आदित्य ने कहा, "वह मेरी सास की इकलौती पुत्री का इकलौता पुत्र है।" उस लड़के का आदित्य से क्या संबंध है?

Ans 1. भतीजा

2. साला

3. पुत्र

4. ससुर

Question ID : 65497834328

Status : Answered

Chosen Option : 3



Download SSC CGL, CHSL E-BOOKS

[CLICK HERE](#)

Q.6 'औषधियों' का 'औषधालय' से वही संबंध है, जो 'ऐतिहासिक वस्तुओं' का ' _____ ' से है।

- Ans
- 1. संस्कृति
 - 2. संग्रहालय
 - 3. उद्योग
 - 4. वास्तुकला

Question ID : 65497834309
Status : Answered
Chosen Option : 2

Q.7 एक निश्चित कूट भाषा में, 'TONIC' को 'UPOJDB' लिखा जाता है, और 'PRINT' को 'QSJOUS' लिखा जाता है। उसी कूट भाषा में 'SUPER' को किस प्रकार लिखा जाएगा?

- Ans
- 1. TVQFSQ
 - 2. TVFQSQ
 - 3. TUQSQF
 - 4. TVQFST

Question ID : 65497834327
Status : Answered
Chosen Option : 1

Q.8 चार अक्षर-समूह दिए गए हैं, जिनमें से तीन किसी तरह से संगत हैं और एक असंगत है। उस अक्षर-समूह का चयन करें, जो अन्य से असंगत है।

- Ans
- 1. LPU
 - 2. MMV
 - 3. DSE
 - 4. AMU

Question ID : 65497834329
Status : Answered
Chosen Option : 2

Q.9 दिए गए पैटर्न का ध्यानपूर्वक अध्ययन करें और उस संख्या का चयन करें, जो इसमें प्रश्न चिह्न (?) के स्थान पर आ सकती है।

26 19 12
32 ? 16
23 20 17

- Ans
- 1. 24
 - 2. 28
 - 3. 32
 - 4. 15

Question ID : 65497834323
Status : Answered
Chosen Option : 1



Q.10 दिए गए विकल्पों में से उस अक्षर समूह का चयन कीजिए, जो निम्न श्रृंखला में प्रश्न चिह्न (?) के स्थान पर आ सकता है।

NKY, LHU, JEQ, ?, FYI

Ans 1. GAO

2. HBM

3. IBN


4. HCN

Question ID : 65497834308

Status : Answered

Chosen Option : 2

Q.11 दिए गए विकल्पों में से उस आकृति का चयन करें जो निम्नलिखित श्रृंखला में प्रश्न चिह्न (?) के स्थान पर आ सकती है।



Ans

1.



2.



3.



4.



Question ID : 65497834320

Status : Answered

Chosen Option : 3



Download SSC CGL, CHSL E-BOOKS

[CLICK HERE](#)

Q.12 उस सही विकल्प का चयन करें, जो दिए गए शब्दों के उस क्रम को दर्शाता है, जिसमें वे अंग्रेज़ी शब्दकोश में मौजूद होते हैं।

1. Patent
2. Patient
3. Patience
4. Paternalism
5. Patella

- Ans
- 1. 5, 4, 1, 3, 2
 - 2. 5, 1, 2, 3, 4
 - 3. 5, 1, 4, 3, 2
 - 4. 1, 4, 2, 3, 5

Question ID : 65497834317

Status : Answered

Chosen Option : 3

Q.13 किसी कूट भाषा में, LOTUS को NMVSU लिखा जाता है। उसी कूट भाषा में TULIP को किस प्रकार लिखा जाएगा?

- Ans
- 1. UVMJQ
 - 2. VWNKR
 - 3. UTMHQ
 - 4. VSNGR

Question ID : 65497834321

Status : Answered

Chosen Option : 4

Q.14 यदि दर्पण को 'PQ' पर रखा गया हो, तो दिए गए संयोजन के सही दर्पण प्रतिबिंब का चयन करें।

NUMERICAL
P
|
Q

- Ans
- 1. IANIREMUN
 - 2. INNMEKICVI
 - 3. INNMIKICVI
 - 4. IANIRECAL

Question ID : 65497834332

Status : Answered

Chosen Option : 1



Q.15 छह मित्र, A, B, C, D, E और F, एक वृत्ताकार मेज के परितः केंद्र की ओर मुख करके बैठे हैं। D, B के दाईं ओर तीसरे स्थान पर है। F, D के दाईं ओर ठीक बगल में बैठा है। C, D और E के बीच में बैठा है। B और F के बीच में कौन बैठा है?

- Ans
- 1. A
 - 2. C
 - 3. D
 - 4. E

Question ID : 65497834310
Status : Answered
Chosen Option : 1

Q.16 उस अक्षर-समूह का चयन कीजिए जिसका तीसरे अक्षर-समूह से वही संबंध है जो दूसरे अक्षर-समूह का पहले अक्षर-समूह से है।

BGL : HNT :: EIM : ?





- Ans
- 1. JLP
 - 2. QTX
 - 3. KPU
 - 4. ILN

Question ID : 65497834326
Status : Answered
Chosen Option : 3

Q.17 उस वेन आरेख का चयन कीजिए जो निम्न वर्गों के संबंध का सर्वश्रेष्ठ निरूपण करता है।

माताएँ, बेटियाँ, महिलाएँ

Ans

- 1. 
- 2. 
- 3. 
- 4. 


Question ID : 65497834316
Status : Answered
Chosen Option : 3

Q.18 नीचे दी गई आकृतियों में कागज के एक टुकड़े को मोड़ने का क्रम और उस मुड़े हुए कागज को काटने का तरीका दर्शाया गया है। इस कागज को खोलने पर यह कैसा दिखेगा?




Ans


✓ 1.




✗ 2.



✗ 3.



✗ 4.



Question ID : 65497834325

Status : Answered

Chosen Option : 1

Q.19 दिए गए विकल्पों में से उस संख्या का चयन करें, जो निम्नलिखित श्रेणी में प्रश्न चिह्न (?) के स्थान पर आ सकती है।

11, 33, 13, 39, 17, ?

Ans ✓ 1. 51

✗ 2. 19

✗ 3. 57

✗ 4. 41

Question ID : 65497834319

Status : Answered

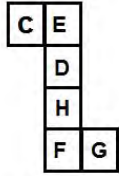
Chosen Option : 1



Download SSC CGL, CHSL E-BOOKS

CLICK HERE

Q.20 दी गई शीट को मोड़कर एक घन बनाया जाता है। इस प्रकार बनाए गए घन में, अक्षरों का कौन सा युग्म इसके विपरीत पृष्ठों पर होगा?



- Ans
- 1. E और H
 - 2. E और D
 - 3. C और H
 - 4. C और F

Question ID : 65497834314
Status : Answered
Chosen Option : 1

Q.21 दिए गए विकल्पों में से उस संख्या का चयन करें, जो निम्नलिखित श्रेणी में प्रश्न चिह्न (?) के स्थान पर आ सकती है।

7, 16, 41, ?, 171, 292

- Ans
- 1. 97
 - 2. 81
 - 3. 90
 - 4. 100

Question ID : 65497834331
Status : Answered
Chosen Option : 3

Q.22 किसी निश्चित कूट भाषा में, 'GLARE' को '201526922' और 'DUST' को '23687' लिखा जाता है। उसी कूट भाषा में 'HYPER' को किस प्रकार लिखा जाएगा?

- Ans
- 1. 19221219
 - 2. 19211229
 - 3. 19122129
 - 4. 19121229

Question ID : 65497834330
Status : Answered
Chosen Option : 2



Q.23 अक्षरों के उस संयोजन का चयन करें, जिसे क्रमबद्ध रूप से दी गई श्रृंखला के रिक्त स्थानों में रखे जाने पर श्रृंखला पूर्ण हो जाएगी।

K U _ _ N K _ Q P _ _ U _ P N

- Ans
- 1. QQPUNK
 - 2. QUPQNK
 - 3. QPUNQK
 - 4. QPUNKQ

Question ID : 65497834318
Status : Answered
Chosen Option : 4

Q.24 किसी संख्या के दो गुने में तीन जोड़ने पर प्राप्त योगफल को 5 से गुणा किया जाता है और प्राप्त गुणनफल को मूल संख्या में जोड़ा जाता है, तो परिणाम 158 प्राप्त होता है। मूल संख्या का वर्ग ज्ञात कीजिए।

- Ans
- 1. 169
 - 2. 225
 - 3. 121
 - 4. 289

Question ID : 65497834324
Status : Answered
Chosen Option : 1

Q.25 दिए गए समीकरण को सही करने के लिए किन दो संख्याओं को आपस में बदला जाना चाहिए?

$$45 + 35 \times 7 - 81 \div 9 = 321$$

- Ans
- 1. 45 और 7
 - 2. 45 और 81
 - 3. 7 और 9
 - 4. 45 और 35

Question ID : 65497834313
Status : Answered
Chosen Option : 2

Section : Part B General Knowledge and General Awareness

Q.1 ऊन उद्योग में छंटाईकर्ता कभी-कभी _____ नामक जीवाणु से संक्रमित हो जाते हैं, जिसके कारण सॉर्टर डिजीज (Sorter's Disease) नामक घातक रक्त रोग हो जाता है।

- Ans
- 1. एंथ्रेक्स
 - 2. एडवर्ड्सियाला
 - 3. एसिटोबैक्टर पासचुरिएनस
 - 4. मेलिटॉगियम बोलेटस

Question ID : 65497834336
Status : Not Answered
Chosen Option : --



Download SSC CGL, CHSL E-BOOKS

CLICK HERE