

Constable GD in CAPFs NIA SSF and Rifleman GD in Assam Rifles Examination 2021

Roll Number	
Candidate Name	
Venue Name	ION Digital Zone iDZ Prabandh Nagar
Exam Date	14/12/2021
Exam Time :	4:00 PM - 5:30 PM
Subject	Constable GD 2021

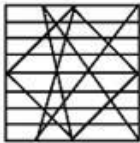
Section : Part A General Intelligence and Reasoning

Q.1 उस विकल्प का चयन करें जिसमें दी गई आकृति अंतर्निहित है, (घुमाने की अनुमति नहीं है)।

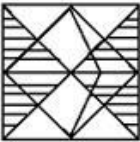


Ans

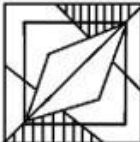
✓ 1.



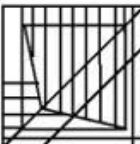
✗ 2.



✗ 3.



✗ 4.



Question ID : 65497834577

Status : Answered

Chosen Option : 1

Q.2 एक निश्चित कूट भाषा में, 'FASHION' को 'NISFAHO' लिखा जाता है। उसी कूट भाषा में 'BLANKET' को किस प्रकार लिखा जाएगा?

Ans ✗ 1. TEKNALB

✓ 2. TKABLNE

✗ 3. ANKBLET

✗ 4. NKETBLA

Question ID : 65497834580

Status : Answered

Chosen Option : 2



Download SSC CGL, CHSL E-BOOKS

[CLICK HERE](#)

Q.3 उस विकल्प का चयन करें, जिसमें दी गई संख्याओं के बीच वही संबंध है, जो दिए गए समूह की संख्याओं के बीच है।

5, 10, 100

Ans 1. 16, 32, 320

2. 12, 36, 160

3. 15, 30, 225

4. 20, 40, 120

Question ID : 65497834584

Status : Answered

Chosen Option : 1

Q.4 उस विकल्प का चयन करें, जिसका तीसरे शब्द से वही संबंध है, जो दूसरे शब्द का पहले शब्द से है।

पालक : पत्तियां :: गाजर : ?

Ans 1. फूल

2. जड़

3. बीज

4. तना

Question ID : 65497834571

Status : Answered

Chosen Option : 2

Q.5 उस विकल्प का चयन करें, जो तीसरे पद से वही संबंध है, जो दूसरे पद का पहले पद से है।

CAMEL : BBLFK :: WORDS : ?

Ans 1. VPQER

2. XNSCT

3. XXSES

4. VVQRE

Question ID : 65497834579

Status : Answered

Chosen Option : 1

Q.6 उस विकल्प का चयन करें, जिसका तीसरी संख्या से वही संबंध है, जो दूसरी संख्या का पहली संख्या से है।

13 : 169 :: 21 : ?

Ans 1. 441

2. 361

3. 256

4. 400

Question ID : 65497834574

Status : Answered

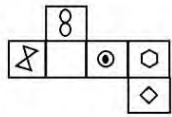
Chosen Option : 1



Download SSC CGL, CHSL E-BOOKS

[CLICK HERE](#)

Q.7 उस बॉक्स का चयन करें, जिसे दी गई शीट को उस पर अंकित रेखाओं के अनुसार मोड़कर बनाया जा सकता है।



Ans

- 1.
- 2.
- 3.
- 4.

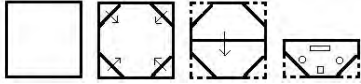
Question ID : 65497834576
Status : Answered
Chosen Option : 3

Q.8 तीन व्यक्ति A, B और C कुल ₹2,60,000 की राशि के साथ एक व्यवसाय शुरू करते हैं। कुल राशि में उनके निवेशों का अनुपात क्रमशः 15 : 18 : 19 है। वे इस वर्ष कुल निवेश पर 12% का लाभ कमाते हैं। लाभ को निवेशों के समान अनुपात में वितरित किया जाना है। C को कितना लाभ होगा?

- Ans 1. ₹11,400
- 2. ₹12,200
 - 3. ₹10,800
 - 4. ₹13,200

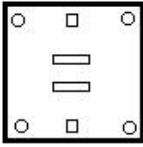
Question ID : 65497834585
Status : Answered
Chosen Option : 1

Q.9 कागज के एक टुकड़े को मोड़ने के क्रम और मुड़े हुए कागज को काटने के तरीके को निम्नलिखित आकृतियों में दर्शाया गया है। खोलने पर, यह कागज कैसा दिखाई देगा?

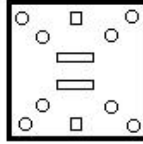


Ans

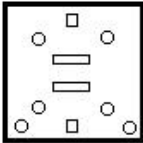
✗ 1.



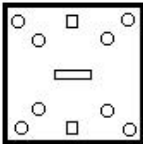
✓ 2.



✗ 3.



✗ 4.



Question ID : 65497834586

Status : Answered

Chosen Option : 2

Q.10 दिए गए विकल्पों में से उस अक्षर-समूह का चयन करें, जो निम्नलिखित श्रृंखला में प्रश्न चिह्न (?) के स्थान पर आ सकता है।

FW, JS, ?, RK, VG

Ans ✗ 1. NP

✓ 2. NO

✗ 3. MP

✗ 4. MO

Question ID : 65497834570

Status : Answered

Chosen Option : 2

Q.11 दिए गए विकल्पों में से उस संख्या का चयन करें, जो निम्नलिखित श्रेणी में प्रश्न चिह्न (?) के स्थान पर आ सकती है।

7, 14, 28, 56, ?

Ans ✓ 1. 112

✗ 2. 72

✗ 3. 90

✗ 4. 150

Question ID : 65497834568

Status : Answered

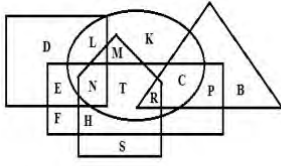
Chosen Option : 1



Download SSC CGL, CHSL E-BOOKS

[CLICK HERE](#)

Q.12 नीचे दी गई आकृति में, वृत्त 'अनुच्छेदों' को निरूपित करता है, त्रिकोण 'काला' को निरूपित करता है, पंचभुज 'पुस्तकों' को निरूपित करता है, वर्ग 'पृष्ठों' को निरूपित करता है, और आयत 'नीला' को निरूपित करता है।



उस अक्षर का चयन करें जो उन नीली पुस्तकों को निरूपित करता है जिनमें पृष्ठ और अनुच्छेद हैं।

- Ans
- 1. M
 - 2. C
 - 3. R
 - 4. N

Question ID : 65497834578
Status : Answered
Chosen Option : 4

Q.13 अक्षरों के उस संयोजन का चयन करें, जिसे क्रमबद्ध रूप से दी गई श्रृंखला के रिक्त स्थानों में रखे जाने पर श्रृंखला पूर्ण हो जाएगी।

_ P G _ _ M P _ _ A _ _ G F A

- Ans
- 1. MAGFMPF
 - 2. MFAGMFP
 - 3. MFAGFMP
 - 4. MFAFGMP

Question ID : 65497834567
Status : Answered
Chosen Option : 3

Q.14 यदि '+' का अर्थ 'x' है, '-' का अर्थ '÷' है, 'x' का अर्थ '-' है, और '÷' का अर्थ '+' है, तो निम्नलिखित में से कौन सा समीकरण सही है?

- Ans
- 1. $42 \times 28 - 30 \div 48 + 45 = 40$
 - 2. $42 \times 28 - 30 \div 48 + 45 = 48$
 - 3. $42 \times 28 - 30 \div 48 + 45 = 45$
 - 4. $42 \times 28 - 30 \div 48 + 45 = 50$

Question ID : 65497834575
Status : Answered
Chosen Option : 2

Q.15 एक निश्चित कूट भाषा में, RINGS को IRNSG लिखा जाता है और PURSE को UPRES लिखा जाता है। उसी कूट भाषा में STORM को किस प्रकार लिखा जाएगा?

- Ans
- 1. MROTS
 - 2. TSOMR
 - 3. UTPNS
 - 4. ORMGH

Question ID : 65497834582
Status : Answered
Chosen Option : 2

Q.16 एक विशिष्ट कूट भाषा में, 'CASTER' को '32619759' लिखा जाता है। उसी कूट भाषा में 'FRIDGE' को किस प्रकार लिखा जाएगा?

- Ans
- 1. 69922721
 - 2. 61894705
 - 3. 61824722
 - 4. 69923722

Question ID : 65497834563
Status : Answered
Chosen Option : 4

Q.17 दिए गए विकल्पों में से उस आकृति का चयन करें जो निम्नलिखित श्रृंखला में प्रश्न चिह्न (?) के स्थान पर आ सकती है।

	%		% # @ # @ S
	#	?	& S %
S @ #	S @		S & S Q

Ans

- 1.

&	%	
@	#	S
- 2.

&		S
#		S
S	@	%
- 3.

&	%	
Q	S	@
- 4.

&	%	#
		@
		S

Question ID : 65497834569
Status : Answered
Chosen Option : 4

Q.18 उस सही विकल्प का चयन करें, जो दिए गए शब्दों के उस क्रम को दर्शाता है, जिसमें वे अंग्रेज़ी शब्दकोश में मौजूद होते हैं।

1. Possibility
2. Possession
3. Posthumous
4. Posterity
5. Possessive

- Ans
- 1. 2, 5, 1, 3, 4
 - 2. 3, 5, 1, 4, 2
 - 3. 2, 5, 3, 4, 1
 - 4. 2, 5, 1, 4, 3

Question ID : 65497834566
Status : Answered
Chosen Option : 4

Q.19 सात व्यक्ति, K, L, M, N, O, P और Q, एक पंक्ति में उत्तर की ओर मुंह करके बैठे हैं। K और M एक साथ बैठे हैं। O पूर्वी सिरे पर है। P, Q और M के बीच में है। Q पंक्ति के मध्य बैठा है। N, O और L के बीच में है। K पश्चिमी सिरे पर बैठा है। पूर्व से पांचवें स्थान पर कौन बैठा है?

- Ans
- 1. M
 - 2. N
 - 3. L
 - 4. P

Question ID : 65497834573
Status : Answered
Chosen Option : 4

Q.20 दिए गए विकल्पों में से उस संख्या का चयन करें, जो निम्नलिखित श्रेणी में प्रश्न चिह्न (?) के स्थान पर आ सकती है।

5, 5, 15, 75, ?, 4725

- Ans
- 1. 525
 - 2. 150
 - 3. 325
 - 4. 385

Question ID : 65497834564
Status : Answered
Chosen Option : 1

Q.21 निम्नलिखित चार अक्षर-समूहों में से तीन किसी तरह से संगत हैं और एक असंगत है। उस अक्षर-समूह का चयन करें, जो असंगत है।

- Ans
- 1. BDFHJ
 - 2. QSUWY
 - 3. JLNPR
 - 4. CEHJK

Question ID : 65497834562
Status : Answered
Chosen Option : 4

Q.22 जब दर्पण को दिए गए संयोजन के दाईं ओर रखा जाता है, तो संयोजन के सही दर्पण प्रतिबिंब का चयन करें।

4 7 6 Y f Q

- Ans
- 1.
 - 2.
 - 3.
 - 4.

Question ID : 65497834565
Status : Answered
Chosen Option : 3

Q.23 दिए गए कथनों और निष्कर्षों को ध्यानपूर्वक पढ़ें। कथनों में दी गई जानकारी को सत्य मानते हुए विचार करें, भले ही वह सामान्यतः ज्ञात तथ्यों से भिन्न प्रतीत होती हो, और तय करें कि दिए गए निष्कर्षों में से कौन से कथनों का तार्किक रूप से पालन करते हैं।

कथन:

कुछ रानियाँ, राजा हैं।
सभी राजा अधिकारी हैं।
कोई अधिकारी आर्किटेक्ट नहीं है।

निष्कर्ष:

I. कुछ अधिकारी रानियाँ हैं।
II. कोई राजा आर्किटेक्ट नहीं है।

- Ans
- 1. केवल निष्कर्ष I पालन करता है।
 - 2. दोनों ही निष्कर्ष पालन करते हैं।
 - 3. या तो निष्कर्ष I या II पालन करता है।
 - 4. केवल निष्कर्ष II पालन करता है।

Question ID : 65497834583

Status : Answered

Chosen Option : 2

Q.24 J और K सहोदर हैं। M, J का मामा है। S, K की नानी है। A, S की इकलौती बेटी है। A का M से क्या संबंध है?

- Ans
- 1. भाई
 - 2. चचेरे/ममेरे/फुफेरे/मौसेरे-भाई/बहन
 - 3. बहन
 - 4. भाभी/साली

Question ID : 65497834581

Status : Answered

Chosen Option : 3

Q.25 एक पंक्ति में, मनु बाई ओर से 14वें स्थान पर है और सैम दाई ओर से 9वें स्थान पर है। यदि वे आपस में अपने स्थान बदल लेते हैं, तो सैम दाई ओर से 12वें स्थान पर आ जाता है। पंक्ति में उपस्थित व्यक्तियों की कुल संख्या ज्ञात करें।

- Ans
- 1. 25
 - 2. 28
 - 3. 20
 - 4. 30

Question ID : 65497834572

Status : Answered

Chosen Option : 1

Section : Part B General Knowledge and General Awareness

Q.1 _____ का मुख्यालय जिनेवा में स्थित है।

- Ans
- 1. यूनिसेफ (UNICEF)
 - 2. यूनेस्को (UNESCO)
 - 3. अंतर्राष्ट्रीय मुद्रा कोष (IMF)
 - 4. विश्व व्यापार संगठन (WTO)

Question ID : 65497834592

Status : Answered

Chosen Option : 4



Download SSC CGL, CHSL E-BOOKS

CLICK HERE