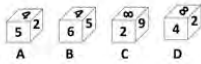
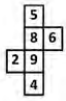


## Constable GD in CAPFs NIA SSF and Rifleman GD in Assam Rifles Examination 2021

Roll Number	
Candidate Name	
Venue Name	Informatic Computer Education. Patliputra
Exam Date	14/12/2021
Exam Time :	12:30 PM - 2:00 PM
Subject	Constable GD 2021

### Section : Part A General Intelligence and Reasoning

Q.1 उस पासे का चयन करें, जिसे निम्नांकित पत्रक (शीट) को रेखाओं पर मोड़ने पर प्राप्त किया जा सकता है।



- Ans
- 1. केवल C और D
  - 2. केवल C
  - 3. B, C और D
  - 4. केवल D

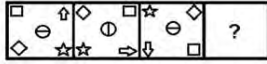
Question ID : 65497831532  
Status : Answered  
Chosen Option : 2

Q.2 एक निश्चित कूट भाषा में, REWARI को 185231189 के रूप में लिखा जाता है। उस भाषा में, SIRSA को कैसे लिखा जाएगा?

- Ans
- 1. 19919118
  - 2. 11819199
  - 3. 19918191
  - 4. 11819919

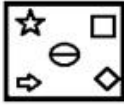
Question ID : 65497831523  
Status : Answered  
Chosen Option : 3

**Q.3** दिए गए विकल्पों में से उस आकृति का चयन कीजिए जो निम्नांकित आकृति श्रेणी में प्रश्नवाचक चिह्न (?) के स्थान पर आ सकती है।

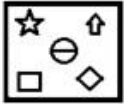


Ans

✗ 1.



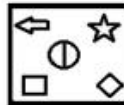
✗ 2.



✗ 3.



✓ 4.



Question ID : 65497831528

Status : Answered

Chosen Option : 4

**Q.4** यदि '+' का अर्थ 'x', '-' का अर्थ '÷', '÷' का अर्थ 'x' और 'x' का अर्थ '-' है, तो निम्नलिखित व्यंजक का मान कितना होगा?

$$(11 + 5 \times 18) - 8 \div 17$$

Ans

✗ 1. 55

✗ 2. 52

✗ 3. 53

✓ 4. 51

Question ID : 65497831531

Status : Answered

Chosen Option : 4

**Q.5** उस विकल्प का चयन करें, जिसमें दी गई संख्याओं के बीच वही संबंध है, जो दिए गए समुच्चय की संख्याओं के बीच है।

12, 168, 7

Ans

✗ 1. 11, 145, 17

✓ 2. 14, 448, 16

✗ 3. 15, 180, 12

✗ 4. 18, 240, 10

Question ID : 65497831536

Status : Answered

Chosen Option : 2

Q.6 दिए गए संयोजन के सही दर्पण प्रतिबिंब का चयन करें, जब दर्पण को दिखाए गए अनुसार PQ पर रखा गया है।

E G P T B N

- Ans
- ✓ 1. N B T P Q E
  - ✗ 2. N G P T B E
  - ✗ 3. E G P T B N
  - ✗ 4. N B T P Q E

Question ID : 65497831521  
Status : Answered  
Chosen Option : 1

Q.7 उस विकल्प का चयन करें, जो दिए गए चित्र में अंतर्निहित है (घुमाने की अनुमति नहीं है)।



- Ans
- ✗ 1.
  - ✗ 2.
  - ✓ 3.
  - ✗ 4.

Question ID : 65497831533  
Status : Answered  
Chosen Option : 3

Q.8 'चूल्हे' का जो संबंध 'पकाने' से है वही संबंध 'चाकू' का '\_\_\_\_\_' से है।

- Ans
- ✗ 1. बनाने (मेकिंग)
  - ✗ 2. चित्र (पेंटिंग)
  - ✗ 3. इंग्लरी (प्रेटिंग)
  - ✓ 4. काटने (चॉपिंग)

Question ID : 65497831515  
Status : Answered  
Chosen Option : 4

Q.9 किसी कूट भाषा में, TATA को 401202 के रूप में लिखा जाता है। उसी भाषा में TITAN को किस प्रकार से लिखा जाएगा?

- Ans  1. 40920128  
 2. 20401982  
 3. 40920821  
 4. 20408219

Question ID : 65497831519  
Status : Answered  
Chosen Option : 1

Q.10 दिए गए कथनों और निष्कर्षों को ध्यानपूर्वक पढ़ें। कथनों में दी गई जानकारी को सत्य मानते हुए विचार करें, भले ही वह सामान्यतः ज्ञात तथ्यों से भिन्न प्रतीत होती हो, और तय करें कि दिए गए निष्कर्षों में से कौन-सा/ से कथनों का तार्किक रूप से पालन करता है/करते हैं?

कथन:  
सभी केयरटेकर कुशल हैं।  
कुछ कुशल वकील हैं।  
सभी कुशल चित्रकार हैं।

निष्कर्ष:  
I. कुछ चित्रकार वकील हैं।  
II. कोई भी चित्रकार वकील नहीं है।

- Ans  1. केवल निष्कर्ष I पालन करता है।  
 2. दोनों ही निष्कर्ष पालन करते हैं।  
 3. केवल निष्कर्ष II पालन करता है।  
 4. या तो निष्कर्ष I या II पालन करता है।

Question ID : 65497831535  
Status : Answered  
Chosen Option : 1

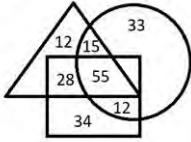
Q.11 अक्षरों के उस संयोजन का चयन करें जिसे दी गई श्रेणी में रिक्त स्थानों पर क्रमिक रूप से रखने पर श्रेणी पूर्ण हो जाएगी।

bi\_h\_h\_is\_ohb\_sh\_h

- Ans  1. sobhio  
 2. shoboi  
 3. shobio  
 4. sohboi

Question ID : 65497831526  
Status : Answered  
Chosen Option : 1

Q.12 दिए गए वेन आरेख में, आयत 'नीले नेत्र वाले लोगों' को दर्शाता है, त्रिभुज 'छह उंगलियों वाले लोगों' को दर्शाता है और वृत्त 'डिंपल वाले लोगों' को दर्शाता है।



जिन लोगों की छह उंगलियाँ और नीले नेत्र हैं पर कोई डिंपल नहीं है, की संख्या A है और यदि छह उंगलियों वाले लोगों, जिनके डिंपल हैं पर नीले नेत्र नहीं हैं, की संख्या B है। A और B का योग कितना है?

- Ans
- 1. 70
  - 2. 40
  - 3. 67
  - 4. 43

Question ID : 65497831517  
Status : Answered  
Chosen Option : 1

Q.13 उस विकल्प का चयन करें जो तीसरे पद से ठीक उसी प्रकार से संबंधित है जैसे दूसरा पद पहले पद से संबंधित है।

ROPE : VSTI :: BOSE : ?

- Ans
- 1. SFIW
  - 2. IWSF
  - 3. ISWF
  - 4. FSWI

Question ID : 65497831522  
Status : Answered  
Chosen Option : 4

Q.14 दिए गए विकल्पों में से उस अक्षर-समूह का चयन करें जो निम्नलिखित श्रृंखला में प्रश्नवाचक चिह्न (?) के स्थान पर आ सकता है।

BHO, GMT, LRY, ?

- Ans
- 1. HMT
  - 2. QWD
  - 3. DJL
  - 4. IOU

Question ID : 65497831514  
Status : Answered  
Chosen Option : 2

Q.15 यदि 27 मई 2007 को रविवार है, तो 25 मई 2018 को सप्ताह का कौन सा दिन होगा?

- Ans
- 1. गुरुवार
  - 2. रविवार
  - 3. शुक्रवार
  - 4. शनिवार

Question ID : 65497831537  
Status : Answered  
Chosen Option : 3



Download SSC CGL, CHSL E-BOOKS

[CLICK HERE](#)

Q.16 दिए गए विकल्पों में से उस संख्या का चयन कीजिए जो दी गई श्रृंखला में प्रश्न चिह्न (?) के स्थान पर प्रतिस्थापित हो सकती है।

38, 120, 366, ?

Ans  1. 1104

2. 1101

3. 1103

4. 1102

Question ID : 65497831520

Status : Answered

Chosen Option : 1

Q.17 उस सही विकल्प का चयन कीजिए जो दिए गए शब्दों के उस क्रम को दर्शाता है जिस क्रम में वे अंग्रेजी शब्दकोश में आते हैं।

1. Creepy
2. Cremate
3. Creosote
4. Crescendo
5. Crescent

Ans  1. 2, 5, 1, 4, 3

2. 1, 3, 2, 5, 4

3. 3, 5, 4, 1, 2

4. 1, 2, 3, 4, 5

Question ID : 65497831525

Status : Answered

Chosen Option : 4

Q.18 दिए गए चार अक्षर-समूहों में से तीन एक निश्चित प्रकार से समान हैं, जबकि एक भिन्न है। उस भिन्न अक्षर-समूह का चयन करें।

Ans  1. GHE

2. BJP

3. LUX

4. OWL

Question ID : 65497831518

Status : Answered

Chosen Option : 1

Q.19 नौ मित्र A, B, C, D, E, F, G, H और I उत्तर की ओर मुँह किए एक पंक्ति में बैठे हैं। A, H के बाएँ दूसरा है। H, B के बाएँ दूसरे स्थान पर है। B पंक्ति के एक छोर पर है। F, A और H के बीच में है। D, I और C के बीच में है। C, E के दाएँ तीसरे स्थान पर है। पंक्ति के बीच में कौन है?

Ans  1. C

2. F

3. G

4. A

Question ID : 65497831529

Status : Answered

Chosen Option : 4



Download SSC CGL, CHSL E-BOOKS

[CLICK HERE](#)

Q.20 पांच मित्र एक लाइन में उत्तर दिशा की ओर अभिमुख होकर खड़े हैं। लाइन में दोनों छोरों पर वकील और जज़ खड़े हैं। वैज्ञानिक ठीक शिक्षक के दाईं ओर पड़ोस में खड़ा है। फार्मसिस्ट, जज़ के बाईं ओर खड़ा है। शिक्षक ठीक वकील और वैज्ञानिक के बीच में खड़ा है। बाईं ओर से गणना करने पर, वैज्ञानिक किस स्थान पर खड़ा है?

- Ans
- 1. पांचवे
  - 2. पहले
  - 3. तीसरे
  - 4. चौथे

Question ID : 65497831516  
Status : Answered  
Chosen Option : 3

Q.21 एक निश्चित कूट भाषा में, TEMPER को QBJMBO लिखा जाता है। उसी कूट भाषा में POSTED को किस प्रकार लिखा जाएगा?

- Ans
- 1. MLOQBB
  - 2. MLQQCA
  - 3. MMPQCA
  - 4. MLPQBA

Question ID : 65497831534  
Status : Answered  
Chosen Option : 4

Q.22 नीरज ने एक महिला की तस्वीर की ओर इशारा किया और कहा, “वह मेरे दादाजी के इकलौते पुत्र की पुत्री है। तस्वीर में दिखने वाली महिला के साथ नीरज का क्या संबंध है?

- Ans
- 1. भाई
  - 2. ससुर
  - 3. पिताजी
  - 4. चाचा

Question ID : 65497831524  
Status : Answered  
Chosen Option : 1

Q.23 उस विकल्प का चयन करें, जिसमें संख्या-युग्म के बीच वही संबंध है, जो निम्नांकित संख्या-युग्म के बीच है।

36 : 221

- Ans
- 1. 21 : 132
  - 2. 26 : 150
  - 3. 43 : 263
  - 4. 32 : 288

Question ID : 65497831530  
Status : Answered  
Chosen Option : 1



Download SSC CGL, CHSL E-BOOKS

[CLICK HERE](#)

Q.24 दिए गए विकल्पों में से उस संख्या का चयन कीजिए जो निम्न श्रेणी में प्रश्नवाचक चिह्न (?) के स्थान पर आएगी।

105, 102, 96, 87, 75, ?

Ans  1. 60

2. 35

3. 55

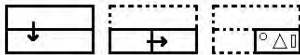
4. 45

Question ID : 65497831527

Status : Answered

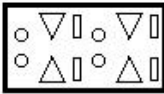
Chosen Option : 1

Q.25 कागज के एक टुकड़े को मोड़ने के क्रम और मुड़े हुए कागज को काटने के तरीके को निम्नलिखित आकृतियों में दर्शाया गया है। खोलने पर, यह कागज कैसा दिखाई देगा?

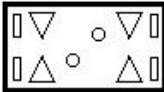


Ans

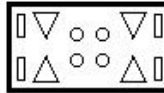
1.



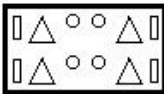
2.



3.



4.



Question ID : 65497831538

Status : Answered

Chosen Option : 3

Section : Part B General Knowledge and General Awareness

Q.1 भारत के संविधान में कितनी अनुसूचियों का उल्लेख है?

Ans  1. 23

2. 34

3. 12

4. 45

Question ID : 65497831549

Status : Answered

Chosen Option : 3

Q.2 अंतरराष्ट्रीय क्रिकेट परिषद (ICC) के नए स्वतंत्र अध्यक्ष ग्रेग बार्कले निम्नलिखित में से किस देश से संबंधित हैं?

Ans  1. ऑस्ट्रेलिया

2. इंग्लैंड

3. दक्षिण अफ्रीका

4. न्यूज़ीलैंड

Question ID : 65497831546

Status : Answered

Chosen Option : 4