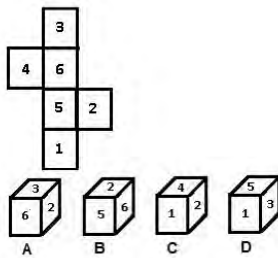


## Constable GD in CAPFs NIA SSF and Rifleman GD in Assam Rifles Examination 2021

Roll Number	
Candidate Name	
Venue Name	iON Digital Zone iDZ Kanti
Exam Date	14/12/2021
Exam Time :	9:00 AM - 10:30 AM
Subject	Constable GD 2021

Section : **Part A General Intelligence and Reasoning**

**Q.1** विकल्पों में से उन बॉक्स का चयन कीजिए जिन्हें निम्नांकित शीट को रेखाओं पर मोड़ने से प्राप्त किया जा सकता है।



- Ans**
- 1. A और C
  - 2. A और B
  - 3. केवल D
  - 4. केवल A

Question ID : 65497829739  
Status : Answered  
Chosen Option : 2

**Q.2** एक विशिष्ट कूट भाषा में, 'PROTECTION' को 'QQPSFBUHPM' लिखा जाता है। इस कूट भाषा में 'ABSOLUTELY' को क्या लिखा जाएगा?

- Ans**
- 1. ZCTNVQMGNT
  - 2. BATNMTUDMX
  - 3. BATMNUTDMX
  - 4. ABTNUMAMDX

Question ID : 65497829748  
Status : Answered  
Chosen Option : 2

Q.3 एक पंक्ति में बैठे विल्सन, पीटर, याग्निक और ज़ोहरा टीवी देख रहे हैं। याग्निक, ज़ोहरा के बाईं ओर बैठा है, जो विल्सन के बाईं ओर है। याग्निक के बाईं ओर कौन है, यदि वह पंक्ति के किसी भी छोर पर नहीं बैठा है?

- Ans
- 1. विल्सन
  - 2. पीटर
  - 3. ज़ोहरा
  - 4. याग्निक

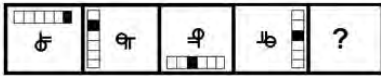
Question ID : 65497829736  
Status : Answered  
Chosen Option : 2

Q.4 पाँच व्यक्ति, A, B, C, D और E एक पंचभुजाकार मेज़ के एक-एक कोने पर मेज़ के केंद्र की ओर मुँह करके बैठे हैं। C, A की दाईं ओर और D की बाईं ओर दूसरे स्थान पर है। E, A और D के बीच नहीं है। E की बाईं ओर तीसरे स्थान पर कौन बैठा है?

- Ans
- 1. B
  - 2. D
  - 3. C
  - 4. A

Question ID : 65497829746  
Status : Answered  
Chosen Option : 1

Q.5 दिए गए विकल्पों में से उस आकृति का चयन कीजिए, जो निम्न आकृति श्रृंखला में प्रश्नवाचक चिन्ह (?) के स्थान पर आ सकती है।



Ans

- 1.
- 2.
- 3.
- 4.

Question ID : 65497829760  
Status : Answered  
Chosen Option : 4



Download SSC CGL, CHSL E-BOOKS

[CLICK HERE](#)

Q.6 एक कक्षा में, 48 लड़के ऐसे हैं जिनकी लंबाई 157 cm से अधिक है। यदि यह संख्या कुल लड़कों की संख्या की  $\frac{4}{5}$  है, और लड़कों की संख्या कुल छात्रों की संख्या की  $\frac{3}{4}$  है, तो कक्षा में लड़कियों की संख्या कितनी है?

Ans  1. 20

2. 60

3. 45

4. 80

Question ID : 65497829751

Status : Answered

Chosen Option : 1

Q.7 यदि 'a', 'x' को निरूपित करता है, 'b', '+' को निरूपित करता है, 'c', '-' को निरूपित करता है और 'd', '\*' को निरूपित करता है, तो निम्न व्यंजक का मान ज्ञात करें।

55a5b5c5d3

Ans  1. 52

2. 51

3. 53

4. 54

Question ID : 65497829738

Status : Answered

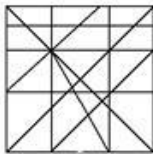
Chosen Option : 3

Q.8 उस विकल्प का चयन करें जिसमें दी गई आकृति अंतर्निहित है (घुमाने की अनुमति नहीं है)।

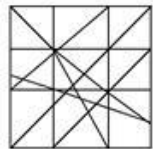


Ans

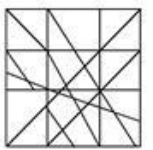
1.



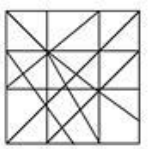
2.



3.



4.



Question ID : 65497829740

Status : Answered

Chosen Option : 3



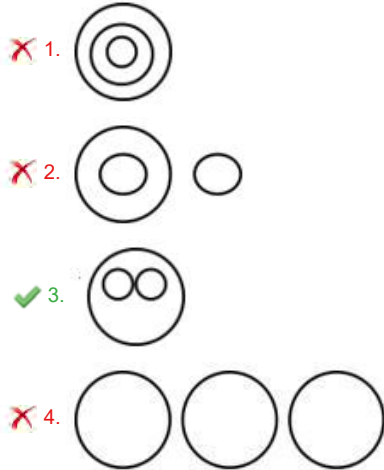
Download SSC CGL, CHSL E-BOOKS

[CLICK HERE](#)

Q.9 उस वेन आरेख का चयन करें जो निम्नलिखित वर्गों के बीच संबंध को सर्वोत्तम ढंग से निरूपित करता है।

समुद्री जीव-जंतु, झींगा, वॉलरस

Ans



Question ID : 65497829747

Status : Answered

Chosen Option : 2

Q.10 दिए गए विकल्पों में से उस अक्षर-समूह का चयन करें जो निम्नलिखित श्रृंखला में प्रश्न चिह्न (?) के स्थान पर आ सकता है।

FJNR, CGKO, IMQU, ?

Ans

- 1. FJMR
- 2. DHLU
- 3. KOSX
- 4. LPTX

Question ID : 65497829744

Status : Answered

Chosen Option : 1

Q.11 दिए गए कथनों और निष्कर्षों को ध्यानपूर्वक पढ़ें। आपको कथनों में दी गई जानकारी को सही मान कर चलना है, भले ही वो सामान्य ज्ञात तथ्यों से भिन्न प्रतीत होती हो, और फिर निर्णय कीजिए कि दिए गए निष्कर्षों में से कौन सा/से निष्कर्ष कथनों का तार्किक रूप से अनुसरण करता है (करते हैं)।

कथन :

- I) कुछ दंत चिकित्सक सर्जन हैं।
- II) सभी सर्जन डॉक्टर हैं।

निष्कर्ष :

- I) कुछ दंत चिकित्सक डॉक्टर हैं।
- II) कोई भी सर्जन दंत चिकित्सक नहीं है।

Ans

- 1. निष्कर्ष I और II दोनों अनुसरण करते हैं।
- 2. केवल निष्कर्ष II अनुसरण करता है।
- 3. न तो निष्कर्ष I और न ही निष्कर्ष II अनुसरण करता है।
- 4. केवल निष्कर्ष I अनुसरण करता है।

Question ID : 65497829749

Status : Answered

Chosen Option : 4



Download SSC CGL, CHSL E-BOOKS

CLICK HERE

Q.12 दी गई आकृति के सही दर्पण प्रतिबिंब का चयन कीजिए, जबकि दर्पण को इसकी दाईं ओर रखा गया है।



Ans

1.



2.



3.



4.



Question ID : 65497829756

Status : Answered

Chosen Option : 4

Q.13 उस सही विकल्प का चयन कीजिए, जो दिए गए शब्दों के उस क्रम को दर्शाता है, जिस क्रम में वे अंग्रेज़ी शब्दकोश में मौजूद होते हैं।

1. Court
2. Course
3. Courteous
4. Count
5. Courage

Ans

1. 3, 5, 2, 1, 4

2. 4, 2, 5, 1, 3

3. 4, 5, 2, 3, 1

4. 4, 5, 2, 1, 3

Question ID : 65497829757

Status : Answered

Chosen Option : 4

Q.14 'कलम' का 'स्याही' से वही संबंध है, जो संबंध 'सुई' का '\_\_\_\_\_ ' से है।

Ans

1. सिलाई

2. धागे

3. प्रतिरूप

4. कपड़े

Question ID : 65497829745

Status : Answered

Chosen Option : 2



Download SSC CGL, CHSL E-BOOKS

[CLICK HERE](#)

Q.15 दिए गए पैटर्न का ध्यानपूर्वक अध्ययन करें, और उस संख्या का चयन करें जो इसमें प्रश्नवाचक चिह्न (?) के स्थान पर आ सकती है।

9 10 13  
8 12 14  
43 54 ?

- Ans  1. 65  
 2. 67  
 3. 59  
 4. 78

Question ID : 65497829750  
Status : Answered  
Chosen Option : 2

Q.16 एक निश्चित कूट भाषा में SINGER को 42-30 लिखा जाता है और GOALEE को 23-22 लिखा जाता है। उसी कूट भाषा में FLEXEN को किस प्रकार लिखा जाएगा?

- Ans  1. 19-66  
 2. 25-44  
 3. 23-43  
 4. 25-49

Question ID : 65497829754  
Status : Answered  
Chosen Option : 3

Q.17 दिए गए विकल्पों में से उस संख्या का चयन कीजिए, जो निम्नलिखित श्रेणी में प्रश्नवाचक चिह्न (?) के स्थान पर आ सकती है।

30, 41, 57, 78, 104, 135, ?

- Ans  1. 240  
 2. 171  
 3. 215  
 4. 202

Question ID : 65497829759  
Status : Answered  
Chosen Option : 2

Q.18 दिए गए विकल्पों में से उस संख्या का चयन कीजिए, जो निम्नलिखित श्रेणी में प्रश्नवाचक चिह्न (?) के स्थान पर आ सकती है।

28, 14, 14, 21, 42, 105, ?

- Ans  1. 210  
 2. 305  
 3. 315  
 4. 255

Question ID : 65497829755  
Status : Answered  
Chosen Option : 1

Q.19 उस विकल्प का चयन कीजिए जो तीसरी संख्या से उसी तरह से संबंधित है जैसे दूसरी संख्या पहली संख्या से संबंधित है और छठी संख्या पाँचवीं संख्या से संबंधित है।

78 : 87 :: 43 : ? :: 65 : 56

Ans  1. 33

2. 34

3. 44

4. 45

Question ID : 65497829737

Status : Answered

Chosen Option : 2

Q.20 उस विकल्प का चयन करें जो चौथे अक्षर-समूह से उसी प्रकार संबंधित है जिस प्रकार पहला अक्षर-समूह, दूसरे अक्षर-समूह से संबंधित है।

AF : GL :: ? : SX

Ans  1. MR

2. HJ

3. RM

4. MN

Question ID : 65497829741

Status : Answered

Chosen Option : 1

Q.21 चार अक्षर-समूह दिए गए हैं, जिनमें से तीन किसी तरह से संगत हैं और एक असंगत है। उस अक्षर-समूह का चयन करें, जो अन्य से असंगत है।

Ans  1. CXTP

2. TOJE

3. NIDY

4. RMHC

Question ID : 65497829753

Status : Answered

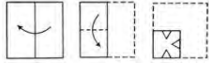
Chosen Option : 1



Download SSC CGL, CHSL E-BOOKS

[CLICK HERE](#)

**Q.22** निम्नांकित चित्रों में एक कागज को मोड़ने के क्रम और मुड़े हुए कागज को काटने का तरीका दर्शाया गया है। मुड़े हुए कागज को खोलने पर यह कैसा दिखाई देगा?



**Ans**

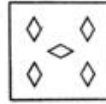
✓ 1.



✗ 2.



✗ 3.



✗ 4.



Question ID : 65497829752

Status : Answered

Chosen Option : 1

**Q.23** किसी निश्चित कूट भाषा में, 'NORVEY' को 'MNQUDX' के रूप में लिखा जाता है। उसी कूट भाषा में 'SYDNEY' को किस रूप में लिखा जाएगा?

**Ans**

✗ 1. XXCMRD

✗ 2. RXMCDX

✗ 3. CMRXXD

✓ 4. RXCMDX

Question ID : 65497829742

Status : Answered

Chosen Option : 4

**Q.24** अक्षरों के उस संयोजन का चयन कीजिए, जिसे दी गई श्रृंखला के रिक्त स्थानों में क्रमबद्ध रूप से रखने पर श्रृंखला पूर्ण हो जाएगी।

DP\_X\_D\_N\_R\_P\_XR

**Ans**

✓ 1. NRPXDN

✗ 2. NRPXND

✗ 3. RNPXDN

✗ 4. NXPXDN

Question ID : 65497829758

Status : Answered

Chosen Option : 1



Download SSC CGL, CHSL E-BOOKS

[CLICK HERE](#)



Q.25 धीरज संतोष का इकलौता पुत्र है और संतोष मेरी माँ की इकलौती पुत्री है। मेरी माँ का धीरज के साथ क्या संबंध है?

- Ans
- 1. माँ
  - 2. बहन
  - 3. नानी
  - 4. चाची/बुआ/मौसी

Question ID : 65497829743  
Status : Answered  
Chosen Option : 3

Section : Part B General Knowledge and General Awareness

Q.1 वर्ष 2020 में इंडियन प्रीमियर लीग (IPL) का कौन सा संस्करण आयोजित किया गया था?

- Ans
- 1. 12
  - 2. 11
  - 3. 14
  - 4. 13

Question ID : 65497829771  
Status : Answered  
Chosen Option : 4

Q.2 निम्नलिखित में से किसने अपने पहले उपन्यास 'शुगी बैन (Shuggie Bain)' के लिए वर्ष 2020 में कथा-साहित्य (फिक्शन) श्रेणी में बुकर पुरस्कार प्राप्त किया?

- Ans
- 1. एस. हरीश
  - 2. मिशेल ओबामा
  - 3. मैरीके लुकास रिजनेवेल्ड
  - 4. डगलस स्टुअर्ट

Question ID : 65497829766  
Status : Not Answered  
Chosen Option : --

Q.3 दिसंबर 2020 तक भारत के संविधान में कितने संशोधन किए गए थे?

- Ans
- 1. 104
  - 2. 105
  - 3. 106
  - 4. 107

Question ID : 65497829772  
Status : Answered  
Chosen Option : 1

Q.4 वसा ऊतक, मानव शरीर में पाया जाने वाला किस प्रकार का ऊतक है?

- Ans
- 1. उपकला (epithelial)
  - 2. पेशीय (muscular)
  - 3. तंत्रिका (nervous)
  - 4. संयोजी (connective)

Question ID : 65497829783  
Status : Answered  
Chosen Option : 2