

Constable GD in CAPFs NIA SSF and Rifleman GD in Assam Rifles Examination 2021

Roll Number	
Candidate Name	
Venue Name	iON Digital Zone iDZ Sandalpur
Exam Date	13/12/2021
Exam Time :	4:00 PM - 5:30 PM
Subject	Constable GD 2021

Section : Part A General Intelligence and Reasoning

Q.1 उस सही विकल्प का चयन करें, जो दिए गए शब्दों के उस क्रम को दर्शाता है, जिस क्रम में ये अंग्रेजी शब्दकोश में मौजूद होते हैं।

1. Mosaic
2. Mortise
3. Morpheus
4. Mortified
5. Morris

Ans 1. 3, 2, 5, 4, 1
 2. 3, 4, 5, 2, 1
 3. 3, 5, 4, 2, 1
 4. 3, 5, 2, 4, 1

Question ID : 65497836229
Status : Answered
Chosen Option : 4

Q.2 दीपक, गुरकिरण, शाहिद और विक्रान्त नामक चार व्यक्ति एक वर्गाकार मेज के चारों ओर इसके केंद्र की ओर मुख करके बैठे हैं। वे इस तरह से बैठे हैं कि प्रत्येक व्यक्ति मेज की प्रत्येक भुजा के मध्य में बैठा है। विक्रान्त, दीपक के दाईं ओर ठीक बगल में बैठा है। शाहिद, विक्रान्त के सामने बैठा है। गुरकिरण के बाईं ओर ठीक बगल में कौन बैठा है?

Ans 1. या तो शाहिद या दीपक
 2. शाहिद
 3. दीपक
 4. विक्रान्त

Question ID : 65497836223
Status : Answered
Chosen Option : 2

Q.3 उस विकल्प का चयन कीजिए, जिसका चौथी संख्या से वही संबंध है, जो पहली संख्या का दूसरी संख्या से है और पांचवीं संख्या का छठी संख्या से है।

60 : 28 :: ? : 41 :: 70 : 33

Ans 1. 102
 2. 89
 3. 94
 4. 86

Question ID : 65497836234
Status : Not Answered
Chosen Option : --



Download SSC CGL, CHSL E-BOOKS

[CLICK HERE](#)

Q.4 दिए गए संयोजन के सही दर्पण प्रतिबिंब का चयन करें जब दर्पण को निम्नांकित चिह्नानुसार 'PQ' पर रखा गया है।

H O T 4 S P 9 O T $\begin{matrix} P \\ | \\ Q \end{matrix}$

- Ans
- 1. T O R P 2 4 T O H
 - 2. H O L 4 2 P 9 O L
 - 3. T O 4 P 2 9 T O H
 - 4. H O L 9 2 P 4 O L

Question ID : 65497836228

Status : Answered

Chosen Option : 1

Q.5 147 ml आयतन वाले एक जग को 11 ml, 17 ml और 23 ml आयतन वाले तीन गिलासों की न्यूनतम संख्या का उपयोग करके पानी से भरा जाना है। गिलासों का उपयोग, केवल उनके पूर्ण आयतन के साथ ही किया जा सकता है और प्रत्येक गिलास का उपयोग कम से कम एक बार किया जाना अनिवार्य है। इन तीनों गिलासों का उपयोग करके जग को पूरा भरने के लिए कम से कम कितने गिलासों की आवश्यकता होगी?

- Ans
- 1. 11
 - 2. 12
 - 3. 10
 - 4. 9

Question ID : 65497836219

Status : Not Answered

Chosen Option : --

Q.6 कृप के चित्र की ओर इंगित करते हुए पूर्वी ने कहा, "वह मेरे भाई की पत्नी की इकलौती बेटी के दादा का बेटा है।" पूर्वी का कृप से क्या संबंध है?

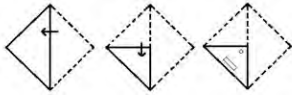
- Ans
- 1. बहन
 - 2. बेटी
 - 3. मां
 - 4. दादी

Question ID : 65497836215

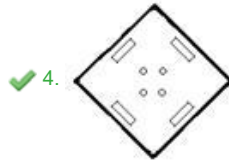
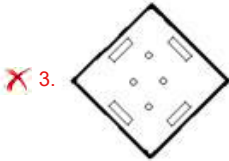
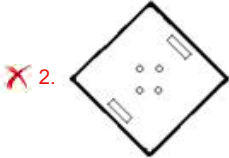
Status : Answered

Chosen Option : 1

Q.7 दिए गए चित्र में कागज के एक टुकड़े को मोड़ने का क्रम और मुड़े हुए टुकड़े को काटने की विधि दर्शाई गई है। यह कागज खोलने पर कैसा दिखेगा?



Ans



Question ID : 65497836220

Status : Answered

Chosen Option : 4

Q.8 'माउंट एवरेस्ट' का 'पर्वत' से वही संबंध है, जो 'नोबेल' का '____' से है।

Ans ✓ 1. पुरस्कार

✗ 2. पुस्तक

✗ 3. कर्तव्य

✗ 4. प्रसिद्धि

Question ID : 65497836222

Status : Answered

Chosen Option : 1

Q.9 अक्षरों के उस संयोजन का चयन करें, जिसे क्रमबद्ध रूप से दी गई श्रृंखला के रिक्त स्थानों में रखे जाने पर श्रृंखला पूर्ण हो जाएगी।

PR__UC__RODU__PROD__T

Ans ✗ 1. ODTCTPUC

✗ 2. ODCPTCUT

✓ 3. ODTPTUC

✗ 4. ODPTUTCC

Question ID : 65497836230

Status : Answered

Chosen Option : 3



Download SSC CGL, CHSL E-BOOKS

[CLICK HERE](#)

Q.10 दिए गए विकल्पों में से उस संख्या का चयन करें, जो निम्नलिखित श्रेणी में प्रश्न चिह्न (?) के स्थान पर आ सकती है।

13, 7, 6, ?, 19, 50

- Ans
- 1. 4.5
 - 2. 10.5
 - 3. 12.5
 - 4. 11

Question ID : 65497836227
Status : Not Answered
Chosen Option : --

Q.11 वर्गों के उस समुच्चय का चयन कीजिए जिनके बीच का संबंध निम्नलिखित वेन आरेख द्वारा सर्वोत्तम रूप से दर्शाया गया है।



- Ans
- 1. विद्यार्थी, अंशकालिक कर्मचारी, लड़कियाँ
 - 2. स्तनधारी, मानव, सरीसृप
 - 3. महिलाएँ, माताएँ, बहनें
 - 4. अभियंता, निरक्षर, शहरी निवासी

Question ID : 65497836224
Status : Answered
Chosen Option : 3

Q.12 उस विकल्प का चयन करें, जिसका तीसरे अक्षर-समूह से वही संबंध है, जो दूसरे अक्षर-समूह का पहले अक्षर-समूह से है।

QZCT : JAXG :: MRDY : ?

- Ans
- 1. NIHS
 - 2. NIWB
 - 3. GIES
 - 4. QUBM

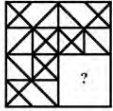
Question ID : 65497836213
Status : Answered
Chosen Option : 2



Download SSC CGL, CHSL E-BOOKS

[CLICK HERE](#)

Q.13 दिए गए विकल्पों में से उस आकृति का चयन करें, जो निम्नांकित श्रृंखला में प्रश्नवाचक चिह्न (?) के स्थान पर आ सकती है (घुमाने की अनुमति नहीं है)।



Ans

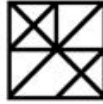
1.



2.



3.



4.



Question ID : 65497836232
Status : Answered
Chosen Option : 3

Q.14 एक विशिष्ट कूट भाषा में, 'STORE' को '8712922' और 'PURE' को '116922' लिखा जाता है। उसी कूट भाषा में 'ASSURED' को किस प्रकार लिखा जाएगा?

Ans

1. 2686982223

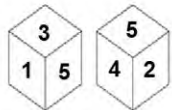
2. 2688982223

3. 2695872223

4. 2688692223

Question ID : 65497836226
Status : Answered
Chosen Option : 4

Q.15 एक ही पासे की दो अलग-अलग स्थितियाँ दर्शाई गई हैं, जिसके छह फलकों पर 1 से 6 तक अंक दिए गए हैं। उस संख्या का चयन करें, जो अंक '5' वाले फलक के विपरीत फलक पर होगी।



Ans

1. 1

2. 2

3. 6

4. 3

Question ID : 65497836236
Status : Answered
Chosen Option : 3

Q.16 किसी निश्चित कूट भाषा में, 'CAR' को 'XZI' लिखा जाता है और 'TOP' को 'GLK' लिखा जाता है। उसी कूट भाषा में 'FATHER' को किस प्रकार लिखा जाएगा?

- Ans
- 1. VZHTKI
 - 2. UZGSVI
 - 3. WZGHUI
 - 4. UZHTVJ

Question ID : 65497836216
Status : Answered
Chosen Option : 2

Q.17 दिए गए कथनों और निष्कर्षों को ध्यानपूर्वक पढ़ें। कथनों में दी गई जानकारी को सत्य मानते हुए विचार करें, भले ही यह सामान्यतः ज्ञात तथ्यों से भिन्न प्रतीत होती हो, और बताएं कि दिए गए निष्कर्षों में से कौन से तार्किक रूप से कथनों का पालन करते हैं।

कथन:

1. सभी नर्स, डॉक्टर हैं।
2. सभी डॉक्टर, डिजाइनर हैं।
3. कुछ नर्स, आर्किटेक्ट हैं।

निष्कर्ष:

- I. कुछ डिजाइनर, आर्किटेक्ट हैं।
- II. कोई डॉक्टर, आर्किटेक्ट नहीं है।

- Ans
- 1. न तो निष्कर्ष I और न ही II पालन करता है।
 - 2. केवल निष्कर्ष I पालन करता है।
 - 3. केवल निष्कर्ष II पालन करता है।
 - 4. दोनों ही निष्कर्ष पालन करते हैं।

Question ID : 65497836217
Status : Answered
Chosen Option : 2

Q.18 उस विकल्प का चयन करें, जिसमें दी गई आकृति अंतर्निहित है (आकृति को घुमाने की अनुमति नहीं है)।



Ans

- 1.
- 2.
- 3.
- 4.

Question ID : 65497836237
Status : Answered
Chosen Option : 4



Download SSC CGL, CHSL E-BOOKS

[CLICK HERE](#)

Q.19 एक विशिष्ट कूट भाषा में, 'FESTIVAL' को 'UTFGMBWJ' लिखा जाता है। उसी कूट भाषा में 'MAJESTIC' को किस प्रकार लिखा जाएगा?

- Ans
- 1. BNFKUTRX
 - 2. FKBNDJUT
 - 3. CJURFBKT
 - 4. NBKFTUJE

Question ID : 65497836214
Status : Not Answered
Chosen Option : --

Q.20 दिए गए विकल्पों में से उस संख्या का चयन करें, जो निम्नलिखित श्रेणी में प्रश्न चिह्न (?) के स्थान पर आ सकती है।

7, 13, 25, 43, ?, 97

- Ans
- 1. 67
 - 2. 63
 - 3. 61
 - 4. 56

Question ID : 65497836231
Status : Answered
Chosen Option : 1

Q.21 निम्नलिखित चार अक्षर-समूहों में से तीन किसी तरह से संगत हैं और एक असंगत है। असंगत अक्षर-समूह का चयन करें।

- Ans
- 1. HOT
 - 2. LIP
 - 3. MRF
 - 4. POD

Question ID : 65497836225
Status : Answered
Chosen Option : 3

Q.22 K, L, M, N, O, P, Q और R एक वृत्ताकार मेज के इर्द-गिर्द मेज के केंद्र की ओर पीठ करके बैठे हैं। R, M के बाईं ओर ठीक बगल में बैठा है, जो P के बाईं ओर दूसरे स्थान पर बैठा है। K, P के दाईं ओर चौथे स्थान पर बैठा है। Q, L और N के बीच में बैठा है। R, L के दाईं ओर दूसरे स्थान पर बैठा है। M और P के बीच में कौन बैठा है?

- Ans
- 1. O
 - 2. R
 - 3. L
 - 4. N

Question ID : 65497836233
Status : Not Answered
Chosen Option : --

Q.23 यदि 'A' का अर्थ '+' है, 'B' का अर्थ '-' है, 'C' का अर्थ 'x' है और 'D' का अर्थ '÷' है, तो दिए गए व्यंजक का मान ज्ञात कीजिए।

$$50 A 19 B (36 D 2) C 3 A 15 A (10 D 5) = ?$$

- Ans
- 1. 40
 - 2. 44
 - 3. 32
 - 4. 28

Question ID : 65497836235
Status : Answered
Chosen Option : 3

Q.24 दिए गए विकल्पों में से उस अक्षर समूह का चयन कीजिए, जो निम्नलिखित श्रृंखला में प्रश्न चिह्न (?) के स्थान पर आ सकता है।

HK, FM, DO, BQ, ?, XU, VW

- Ans
- 1. WS
 - 2. AK
 - 3. ZS
 - 4. ZK

Question ID : 65497836221
Status : Answered
Chosen Option : 3

Q.25 उस विकल्प का चयन करें, जिसमें दी गई संख्याओं के बीच वही संबंध है, जो दिए गए समूह की संख्याओं के बीच है।

(64, 51, 38)

- Ans
- 1. (45, 54, 99)
 - 2. (90, 120, 64)
 - 3. (22, 50, 79)
 - 4. (52, 46, 40)

Question ID : 65497836218
Status : Answered
Chosen Option : 4

Section : Part B General Knowledge and General Awareness

Q.1 एक द्रुमाकृतिक अपवाह पैटर्न (Dendritic Drainage Pattern) _____।

- Ans
- 1. जब नदी सरणी, मैदानी क्षेत्र की ढलान के साथ साथ प्रवाहित होती है और इसकी सहायक नदियों के साथ एक वृक्ष की शाखाओं जैसी दिखाई देती है
 - 2. तब बनते हैं, जब धारा एक केंद्रीय शिखर या गुंबद जैसी संरचना से अलग-अलग दिशाओं में बहती है
 - 3. जब कोई नदी अपनी सहायक नदियों से लगभग समकोण पर मिलती है
 - 4. एक दृढ़ संयुक्त चट्टानी इलाके पर बनता है

Question ID : 65497836252
Status : Answered
Chosen Option : 1



Download SSC CGL, CHSL E-BOOKS

[CLICK HERE](#)