

Constable GD in CAPFs NIA SSF and Rifleman GD in Assam Rifles Examination 2021

Roll Number	
Candidate Name	
Venue Name	iON Digital Zone iDZ Nausarh Chowk
Exam Date	13/12/2021
Exam Time :	9:00 AM - 10:30 AM
Subject	Constable GD 2021

Section : Part A General Intelligence and Reasoning

Q.1 किसी निश्चित कूट भाषा में, 'FOX' को '6' और 'LION' को '8' के रूप में लिखा जाता है। उसी कूट भाषा में 'TIGER' को किस रूप में लिखा जाएगा?

- Ans
- 1. 8
 - 2. 10
 - 3. 12
 - 4. 6

Question ID : 65497830376

Status : Answered

Chosen Option : 2

Q.2 विकल्पों में चार अक्षर-समूह दिए गए हैं, जिनमें से तीन किसी प्रकार से संगत हैं और कोई एक असंगत है। उस असंगत अक्षर-समूह का चयन कीजिए।

- Ans
- 1. YGSQ
 - 2. GTDME
 - 3. MHXT
 - 4. LBJZ

Question ID : 65497830375

Status : Not Attempted and Marked For Review

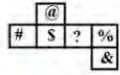
Chosen Option : --



Download SSC CGL, CHSL E-BOOKS

[CLICK HERE](#)

Q.3 दी गई शीट को मोड़कर एक घन बनाया जाता है। इस तरह निर्मित घन में, निम्न में से कौन सा प्रतीक-युग्म विपरीत पृष्ठों पर होगा?



- Ans
- 1. \$ और &
 - 2. ? और &
 - 3. @ और ?
 - 4. \$ और %

Question ID : 65497830387

Status : Answered

Chosen Option : 4

Q.4 यदि मेरी बहन की सास का इकलौता पुत्र देविका का पिता है, तो देविका के दादा का मेरी बहन से क्या संबंध है?

- Ans
- 1. जीजा/देवर/जेठ
 - 2. ससुर
 - 3. चाचा/ताऊ/फूफा
 - 4. पिता

Question ID : 65497830391

Status : Answered

Chosen Option : 2

Q.5 एक कक्षा में सात मित्र P, Q, R, S, T, U और V एक ही पंक्ति में अध्यापक की ओर मुंह करके बैठे हुए हैं। R, U और Q के बीच में है। P, T और V के बीच में है। Q, S के बाएं तीसरे स्थान पर है। T और S दोनों छोरों पर बैठे हुए हैं। T के दाएं तीसरे स्थान पर कौन बैठा है?

- Ans
- 1. R
 - 2. V
 - 3. Q
 - 4. P

Question ID : 65497830373

Status : Answered

Chosen Option : 3

Q.6 दिए गए विकल्पों में से उस अक्षर-समूह का चयन करें जो निम्नलिखित शृंखला में प्रश्नवाचक चिह्न (?) के स्थान पर आ सकता है।

YC, VI, SO, PU, MA, JG, ?

- Ans
- 1. GT
 - 2. SN
 - 3. HN
 - 4. GM

Question ID : 65497830371

Status : Answered

Chosen Option : 4



Download SSC CGL, CHSL E-BOOKS

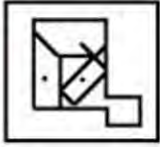
[CLICK HERE](#)

Q.7 उस विकल्प का चयन कीजिए जिसमें दी गई आकृति सन्नहित है। (आकृति को घुमाने की अनुमति नहीं है)

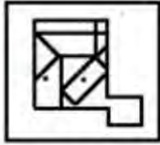


Ans

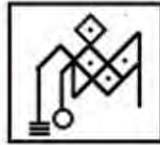
✗ 1.



✗ 2.



✓ 3.



✗ 4.



Question ID : 65497830388

Status : Answered

Chosen Option : 3

Q.8 एक निश्चित कूट भाषा में, NEWSPAPER को ODXTQZQDS लिखा जाता है और SORT को TNSU लिखा जाता है। उसी कूट भाषा में CHOCOLATE को किस प्रकार लिखा जाएगा?

Ans ✗ 1. DINDNOZUC

✓ 2. DINDNMZUD

✗ 3. CGNDNMZUC

✗ 4. DINDNKZVD

Question ID : 65497830390

Status : Answered

Chosen Option : 2

Q.9 उस विकल्प का चयन करें जिसका तीसरी संख्या से वही संबंध है जो दूसरी संख्या का पहली संख्या से है।

93 : 36 :: 83 : ?

Ans ✗ 1. 45

✗ 2. 85

✓ 3. 25

✗ 4. 75

Question ID : 65497830385

Status : Answered

Chosen Option : 3



Download SSC CGL, CHSL E-BOOKS

[CLICK HERE](#)

Q.10 'स्वीकार' का जो संबंध 'इनकार' से है, 'दासता' का वही संबंध '____' से है।

- Ans
- 1. अपराध
 - 2. जेलर
 - 3. स्वतंत्रता
 - 4. पुलिस

Question ID : 65497830372
Status : Answered
Chosen Option : 3

Q.11 छः लड़कियां (A, B, C, D, E और F) एक गोल मेज के चारों ओर बैठी हैं। उनमें से सभी मेज के केंद्र की ओर अभिमुख हैं। B और D के बीच में E नहीं, बल्कि कोई और लड़की बैठी है। A, F के बाएं बैठी है। C, A के दाएं चौथे स्थान पर है। A के बाएं दूसरे स्थान पर कौन सी लड़की बैठी है?

- Ans
- 1. D
 - 2. F
 - 3. B
 - 4. C

Question ID : 65497830384
Status : Answered
Chosen Option : 4

Q.12 उस विकल्प का चयन कीजिए, जिसका तीसरे पद से वही संबंध है, जो दूसरे पद का पहले पद से है।

PRICES : SQDJTF :: QUALMS : ?

- Ans
- 1. TVMBTN
 - 2. VRMCNT
 - 3. URBMTN
 - 4. VRMBTN

Question ID : 65497830389
Status : Answered
Chosen Option : 1

Q.13 दिए गए पैटर्न का ध्यानपूर्वक अध्ययन कीजिए और उस संख्या का चयन कीजिए जो इसमें प्रश्नवाचक चिह्न (?) के स्थान पर आ सकती है।

11 33 ?
27 101 4
60 200 160

- Ans
- 1. 57
 - 2. 51
 - 3. 52
 - 4. 45

Question ID : 65497830381
Status : Not Attempted and Marked For Review
Chosen Option : --



Download SSC CGL, CHSL E-BOOKS

[CLICK HERE](#)

Q.14

- Ans 1.
 2.
 3.
 4.

Question ID : 65497830374
Status : Answered
Chosen Option : 4

Q.15 दिए गए विकल्पों में से उस संख्या का चयन कीजिए, जो निम्नलिखित श्रेणी में प्रश्नवाचक चिन्ह (?) के स्थान पर आ सकती है।

24, 31, 39, 48, 58, 69, ?

- Ans 1. 76
 2. 81
 3. 96
 4. 86

Question ID : 65497830394
Status : Answered
Chosen Option : 2

Q.16 दिए गए कथनों और निष्कर्षों को ध्यानपूर्वक पढ़ें। यह मानते हुए कि कथनों में दी गई सूचना सत्य है, भले ही वह सामान्य रूप से ज्ञात तथ्यों से भिन्न प्रतीत होती हो, बताइए कि दिए गए निष्कर्षों में से कौन सा / कौन से निष्कर्ष कथनों का तार्किक रूप से अनुसरण करता है / करते हैं।

कथन :

सभी छात्र, शिक्षक हैं।
सभी शिक्षक, प्रोफेसर हैं।

निष्कर्ष :

1. सभी छात्र, प्रोफेसर हैं।
2. सभी प्रोफेसर, छात्र हैं।
3. कोई शिक्षक, प्रोफेसर नहीं है।

- Ans 1. केवल निष्कर्ष 2 अनुसरण करता है।
 2. केवल निष्कर्ष 1 अनुसरण करता है।
 3. केवल निष्कर्ष 3 अनुसरण करता है।
 4. निष्कर्ष 1 और 3 दोनों अनुसरण करते हैं।

Question ID : 65497830380
Status : Answered
Chosen Option : 1

Q.17

- Ans 1.
 2.
 3.
 4.

Question ID : 65497830378
Status : Answered
Chosen Option : 3



Download SSC CGL, CHSL E-BOOKS

[CLICK HERE](#)

Q.18 दिए गए विकल्पों में से उस संख्या का चयन कीजिए जो निम्न श्रृंखला में प्रश्न चिह्न (?) के स्थान पर आ सकती है।

5, 35, 7, 63, 9, ?, 11

- Ans
- 1. 85
 - 2. 99
 - 3. 90
 - 4. 87

Question ID : 65497830377
Status : Answered
Chosen Option : 2

Q.19

- Ans
- 1.
 - 2.
 - 3.
 - 4.

Question ID : 65497830383
Status : Answered
Chosen Option : 1

Q.20 यदि 'x' का अर्थ '-' है, '÷' का अर्थ '+' है, और '+' का अर्थ 'x' है, तो निम्न व्यंजक का मान कितना होगा?

$240 \times 20 \div 5 + 30$

- Ans
- 1. 370
 - 2. 499
 - 3. 990
 - 4. 790

Question ID : 65497830386
Status : Answered
Chosen Option : 1

Q.21 अक्षरों के उस संयोजन का चयन कीजिए, जिसे दी गई श्रृंखला के रिक्त स्थानों में क्रमबद्ध रूप से रखने पर श्रृंखला पूर्ण हो जाएगी।

Z _ T _ V _ X T D _ Z _ _ D V

- Ans
- 1. X D Z V X T
 - 2. X D X V X T
 - 3. Z D Z V X T
 - 4. X D Z V D T

Question ID : 65497830393
Status : Answered
Chosen Option : 1



Q.22 जब एक संख्या को 25 के वर्ग से घटाया जाता है, तो यह उस संख्या का 124 गुना हो जाता है। संख्या ज्ञात कीजिए।

- Ans
- 1. 25
 - 2. 10
 - 3. 5
 - 4. 15

Question ID : 65497830382
Status : Answered
Chosen Option : 3

Q.23 उस सही विकल्प का चयन कीजिए, जो दिए गए शब्दों के उस क्रम को दर्शाता है, जिस क्रम में वे अंग्रेज़ी शब्दकोश में मौजूद होते हैं।

1. Clarity
2. Claimant
3. Classy
4. Clear
5. Cloning

- Ans
- 1. 1, 2, 3, 4, 5
 - 2. 2, 1, 3, 5, 4
 - 3. 2, 1, 4, 3, 5
 - 4. 2, 1, 3, 4, 5

Question ID : 65497830392
Status : Answered
Chosen Option : 4

Q.24 एक निश्चित कूट भाषा में, 'how are you' को 'au bk ch' लिखा जाता है, 'we are playing' को 'ma ch ba' लिखा जाता है और 'we know him' को 'ba me uk' लिखा जाता है। उसी कूट भाषा में 'playing' को क्या लिखा जाएगा?

- Ans
- 1. ba
 - 2. ma
 - 3. ch
 - 4. au

Question ID : 65497830379
Status : Answered
Chosen Option : 2

Q.25

- Ans
- 1.
 - 2.
 - 3.
 - 4.

Question ID : 65497830395
Status : Answered
Chosen Option : 4

