

Constable GD in CAPFs NIA SSF and Rifleman GD in Assam Rifles Examination 2021

Roll Number	
Candidate Name	
Venue Name	Ion Digital Zone Idz Kacchi Pakki
Exam Date	10/12/2021
Exam Time :	4:00 PM - 5:30 PM
Subject	Constable GD 2021

Section : Part A General Intelligence and Reasoning

Q.1 एक कक्षा में 46 विद्यार्थी हैं। सभी विद्यार्थी, योग और नृत्य में से किसी एक या दोनों गतिविधियों में भाग लेते हैं। यदि 30 विद्यार्थी योग में और 26 विद्यार्थी नृत्य में भाग लेते हैं, तो कितने विद्यार्थी योग और नृत्य दोनों में भाग लेते हैं?

Ans 1. 8

2. 10

3. 16

4. 20

Question ID : 65497836617
Status : Answered
Chosen Option : 2

Q.2 छः व्यक्ति A, B, C, D, E और F एक सीधी पंक्ति में, एक ही दिशा की ओर अभिमुख होकर बैठे हुए हैं। E, B और F के बीच में बैठा है। A, F के दाएँ तीसरे स्थान पर बैठा है। E, A के बाएँ चौथे स्थान पर बैठा है। C, A के बगल में नहीं बैठा है। F और D के बीच में कौन बैठा है?

Ans 1. A

2. C

3. B

4. E

Question ID : 65497836603
Status : Answered
Chosen Option : 2

Q.3 एक निश्चित कूट भाषा में, SUNSET को RTMTFU लिखा जाता है। उसी कूट भाषा में JORDEN को क्या लिखा जाएगा?

Ans 1. NIQFOE

2. INQFOE

3. INQEOF

4. INQEFO

Question ID : 65497836608
Status : Answered
Chosen Option : 4



Download SSC CGL, CHSL E-BOOKS

[CLICK HERE](#)

Q.7 उस विकल्प का चयन करें, जो दी गई आकृति में अंतर्निहित है (आकृति को घुमाने की अनुमति नहीं है)।

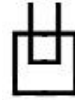


Ans

1.



2.



3.



4.



Question ID : 65497836598

Status : Answered

Chosen Option : 2

Q.8 निम्न चार अक्षर-समूहों में से तीन किसी न किसी प्रकार संगत हैं और एक असंगत है। उस असंगत अक्षर-समूह का चयन करें।

Ans

1. MAA

2. OSD

3. OTP

4. VOL

Question ID : 65497836610

Status : Answered

Chosen Option : 1

Q.9 उस विकल्प का चयन करें, जो चौथी संख्या से उसी प्रकार संबंधित है जिस प्रकार पहली संख्या दूसरी संख्या से और पाँचवीं संख्या छठी संख्या से संबंधित है।

18 : 558 :: ? : 542 :: 10 : 442

Ans

1. 11

2. 9

3. 15

4. 19

Question ID : 65497836595

Status : Answered

Chosen Option : 1

Q.10 उस विकल्प का चयन कीजिए जिसका तीसरे पद से वही संबंध है जो दूसरे पद का पहले पद से है।

PIXEL : OHALS :: JATIN : ?

Ans

1. QWDML

2. QLWDM

3. WLRPM

4. PREMD

Question ID : 65497836607

Status : Answered

Chosen Option : 1



Download SSC CGL, CHSL E-BOOKS

[CLICK HERE](#)

Q.11 दिए गए विकल्पों में से उस संख्या का चयन करें, जो निम्नलिखित श्रृंखला में प्रश्नवाचक चिह्न (?) के स्थान पर आ सकती है।

2.5, 3.5, 7.5, 23.5, ?, 343.5

Ans 1. 108.5

2. 87.5

3. 154.5

4. 129.5

Question ID : 65497836612

Status : Answered

Chosen Option : 1

Q.12 दिए गए विकल्पों में से उस संख्या का चयन करें, जो निम्नलिखित श्रृंखला में प्रश्नवाचक चिह्न (?) के स्थान पर आ सकती है।

29, 33, 42, 58, 83, ?

Ans 1. 119

2. 150

3. 157

4. 140

Question ID : 65497836604

Status : Answered

Chosen Option : 1

Q.13 दी गई शीट को मोड़कर एक घन बनाया गया है। इस प्रकार बने घन में, '\$' दिखाने वाले पृष्ठ के विपरीत पृष्ठ पर कौन सी संख्या अथवा चिह्न होगा?



Ans 1. 2

2. #

3. 3

4. %

Question ID : 65497836597

Status : Answered

Chosen Option : 3



Download SSC CGL, CHSL E-BOOKS

[CLICK HERE](#)

Q.14 दिए गए कथनों और निष्कर्षों को ध्यानपूर्वक पढ़ें। कथनों में दी गई जानकारी को सत्य मानते हुए विचार करें, भले ही वह सामान्यतः ज्ञात तथ्यों से भिन्न प्रतीत होती हो और तय करें कि दिए गए निष्कर्षों में से कौन से निष्कर्ष, कथनों का तार्किक रूप से अनुसरण करते हैं?

कथन:

कोई पेंटिंग सुंदर नहीं है।

सभी रंग सुंदर हैं।

सभी तार पेंटिंग हैं।

निष्कर्ष:

I. कुछ पेंटिंग रंग हैं।

II. कुछ पेंटिंग तार हैं।

- Ans
- 1. केवल निष्कर्ष II अनुसरण करता है।
 - 2. निष्कर्ष I और II दोनों ही अनुसरण करते हैं।
 - 3. या तो निष्कर्ष I या II अनुसरण करता है।
 - 4. केवल निष्कर्ष I अनुसरण करता है।

Question ID : 65497836615

Status : Answered

Chosen Option : 1

Q.15 आठ मित्र A, B, C, D, E, F, G और H एक गोल मेज के परितः वामावर्त रूप से एक दूसरे से समान दूरी पर इसी क्रम में केंद्र की ओर अभिमुख होकर बैठे हैं। यदि H दक्षिण दिशा में बैठा है, तो C किस दिशा में बैठा है?

- Ans
- 1. दक्षिण-पूर्व
 - 2. उत्तर
 - 3. उत्तर-पूर्व
 - 4. उत्तर-पश्चिम

Question ID : 65497836594

Status : Answered

Chosen Option : 2

Q.16 उस विकल्प का चयन करें, जिसमें दी गई संख्याओं के बीच वही संबंध है, जो संबंध नीचे दिए गए समुच्चय की संख्याओं के बीच है।

5, 10, 25

- Ans
- 1. 12, 15, 55
 - 2. 9, 15, 36
 - 3. 16, 12, 85
 - 4. 7, 11, 74

Question ID : 65497836616

Status : Answered

Chosen Option : 2

Q.17 जिस प्रकार 'शरीर का तापमान', 'बुखार' से संबंधित है, उसी प्रकार 'शरीर की वसा', ' _____ ' संबंधित है।

- Ans
- 1. मोटापे
 - 2. रक्त
 - 3. भोजन
 - 4. उपचार

Question ID : 65497836602

Status : Answered

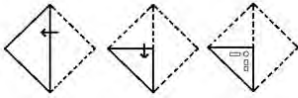
Chosen Option : 1



Download SSC CGL, CHSL E-BOOKS

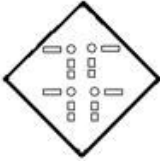
[CLICK HERE](#)

Q.18 कागज के एक टुकड़े को मोड़ने के क्रम और मुड़े हुए कागज को काटने के तरीके को निम्न आकृतियों में दर्शाया गया है। खोलने पर, यह कागज कैसा दिखाई देगा?

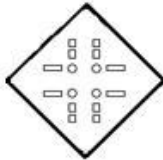


Ans

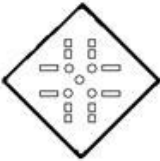
✗ 1.



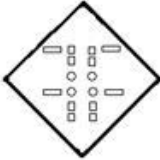
✓ 2.



✗ 3.



✗ 4.



Question ID : 65497836618

Status : Answered

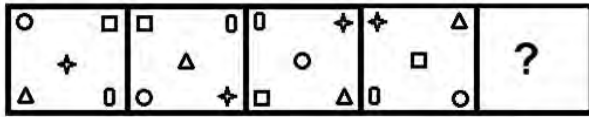
Chosen Option : 2



Download SSC CGL, CHSL E-BOOKS

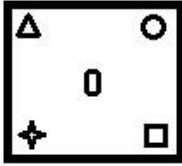
[CLICK HERE](#)

Q.19 निम्नांकित आकृति शृंखला में प्रश्नचिह्न (?) के स्थान पर आने वाली आकृति का चयन करें।

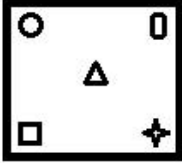


Ans

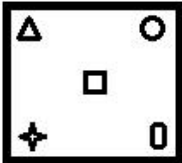
✓ 1.



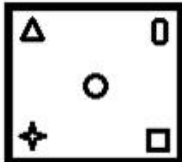
✗ 2.



✗ 3.



✗ 4.



Question ID : 65497836605

Status : Answered

Chosen Option : 1

Q.20 एक विशिष्ट कूट भाषा में, 'PRETTY' को 894773 के रूप में और 'SCIENCE' को 6524154 के रूप में लिखा जाता है। इस कूट भाषा में 'PRINCE' को किस रूप में लिखा जाएगा?

Ans ✗ 1. 892145

✓ 2. 892154

✗ 3. 891345

✗ 4. 891254

Question ID : 65497836611

Status : Answered

Chosen Option : 2

Q.21 दिए गए विकल्पों में से उस अक्षर-समूह का चयन करें, जो निम्नलिखित शृंखला में प्रश्नवाचक चिह्न (?) के स्थान पर आ सकता है।

PHW, SKZ, WOD, BTI, ?

Ans ✓ 1. HZO

✗ 2. GAO

✗ 3. GZP

✗ 4. HYN

Question ID : 65497836599

Status : Answered

Chosen Option : 1



Download SSC CGL, CHSL E-BOOKS

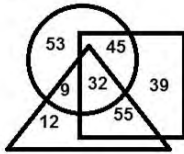
CLICK HERE

Q.22 C, A का पुत्र है लेकिन A, C की मां नहीं है। D और C विवाहित युगल है। E, C का भाई है। F, D की पुत्री है। G, A का भाई है। E का F से क्या संबंध है?

- Ans
- 1. भाई
 - 2. चाचा
 - 3. पिता
 - 4. साली

Question ID : 65497836609
Status : Answered
Chosen Option : 2

Q.23 दिए गए आरेख में, त्रिभुज, 'महिलाओं' को निरूपित करता है, वर्ग, 'माताओं' को निरूपित करता है और वृत्त, 'नृत्यांगनाओं' को निरूपित करता है। अलग-अलग खंडों में दी गई संख्याएं, उस श्रेणी के व्यक्तियों की संख्या निरूपित करती हैं।



कितनी महिलाएं नृत्यांगना हैं, लेकिन माताएं नहीं हैं?

- Ans
- 1. 45
 - 2. 32
 - 3. 9
 - 4. 55

Question ID : 65497836606
Status : Answered
Chosen Option : 2

Q.24 उस विकल्प का चयन करें, जो निम्न शब्दों के उस क्रम को दर्शाता है, जिस क्रम में वे अंग्रेजी शब्दकोश में आते हैं।

1. Lethal
2. Leather
3. Leaves
4. Least
5. Lesion

- Ans
- 1. 2, 4, 3, 5, 1
 - 2. 4, 2, 5, 3, 1
 - 3. 4, 2, 3, 5, 1
 - 4. 4, 2, 3, 1, 5

Question ID : 65497836600
Status : Answered
Chosen Option : 3

Q.25 यदि 'A' का अर्थ '+' है, 'B' का अर्थ '-' है, 'C' का अर्थ 'x' है और 'D' का अर्थ '÷' है, तो दिए गए व्यंजक का मान कितना होगा?

44 A 7 B (9 C 7) A (24 B 19) A (18 D 6) C 4

Ans 1. 51

2. 19

3. 5

4. 11

Question ID : 65497836596

Status : Answered

Chosen Option : 3

Section : Part B General Knowledge and General Awareness

Q.1 मैराथन में आधिकारिक रूप से कितनी दूरी तय करनी होती है?

Ans 1. 30 मील 385 गज

2. 20 मील 385 गज

3. 15 मील 385 गज

4. 26 मील 385 गज

Question ID : 65497836640

Status : Answered

Chosen Option : 4

Q.2 जनवरी 2021 तक प्राप्त जानकारी के अनुसार, कृषि लागत और मूल्य आयोग के द्वारा कितने तिलहनों के लिए न्यूनतम समर्थन मूल्य की सिफारिश की गई है?

Ans 1. तीन

2. पांच

3. सात

4. आठ

Question ID : 65497836641

Status : Answered

Chosen Option : 2

Q.3 निम्नलिखित में से कौन 1861 में भारतीय पुरातत्व सर्वेक्षण (ASI) के महानिदेशक बने और उन्हें प्रायः 'भारतीय पुरातत्व के जनक' के रूप में जाना जाता है?

Ans 1. अलेक्जेंडर कनिंघम

2. डोमिनिक एस्किथ

3. जेम्स प्रिंसेप

4. एओ ह्यूम

Question ID : 65497836626

Status : Answered

Chosen Option : 2

Q.4 भारतीय संविधान का अनुच्छेद 51A निम्न से किससे संबंधित है?

Ans 1. संपत्ति का अधिकार

2. मूल कर्तव्य

3. राज्य नीति के निर्देशक सिद्धांत

4. मौलिक अधिकार

Question ID : 65497836632

Status : Answered

Chosen Option : 2



Download SSC CGL, CHSL E-BOOKS

[CLICK HERE](#)