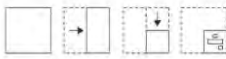


Constable GD in CAPFs NIA SSF and Rifleman GD in Assam Rifles Examination 2021

Roll Number	
Candidate Name	
Venue Name	Arya Institute of Engineering and Technology
Exam Date	10/12/2021
Exam Time :	12:30 PM - 2:00 PM
Subject	Constable GD 2021

Section : Part A General Intelligence and Reasoning

Q.1 निम्नांकित आकृतियों में एक कागज के टुकड़े को मोड़ने का क्रम और मुड़े हुए कागज को काटने की विधि दर्शाई गई है। यह कागज खोलने पर कैसा दिखेगा?



Ans

- 1.
- 2.
- 3.
- 4.

Question ID : 65497831277

Status : Answered

Chosen Option : 3

Q.2 उस विकल्प का चयन कीजिए, जिसका तीसरे पद से वही संबंध है, जो दूसरे पद का पहले पद से है।

PLUM : KOFN :: MIST : ?

- Ans 1. ORGH
2. NRHG
3. ROGH
4. NRFH

Question ID : 65497831282

Status : Answered

Chosen Option : 2



Download SSC CGL, CHSL E-BOOKS

[CLICK HERE](#)

Q.3 अक्षरों के उस संयोजन का चयन करें जो दी गई श्रृंखला के रिक्त स्थान में क्रमिक रूप से रखे जाने पर श्रृंखला को पूर्ण करेगा।

LP_ST__Q_TL__ST

- Ans 1. LQPQSP
 2. QLPSQP
 3. PQSLSP
 4. PQLQLP

Question ID : 65497831261
Status : Answered
Chosen Option : 2

Q.4 दिए गए पैटर्न का ध्यानपूर्वक अध्ययन कीजिए और उस संख्या का चयन कीजिए जो इसमें प्रश्नवाचक चिह्न (?) के स्थान पर आ सकती है।

5 17 61
6 21 75
8 ? 103

- Ans 1. 27
 2. 29
 3. 23
 4. 21

Question ID : 65497831272
Status : Answered
Chosen Option : 2

Q.5 यदि 'A' का अर्थ 'जोड़' है, 'B' का अर्थ 'गुणा' है, 'C' का अर्थ 'घटाना' है, और 'D' का अर्थ 'भाग' है, तो निम्न व्यंजक का मान कितना होगा?

483 D 23 A 93 C 16 B 4

- Ans 1. 60
 2. 57
 3. 50
 4. 67

Question ID : 65497831273
Status : Answered
Chosen Option : 3

Q.6 यदि 'A % B' का अर्थ है - 'A, B की पुत्री है', 'A & B' का अर्थ है - 'A, B की पत्नी है', और 'A # B' का अर्थ है - 'A, B का पुत्र है', तो व्यंजक V % G & H # L & Z में, G का Z से क्या संबंध है?

- Ans 1. भाभी/ननद/साली/देवरानी/जेठानी
 2. पुत्रवधू
 3. मामी/मौसी
 4. पुत्री

Question ID : 65497831284
Status : Answered
Chosen Option : 2



Download SSC CGL, CHSL E-BOOKS

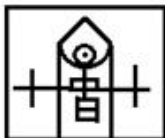
[CLICK HERE](#)

Q.7 उस विकल्प का चयन कीजिए जिसमें दी गई आकृति सम्मिहित है। (आकृति को घुमाने की अनुमति नहीं है)

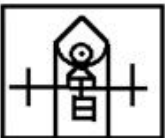
फ

Ans

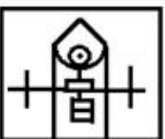
✓ 1.



✗ 2.



✗ 3.



✗ 4.



Question ID : 65497831276

Status : Answered

Chosen Option : 1

Q.8 Six professional interior designers, Pavan, Nayan, Ratan, Shiva, Tanuja and Urmila, are sitting around a hexagonal table, each at one corner, and are facing the centre of the hexagonal table. Pavan is second to the left of Urmila. Nayan is the neighbour of Ratan and Shiva. Tanuja is second to the left of Shiva. Who among the following are the neighbours of Pavan?

Ans

✗ 1. Urmila and Ratan

✗ 2. Shiva and Nayan

✓ 3. Tanuja and Ratan

✗ 4. Urmila and Tanuja

Question ID : 65497831269

Status : Answered

Chosen Option : 3

Q.9 एक निश्चित कूट भाषा में, 'CROW' को '3-18-15-23' के रूप में कूटबद्ध किया जाता है और 'FISH' को '6-9-19-8' के रूप में कूटबद्ध किया जाता है। उसी भाषा में 'BULL' को किस रूप में कूटबद्ध किया जाएगा?

Ans

✓ 1. 2-21-12-12

✗ 2. 3-20-11-11

✗ 3. 2-22-12-12

✗ 4. 2-22-13-13

Question ID : 65497831265

Status : Answered

Chosen Option : 1



Download SSC CGL, CHSL E-BOOKS

CLICK HERE

Q.10 दिए गए विकल्पों में से उस संख्या का चयन करें जो निम्नलिखित श्रृंखला में प्रश्न चिह्न (?) के स्थान पर आ सकती है।

6, 54, 378, 1890, ?

- Ans 1. 6811
 2. 5670
 3. 6002
 4. 4236

Question ID : 65497831266
Status : Answered
Chosen Option : 2

Q.11 जिस प्रकार 'माउस' 'कंप्यूटर' से संबंधित है, उसी प्रकार 'फ्लैश' '_____' से संबंधित है।

- Ans 1. कैमरा
 2. ताश
 3. प्रिंटर
 4. चमक

Question ID : 65497831279
Status : Answered
Chosen Option : 1

Q.12 दिए गए विकल्पों में से उस अक्षर-समूह का चयन करें, जो निम्नलिखित श्रृंखला में प्रश्नचिह्न (?) के स्थान पर आ सकता है।

BZCA, EXFY, HVIW, KTLU, ?

- Ans 1. NRPS
 2. ORNP
 3. NROS
 4. RNPO

Question ID : 65497831278
Status : Answered
Chosen Option : 3

Q.13 दिए गए विकल्पों में से उस संख्या का चयन करें जो निम्नलिखित श्रृंखला में प्रश्न चिह्न (?) के स्थान पर आ सकती है।

241, 258, 275, 292, ?

- Ans 1. 299
 2. 313
 3. 325
 4. 309

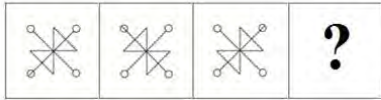
Question ID : 65497831262
Status : Answered
Chosen Option : 4



Download SSC CGL, CHSL E-BOOKS

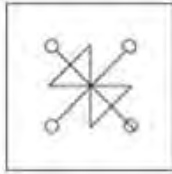
[CLICK HERE](#)

Q.14 दिए गए विकल्पों में से उस आकृति का चयन करें जो निम्नलिखित श्रृंखला में प्रश्न चिह्न (?) के स्थान पर आ सकती है।



Ans

✓ 1.



✗ 2.



✗ 3.



✗ 4.



Question ID : 65497831263
Status : Answered
Chosen Option : 1

Q.15 एक निश्चित कूट भाषा में CLOUD को DMNTE लिखा जाता है और MANGO को NZOHN लिखा जाता है। उसी कूट भाषा में PASTEUR को किस प्रकार लिखा जाएगा?

Ans ✓ 1. QZTUDTS

✗ 2. QZRSDVS

✗ 3. UTBQSVF

✗ 4. QBTUFVS

Question ID : 65497831283
Status : Answered
Chosen Option : 1



Download SSC CGL, CHSL E-BOOKS

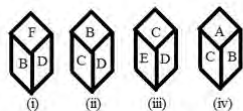
CLICK HERE

Q.16 मनोज अपने घर से निकल कर 7 घंटे में मंदिर पहुंचता है। उसने अपनी दूरी का 1/4 भाग, 10 km/h की चाल से तय किया तथा शेष दूरी को 12 km/h से तय किया। उसके घर से मंदिर की दूरी ज्ञात कीजिए।

- Ans**
- 1. 70 km
 - 2. 90 km
 - 3. 72 km
 - 4. 80 km

Question ID : **65497831274**
 Status : **Answered**
 Chosen Option : **4**

Q.17 एक पासे की चार अलग-अलग स्थितियां दर्शाई गई हैं। उस अक्षर का चयन कीजिए जो 'B' दर्शाने वाले फलक के विपरीत फलक पर होगा?



- Ans**
- 1. C
 - 2. D
 - 3. E
 - 4. F

Question ID : **65497831275**
 Status : **Answered**
 Chosen Option : **3**

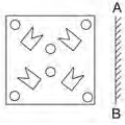
Q.18 उस वेन आरेख का चयन करें, जो निम्नलिखित वर्गों के बीच के संबंध को सबसे अच्छे तरीके से दर्शाता है।

नागरिक शास्त्र, विषय, रसायन विज्ञान

- Ans**
- 1.
 - 2.
 - 3.
 - 4.

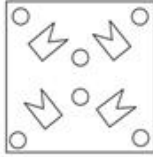
Question ID : **65497831281**
 Status : **Answered**
 Chosen Option : **1**

Q.19 दर्पण को 'AB' पर रखे जाने पर, जैसा कि दर्शाया गया है, दी गई आकृति की सही दर्पण छवि का चयन करें।




Ans

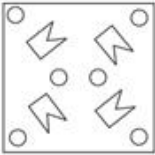
✓ 1.



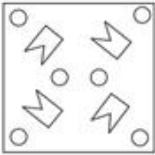
✗ 2.



✗ 3.



✗ 4.



Question ID : 65497831267

Status : Answered

Chosen Option : 1

Q.20 चार अक्षर-समूह दिए गए हैं, जिनमें से तीन किसी तरह से एक समान हैं और एक भिन्न है। उस अक्षर-समूह का चयन करें जो भिन्न है।

Ans ✓ 1. STUV

✗ 2. FGHE

✗ 3. HIJG

✗ 4. BCDA

Question ID : 65497831264

Status : Answered

Chosen Option : 1



Download SSC CGL, CHSL E-BOOKS

[CLICK HERE](#)

Q.21 उस विकल्प का चयन कीजिए जिसका तीसरी संख्या से वही संबंध है जो दूसरी संख्या का पहली संख्या से और छठी संख्या का पांचवी संख्या से है।

13: 156 :: 18: ? :: 17 : 272

- Ans
- 1. 305
 - 2. 306
 - 3. 308
 - 4. 307

Question ID : 65497831271

Status : Answered

Chosen Option : 2

Q.22 दिए गए कथनों और निष्कर्षों को ध्यानपूर्वक पढ़ें। यह मानते हुए कि कथनों में दी गई सूचना सत्य है, भले ही वह सामान्य रूप से ज्ञात तथ्यों से भिन्न प्रतीत होती हो, बताइए कि दिए गए निष्कर्षों में से कौन सा/से निष्कर्ष कथनों का तार्किक रूप से अनुसरण करता है (करते हैं)।

कथन :

सभी बेल्ट, जूते हैं।
सभी जूते, टोपियां हैं।
कुछ हैट, टोपियां हैं।

निष्कर्ष :

- I. कुछ टोपियां, बेल्ट हैं।
- II. कुछ हैट, जूते हैं।
- III. सभी जूते, बेल्ट हैं।

- Ans
- 1. केवल निष्कर्ष I अनुसरण करता है।
 - 2. केवल निष्कर्ष I और III अनुसरण करते हैं।
 - 3. केवल निष्कर्ष II अनुसरण करता है।
 - 4. केवल निष्कर्ष I और II अनुसरण करते हैं।

Question ID : 65497831270

Status : Answered

Chosen Option : 1

Q.23 पाँच व्यक्ति एक पंक्ति में उत्तर दिशा की ओर मुँह किए हुए खड़े हैं। G, J के दाएँ दूसरे स्थान पर खड़ा है। H, K के बगल में नहीं है। यदि M दाएँ छोर से दूसरे स्थान पर खड़ा है, तो पंक्ति के बाएँ छोर पर कौन खड़ा है?

- Ans
- 1. G
 - 2. M
 - 3. J
 - 4. K

Question ID : 65497831280

Status : Answered

Chosen Option : 3



Download SSC CGL, CHSL E-BOOKS

[CLICK HERE](#)

Q.24 एक निश्चित कूट भाषा में, 'GLOBE' को 'KPKFA' लिखा जाता है। उसी कूट भाषा में, 'DRINK' को क्या लिखा जाएगा?

- Ans
- 1. ZVMRG
 - 2. HNEJO
 - 3. ZRVMG
 - 4. HVERO

Question ID : 65497831268
Status : Answered
Chosen Option : 4

Q.25 उस सही विकल्प का चयन कीजिए जो दिए गए शब्दों के उस क्रम को दर्शाता है जिस क्रम में वे अंग्रेजी शब्दकोश में आते हैं।

- 1. Mischievous
- 2. Miscreant
- 3. Millennium
- 4. Misconception
- 5. Millionaire

- Ans
- 1. 3, 5, 2, 4, 1
 - 2. 3, 5, 1, 4, 2
 - 3. 1, 2, 3, 4, 5
 - 4. 3, 5, 1, 2, 4

Question ID : 65497831260
Status : Answered
Chosen Option : 2

Section : Part B General Knowledge and General Awareness

Q.1 निम्नलिखित में से किसने चैस.कॉम (Chess.com) की 2020 जूनियर स्पीड ऑनलाइन चैस चैम्पियनशिप जीती?

- Ans
- 1. अलेक्सी सरना
 - 2. एंटोन स्मिरनोव
 - 3. निहाल सरीन
 - 4. एंड्रयू टैंग

Question ID : 65497831285
Status : Not Answered
Chosen Option : --

Q.2 वस्तुओं और सेवाओं के उत्पादन के लिए सबसे कम क्या आवश्यक है?

- Ans
- 1. कार्य करने के लिए लोग
 - 2. उपकरण, कच्चा माल और धन
 - 3. भूमि और अन्य प्राकृतिक संसाधन
 - 4. लोगों को शिक्षित करने के लिए संस्थान

Question ID : 65497831295
Status : Answered
Chosen Option : 4



Download SSC CGL, CHSL E-BOOKS

[CLICK HERE](#)