

Constable GD in CAPFs NIA SSF and Rifleman GD in Assam Rifles Examination 2021

Roll Number	
Candidate Name	
Venue Name	ION Digital Zone iDZ 1 Hathipur
Exam Date	10/12/2021
Exam Time :	9:00 AM - 10:30 AM
Subject	Constable GD 2021

Section : Part A General Intelligence and Reasoning

Q.1 किसी निश्चित कूट भाषा में, MIND को NJOE के रूप में लिखा जाता है। उसी कूट भाषा में NEFT को किस रूप में लिखा जाएगा?

Ans 1. OFGU

2. GUOF

3. GUFO

4. OFUG

Question ID : 65497829239
Status : Answered
Chosen Option : 1

Q.2 उस विकल्प का चयन कीजिए, जिसका चौथी संख्या से वही संबंध है, जो पहली संख्या का दूसरी संख्या से है और पांचवीं संख्या का छठी संख्या से है।

17 : 119 :: ? : 182 :: 23 : 161

Ans 1. 22

2. 20

3. 26

4. 24

Question ID : 65497829249
Status : Answered
Chosen Option : 3

Q.3 दिए गए विकल्पों में से उस अक्षर-समूह का चयन करें, जो निम्नलिखित श्रृंखला में प्रश्नवाचक चिह्न (?) के स्थान पर आ सकता है।

RAS, UFR, XKQ, APP, DUO, GZN, ?

Ans 1. OPS

2. JEM

3. KYM

4. KFN

Question ID : 65497829232
Status : Answered
Chosen Option : 2



Download SSC CGL, CHSL E-BOOKS

[CLICK HERE](#)

Q.4 अक्षरों के उस संयोजन का चयन कीजिए, जिसे निम्न श्रृंखला के रिक्त स्थानों में क्रमिक रूप से रखने पर यह श्रृंखला पूर्ण हो जाएगी।

C _ P _ _ M _ K C M P _ C M _ K

- Ans
- 1. MKCMKC
 - 2. PKC PKP
 - 3. MKMPKP
 - 4. MKC PKP

Question ID : 65497829229

Status : Answered

Chosen Option : 4

Q.5 एक लड़के की तस्वीर की ओर इशारा करते हुए, माधवी ने कहा, "उसके पिता मेरी बहन के पति की बेटी के नाना/दादा के बेटे हैं"। उस लड़के का माधवी के पिता से क्या संबंध है?

- Ans
- 1. भाई
 - 2. बेटा
 - 3. पोता
 - 4. नाती

Question ID : 65497829238

Status : Answered

Chosen Option : 1

Q.6 दिए गए पैटर्न का ध्यानपूर्वक अध्ययन करें और उस संख्या का चयन करें जो इसमें प्रश्न चिह्न (?) के स्थान पर आ सकती है।

10 5 20
20 10 40
40 20 ?

- Ans
- 1. 60
 - 2. 80
 - 3. 70
 - 4. 90

Question ID : 65497829241

Status : Answered

Chosen Option : 2



Download SSC CGL, CHSL E-BOOKS

[CLICK HERE](#)

Q.7 दिए गए कथनों और निष्कर्षों को ध्यानपूर्वक पढ़ें। यह मानते हुए कि कथनों में दी गई सूचना सही है, भले ही वह सामान्य रूप से ज्ञात तथ्यों से भिन्न प्रतीत होती हो, यह निर्धारित करें कि दिए गए निष्कर्षों में से कौन-से निष्कर्ष कथनों का तार्किक रूप से अनुसरण करते हैं।

कथन:

सभी नर्तक खिलाड़ी हैं।
सभी खिलाड़ी पुरुष हैं।

निष्कर्ष:

I. सभी नर्तक पुरुष हैं।
II. कुछ खिलाड़ी नर्तक हैं।

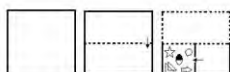
- Ans
- 1. केवल निष्कर्ष I अनुसरण करता है।
 - 2. दोनों निष्कर्ष अनुसरण करते हैं।
 - 3. केवल निष्कर्ष II अनुसरण करता है।
 - 4. या तो निष्कर्ष I या निष्कर्ष II अनुसरण करता है।

Question ID : 65497829240

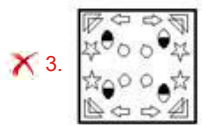
Status : Answered

Chosen Option : 2

Q.8 निम्नांकित चित्रों में एक कागज को मोड़ने का क्रम और मुड़े हुए कागज को काटने का तरीका दर्शाया गया है। मुड़े हुए कागज को खोलने पर यह कैसा दिखाई देगा?



Ans



Question ID : 65497829243

Status : Answered

Chosen Option : 2



Download SSC CGL, CHSL E-BOOKS

CLICK HERE

Q.9 उस विकल्प का चयन कीजिए, जिसमें निम्नलिखित शब्दों का वह क्रम दिया गया है जिस क्रम में वे अंग्रेजी शब्दकोश में आते हैं।

1. Real
2. Rim
3. Rise
4. Rare
5. Rose

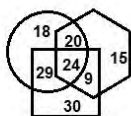
Ans 1. 4, 1, 2, 5, 3
 2. 1, 4, 2, 3, 5
 3. 4, 1, 3, 2, 5
 4. 4, 1, 2, 3, 5

Question ID : 65497829228

Status : Answered

Chosen Option : 4

Q.10 दिए गए आरेख में, षटभुज 'पुस्तकालय कर्मियों' को निरूपित करता है, वर्ग 'कर-दाताओं' को निरूपित करता है और वृत्त 'चित्रकारों' को निरूपित करता है। भिन्न-भिन्न खंडों में दी गई संख्याएँ, उस संवर्ग के व्यक्तियों की संख्या को दर्शाती हैं।



कितने पुस्तकालय कर्मी न तो करदाता हैं, और न ही चित्रकार हैं?

Ans 1. 15
 2. 20
 3. 18
 4. 9

Question ID : 65497829235

Status : Answered

Chosen Option : 1

Q.11 दो क्रमागत संख्याओं और उनमें से बड़ी संख्या के तीन गुने का योग 64 है। सबसे छोटी संख्या ज्ञात कीजिए।

Ans 1. 11
 2. 10
 3. 13
 4. 12

Question ID : 65497829242

Status : Answered

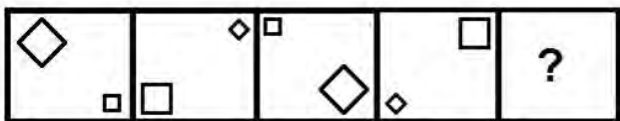
Chosen Option : 4



Download SSC CGL, CHSL E-BOOKS

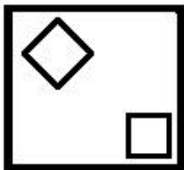
[CLICK HERE](#)

Q.12 निम्नांकित आकृति शृंखला में प्रश्नचिन्ह के स्थान पर आने वाली आकृति का चयन कीजिए।

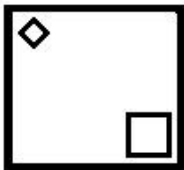


Ans

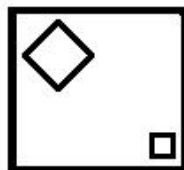
✗ 1.



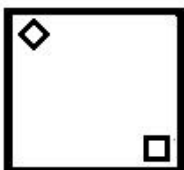
✗ 2.



✓ 3.



✗ 4.



Question ID : 65497829231
Status : Answered
Chosen Option : 3

Q.13 एक निश्चित कूट भाषा में 'BROKEN' को 'EUSOJS' और 'RASHES' को 'UDWLJX' के रूप में लिखा जाता है। उसी कूट भाषा में 'CONFER' किस रूप में लिखा जाएगा?

Ans ✗ 1. FSRKJW

✗ 2. FRSJJV

✗ 3. FQRIJX

✓ 4. FRRJJW

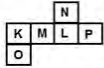
Question ID : 65497829237
Status : Answered
Chosen Option : 4



Download SSC CGL, CHSL E-BOOKS

[CLICK HERE](#)

Q.14 जब दी गई शीट को मोड़कर एक घन बनाया जाता है, तो अक्षरों का कौन-सा युग्म विपरीत फलकों पर नहीं होगा?



- Ans
- 1. M और P
 - 2. L और O
 - 3. N और O
 - 4. K और L

Question ID : 65497829251
Status : Answered
Chosen Option : 2

Q.15 दिए गए समीकरण को सही करने के लिए किन दो चिह्नों को आपस में बदला जाना चाहिए?

$$15 - 14 \div 21 \times 27 + 9 = 64$$

- Ans
- 1. \times और $+$
 - 2. $+$ और $+$
 - 3. $+$ और $-$
 - 4. $+$ और \times

Question ID : 65497829250
Status : Answered
Chosen Option : 2

Q.16 चार अक्षर-समूह दिए गए हैं, जिनमें से तीन किसी तरह से संगत हैं और एक असंगत है। उस अक्षर-समूह का चयन करें, जो अन्य से असंगत है।

- Ans
- 1. DBZX
 - 2. TRPN
 - 3. NLJH
 - 4. CAYV

Question ID : 65497829244
Status : Answered
Chosen Option : 4

Q.17 A, B, C, D, E और F छः मित्र, तीन तीन करके दो पंक्तियों में बैठे हुए हैं। दोनों पंक्तियों में बैठे हुए मित्रों के मुंह आमने-सामने हैं। C के सामने F है। F ठीक B और E के बीच में है। A के सामने B है। सभी मित्रों में से कौन चारों छोरों में किसी भी छोर पर नहीं बैठा है?

- Ans
- 1. A
 - 2. B
 - 3. D
 - 4. C

Question ID : 65497829234
Status : Answered
Chosen Option : 4



Download SSC CGL, CHSL E-BOOKS

[CLICK HERE](#)

Q.18 दिए गए विकल्पों में से उस संख्या का चयन करें, जो निम्नलिखित श्रृंखला में प्रश्नवाचक चिह्न (?) के स्थान पर आ सकती है।

86, 90, 106, 170, ?

- Ans
- 1. 522
 - 2. 345
 - 3. 426
 - 4. 380

Question ID : 65497829230
Status : Answered
Chosen Option : 3

Q.19 एक निश्चित कूट भाषा में, TABLET को 20-1-2-12-5-40 लिखा जाता है। उसी कूट भाषा में RHESUS को किस प्रकार लिखा जाएगा?

- Ans
- 1. 19-8-5-19-21-38
 - 2. 18-8-5-19-21-38
 - 3. 18-8-5-19-20-19
 - 4. 18-9-5-18-21-36

Question ID : 65497829245
Status : Answered
Chosen Option : 2

Q.20 दिए गए संयोजन के सही दर्पण प्रतिबिंब का चयन कीजिए, जबकि दर्पण को इसकी दाईं ओर रखा गया है।

4 8 7 3 2 1

- Ans
- 1.
 - 2.
 - 3.
 - 4.

Question ID : 65497829247
Status : Answered
Chosen Option : 2

Q.21 आठ मित्र A, B, C, D, E, F, G और H, एक वृत्ताकार मेज के चारों ओर एक दूसरे से समान दूरी पर इसी क्रम में वामावर्त बैठे हुए हैं। सभी के मुंह मेज के केंद्र की ओर हैं। G पूर्व दिशा में बैठा है। C और E आपस में अपना स्थान बदल लेते हैं। इनमें से कौन दक्षिण-पूर्व दिशा में बैठा है?

- Ans
- 1. E
 - 2. H
 - 3. F
 - 4. D

Question ID : 65497829248
Status : Answered
Chosen Option : 2



Download SSC CGL, CHSL E-BOOKS

[CLICK HERE](#)

Q.22 जिस प्रकार 'डेनमार्क', 'कोपेनहेगन' से संबंधित है, उसी प्रकार 'मिस्र', '_____ ' से संबंधित है।

- Ans
- 1. पेसो
 - 2. अफ्रीका
 - 3. जकार्ता
 - 4. काहिरा

Question ID : 65497829233
Status : Answered
Chosen Option : 4

Q.23 दिए गए विकल्पों में से उस संख्या का चयन कीजिए, जो निम्नलिखित श्रेणी में प्रश्नवाचक चिन्ह (?) के स्थान पर आ सकती है।

24, 25, 33, 60, ?, 249

- Ans
- 1. 124
 - 2. 156
 - 3. 148
 - 4. 90

Question ID : 65497829246
Status : Answered
Chosen Option : 1

Q.24 उस विकल्प का चयन करें, जिसमें दी गई आकृति अंतर्निहित है (आकृति को घुमाने की अनुमति नहीं है)।



Ans

- 1.
- 2.
- 3.
- 4.

Question ID : 65497829252
Status : Answered
Chosen Option : 3



Download SSC CGL, CHSL E-BOOKS

[CLICK HERE](#)

Q.25 उस विकल्प का चयन कीजिए जो तृतीय पद से उसी तरह से संबंधित है जैसे द्वितीय पद प्रथम पद से संबंधित है।

AHEAD : ZFBWY :: VALOR : ?

- Ans 1. UYIKM
 2. UZJLO
 3. WCORV
 4. VYJIM

Question ID : 65497829236
Status : Answered
Chosen Option : 1

Section : Part B General Knowledge and General Awareness

Q.1 निम्नलिखित में से कौन सा एक केंद्रीय स्तर का कर है, जिसे वस्तु एवं सेवा कर (GST) में शामिल कर दिया गया?

- Ans 1. उत्पाद शुल्क
 2. मनोरंजन कर
 3. चुंगी
 4. क्रय कर

Question ID : 65497829273
Status : Answered
Chosen Option : 1

Q.2 मूसा पाराडिसिअका (Musa paradisiaca) का सामान्य प्रचलित नाम क्या है?

- Ans 1. तरबूज
 2. सेब
 3. केला
 4. अमरूद

Question ID : 65497829276
Status : Answered
Chosen Option : 1

Q.3 निम्नलिखित में से कौन सा विटामिन मानव शरीर में कोशिकाओं को एक साथ रखने में मदद करता है?

- Ans 1. विटामिन C
 2. विटामिन K
 3. विटामिन A
 4. विटामिन E

Question ID : 65497829275
Status : Answered
Chosen Option : 2



Download SSC CGL, CHSL E-BOOKS

[CLICK HERE](#)