

Constable GD in CAPFs NIA SSF and Rifleman GD in Assam Rifles Examination 2021

Roll Number	
Candidate Name	
Venue Name	iON Digital Zone iDZ Mathura Road
Exam Date	09/12/2021
Exam Time :	4:00 PM - 5:30 PM
Subject	Constable GD 2021

Section : Part A General Intelligence and Reasoning

Q.1 'मुद्रास्फूर्ति' का जो संबंध 'अपस्फूर्ति' से है वही संबंध 'त्वरित' का '____' से है।

- Ans
- 1. प्रतिवर्त
 - 2. तीव्र
 - 3. मंदी
 - 4. दौड़

Question ID : 65497834059
Status : Answered
Chosen Option : 3

Q.2 किसी कूट भाषा में, ALMOND को BMNPOE के रूप में लिखा जाता है। उसी भाषा में MENTAL को किस प्रकार से लिखा जाएगा?

- Ans
- 1. NFOUBM
 - 2. NFOOBM
 - 3. FNGOMB
 - 4. FNOOBM

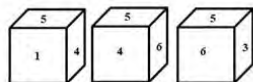
Question ID : 65497834067
Status : Answered
Chosen Option : 1



Download SSC CGL, CHSL E-BOOKS

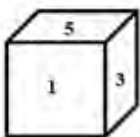
[CLICK HERE](#)

9.3 एक ही पासे की तीन विभिन्न स्थितियाँ दर्शाई गई हैं। इस पासे को अगली बार घुमाने पर इसकी आने वाली स्थिति का चयन करें।

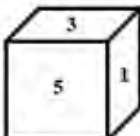


Ans

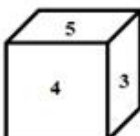
1.



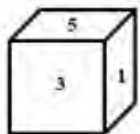
2.



3.



4.



Question ID : 65497834065

Status : Answered

Chosen Option : 4

9.4 दिए गए विकल्पों में से उस संख्या का चयन करें जो निम्नलिखित श्रृंखला में प्रश्न चिह्न (?) के स्थान पर आ सकती है।

2, 6, 12, ?, 30

Ans

1. 20

2. 24

3. 18

4. 26

Question ID : 65497834074

Status : Answered

Chosen Option : 1

9.5 चार अक्षर-समूह दिए गए हैं, जिनमें से तीन किसी तरह से एक समान हैं और एक असंगत है। उस अक्षर-समूह का चयन करें जो असंगत है।

Ans

1. RTUS

2. KMNL

3. JLMK

4. OQSP

Question ID : 65497834072

Status : Answered

Chosen Option : 4



Download SSC CGL, CHSL E-BOOKS

CLICK HERE

Q.6 छह लड़कियां, P, Q, R, S, T और U दो पंक्तियों में बैठी हैं। एक पंक्ति दूसरी पंक्ति के पीछे है। सभी लड़कियां उत्तर दिशा की ओर अभिमुख हैं। आगे की पंक्ति में तीन लड़कियां हैं। शेष लड़कियां दूसरी पंक्ति में बैठी हैं। T ठीक P के पीछे बैठी है। R ठीक U के बाएं पड़ोस में बैठी है। S ठीक T और Q के बीच में बैठी है। S ठीक Q के बाएं पड़ोस में बैठी है। R के ठीक पीछे कौन सी लड़की बैठी है?

Ans 1. ज्ञात नहीं किया जा सकता है

2. P

3. Q

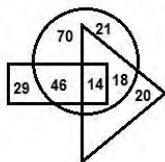
4. S

Question ID : 65497834060

Status : Answered

Chosen Option : 4

Q.7 निम्नलिखित चित्र में, आयत, 'योग शिक्षकों' को दर्शाता है, वृत्त, 'भारतीयों' को दर्शाता है और विभुज, 'सामाजिक कार्यकर्ताओं' को दर्शाता है। विभिन्न खंडों में दी गई संख्याएँ उस श्रेणी के व्यक्तियों की संख्या को दर्शाती हैं।



कितने भारतीय सामाजिक कार्यकर्ता हैं लेकिन योग शिक्षक नहीं हैं?

Ans 1. 14

2. 20

3. 18

4. 21

Question ID : 65497834061

Status : Answered

Chosen Option : 3



Download SSC CGL, CHSL E-BOOKS

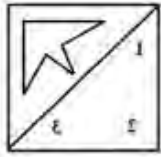
[CLICK HERE](#)

Q.8 दर्पण को आकृति के दाईं ओर रखे जाने पर, दी गई आकृति का दर्पण में निर्मित सही प्रतिबिंब चयनित करें।

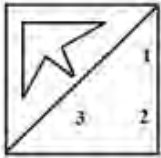


Ans

✓ 1.



✗ 2.



✗ 3.



✗ 4.



Question ID : 65497834075

Status : Answered

Chosen Option : 1

Q.9 उस विकल्प का चयन करें जो तीसरे पद से उसी प्रकार संबंधित है जिस प्रकार दूसरा पद पहले पद से संबंधित है।

MUSCLE : CSMEUL :: WONDER : ?

Ans ✗ 1. DWNERO

✓ 2. DNWROE

✗ 3. NOEWD R

✗ 4. DNORWE

Question ID : 65497834076

Status : Answered

Chosen Option : 2



Download SSC CGL, CHSL E-BOOKS

[CLICK HERE](#)

Q.10 M, N, O और P एक गोल कार्यालय-मेज़ के परितः एक दूसरे से समान दूरी पर बैठे हैं। E, F, G और H भी बैठक में सम्मिलित हो गए हैं। M, F के सामने और O और G के बीच में बैठा है। P, G के दाईं ओर दूसरे स्थान पर और H के बाईं ओर तीसरे स्थान पर बैठा है। यदि N, H के सामने बैठा है, तो F के पड़ोस में कौन से 2 लोग बैठे हैं?

- Ans
- 1. H, P
 - 2. P, E
 - 3. E, N
 - 4. O, H

Question ID : 65497834062

Status : Answered

Chosen Option : 2

Q.11 दिए गए विकल्पों में से उस अक्षर-समूह का चयन करें जो निम्नलिखित श्रेणी में प्रश्नवाचक चिह्न (?) के स्थान पर आ सकता है।

TH, VJ, YM, ?, HV

- Ans
- 1. DR
 - 2. BR
 - 3. HS
 - 4. CO

Question ID : 65497834058

Status : Answered

Chosen Option : 4

Q.12 दिए गए कथनों और निष्कर्षों को ध्यानपूर्वक पढ़ें। यह मानते हुए कि कथनों में दी गई सूचना सही है, भले ही वह सामान्य रूप से ज्ञात तथ्यों से भिन्न प्रतीत होती हो, और यह निर्धारित करें कि दिए गए निष्कर्षों में से कौन-सा/से निष्कर्ष कथनों का तार्किक रूप से अनुसरण करता है/करते हैं।

कथन:

सभी पुस्तकें रजिस्टर हैं।
सभी रजिस्टर पेंसिल हैं।

निष्कर्ष:

- I. सभी पुस्तकें पेंसिल हैं।
- II. कोई भी रजिस्टर कलम नहीं है।

- Ans
- 1. केवल निष्कर्ष I अनुसरण करता है।
 - 2. केवल निष्कर्ष II अनुसरण करता है।
 - 3. या तो निष्कर्ष I या निष्कर्ष II अनुसरण करता है।
 - 4. दोनों निष्कर्ष अनुसरण करते हैं।

Question ID : 65497834068

Status : Answered

Chosen Option : 1



Download SSC CGL, CHSL E-BOOKS

CLICK HERE

Q.13 निम्नलिखित विकल्पों में से उस विकल्प का चयन करें, जो दिए गए शब्दों के उस सही क्रम को दर्शाता है, जिस क्रम में ये शब्द अंग्रेजी शब्दकोश में दिखाई देते हैं।

1. Prelude
2. Pressure
3. Presume
4. Product
5. Profess

- Ans
- 1. 1, 2, 3, 5, 4
 - 2. 1, 2, 4, 3, 5
 - 3. 1, 2, 3, 4, 5
 - 4. 1, 4, 2, 3, 5

Question ID : 65497834054
Status : Answered
Chosen Option : 3

Q.14 उस विकल्प का चयन करें जो तीसरी संख्या से उसी प्रकार संबंधित है जिस प्रकार दूसरी संख्या पहली संख्या से संबंधित है।

9 : 107 :: 8 : ?

- Ans
- 1. 112
 - 2. 96
 - 3. 100
 - 4. 98

Question ID : 65497834063
Status : Answered
Chosen Option : 4

Q.15 एक निश्चित कूट भाषा में, CHAMPION को NIMHOPAC के रूप में लिखा जाता है। उसी भाषा में CHILDREN को किस रूप में लिखा जाएगा?

- Ans
- 1. RENDLIHC
 - 2. DLIHCNER
 - 3. NRLHEDIC
 - 4. IENRDLHC

Question ID : 65497834077
Status : Answered
Chosen Option : 3

Q.16 यदि 'P' 'जोड़' को निर्दिष्ट करता है, 'D' 'घटाने' को निर्दिष्ट करता है, 'S' 'गुणा' को निर्दिष्ट करता है, और 'V' 'भाग' को निर्दिष्ट करता है, तो निम्नलिखित व्यंजक का मान क्या होगा?

5 (7 S 3) D 3 (8 P 6) V 7 D 11 (3 S 13 S 2) P 2 (4 I S 9)

- Ans
- 1. 39
 - 2. -93
 - 3. 21
 - 4. -21

Question ID : 65497834064
Status : Answered
Chosen Option : 4



Q.17 जब एक संख्या को उसकी अगली संख्या में जोड़ा जाता है और उनको अन्य एक संख्या में जोड़ा जाता है जो कि उस अगली संख्या की 2 गुनी है, तो इन तीनों संख्याओं का योग 35 होता है। वह संख्या बताइए।

- Ans 1.8
 2.6
 3.7
 4.9

Question ID : 65497834070
Status : Answered
Chosen Option : 1

Q.18 एक निश्चित कूट भाषा में, ANGER को 45 के रूप में कूटबद्ध किया जाता है। उसी भाषा में CRUEL को किस रूप में कूटबद्ध किया जाएगा?

- Ans 1.58
 2.56
 3.59
 4.55

Question ID : 65497834073
Status : Answered
Chosen Option : 3

Q.19 दिए गए पैटर्न का ध्यानपूर्वक अध्ययन करें और उस संख्या का चयन करें जो इसमें प्रश्न चिह्न (?) के स्थान पर आ सकती है।

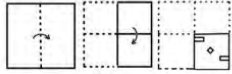
14 10 38
15 20 50
16 30 ?

- Ans 1.64
 2.60
 3.58
 4.62

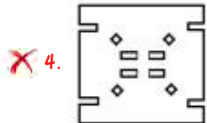
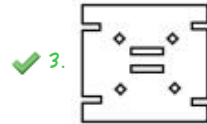
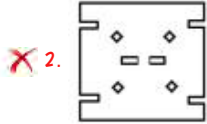
Question ID : 65497834069
Status : Answered
Chosen Option : 4



Q.20 नीचे दी गई आकृतियों में कागज़ के एक टुकड़े को मोड़ने और मोड़े गए कागज़ को काटने के तरीके का क्रम दर्शाया गया है। कागज़ को खोले जाने पर वह कैसा दिखाई देगा?



Ans



Question ID : 65497834071

Status : Answered

Chosen Option : 3

Q.21 अक्षरों के उस संयोजन का चयन करें, जिन्हें जब दी गई श्रृंखला के रिक्त स्थानों में क्रमिक रूप से रखा जाए, तो श्रृंखला पूर्ण होगी।

Y _ D P _ A _ P Y A D _ Y A _ P

Ans 1. P Y D P D

2. A Y P D Y

3. A Y D P D

4. A Y D P Y

Question ID : 65497834055

Status : Answered

Chosen Option : 3

Q.22 M, S का इकलौता बेटा है। F, Y की बेटी है और P की इकलौती भतीजी/भांजी है। P, S की इकलौती बेटी है। Y का संबंध M के साथ किस रूप में है?

Ans 1. ममेरी बहन

2. बहन

3. पत्नी

4. चाची

Question ID : 65497834078

Status : Answered

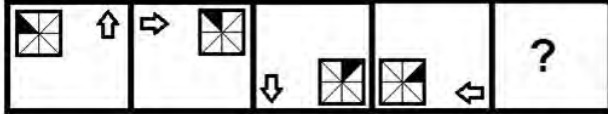
Chosen Option : 4



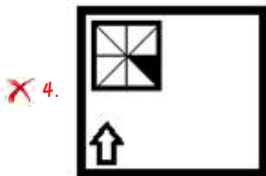
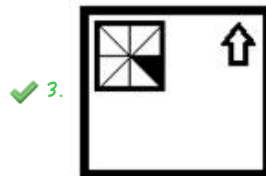
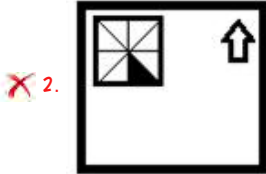
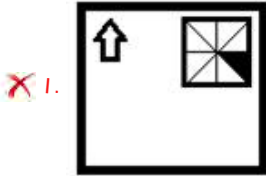
Download SSC CGL, CHSL E-BOOKS

CLICK HERE

9.23 निम्नांकित आकृति शृंखला में प्रश्नचिह्न (?) के स्थान पर आने वाली आकृति का चयन करें।



Ans

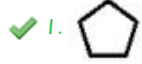


Question ID : 65497834057
Status : Answered
Chosen Option : 3

Q.24 उस विकल्प का चयन करें जो दी गई आकृति में अंतर्निहित है (आकृति को घुमाने की अनुमति नहीं है)।



Ans



Question ID : 65497834066

Status : Answered

Chosen Option : 1

Q.25 दिए गए विकल्पों में से उस संख्या का चयन करें, जो निम्नलिखित श्रृंखला में प्रश्नवाचक चिह्न (?) के स्थान पर आ सकती है।

15, 30, 50, 75, 105, ?, 180

Ans

✓ 1. 140

✗ 2. 155

✗ 3. 98

✗ 4. 108

Question ID : 65497834056

Status : Answered

Chosen Option : 1

Section : Part B General Knowledge and General Awareness

Q.1 अमेरिकी भूविज्ञानी चार्ल्स वेल्ड और दोराबजी टाटा ने लोहे के अयस्कों की खोज कहां की थी?

Ans

✓ 1. राजहारा की पहाड़ियां

✗ 2. बैलाडिला

✗ 3. बोरिया टिब्बू

✗ 4. एकलामा

Question ID : 65497834099

Status : Answered

Chosen Option : 3



Download SSC CGL, CHSL E-BOOKS

CLICK HERE