

Constable GD in CAPFs NIA SSF and Rifleman GD in Assam Rifles Examination 2021


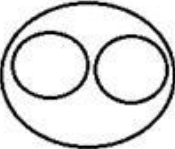
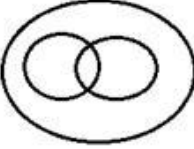
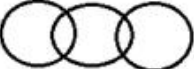
Roll Number	
Candidate Name	
Venue Name	Shubham Foundation
Exam Date	09/12/2021
Exam Time :	12:30 PM - 2:00 PM
Subject	Constable GD 2021

Section : Part A General Intelligence and Reasoning

Q.1 उस वेन आरेख का चयन करें जो निम्नलिखित वर्गों के मध्य संबंधों को सर्वोत्तम तरीके से निरूपित करता है।

यमुना, नदी, नर्मदा

Ans

- ✗ 1. 
- ✓ 2. 
- ✗ 3. 
- ✗ 4. 

Question ID : 65497831026

Status : Answered

Chosen Option : 2

Q.2 दिए गए विकल्पों में से वह संख्या चुनें जो निम्नलिखित श्रेणी में प्रश्नवाचक चिह्न (?) के स्थान पर आ सकती है।

46, 54, 70, 102, 166, ?

Ans

- ✗ 1. 290
- ✗ 2. 305
- ✓ 3. 294
- ✗ 4. 314

Question ID : 65497831008

Status : Answered

Chosen Option : 3



Download SSC CGL, CHSL E-BOOKS

[CLICK HERE](#)

Q.3 उस विकल्प का चयन करें जो तीसरी संख्या से उसी प्रकार संबंधित है जिस प्रकार दूसरी संख्या पहली संख्या से संबंधित है।

9766 : 6433 :: 6875 : ?

- Ans
- 1. 4258
 - 2. 3542
 - 3. 3658
 - 4. 2789

Question ID : 65497831016
Status : Answered
Chosen Option : 2

Q.4 एक निश्चित कूट भाषा में, 'RHINO' को 'POJIS' के रूप में लिखा जाता है और 'TIGER' को 'SFHJU' के रूप में लिखा जाता है। उसी भाषा में 'HORSE' को किस रूप में लिखा जाएगा?

- Ans
- 1. ETRPJ
 - 2. ETSPI
 - 3. FTSPI
 - 4. FRSQJ

Question ID : 65497831010
Status : Answered
Chosen Option : 3

Q.5 चार अक्षर-समूह दिए गए हैं, जिनमें से तीन किसी तरह से संगत हैं और एक असंगत है। उस अक्षर-समूह का चयन करें, जो अन्य से असंगत है।

- Ans
- 1. ZDHLP
 - 2. LPTXB
 - 3. QUYBG
 - 4. BFJNR

Question ID : 65497831027
Status : Answered
Chosen Option : 3

Q.6 दिए गए संयोजन के सही दर्पण प्रतिबिंब का चयन कीजिए, जबकि दर्पण को इसकी दाईं ओर रखा गया है।

D 7 9 3 s q g

- Ans
- 1. p p a e 6 7 D
 - 2. 6 b a e e 7 D
 - 3. p p a e e 7 D
 - 4. p p s e e 7 D

Question ID : 65497831030
Status : Answered
Chosen Option : 3



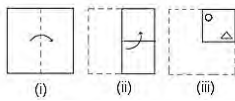
Q.7 दिए गए विकल्पों में से उस अक्षर-समूह का चयन कीजिए जो दी गई श्रृंखला में प्रश्न चिह्न (?) के स्थान पर प्रतिस्थापित हो सकता है।

REST, UCXR, XACP, AYHN, ?

- Ans
- 1. XAML
 - 2. DWML
 - 3. DAMP
 - 4. XWNL

Question ID : 65497831023
 Status : Answered
 Chosen Option : 2

Q.8 नीचे दी गई आकृतियों में काराज के एक टुकड़े को मोड़ने और मोड़े गए काराज को काटने के तरीके का क्रम दर्शाया गया है। काराज को खोले जाने पर वह कैसा दिखाई देगा?



- Ans
- 1.
 - 2.
 - 3.
 - 4.

Question ID : 65497831014
 Status : Answered
 Chosen Option : 2

Q.9 एक निश्चित कूट भाषा में, PACKING को 7149113116 लिखा जाता है। उसी कूट भाषा में FRUITS को किस प्रकार लिखा जाएगा?

- Ans
- 1. 1820921187
 - 2. 19219201863
 - 3. 1920921186
 - 4. 6201821186

Question ID : 65497831028
 Status : Answered
 Chosen Option : 3

Q.10 दिए गए कथनों और निष्कर्षों को ध्यान से पढ़ें। यह मानते हुए कि कथनों में दी गई जानकारी सत्य है, भले ही यह सामान्य रूप से ज्ञात तथ्यों से भिन्न प्रतीत होती हो, यह निर्णय लें कि दिए गए निष्कर्षों में से कौन सा / कौन से निष्कर्ष कथनों का तार्किक रूप से अनुसरण करता है / करते हैं।

कथन:

सभी अंगूर फल हैं।
कुछ सब्जियाँ अंगूर हैं।

निष्कर्ष:

I. कुछ सब्जियाँ फल हैं।
II. सभी अंगूर सब्जियाँ हैं।

- Ans
- 1. निष्कर्ष I और II दोनों ही अनुसरण करते हैं।
 - 2. न तो निष्कर्ष I और न ही II अनुसरण करता है।
 - 3. केवल निष्कर्ष II अनुसरण करता है।
 - 4. केवल निष्कर्ष I अनुसरण करता है।

Question ID : 65497831011

Status : Answered

Chosen Option : 4

Q.11 एक विशिष्ट कूट भाषा में, 'BEHIND' को 'BLGJGD' लिखा जाता है। इस भाषा में 'ORANGE' को क्या लिखा जाएगा?

- Ans
- 1. PLCETQ
 - 2. CELCTQ
 - 3. CLECCQT
 - 4. NQCLTF

Question ID : 65497831021

Status : Answered

Chosen Option : 2

Q.12 A, B का भाई है। C, B का पति है। C, E का बेटा है। S, E की पत्नी है। S, B से किस प्रकार संबंधित है?

- Ans
- 1. सास
 - 2. मामी
 - 3. बहू
 - 4. भतीजी

Question ID : 65497831022

Status : Answered

Chosen Option : 1



Download SSC CGL, CHSL E-BOOKS

[CLICK HERE](#)

Q.13 उस सही विकल्प का चयन करें, जो दिए गए शब्दों को उस क्रम में दर्शाता है जिस क्रम में वे अंग्रेजी शब्दकोश में दिखाई पड़ते हैं।

1. Tackle
2. Topper
3. Topic
4. Terminal
5. Termite

- Ans
- 1. 4, 1, 5, 3, 2
 - 2. 1, 5, 4, 3, 2
 - 3. 1, 4, 5, 3, 2
 - 4. 1, 4, 5, 2, 3

Question ID : 65497831006
Status : Answered
Chosen Option : 3

Q.14 'ब्रोंकाइटिस' का जो संबंध 'फेफड़ों' से है, वही संबंध 'ग्लूकोमा' का ' _____ ' से है।

- Ans
- 1. त्वचा
 - 2. आँखों
 - 3. जिक्का
 - 4. अग्राशय

Question ID : 65497831024
Status : Answered
Chosen Option : 1



Download SSC CGL, CHSL E-BOOKS

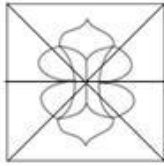
[CLICK HERE](#)

Q.15 उस विकल्प का चयन करें जिसमें दी गई आकृति अंतर्निहित है (घुमाने की अनुमति नहीं है)।

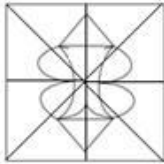


Ans

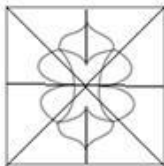
✓ 1.



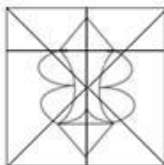
✗ 2.



✗ 3.



✗ 4.



Question ID : 65497831019

Status : Answered

Chosen Option : 1

Q.16 उस विकल्प का चयन करें जो तीसरे पद से उसी प्रकार संबंधित है, जिस प्रकार दूसरा पद पहले पद से संबंधित है।

ROCK : OGSV :: LAST : ?

Ans ✓ 1. XWEP

✗ 2. PETV

✗ 3. XVID

✗ 4. ODVX

Question ID : 65497831020

Status : Answered

Chosen Option : 1



Download SSC CGL, CHSL E-BOOKS

[CLICK HERE](#)

Q.17 चार संख्या-त्रय (नंबर-ट्रायड) दिए गए हैं, जिनमें से तीन किसी तरह से एक समान हैं और एक भिन्न है। उस संख्या-त्रय (नंबर-ट्रायड) का चयन करें जो भिन्न है।

- Ans 1. (42, 79, 126)
 2. (27, 64, 101)
 3. (35, 72, 109)
 4. (54, 91, 128)

Question ID : 65497831012
Status : Answered
Chosen Option : 1

Q.18 दिए गए विकल्पों में से उस संख्या का चयन कीजिए, जो निम्नलिखित श्रेणी में प्रश्नवाचक चिह्न (?) के स्थान पर आ सकती है।

29, 38, 63, 112, 193, ?

- Ans 1. 327
 2. 385
 3. 303
 4. 314

Question ID : 65497831029
Status : Answered
Chosen Option : 4

Q.19 सात व्यक्ति, A, B, C, D, E, F और G, सात तलों वाले एक भवन में विभिन्न तलों पर रह रहे हैं। B और D के तलों के बीच चार तल हैं, और B, D से ऊपर वाले तल पर रहता है। E और A के तलों के बीच दो तल हैं, और A, E से नीचे वाले तल पर रहता है। C भू-तल पर रहता है। G और F पड़ोसी तल पर रहते हैं। C और F के तलों के बीच दो तल हैं, और F, C से ऊपर वाले तल पर रहता है।

सबसे ऊपर वाले तल पर कौन रह रहा है?

- Ans 1. G
 2. D
 3. A
 4. B

Question ID : 65497831015
Status : Answered
Chosen Option : 4

Q.20 निम्नलिखित समीकरण को सही करने के लिए किन दो गणितीय चिह्नों को आपस में बदलने की आवश्यकता है?

$$106 \div 3 \times 2 + 70 - 7 = 110$$

- Ans 1. - और ÷
 2. + और -
 3. × और -
 4. × और +

Question ID : 65497831017
Status : Answered
Chosen Option : 1



Download SSC CGL, CHSL E-BOOKS

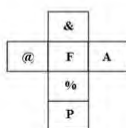
[CLICK HERE](#)

Q.21 A, B, C, D, E और F, छह सेवानिवृत्त अंतरराष्ट्रीय क्रिकेट खिलाड़ी हैं जो एक टीवी शो में, एक पंक्ति में एक के बाद दूसरे के आधार पर बैठे हैं। E और F पंक्ति में छोर पर हैं। C, E के बाएं दूसरे स्थान पर है। B, F के दाएं दूसरे स्थान पर है। A, B के बाएं पड़ोस में बैठा है। C के दाईं ओर पड़ोस में D है। बाएं से चौथे स्थान पर कौन है?

- Ans 1. C
 2. A
 3. B
 4. D

Question ID : 65497831025
 Status : Answered
 Chosen Option : 1

Q.22 दिए गए पत्रक (शीट) को मोड़कर एक घन बनाया गया है। इस प्रकार बने घन में, & प्रतीक दर्शाने वाले फलक के विपरीत फलक पर कौन सा अक्षर/प्रतीक होगा?



- Ans 1. @
 2. A
 3. %
 4. P

Question ID : 65497831018
 Status : Answered
 Chosen Option : 3

Q.23 निम्नलिखित भिन्नो में सबसे बड़े और सबसे छोटे भिन्न के बीच क्या अंतर है?

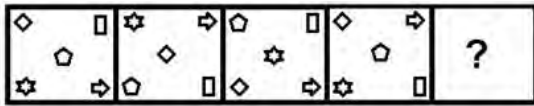
$$\frac{4}{5}, \frac{5}{6}, \frac{3}{8}, \frac{5}{7}, \frac{6}{7}$$

- Ans 1. $\frac{15}{28}$
 2. $\frac{13}{49}$
 3. $\frac{27}{56}$
 4. $\frac{15}{42}$

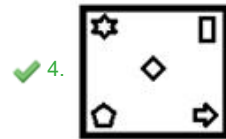
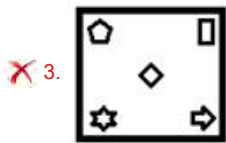
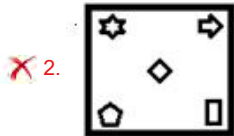
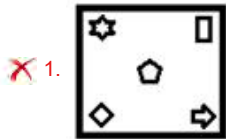
Question ID : 65497831013
 Status : Answered
 Chosen Option : 3



Q.24 उस आकृति का चयन करें जो निम्नलिखित आकृति श्रेणी में अगले स्थान पर आएगी।



Ans



Question ID : 65497831009

Status : Not Answered

Chosen Option : --

Q.25 अक्षरों के उस संयोजन का चयन करें जिसे दी गई श्रेणी में रिक्त स्थानों पर क्रमिक रूप से रखने पर श्रेणी पूर्ण हो जाएगी।

A Y _ Q A _ M Q _ Y M _ A _ M Q _ Y _ Q

Ans ✗ 1. MYAAAYAY

✓ 2. MYAQYAM

✗ 3. MAYYQMA

✗ 4. YMAQYAM

Question ID : 65497831007

Status : Answered

Chosen Option : 2

Section : Part B General Knowledge and General Awareness