

Constable GD in CAPFs NIA SSF and Rifleman GD in Assam Rifles Examination 2021

Roll Number	
Candidate Name	
Venue Name	ION Digital Zone iDZ 2 Mathura Road
Exam Date	09/12/2021
Exam Time :	9:00 AM - 10:30 AM
Subject	Constable GD 2021

Section : Part A General Intelligence and Reasoning

Q.1 दिए गए विकल्पों में से उस अक्षर-समूह का चयन करें जो निम्नलिखित श्रृंखला में प्रश्न चिह्न (?) के स्थान पर आ सकता है।

DMI, GNL, JOO, ?

- Ans
- 1. LPQ
 - 2. MPR
 - 3. NTS
 - 4. OQR

Question ID : 65497828470
Status : Answered
Chosen Option : 2

Q.2 उस विकल्प का चयन करें जो तीसरे अक्षर-समूह से ठीक उसी प्रकार से संबंधित है जैसे दूसरा अक्षर-समूह पहले अक्षर-समूह से संबंधित है।

SBQN : UEVU :: LRFH : ?

- Ans
- 1. NVLO
 - 2. NUKO
 - 3. OULO
 - 4. MVKO

Question ID : 65497828479
Status : Answered
Chosen Option : 2

Q.3 अक्षरों के उस संयोजन का चयन कीजिए, नीचे जिसे दी गई अक्षर श्रृंखला के रिक्त स्थानों में क्रमिक रूप से रखने पर श्रृंखला पूर्ण हो जाएगी।

D _ CT _ O _ TDOC _ DO _ T

- Ans
- 1. ODCTC
 - 2. ODCTD
 - 3. ODTTT
 - 4. TDCTC

Question ID : 65497828467
Status : Answered
Chosen Option : 1



Download SSC CGL, CHSL E-BOOKS

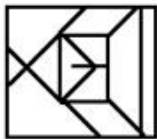
[CLICK HERE](#)

Q.4 उस विकल्प का चयन करें जिसमें दी गई आकृति अंतर्निहित है (घुमाने की अनुमति नहीं है)।

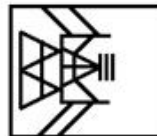
E

Ans

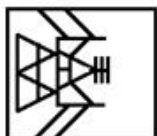
1.



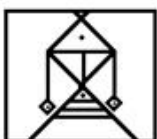
2.



3.



4.



Question ID : 65497828486

Status : Answered

Chosen Option : 2

Q.5 किसी निश्चित कूट भाषा में, TURTLE को RWPVJG के रूप में लिखा जाता है। उसी भाषा में OCTOPUS को किस रूप में लिखा जाएगा?

Ans

1. MEVMRSU

2. QARQNWQ

3. MERQMSU

4. MERQNWQ

Question ID : 65497828480

Status : Answered

Chosen Option : 4

Q.6 दिए गए विकल्पों में से उस संख्या का चयन कीजिए जो निम्न श्रृंखला में प्रश्न चिह्न (?) के स्थान पर आ सकती है।

25, 150, 145, 580, 577, ?

Ans

1. 1020

2. 980

3. 1731

4. 1154

Question ID : 65497828468

Status : Answered

Chosen Option : 3



Download SSC CGL, CHSL E-BOOKS

[CLICK HERE](#)

Q.7 एक निश्चित कूट भाषा में, PLACARD को 29-3-23 लिखा जाता है, और DORMATS को 37-13-40 लिखा जाता है। उसी कूट भाषा में CONFUSE को किस प्रकार लिखा जाएगा?

- Ans
- 1. 30-6-44
 - 2. 35-6-42
 - 3. 32-7-40
 - 4. 32-6-45

Question ID : 65497828488
 Status : Answered
 Chosen Option : 4

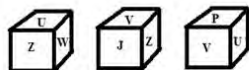
Q.8 उस आकृति का चयन कीजिए जो निम्न आकृति श्रृंखला में प्रश्नवाचक चिह्न (?) के स्थान पर आएगी।



- Ans
- 1.
 - 2.
 - 3.
 - 4.

Question ID : 65497828469
 Status : Answered
 Chosen Option : 4

Q.9 नीचे एक ही पासे की तीन भिन्न स्थितियाँ दी गई हैं। उस अक्षर का चयन करें जो 'Z' अक्षर वाले पृष्ठ के विपरीत पृष्ठ पर है।



- Ans
- 1. J
 - 2. V
 - 3. U
 - 4. P

Question ID : 65497828485
 Status : Answered
 Chosen Option : 4

Q.10 रंजन, रितेश के पिता हैं, जो सनी के नाना हैं। दक्षिता, रीमा की पुत्री है। शिखा, रीमा की सास है। रितेश, शिखा का इकलौता पुत्र है। पल्लवी, सनी की बहन है। दक्षिता का सनी से क्या संबंध है?

- Ans
- 1. चाची
 - 2. माँ
 - 3. बहन
 - 4. पुत्र

Question ID : 65497828481

Status : Answered

Chosen Option : 3

Q.11 निम्नांकित आकृतियों में एक कागज के टुकड़े को मोड़ने का क्रम और मुड़े हुए कागज को काटने की विधि दर्शाई गई है। यह कागज खोलने पर कैसा दिखेगा?



Ans

- 1.
- 2.
- 3.
- 4.

Question ID : 65497828478

Status : Answered

Chosen Option : 2

Q.12 उस विकल्प का चयन करें जो तीसरी संख्या से उसी प्रकार संबंधित है, जिस प्रकार दूसरी संख्या पहली संख्या से संबंधित है।

85 : 6 :: 97 : ?

- Ans
- 1. 7
 - 2. 4
 - 3. 12
 - 4. 10

Question ID : 65497828483

Status : Answered

Chosen Option : 1



Download SSC CGL, CHSL E-BOOKS

[CLICK HERE](#)

Q.13 दिए गए आरेख का ध्यानपूर्वक अध्ययन करें और नीचे दिए गए प्रश्न का उत्तर दें।



उन नियोजित (कार्यरत) युवकों की संख्या कितनी है जो स्नातक नहीं हैं?

- Ans
- 1. 15
 - 2. 19
 - 3. 18
 - 4. 10

Question ID : 65497828473
Status : Answered
Chosen Option : 3

Q.14 F, G, H, I और J एक पंक्ति में दक्षिण की ओर मुँह करके बैठे हैं, तथा R, S, T, U और V एक दूसरी पंक्ति में उत्तर की ओर मुँह करके बैठे हैं, जो पहली पंक्ति के समानांतर है। I, F के दाएँ दूसरा है, F, S के सामने है। H और S विकर्णतः एक-दूसरे के सामने हैं और अंतिम छोरों पर हैं। G, V के सामने हैं जो S के ठीक बाएँ है। T, जो V के बाएँ दूसरा है, J के सामने है। R पंक्ति के एक छोर पर है। निम्नलिखित में से कौन से युग्म एक-दूसरे के सामने हैं?

- Ans
- 1. HU, IV
 - 2. GS, FR
 - 3. JR, IT
 - 4. HR, IU

Question ID : 65497828482
Status : Not Answered
Chosen Option : --

Q.15 यदि '+' का अर्थ 'x', '-' का अर्थ '+', 'x' का अर्थ '-' और '-' का अर्थ '-' है, तो निम्नलिखित व्यंजक का मान क्या होगा?

$$47 + 12 \div 288 \times 18$$

- Ans
- 1. 470
 - 2. 454
 - 3. 548
 - 4. 47.75

Question ID : 65497828484
Status : Answered
Chosen Option : 3



Download SSC CGL, CHSL E-BOOKS

[CLICK HERE](#)

Q.16 दिए गए पैटर्न का ध्यानपूर्वक अध्ययन करें और उस संख्या का चयन करें जो इसमें प्रश्न चिह्न (?) के स्थान पर आ सकती है।

- 125 5 3
- 128 ? 7
- 121 11 2

- Ans
- 1. 8
 - 2. 2
 - 3. 4
 - 4. 6

Question ID : 65497828476
Status : Answered
Chosen Option : 2

Q.17 एक निश्चित कूट भाषा में, KINGDOM को LKPHFQN के रूप में लिखा जाता है। उसी भाषा में TRIVIAL को किस रूप में लिखा जाएगा?

- Ans
- 1. UTLWKCM
 - 2. UTKWKCM
 - 3. UTLWKBM
 - 4. UTLWLBM

Question ID : 65497828474
Status : Answered
Chosen Option : 2

Q.18 दिए गए विकल्पों में से उस विकल्प का चयन कीजिए जो निम्न शब्दों के सही क्रम को अंग्रेजी शब्दकोश के अनुसार को व्यक्त करता है।

- 1. Target
- 2. Tarnish
- 3. Tarot
- 4. Tamarind
- 5. Tenacity

- Ans
- 1. 4, 1, 2, 3, 5
 - 2. 4, 1, 2, 5, 3
 - 3. 2, 1, 4, 3, 5
 - 4. 1, 4, 2, 3, 5

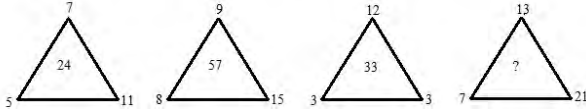
Question ID : 65497828466
Status : Answered
Chosen Option : 1



Download SSC CGL, CHSL E-BOOKS

[CLICK HERE](#)

Q.19 दिए गए पैटर्न का ध्यानपूर्वक अध्ययन करें और उस संख्या का चयन करें जो इसमें प्रश्न चिह्न (?) के स्थान पर आ सकती है।



- Ans**
- 1. 58
 - 2. 70
 - 3. 62
 - 4. 68

Question ID : 65497828477
 Status : Answered
 Chosen Option : 4

Q.20 यदि दर्पण को संयोजन के दाईं ओर रखा गया हो, तो दिए गए संयोजन के सही दर्पण प्रतिबिंब का चयन करें।

5 4 R Q X Z

- Ans**
- 1. 2 4 R Q X Z
 - 2. 2 4 R Q X Z
 - 3. Z X Q R 4 5
 - 4. 5 4 R Q X Z

Question ID : 65497828490
 Status : Answered
 Chosen Option : 2

Q.21 उस विकल्प का चयन करें जो तीसरे शब्द से उसी प्रकार संबंधित है जिस प्रकार दूसरा शब्द पहले शब्द से संबंधित है।

बहादुर : साहसी :: बेवकूफ : ?

- Ans**
- 1. बुद्धिमान
 - 2. समझदार
 - 3. डरपोक
 - 4. उन्मादी

Question ID : 65497828471
 Status : Answered
 Chosen Option : 4



Download SSC CGL, CHSL E-BOOKS

[CLICK HERE](#)

Q.22 छः दोस्त, प्रिया, अरुण, वंश, रजत, भावना और मंजू एक वृत्ताकार मेज़ के चारों ओर मेज़ के केंद्र की विपरीत दिशा में मुंह करके बैठे हैं। वंश, रजत के दाईं ओर दूसरे स्थान पर बैठा है। अरुण और प्रिया रजत के पड़ोसी नहीं हैं। मंजू, रजत और अरुण के बीच बैठी है। वंश और रजत के बीच कौन बैठा/बैठी है?

- Ans
- 1. मंजू
 - 2. भावना
 - 3. अरुण
 - 4. प्रिया

Question ID : 65497828472
Status : Answered
Chosen Option : 2

Q.23 दिए गए कथनों और निष्कर्षों को ध्यानपूर्वक पढ़ें। यह मानते हुए कि कथनों में दी गई सूचना सत्य है, भले ही वह सामान्य रूप से ज्ञात तथ्यों से भिन्न प्रतीत होती हो, बताइए कि दिए गए निष्कर्षों में से कौन सा / कौन से निष्कर्ष कथनों का तार्किक रूप से अनुसरण करता है / करते हैं।

कथन:
सभी कपड़े, फूल हैं।
कुछ फूल, सब्जियाँ हैं।

निष्कर्ष:
कुछ फूल, कपड़े हैं।
कुछ सब्जियाँ, फूल हैं।

- Ans
- 1. निष्कर्ष I और II दोनों अनुसरण करते हैं।
 - 2. केवल निष्कर्ष I अनुसरण करता है।
 - 3. दोनों में से कोई भी निष्कर्ष अनुसरण करता है।
 - 4. केवल निष्कर्ष II अनुसरण करता है।

Question ID : 65497828475
Status : Answered
Chosen Option : 1

Q.24 दिए गए विकल्पों में से उस संख्या का चयन कीजिए, जो निम्नलिखित श्रेणी में प्रश्नवाचक चिन्ह (?) के स्थान पर आ सकती है।

23, 23, 46, 138, 552, ?

- Ans
- 1. 2760
 - 2. 2850
 - 3. 2650
 - 4. 2520

Question ID : 65497828489
Status : Not Answered
Chosen Option : --



Q.25 चार अक्षर-समूह दिए गए हैं, जिनमें से तीन किसी तरह से संगत हैं और एक असंगत है। उस अक्षर-समूह का चयन करें, जो अन्य से असंगत है।

- Ans 1. GAH
 2. MTA
 3. VCJ
 4. DKR

Question ID : 65497828487
Status : Answered
Chosen Option : 1

Section : Part B General Knowledge and General Awareness

Q.1 लोहा और इस्पात उद्योगों के संदर्भ में, शहरों और राज्यों का निम्नलिखित में से कौन सा युग्म सही है?

- Ans 1. दुर्गापुर - असम
 2. बोकारो - बिहार
 3. भिलाई - छत्तीसगढ़
 4. राउरकेला - कर्नाटक

Question ID : 65497828496
Status : Marked For Review
Chosen Option : 3

Q.2 Which of the following metals is susceptible to fire if kept in the open?

- Ans 1. Potassium
 2. Lithium
 3. Mercury
 4. Lead

Question ID : 65497828508
Status : Not Answered
Chosen Option : --

Q.3 भारतीय संविधान का चौहत्तरवां संशोधन अधिनियम, 1992 निम्न में से किससे संबंधित है?

- Ans 1. नगर पालिकाओं
 2. आपातकालीन प्रावधान
 3. नागरिकता
 4. मौलिक कर्तव्य

Question ID : 65497828503
Status : Answered
Chosen Option : 1



Download SSC CGL, CHSL E-BOOKS

[CLICK HERE](#)