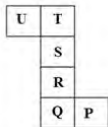


Constable GD in CAPFs NIA SSF and Rifleman GD in Assam Rifles Examination 2021

Roll Number	
Candidate Name	
Venue Name	Skymoon IT Point Pvt. Ltd
Exam Date	08/12/2021
Exam Time :	4:00 PM - 5:30 PM
Subject	Constable GD 2021

Section : Part A General Intelligence and Reasoning

Q.1 जब निम्नांकित आकृति को मोड़कर एक बॉक्स बनाया जाता है, तो कौन सा पृष्ठ, पृष्ठ R के सटा हुआ नहीं हो सकता है?



- Ans
- 1. P
 - 2. T
 - 3. U
 - 4. S

Question ID : 65497835216
Status : Answered
Chosen Option : 2

Q.2 उस विकल्प का चयन करें जो तीसरी संख्या से उसी प्रकार संबंधित है, जिस प्रकार दूसरी संख्या पहली संख्या से संबंधित है।

38 : 6 :: 83 : ?

- Ans
- 1. 10
 - 2. 8
 - 3. 9
 - 4. 7

Question ID : 65497835214
Status : Answered
Chosen Option : 3



Download SSC CGL, CHSL E-BOOKS

[CLICK HERE](#)

Q.3 यदि 'H', 'x' को, 'J', 'z' को, 'D', 'v' को और 'Y', 'w' को निरूपित करता है, तो निम्नलिखित व्यंजक का मान क्या होगा?

105 J 29 H 96 Y 16 D 84

- Ans
- 1. 108
 - 2. 15
 - 3. 78
 - 4. 69

Question ID : 65497835215
Status : Answered
Chosen Option : 2

Q.4 'गरम' का संबंध 'ठंडे' से ठीक उसी तरह है, जैसे 'भारी' का संबंध '_____ ' से है।

- Ans
- 1. कम
 - 2. हल्के
 - 3. छोटे
 - 4. बड़े

Question ID : 65497835206
Status : Answered
Chosen Option : 2

Q.5 एक निश्चित कूट भाषा में, RAMP को 3611332 के रूप में कूटबद्ध किया जाता है। उसी कूट भाषा में, DELL को किस रूप में कूटबद्ध किया जाएगा?

- Ans
- 1. 851214
 - 2. 852424
 - 3. 851224
 - 4. 810224

Question ID : 65497835210
Status : Answered
Chosen Option : 3

Q.6 चार अक्षर-समूह दिए गए हैं, जिनमें से तीन एक निश्चित तरीके से संगत है और एक असंगत है। असंगत अक्षर-समूह का चयन कीजिए।

- Ans
- 1. WYCI
 - 2. HJNT
 - 3. BDHN
 - 4. ZAEJ

Question ID : 65497835209
Status : Answered
Chosen Option : 4



Download SSC CGL, CHSL E-BOOKS

CLICK HERE

Q.7 किसी निश्चित कूट भाषा में, MELON को TCSKU के रूप में लिखा जाता है और CHAMP को JFHIW के रूप में लिखा जाता है। उसी कूट भाषा में FAMISH को किस रूप में लिखा जाएगा?

- Ans 1. MYTEZB
 2. NZSFYH
 3. MYTEBZ
 4. NXTEBY

Question ID : 65497835198
Status : Answered
Chosen Option : 1

Q.8 उस विकल्प का चयन करें, जो तीसरे अक्षर-समूह से उसी प्रकार संबंधित है, जिस प्रकार दूसरा अक्षर-समूह पहले अक्षर-समूह से संबंधित है।

FELT : PAVP :: SACK : ?

- Ans 1. CXNG
 2. BWNH
 3. CWMG
 4. BXMH

Question ID : 65497835197
Status : Answered
Chosen Option : 3

Q.9 एक परिवार में सात व्यक्ति हैं। अभय, मोनू का पुत्र है। निकुंज, अंजलि का पुत्र है। मेघा और श्रेया राकेश की पुत्रियां हैं, राकेश की शादी अंजलि से हुई है। मोनू की शादी श्रेया से हुई है। अभय का राकेश से क्या संबंध है?

- Ans 1. बहनोई
 2. नाती
 3. पुत्र
 4. दामाद

Question ID : 65497835199
Status : Answered
Chosen Option : 2



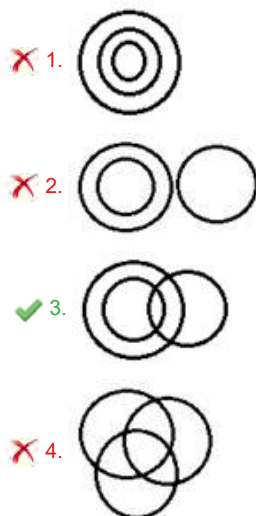
Download SSC CGL, CHSL E-BOOKS

[CLICK HERE](#)

Q.10 उस वेन आरेख का चयन करें, जो निम्नलिखित वर्गों के बीच के संबंध को सबसे अच्छे तरीके से दर्शाता है।

पुरुष, पिता, डॉक्टर

Ans



Question ID : 65497835208
Status : Answered
Chosen Option : 3

Q.11 दिए गए पैटर्न का ध्यानपूर्वक अध्ययन करें और उस संख्या का चयन करें जो इसमें प्रश्नचिह्न (?) के स्थान पर आ सकती है।

16 14 18
58 44 ?
13 8 4

- Ans
1. 24
2. 36
3. 40
4. 44

Question ID : 65497835202
Status : Answered
Chosen Option : 4

Q.12 एक निश्चित कूट भाषा में, 'PAPER IS WHITE' को 'JH NX TRO', के रूप में लिखा जाता है, 'BOTTLES ARE WHITE' को 'HN NX TP' के रूप में लिखा जाता है और 'BOTTLES IS BROKEN' को 'HN TRO SNG' के रूप में लिखा जाता है। उसी कूट भाषा में 'PAPER' को किस रूप में लिखा जाएगा?

- Ans
1. NX
2. JH
3. HN
4. TRO

Question ID : 65497835200
Status : Answered
Chosen Option : 2



Download SSC CGL, CHSL E-BOOKS

[CLICK HERE](#)

Q.13 उस सही विकल्प का चयन कीजिए, जो दिए गए शब्दों के उस क्रम को दर्शाता है, जिस क्रम में वे अंग्रेज़ी शब्दकोश में आते हैं।

1. Priceless
2. Pristine
3. Prison
4. Priority
5. Prejudice

Ans ✓ 1. 5, 1, 4, 3, 2

✗ 2. 5, 1, 4, 2, 3

✗ 3. 5, 4, 1, 3, 2

✗ 4. 1, 3, 4, 2, 5

Question ID : 65497835218
Status : Answered
Chosen Option : 1

Q.14 दिए गए संयोजन के सही दर्पण प्रतिबिंब का चयन करें, जब दर्पण को दिखाए गए अनुसार PQ पर रखा गया है।

SHOPPAN
P
|
Q

Ans ✗ 1. SHOPPAN

✗ 2. SHOPPAN

✗ 3. SHOPPAN

✓ 4. SHOPPAN

Question ID : 65497835212
Status : Answered
Chosen Option : 4



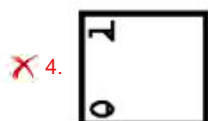
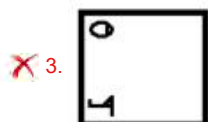
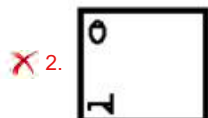
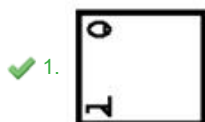
Download SSC CGL, CHSL E-BOOKS

[CLICK HERE](#)

Q.15 दिए गए विकल्पों में से उस आकृति का चयन कीजिए, जो निम्न आकृति श्रृंखला में प्रश्नवाचक चिन्ह (?) के स्थान पर आ सकती है।

1 0	1 0	0 1	?
--------	--------	--------	---

Ans



Question ID : 65497835221

Status : Answered

Chosen Option : 1



Download SSC CGL, CHSL E-BOOKS

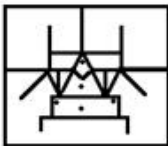
[CLICK HERE](#)

Q.16 उस विकल्प का चयन करें जिसमें दी गई आकृति अंतर्निहित है
(आकृति को घुमाने की अनुमति नहीं है)।

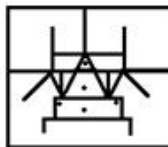


Ans

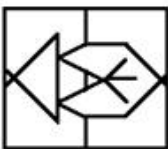
1.



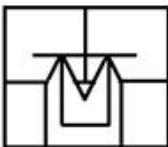
2.



3.



4.



Question ID : 65497835217

Status : Answered

Chosen Option : 2

Q.17 अक्षरों के उस संयोजन का चयन कीजिए, जिसे दी गई श्रृंखला के रिक्त स्थानों में क्रमबद्ध रूप से रखने पर श्रृंखला पूर्ण हो जाएगी।

Q _ T J _ Q R _ J C _ R T _ C Q _ T _ C

Ans

1. CRTQJRJ

2. RCJQJRR

3. RCTQJRJ

4. RCQTJRJ

Question ID : 65497835219

Status : Answered

Chosen Option : 3



Download SSC CGL, CHSL E-BOOKS

[CLICK HERE](#)

Q.18 दिए गए विकल्पों में से उस संख्या का चयन कीजिए जो निम्न श्रेणी में प्रश्नवाचक चिह्न (?) के स्थान पर आएगी।

10, 11, 19, 46, 110, ?

Ans 1. 235

2. 240

3. 225

4. 234

Question ID : 65497835211

Status : Answered

Chosen Option : 1

Q.19 निम्न विकल्पों में से उस अक्षर-समूह का चयन कीजिए जो दी गई श्रृंखला में प्रश्नचिह्न (?) के स्थान पर आ सकता है।

AD, EH, ?, MP

Ans 1. IJ

2. KJ

3. IL

4. JK

Question ID : 65497835205

Status : Answered

Chosen Option : 3

Q.20 जब किसी संख्या को उसकी पूर्ववर्ती संख्या के तिगुने में जोड़ा जाता है, और इन दोनों संख्याओं के योग को 5 से विभाजित किया जाता है, तो परिणाम के रूप में 13 प्राप्त होता है। वह संख्या ज्ञात कीजिए।

Ans 1. 15

2. 17

3. 7

4. 13

Question ID : 65497835203

Status : Answered

Chosen Option : 2

Q.21 एक कक्षा में कुल 30 छात्र हैं। आदित्य योग्यता क्रम में ऊपर की ओर से 11वें रैंक पर है। नीचे की ओर से आदित्य की रैंक क्या है?

Ans 1. 17वीं

2. 20वीं

3. 18वीं

4. 19वीं

Question ID : 65497835207

Status : Answered

Chosen Option : 2



Download SSC CGL, CHSL E-BOOKS

[CLICK HERE](#)

Q.22 दिए गए कथनों और निष्कर्षों को ध्यान से पढ़ें। यह मानते हुए कि कथनों में दी गई जानकारी सत्य है, भले ही यह सामान्य रूप से ज्ञात तथ्यों से भिन्न प्रतीत होती हो, यह निर्णय लें कि दिए गए निष्कर्षों में से कौन से निष्कर्ष कथनों का तार्किक रूप से अनुसरण करते हैं?

कथन:

कुछ ऊन कपड़े हैं।
सभी कपड़े नरम हैं।

निष्कर्ष:

I. सभी ऊन नरम हैं।
II. कुछ ऊन नरम हैं।

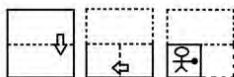
- Ans
- 1. निष्कर्ष I और II दोनों अनुसरण करते हैं।
 - 2. केवल निष्कर्ष II अनुसरण करता है।
 - 3. न तो निष्कर्ष I और न ही II अनुसरण करता है।
 - 4. केवल निष्कर्ष I अनुसरण करता है।

Question ID : 65497835201

Status : Answered

Chosen Option : 2

Q.23 नीचे दी गई आकृतियों में कागज़ के एक टुकड़े को मोड़ने और मोड़े गए कागज़ को काटने के तरीके का क्रम दर्शाया गया है। कागज़ को खोले जाने पर वह कैसा दिखाई देगा?



Ans

- 1.
- 2.
- 3.
- 4.

Question ID : 65497835204

Status : Answered

Chosen Option : 3



Download SSC CGL, CHSL E-BOOKS

CLICK HERE

Q.24 उस संख्या की पहचान करें, जो निम्नलिखित श्रेणी से संबंधित नहीं है।

7, 7, 21, 105, 730, 6615

- Ans
- 1. 105
 - 2. 730
 - 3. 6615
 - 4. 21

Question ID : 65497835220
Status : Answered
Chosen Option : 2

Q.25 आठ मित्र A, B, C, D, E, F, G और H एक वृत्ताकार मेज के परितः केंद्र की ओर मुँह किए हुए बैठे हैं। लेकिन यह आवश्यक नहीं कि वे उपरोक्त क्रम में ही बैठे हों। F, D के ठीक बगल में है। C, A के दाईं ओर दूसरे स्थान पर है। A और D के बीच में केवल दो व्यक्ति हैं। E और G अगल-बगल बैठे हैं, तथा H और F भी अगल-बगल बैठे हैं। B, F के बाईं ओर तीसरे स्थान पर है। D, G के बाईं ओर तीसरे स्थान पर है। यदि B से दक्षिणावर्त दिशा में देखा जाए, तो B और G के बीच में कितने व्यक्ति बैठे हैं?

- Ans
- 1. तीन
 - 2. एक
 - 3. चार
 - 4. दो

Question ID : 65497835213
Status : Answered
Chosen Option : 4

Section : Part B General Knowledge and General Awareness

Q.1 1757 में प्लासी का युद्ध किसने जीता था?

- Ans
- 1. ब्रिटिश ईस्ट इंडिया कंपनी
 - 2. बंगाल के नवाब
 - 3. मराठा
 - 4. अवध के नवाब

Question ID : 65497835223
Status : Answered
Chosen Option : 1

Q.2 न्याय के सामान्य प्रशासन पर जब सैन्य प्राधिकरण का नियंत्रण हो जाता है, तब शासन की जो प्रणाली प्रभावी होती है उसे _____ कहा जाता है।

- Ans
- 1. सैनिक शासन
 - 2. तख्ता पलट
 - 3. राज तंत्र
 - 4. तानाशाही

Question ID : 65497835230
Status : Answered
Chosen Option : 1



Download SSC CGL, CHSL E-BOOKS

[CLICK HERE](#)