

## Constable GD in CAPFs NIA SSF and Rifleman GD in Assam Rifles Examination 2021

Roll Number	
Candidate Name	
Venue Name	Metro Network Solutions
Exam Date	08/12/2021
Exam Time :	12:30 PM - 2:00 PM
Subject	Constable GD 2021

### Section : Part A General Intelligence and Reasoning

Q.1 दिए गए पैटर्न का ध्यानपूर्वक अध्ययन कीजिए और उस संख्या का चयन कीजिए जो इसमें प्रश्नवाचक चिह्न (?) के स्थान पर आ सकती है।

25 49 144  
36 64 196  
121 225 ?

Ans  1. 676

2. 346

3. 652

4. 576

Question ID : 65497832668

Status : Answered

Chosen Option : 1

Q.2 दिए गए कथनों और निष्कर्षों को ध्यानपूर्वक पढ़ें। यह मानते हुए कि कथनों में दी गई सूचना सत्य है, भले ही वह सामान्य रूप से ज्ञात तथ्यों से भिन्न प्रतीत होती हो, बताइए कि दिए गए निष्कर्षों में से कौन सा / कौन से निष्कर्ष कथनों का तार्किक रूप से अनुसरण करता है (करते हैं)।

कथन:

सभी कुएं, नहरें हैं।  
सभी नहरें, नदियां हैं।

निष्कर्ष:

I) कुछ नहरें, कुएं हैं।  
II) कुछ नदियां, कुएं हैं।

Ans  1. निष्कर्ष I और II दोनों अनुसरण करते हैं।

2. न तो निष्कर्ष I और न ही निष्कर्ष II अनुसरण करता है।

3. केवल निष्कर्ष I अनुसरण करता है।

4. केवल निष्कर्ष II अनुसरण करता है।

Question ID : 65497832667

Status : Answered

Chosen Option : 1

Q.3 चार अक्षर-समूह दिए गए हैं, जिनमें से तीन किसी तरह से संगत हैं और एक असंगत है। उस अक्षर-समूह का चयन करें, जो अन्य से असंगत है।

Ans  1. GKOV

2. AFKP

3. KPUZ

4. TYDI

Question ID : 65497832675

Status : Answered

Chosen Option : 1



Download SSC CGL, CHSL E-BOOKS

[CLICK HERE](#)

Q.4 K, R का पुत्र है। V, J के पुत्र की पत्नी है। H, K का पुत्र है। M, J की पुत्री है। K, M का भाई है। H का R से क्या संबंध है?

- Ans
- 1. भतीजा/भांजा
  - 2. पोता
  - 3. नाती
  - 4. पुत्र

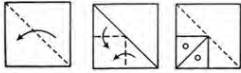
Question ID : 65497832681  
Status : Answered  
Chosen Option : 3

Q.5 'न्यूमिज़मैटिक्स' का जो संबंध 'सिक्कों' से है, 'ऑरोग्राफी' का वही संबंध ' \_\_\_\_\_ ' से है।

- Ans
- 1. खोल
  - 2. अंडे
  - 3. पहाड़ों
  - 4. जीवाश्मों

Question ID : 65497832672  
Status : Answered  
Chosen Option : 3

Q.6 निम्नांकित आकृतियों में एक कागज के टुकड़े को मोड़ने का क्रम और मुड़े हुए कागज को काटने की विधि दर्शाई गई है। यह कागज खोलने पर कैसा दिखेगा?



Ans

- 1.
- 2.
- 3.
- 4.

Question ID : 65497832670  
Status : Answered  
Chosen Option : 1



Download SSC CGL, CHSL E-BOOKS

[CLICK HERE](#)

Q.7 उस अक्षर संयोजन का चयन करें जिसे दी गई श्रृंखला के रिक्त स्थानों में क्रमिक रूप से रखे जाने पर श्रृंखला पूर्ण हो जाएगी।

\_ B I R \_ I R B \_

- Ans  1. CBH  
 2. RBI  
 3. TIC  
 4. HIG

Question ID : 65497832658  
Status : Answered  
Chosen Option : 2

Q.8 एक निश्चित कूट भाषा में, 'PHARMACEUTICAL' को 'QGBQNZDDVSJBBK' लिखा जाता है। उसी कूट भाषा में, 'ELECTRONIC' को क्या लिखा जाएगा?

- Ans  1. FKEBUQPMKB  
 2. FKFBPOMIB  
 3. FKFBUOPMIB  
 4. FKFBUQPMJB

Question ID : 65497832666  
Status : Answered  
Chosen Option : 4

Q.9 उस विकल्प का चयन कीजिए, जिसका तीसरे पद से वही संबंध है, जो दूसरे पद का पहले पद से है।

SLOWER : SFXPMT :: MEAGRE : ?

- Ans  1. GSHBFO  
 2. FSHNFC  
 3. FSHBFN  
 4. FBHTFN

Question ID : 65497832679  
Status : Answered  
Chosen Option : 3

Q.10 उस सही विकल्प का चयन करें जो दिए गए शब्दों का वह व्यवस्थित क्रम दर्शाता है जिसमें वे एक अंग्रेजी शब्दकोश में दिखाई देते हैं।

1. School
2. Stress
3. Source
4. Secure
5. Sweet

- Ans  1. 1, 3, 5, 2, 4  
 2. 1, 4, 3, 2, 5  
 3. 1, 2, 3, 4, 5  
 4. 5, 4, 3, 2, 1

Question ID : 65497832657  
Status : Answered  
Chosen Option : 2

Q.11 एक निश्चित कूट भाषा में, DERMATOLOGY को 10 लिखा जाता है, और MAXIMUM को 6 लिखा जाता है। उसी कूट भाषा में NOCTURNAL को किस प्रकार लिखा जाएगा?

- Ans
- 1. 9
  - 2. 8
  - 3. 7
  - 4. 10

Question ID : 65497832676  
Status : Answered  
Chosen Option : 2

Q.12 यदि 'x' और '+' चिह्नों को तथा '6' और '5' अंकों को परस्पर बदल दिया जाए, तो निम्नलिखित व्यंजक का मान क्या होगा?

$$48 \times 5 + 9 \div 6 - (32 - 7) + 9$$

- Ans
- 1. 86
  - 2. 44
  - 3. 57
  - 4. 37

Question ID : 65497832663  
Status : Answered  
Chosen Option : 4

Q.13 दी गई आकृति के सही दर्पण प्रतिबिंब का चयन कीजिए, जबकि दर्पण को इसकी दाईं ओर रखा गया है।



Ans

1.



2.



3.



4.



Question ID : 65497832678  
Status : Answered  
Chosen Option : 4



Download SSC CGL, CHSL E-BOOKS

[CLICK HERE](#)

Q.14 दिए गए विकल्पों में से उस संख्या का चयन कीजिए जो दी गई श्रृंखला में प्रश्न चिह्न (?) के स्थान पर प्रतिस्थापित हो सकती है।

42, 24, 34, 43, ?, 89

Ans  1. 53

2. 78

3. 98

4. 86

Question ID : 65497832659

Status : Answered

Chosen Option : 3

Q.15 छह बच्चे आनंद, बंदी, छाया, ध्रुव, श्रीकर और उमेश उत्तर दिशा की ओर अभिमुख होकर एक पंक्ति में खड़े हैं। उमेश, श्रीकर के दाईं ओर दूसरे स्थान पर है और छाया के बाएं पड़ोस में खड़ा है। बंदी ठीक ध्रुव और छाया के बीच में है। ध्रुव के बाईं ओर चौथे स्थान पर कौन है?

Ans  1. छाया

2. उमेश

3. श्रीकर

4. आनंद

Question ID : 65497832673

Status : Answered

Chosen Option : 4

Q.16 स्थानक A से B के दो ट्रेन टिकटों और स्थानक A से C के तीन टिकटों का मूल्य ₹8,750 है, लेकिन स्थानक A से B के तीन टिकटों और स्थानक A से C के दो टिकटों का मूल्य ₹9,825 है। स्थानक A से स्थानक B और C का किराया कितना-कितना है?

Ans  1. ₹1,965 और ₹1,890

2. ₹2,320 और ₹1,395

3. ₹2,255 और ₹1,635

4. ₹2,395 और ₹1,320

Question ID : 65497832669

Status : Not Answered

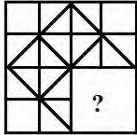
Chosen Option : --



Download SSC CGL, CHSL E-BOOKS

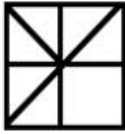
[CLICK HERE](#)

Q.17 दिए गए विकल्पों में से उस आकृति का चयन कीजिए जो निम्नांकित पैटर्न में प्रश्नवाचक चिह्न (?) के स्थान पर आ सकती है और पैटर्न को पूरा कर सकती है। (आकृति को घुमाने की अनुमति नहीं है)



Ans

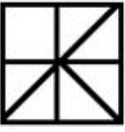
✓ 1.



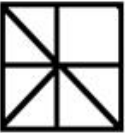
✗ 2.



✗ 3.



✗ 4.



Question ID : 65497832660

Status : Answered

Chosen Option : 1

Q.18 एक निश्चित कूट भाषा में, PLACE को QMZDD लिखा जाता है और BEAUTY को CDZTUZ लिखा जाता है। उसी कूट भाषा में MANSION को किस प्रकार लिखा जाएगा?

Ans ✗ 1. NAMSNOI

✗ 2. NOISNAM

✗ 3. NBOTJPO

✓ 4. NZOTHNO

Question ID : 65497832680

Status : Answered

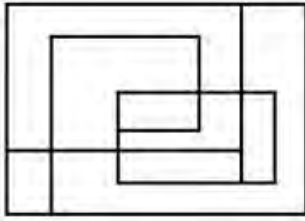
Chosen Option : 3



Download SSC CGL, CHSL E-BOOKS

[CLICK HERE](#)

Q.19 निम्नांकित आकृति में कितने आयत हैं?



- Ans
- 1. 7
  - 2. 6
  - 3. 8
  - 4. 9

Question ID : 65497832665  
Status : Answered  
Chosen Option : 1

Q.20 P, Q, R, S, T और U छह मित्र हैं। वे एक पंक्ति में दक्षिण की ओर मुँह किए हुए बैठे हैं। P, R के ठीक बाएँ और S के दाएँ दूसरे स्थान पर बैठा है। T, R के ठीक दाएँ बैठा है। U, R के बाएँ दूसरे स्थान पर बैठा है। Q, S के ठीक बाएँ बैठा है। पंक्ति के एकदम दाएँ छोर पर कौन बैठा है?

- Ans
- 1. Q
  - 2. U
  - 3. T
  - 4. R

Question ID : 65497832661  
Status : Answered  
Chosen Option : 1

Q.21 उस विकल्प का चयन करें जो तीसरी संख्या से उसी प्रकार संबंधित है, जिस प्रकार दूसरी संख्या पहली संख्या से संबंधित है।

144 : 14 :: 81 : ?

- Ans
- 1. 11
  - 2. 65
  - 3. 15
  - 4. 9

Question ID : 65497832662  
Status : Answered  
Chosen Option : 1

Q.22 दिए गए विकल्पों में से उस संख्या का चयन कीजिए, जो निम्नलिखित श्रेणी में प्रश्नवाचक चिह्न (?) के स्थान पर आ सकती है।

7, 14, 25, 45, 81, ?, 239

- Ans
- 1. 142
  - 2. 205
  - 3. 95
  - 4. 111

Question ID : 65497832677  
Status : Answered  
Chosen Option : 1

Q.23 दिए गए विकल्पों में से उस अक्षर-समूह का चयन कीजिए जो दी गई श्रृंखला में प्रश्न चिह्न (?) के स्थान पर आ सकता है।

LOCK, MMFG, NKIC, OILY, ?

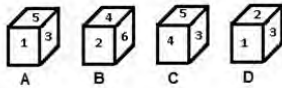
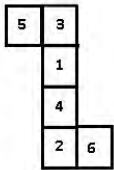
- Ans
- 1. PHPU
  - 2. PGOV
  - 3. PGOU
  - 4. PHPV

Question ID : 65497832671

Status : Answered

Chosen Option : 3

Q.24 उस पासे का चयन करें, जिसे निम्नांकित पत्रक (शीट) को रेखाओं पर मोड़ने पर प्राप्त किया जा सकता है।



- Ans
- 1. केवल D
  - 2. केवल A और D
  - 3. केवल C और B
  - 4. केवल A और B

Question ID : 65497832664


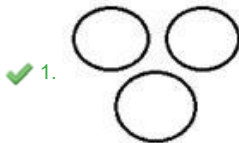
Status : Answered

Chosen Option : 4

Q.25 उस वेन आरेख का चयन करें जो निम्नलिखित वर्गों के मध्य संबंध को सर्वोत्तम तरीके से निरूपित करता है।

कद्दू, पालक, आलू

Ans



Question ID : 65497832674

Status : Answered

Chosen Option : 1



Download SSC CGL, CHSL E-BOOKS

[CLICK HERE](#)