

Constable GD in CAPFs NIA SSF and Rifleman GD in Assam Rifles Examination 2021

Roll Number	
Candidate Name	
Venue Name	Gyanoday Technical Institute
Exam Date	08/12/2021
Exam Time :	9:00 AM - 10:30 AM
Subject	Constable GD 2021

Section : Part A General Intelligence and Reasoning

Q.1 सात मित्र A, B, C, D, E, F और G एक पंक्ति में उत्तर की ओर मुंह करके बैठे हैं। B पंक्ति के मध्य में नहीं बैठा है। A, B के दाईं ओर दूसरे स्थान पर बैठा है। D, F के बाईं ओर दूसरे स्थान पर बैठा है। G, F के बाईं ओर ठीक बगल में बैठा है। C, G के दाईं ओर दूसरे स्थान पर बैठा है। E, B और A के बीच में बैठा है। पंक्ति के मध्य में कौन बैठा है?

- Ans
- 1. G
 - 2. D
 - 3. E
 - 4. F

Question ID : 65497830129
Status : Answered
Chosen Option : 2

Q.2 चार अक्षर-समूह दिए गए हैं, जिनमें से तीन किसी तरह से संगत हैं और एक असंगत है। असंगत अक्षर-समूह का चयन कीजिए।

- Ans
- 1. ZBFL
 - 2. BDHN
 - 3. MOSY
 - 4. OQUB

Question ID : 65497830117
Status : Answered
Chosen Option : 4

Q.3 'गोंदा' का 'फूल' से वही संबंध है, जो 'जौ' का '_____' से है।

- Ans
- 1. डंठलों
 - 2. दालों
 - 3. मसालों
 - 4. अनाजों

Question ID : 65497830139
Status : Answered
Chosen Option : 4



Q.4 पांच मित्र P, Q, R, S और T एक बस में यात्रा कर रहे हैं। सभी एक के बाद एक, पांच अलग-अलग पंक्तियों में एक ही दिशा की ओर मुख करके बैठे हैं। P, S के ठीक आगे बैठा है। T, Q के पीछे बैठा है। R के पहले और बाद में बैठे व्यक्तियों की संख्या समान है। T, R के आगे बैठा है। इनमें से कौन अंत में बैठा है?

- Ans
- 1. T
 - 2. Q
 - 3. S
 - 4. P

Question ID : 65497830140
Status : Answered
Chosen Option : 3

Q.5 उस विकल्प का चयन करें, जिसका तीसरी संख्या से वही संबंध है, जो दूसरी संख्या का पहली संख्या से है।

12 : 67 :: 16 : ?

- Ans
- 1. 80
 - 2. 72
 - 3. 91
 - 4. 70

Question ID : 65497830131
Status : Answered
Chosen Option : 3

Q.6 दिए गए विकल्पों में से उस संख्या का चयन कीजिए, जो निम्नलिखित श्रेणी में प्रश्नवाचक चिह्न (?) के स्थान पर आएगी।

32, 33, 37, 46, ?, 87

- Ans
- 1. 60
 - 2. 52
 - 3. 62
 - 4. 77

Question ID : 65497830119
Status : Answered
Chosen Option : 2

Q.7 उस विकल्प का चयन करें, जिसका तीसरे अक्षर-समूह से वही संबंध है, जो दूसरे अक्षर-समूह का पहले अक्षर-समूह से है।

BFX : PTL :: UHE : ?

- Ans
- 1. IVS
 - 2. IUS
 - 3. IVT
 - 4. HVS

Question ID : 65497830121
Status : Answered
Chosen Option : 1



Q.8 Select the correct option that indicates the arrangement of the given words in a logical and meaningful order.

- i. Class
- ii. Family
- iii. Kingdom
- iv. Order
- v. Phylum

Ans 1. iii, v, i, iv, ii

2. iii, v, ii, iv, i

3. iii, ii, iv, i, v

4. iii, iv, ii, v, i

Question ID : 65497830124

Status : Answered

Chosen Option : 1

Q.9 दिए गए विकल्पों में से उस आकृति का चयन कीजिए जो दी गई श्रृंखला में प्रश्न चिह्न (?) के स्थान पर आ सकती है।



Ans

1.



2.



3.



4.



Question ID : 65497830127

Status : Answered

Chosen Option : 1

Q.10 उस अक्षर संयोजन का चयन करें जिसे दी गई श्रृंखला के रिक्त स्थानों में क्रमिक रूप से रखे जाने पर श्रृंखला पूर्ण हो जाएगी।

c _ _ w z c _ n _ z c j _ w _ _ j n _ z

Ans 1. j, n, j, w, n, z, c, w

2. n, j, n, w, n, z, c, w

3. n, j, j, w, n, c, z, w

4. j, n, j, w, z, n, c, w

Question ID : 65497830125

Status : Answered

Chosen Option : 1



Download SSC CGL, CHSL E-BOOKS

[CLICK HERE](#)

Q.11 दिए गए विकल्पों में से उस संख्या का चयन कीजिए, जो निम्नलिखित श्रेणी में प्रश्नवाचक चिह्न (?) के स्थान पर आ सकती है।

24, 27, 33, 42, 54, ?

- Ans 1. 68
 2. 64
 3. 66
 4. 69

Question ID : 65497830126
Status : Answered
Chosen Option : 1

Q.12 रोहित ने रूचि से कहा, "तुम्हारी माँ के पिता मेरे बेटे के ससुर हैं"। रूचि का रोहित से क्या संबंध है?

- Ans 1. बेटा
 2. पोती
 3. बहन
 4. चाची

Question ID : 65497830123
Status : Answered
Chosen Option : 1

Q.13 एक विशिष्ट कूट भाषा में, 'match is over' को 'en jo hi' लिखा जाता है, 'the cricket match' को 'lu mo en' लिखा जाता है, और 'over the globe' को 'hi lu nok' लिखा जाता है। उसी कूट भाषा में 'cricket' को किस प्रकार लिखा जाएगा?

- Ans 1. nok
 2. jo
 3. hi
 4. mo

Question ID : 65497830128
Status : Answered
Chosen Option : 4

Q.14 रमेश के पास एक रुपए, पांच रुपए और दस रुपए के सिक्के समान संख्या में हैं। उसके पास कुल ₹640 हैं। उसके पास कुल कितने सिक्के हैं?

- Ans 1. 90
 2. 40
 3. 120
 4. 60

Question ID : 65497830134
Status : Answered
Chosen Option : 2



Download SSC CGL, CHSL E-BOOKS

[CLICK HERE](#)

Q.15 यदि दर्पण को निम्नांकित चित्र के अनुसार PQ पर रखा जाए, तो दिए गए संयोजन का दर्पण में निमित्त सही प्रतिबिंब चयनित कीजिए।



- Ans
- 1. ADHWARIO
 - 2. AWRADHW
 - 3. ADHWARIO
 - 4. OIRAWHDA

Question ID : 65497830120
Status : Answered
Chosen Option : 4

Q.16 एक निश्चित कूट भाषा में, PARENTS को JYHULFG लिखा जाता है। उसी कूट भाषा में ASTONISH को किस प्रकार लिखा जाएगा?

- Ans
- 1. YGFKLQGR
 - 2. YGEKKQGR
 - 3. YHEKLQGR
 - 4. YHEKKQGS

Question ID : 65497830122
Status : Answered
Chosen Option : 1

Q.17 दिए गए पैटर्न का ध्यानपूर्वक अध्ययन कीजिए और उस संख्या का चयन कीजिए, जो इसमें प्रश्नचिह्न (?) के स्थान पर आ सकती है।

? 23 17
74 95 62
44 49 28

- Ans
- 1. 36
 - 2. 16
 - 3. 15
 - 4. 32

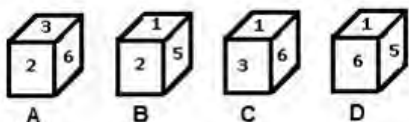
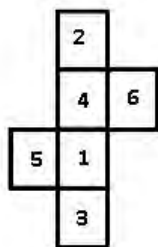
Question ID : 65497830132
Status : Answered
Chosen Option : 3



Download SSC CGL, CHSL E-BOOKS

[CLICK HERE](#)

Q.18 Select the dice that can be formed by folding the given sheet along the lines.



- Ans
- 1. Only D
 - 2. Only B
 - 3. Only A and B
 - 4. Only A and C

Question ID : 65497830135
Status : Answered
Chosen Option : 4

Q.19 दिए गए कथनों और निष्कर्षों का ध्यानपूर्वक अध्ययन करें। कथनों में दी गई जानकारी को सत्य मानते हुए विचार करें, भले ही वह सामान्यतः ज्ञात तथ्यों से भिन्न प्रतीत होती हो, और बताएं कि दिए गए निष्कर्षों में से कौन से तार्किक रूप से कथनों का पालन करते हैं।

कथन:
सभी सब्जियां खाद्य पदार्थ हैं।
कुछ खाद्य पदार्थ पेय हैं।

निष्कर्ष:
I. कुछ पेय खाद्य पदार्थ हैं।
II. कुछ सब्जियां पेय हैं।

- Ans
- 1. कोई भी निष्कर्ष पालन नहीं करता है।
 - 2. केवल निष्कर्ष I पालन करता है।
 - 3. केवल निष्कर्ष II पालन करता है।
 - 4. दोनों ही निष्कर्ष पालन करते हैं।

Question ID : 65497830130
Status : Answered
Chosen Option : 2



Download SSC CGL, CHSL E-BOOKS

[CLICK HERE](#)

Q.20 यदि 'A' का अर्थ 'जोड़ना' है, 'B' का अर्थ 'घटाना' है, और 'x' तथा '+' चिह्नों को परस्पर बदल दिया जाए, तो निम्न व्यंजक का मान क्या होगा?

$$12 \div (81 B 18) \times 9 B 34 A 12 \times 6$$

Ans 1. 52

2. 54

3. 58

4. 76

Question ID : 65497830133

Status : Answered

Chosen Option : 1

Q.21 दिए गए विकल्पों में से उस अक्षर-समूह का चयन करें, जो निम्नलिखित श्रृंखला में प्रश्नवाचक चिन्ह (?) के स्थान पर आ सकता है।

GRTD, KNXZ, OJBV, SFFR, ?

Ans 1. WAJO

2. VBKN

3. WBJN

4. WBKO

Question ID : 65497830138

Status : Answered

Chosen Option : 3

Q.22 निम्नलिखित आरेख में, 'वृत्त', 'पुलिसकर्मियों' को निरूपित करता है, 'वर्ग', 'खिलाड़ियों' को निरूपित करता है, और 'त्रिभुज', 'करदाताओं' को निरूपित करता है। विभिन्न खंडों में दी गई संख्याएं उस श्रेणी से संबंधित व्यक्तियों की संख्या को दर्शाती हैं।



कितने पुलिसकर्मियों, करदाता हैं लेकिन खिलाड़ी नहीं हैं?

Ans 1. 22

2. 6

3. 33

4. 27

Question ID : 65497830141

Status : Answered

Chosen Option : 2



Download SSC CGL, CHSL E-BOOKS

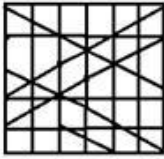
[CLICK HERE](#)

Q.23 उस विकल्प का चयन करें, जिसमें दी गई आकृति अंतर्निहित है (आकृति को घुमाने की अनुमति नहीं है)।

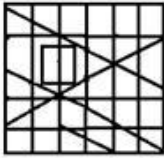


Ans

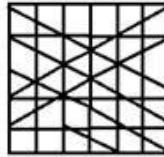
1.



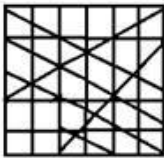
2.



3.



4.



Question ID : 65497830136

Status : Answered

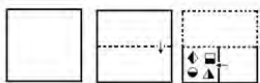
Chosen Option : 3



Download SSC CGL, CHSL E-BOOKS

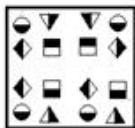
[CLICK HERE](#)

Q.24 निम्नांकित चित्रों में एक कागज को मोड़ने का क्रम और मुड़े हुए कागज को काटने का तरीका दर्शाया गया है। कागज को खोलने पर यह कैसा दिखाई देगा?




Ans

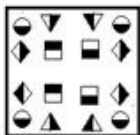
1.



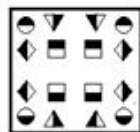
2.



3.



4.



Question ID : 65497830137

Status : Answered

Chosen Option : 4

Q.25 एक निश्चित कूट भाषा में, FLEW को 1212546 लिखा जाता है। उसी कूट भाषा में RODE को किस प्रकार लिखा जाएगा?

Ans

1. 3612411

2. 341319

3. 3615410

4. 3615210

Question ID : 65497830118

Status : Answered

Chosen Option : 3

Section : Part B General Knowledge and General Awareness

Q.1 1947 में स्वतंत्र भारत की प्रथम कैबिनेट में शिक्षा विभाग का प्रभार किसके पास था?

Ans

1. डॉ. बी.आर. अम्बेडकर

2. लियाकत अली खान

3. डॉ. राजेंद्र प्रसाद

4. मौलाना अबुल कलाम आज़ाद

Question ID : 65497830150

Status : Answered

Chosen Option : 4



Download SSC CGL, CHSL E-BOOKS

CLICK HERE