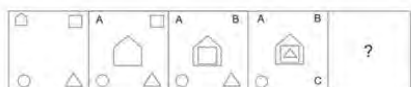


Constable GD in CAPFs NIA SSF and Rifleman GD in Assam Rifles Examination 2021

Roll Number	
Candidate Name	
Venue Name	ION DIGITAL ZONE IDZ TUPUDANA
Exam Date	07/12/2021
Exam Time :	4:00 PM - 5:30 PM
Subject	Constable GD 2021

Section : Part A General Intelligence and Reasoning

Q.1 दिए गए विकल्पों में से उस आकृति का चयन कीजिए जो दी गई श्रृंखला में प्रश्न चिह्न (?) के स्थान पर आ सकती है।



Ans

- ✗ 1.

C	D
B	A
- ✗ 2.

A	B
C	D
- ✓ 3.

A	B
D	C
- ✗ 4.

B	A
D	C

Question ID : **65497830510**
 Status : **Answered**
 Chosen Option : **3**

Q.2 उस सही विकल्प का चयन करें जो नीचे दिए गए शब्दों का वह व्यवस्थित क्रम दर्शाता है जिस क्रम में वे एक अंग्रेजी शब्दकोश में मौजूद होते हैं।

1. Commander
2. Command
3. Commandment
4. Commemorate
5. Commandant

Ans 1. 2, 5, 3, 4, 1

2. 2, 5, 1, 3, 4

3. 3, 5, 1, 4, 2

4. 2, 5, 1, 4, 3

Question ID : 65497830507

Status : Answered

Chosen Option : 2

Q.3 पाँच व्यक्ति, A, B, C, D और E एक पंक्ति में पश्चिम की ओर मुँह करके बैठे हैं। A और B एक साथ बैठे हैं। C दक्षिणी सिरे पर बैठा है और D उत्तरी सिरे पर बैठा है। E, B और C के बीच में बैठा है। दक्षिण से तीसरे स्थान पर कौन बैठा है?

Ans 1. E

2. B

3. A

4. C

Question ID : 65497830518

Status : Answered

Chosen Option : 2

Q.4 'K % L' का अर्थ है कि 'K, L का भाई है', 'K \$ L' का अर्थ है कि 'K, L का पति है', 'K @ L' का अर्थ है कि 'K, B की बहन है', 'K # L' का अर्थ है कि 'K, L की माँ है'।

व्यंजक 'X @ P % T # M \$ Y # J @ H' में H, M से किस प्रकार संबंधित है?

Ans 1. भाई या बहन

2. पिता

3. चाचा

4. बेटा या बेटी

Question ID : 65497830517

Status : Answered

Chosen Option : 4

Q.5 यदि '+' का अर्थ '÷', '-' का अर्थ '+', '×' का अर्थ '-', और '÷' का अर्थ '×' है, तो दिए गए व्यंजक का मान कितना होगा?

$$85 - 55 \div 75 + 25 \times 50$$

Ans 1. 200

2. 300

3. 250

4. 150

Question ID : 65497830520

Status : Answered

Chosen Option : 1



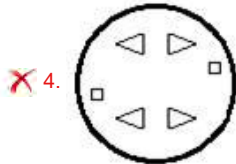
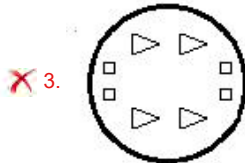
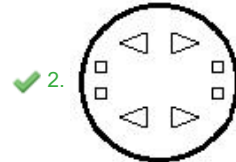
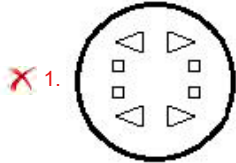
Download SSC CGL, CHSL E-BOOKS

[CLICK HERE](#)

Q.6 निम्नांकित चित्रों में एक कागज को मोड़ने के क्रम और मुड़े हुए कागज को काटने का तरीका दर्शाया गया है। मुड़े हुए कागज को खोलने पर यह कैसा दिखाई देगा?



Ans



Question ID : 65497830502
 Status : Answered
 Chosen Option : 2

Q.7 दिए गए विकल्पों में से वह संख्या चुनें जो निम्नलिखित श्रृंखला में प्रश्नवाचक चिह्न (?) के स्थान पर आ सकती है।

6, 11, 20, 37, 70, ?

Ans ✗ 1. 145

✗ 2. 130

✗ 3. 140

✓ 4. 135

Question ID : 65497830505
 Status : Answered
 Chosen Option : 4

Q.8 तीन संख्याओं A, B और C का योगफल 187 है। B, A की 1.5 गुनी है। C, B की दोगुनी है। तो C का मान कितना है?

- Ans
- 1. 85
 - 2. 100
 - 3. 99
 - 4. 102

Question ID : 65497830501
Status : Answered
Chosen Option : 4

Q.9 यदि 'पूर्व' को 'पश्चिम', 'पश्चिम' को 'उत्तर', 'उत्तर' को 'दक्षिण' और 'दक्षिण' को 'उत्तर' माना जाता है, तो भारत में सूर्योदय किस दिशा में होता है?

- Ans
- 1. उत्तर
 - 2. पूर्व
 - 3. पश्चिम
 - 4. दक्षिण

Question ID : 65497830516
Status : Answered
Chosen Option : 3

Q.10 दिए गए कथनों और निष्कर्षों को ध्यानपूर्वक पढ़ें। कथनों में दी गई जानकारी को सत्य मानते हुए, भले ही वो सामान्य रूप से ज्ञात तथ्यों से भिन्न प्रतीत होती हो, बताइए कि निम्न में से कौन से निष्कर्ष कथनों का तार्किक रूप से अनुसरण करते हैं।

कथन :

1. सभी धागे, पिन हैं।
2. कुछ पिन, कुशन हैं।

निष्कर्ष:

- I. कुछ कुशन, पिन हैं।
- II. कुछ पिन, धागे हैं।

- Ans
- 1. केवल निष्कर्ष II अनुसरण करता है।
 - 2. या तो निष्कर्ष I या निष्कर्ष II अनुसरण करता है।
 - 3. केवल निष्कर्ष I अनुसरण करता है।
 - 4. निष्कर्ष I और II दोनों अनुसरण करते हैं।

Question ID : 65497830499
Status : Answered
Chosen Option : 4

Q.11 एक विशिष्ट कूट भाषा में, 'FIRST' को 'TSRIF' लिखा जाता है। उसी कूट भाषा में 'NOSTALGIC' को क्या लिखा जाएगा?

- Ans
- 1. CIGLATSON
 - 2. ONTSLACIG
 - 3. CGILTASON
 - 4. TSONLACIG

Question ID : 65497830498
Status : Answered
Chosen Option : 1



Download SSC CGL, CHSL E-BOOKS

[CLICK HERE](#)

Q.12 उस विकल्प का चयन करें जो तीसरी संख्या से उसी प्रकार संबंधित है जिस प्रकार दूसरी संख्या पहली संख्या से संबंधित है।

12 : 144 :: 15 : ?

- Ans
- 1. 200
 - 2. 250
 - 3. 225
 - 4. 125

Question ID : 65497830519
Status : Answered
Chosen Option : 3

Q.13 छः दोस्त एक गोल घरे में इसके केंद्र की ओर मुंह करके एक दूसरे से समान दूरी पर बैठे हुए हैं। दिराज, प्रमोद और पार्थिव के बीच में बैठा है। प्रियांशु, मुकुंद और लाया के बीच में बैठा है। प्रमोद और मुकुंद एक-दूसरे के सामने बैठे हुए हैं। लाया, प्रमोद के बाईं ओर बगल में है। पार्थिव के बाईं ओर बगल में कौन बैठा है?

- Ans
- 1. दिराज
 - 2. मुकुंद
 - 3. प्रमोद
 - 4. प्रियांशु

Question ID : 65497830513
Status : Answered
Chosen Option : 1

Q.14 उस अक्षर संयोजन का चयन करें जिसे दी गई श्रृंखला के रिक्त स्थानों में क्रमिक रूप से रखे जाने पर श्रृंखला पूर्ण हो जाएगी।

a _ b _ _ c _ _ bbac _ _ b _ acaab

- Ans
- 1. abaabbab
 - 2. acbbabca
 - 3. bcaabbcc
 - 4. abaaaaab

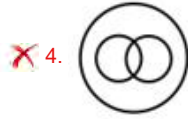

Question ID : 65497830508
Status : Answered
Chosen Option : 1



Q.15 उस वेन आरेख का चयन कीजिए जो निम्न वर्गों के मध्य के संबंध का सर्वश्रेष्ठ निरूपण करता है।

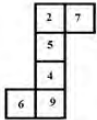
बेल्ट, टोपी, दस्ताना

Ans



Question ID : 65497830514
Status : Answered
Chosen Option : 2

Q.16 दी गई शीट को मोड़कर एक घन बनाया गया है। इस प्रकार बने घन में, उस संख्या का चयन करें, जो संख्या '5' दर्शाने वाले फलक के विपरीत फलक पर होगी।



Ans

1. 9

2. 4

3. 7

4. 6

Question ID : 65497830521
Status : Answered
Chosen Option : 1



Download SSC CGL, CHSL E-BOOKS

[CLICK HERE](#)

Q.17 यदि दर्पण को दाईं ओर रखा गया हो, तो दी गई आकृति के सही दर्पण प्रतिबिंब का चयन करें।



Ans



Question ID : 65497830506

Status : Answered

Chosen Option : 3

Q.18 उस विकल्प का चयन करें जो तीसरे अक्षर-समूह से उसी प्रकार संबंधित है, जिस प्रकार दूसरा अक्षर-समूह पहले अक्षर-समूह से संबंधित है।

CHER : EJGT :: DREN : ?

Ans ✗ 1. FTGO

✗ 2. ESGP

✓ 3. FTGP

✗ 4. FSGP

Question ID : 65497830515

Status : Answered

Chosen Option : 3



Download SSC CGL, CHSL E-BOOKS

[CLICK HERE](#)

Q.19 'ऑप्टेलमोलॉजिस्ट' का जो संबंध 'आँख' से है, 'ओकोलॉजिस्ट' का वही संबंध ' _____ ' से है।

- Ans 1. कैसर
 2. अस्थियों
 3. त्वचा
 4. पैर

Question ID : 65497830512
Status : Answered
Chosen Option : 1

Q.20 किसी निश्चित कूट भाषा में, 'FEAST' को '9842223' के रूप में कूटबद्ध किया जाता है। उसी कूट भाषा में 'CLOSE' को किस रूप में कूटबद्ध किया जाएगा?

- Ans 1. 71618208
 2. 61518228
 3. 71618228
 4. 61518208

Question ID : 65497830504
Status : Answered
Chosen Option : 2

Q.21 विकल्पों में से उस संख्या का चयन कीजिए जो दी गई श्रृंखला में प्रश्न चिह्न (?) के स्थान पर आ सकती है।

23, 36, 51, 68, ?

- Ans 1. 87
 2. 92
 3. 73
 4. 78

Question ID : 65497830509
Status : Answered
Chosen Option : 1

Q.22 उस अक्षर-समूह का चयन कीजिए जो निम्नांकित श्रेणी में प्रश्नवाचक चिह्न (?) के स्थान पर आ सकता है।

DMGU, AJDO, XGAI, ?, RAUA

- Ans 1. VDYE
 2. VEYE
 3. UDXE
 4. UEXE

Question ID : 65497830511
Status : Answered
Chosen Option : 4



Download SSC CGL, CHSL E-BOOKS

[CLICK HERE](#)

Q.23 उस विकल्प का चयन करें, जिसकी संख्याएँ आपस में उसी प्रकार संबंधित हैं, जिस प्रकार दिए गए समुच्चय की संख्याएँ आपस में संबंधित हैं।

(7, 18, 75)

- Ans 1. (24, 15, 90)
 2. (3, 16, 61)
 3. (5, 13, 67)
 4. (11, 17, 84)

Question ID : 65497830500
Status : Not Answered
Chosen Option : --

Q.24 चार अक्षर-समूह दिए गए हैं, जिनमें से तीन किसी तरह से एक समान हैं और एक भिन्न है। उस अक्षर-समूह का चयन करें जो भिन्न है।

- Ans 1. GPL
 2. OXS
 3. LUP
 4. IRM

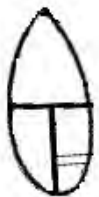
Question ID : 65497830503
Status : Answered
Chosen Option : 1



Download SSC CGL, CHSL E-BOOKS

[CLICK HERE](#)

Q.25 उस विकल्प का चयन करें जिसमें दी गई आकृति अंतर्निहित है।



Ans

✓ 1.



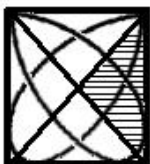
✗ 2.



✗ 3.



✗ 4.



Question ID : 65497830522
Status : Answered
Chosen Option : 1

Section : Part B General Knowledge and General Awareness

Q.1 'माय कंट्री माय लाइफ (My Country My Life)' पुस्तक के लेखक निम्नलिखित में से कौन हैं?

Ans

✗ 1. अन्ना हजारे

✓ 2. एलके आडवाणी

✗ 3. प्रणब मुखर्जी

✗ 4. सोमनाथ चटर्जी

Question ID : 65497830529
Status : Answered
Chosen Option : 3



Download SSC CGL, CHSL E-BOOKS

CLICK HERE